

**Муниципальный этап
Всероссийской олимпиады школьников по истории
2024 / 2025 учебного года**

Комплект заданий для учеников 8 класса

Номер задания	Максимальное количество баллов
1	3
2	6
3	6
4	6
5	4
6	8
7	10
8	10
9	12
Общий балл	65

Уважаемый участник Олимпиады!

Перед Вами задания по истории. Они соотнесены с содержанием школьной программы по истории.

Вам предлагается 9 заданий, максимальный балл за выполнение которых составляет 65. Первичный балл, полученный за выполнение всех заданий, переводится в тестовый по формуле $Y = X/65 * 100$, где Y – тестовый балл, а X – первичный балл. Максимальный тестовый балл составляет 100.

Обратите внимание: за выполнение каждого задания Вы получите различное количество баллов, поскольку степень сложности заданий также различна.

Есть задания, которые требуют напряжения памяти и точных конкретных ответов на вопросы. Есть задания творческого характера, для выполнения которых требуется умение логически мыслить, делать выводы, строить умозаключения.

Если Вам кажется, что задания относятся к теме, не очень хорошо Вам знакомой, не теряйте самообладание. Достаточно проявить внимание и сообразительность, которые помогут успешно справиться с заданием.

После выполнения всех предложенных заданий еще раз удостоверьтесь в правильности выбранных ответов и решений.

Закончив выполнение заданий, внимательно перенесите ответы в бланк ответов! Проверяется только бланк ответов, текст заданий и черновики не проверяются!

Если требуется корректировка ответа, то неправильный ответ нужно зачеркнуть, а рядом вписать новый правильный ответ.

Пишите разборчиво и правильно.

Желаем успеха!

Максимальная оценка – 100 баллов.

Время на выполнение заданий – 120 минут.

Задание 1. Определите, о каких русских городах идет речь. Выберите один правильный ответ в каждом вопросе и запишите ответы в таблицу (1 балл за каждый правильный ответ, максимальный балл – 3). Рекомендуемое время выполнения задания – 5 минут.

1.1. «Город напоминал Киев: та же княжеская «гора» господствовала над низменным «подолом» восточной части, а к западу, подобно киевскому Печерску, в зелени деревьев сверкали белые стены и золотые главы храмов княжеского двора. Торжественные белокаменные Золотые ворота, подобно триумфальной арке, открывались на здания княжеского двора. Они же были и твердыней городской обороны».

- 1) Суздаль
- 2) Ростов
- 3) Москва
- 4) Новгород
- 5) Владимир

1.2. «В глубокой дали XII века это был маленький и незаметный пограничный городок Владимирского княжества, выросший на месте владений боярина Кучки. Первое упоминание о городе в летописи относится к 1147 году. Только в XIII веке владельцы города – сын и внук Александра Невского Даниил и Юрий смогли начать расширение своей земли».


- 1) Изборск
- 2) Москва
- 3) Муром
- 4) Тмутаракань
- 5) Ярославль

1.3. «К началу XII века город уже раскинулся по обеим сторонам Волхова. К детинцу примыкали Неревский, Загородский и Гончарский концы, к Торгу с его дворами иноземных купцов и Ярославову дворищу сходились Славенский и Плотницкий концы Торговой стороны. Два огромных полукольца крепостных деревянно-земляных стен охватывали обе половины города».


- 1) Старая Ладога
- 2) Псков
- 3) Смоленск
- 4) Новгород
- 5) Кострома

Задание 2. Выберите из списка все верные ответы и запишите через запятую соответствующие цифры в бланк ответов (2 балла за каждый правильный ответ, максимальный балл – 6). Рекомендуемое время выполнения задания – 8 минут.

Ниже представлены памятники русской архитектуры. Выберите из списка все верные суждения об этих памятниках.



1)



2)



3)

- 1) Все три памятника архитектуры были построены в XV веке.
- 2) Все три памятника архитектуры были построены при Василии III.
- 3) Памятник № 3 является одним из древнейших образцов гражданского зодчества в России.
- 4) Памятник № 1 был построен по образцу храма святой Софии в Киеве.
- 5) Все три памятника архитектуры расположены на территории Московского Кремля.
- 6) Памятник № 2 был построен итальянскими архитекторами.

Задание 3. Рассмотрите иллюстрации, прочитайте тексты и ответьте на вопросы (максимальный балл – 6). Рекомендуемое время выполнения задания – 12 минут.



1)



2)

3) «Самыми дефицитными в городе были фрукты и овощи. Свежих фруктов почти никто не видел, выдача по одному мандарину в новогоднем подарке для детей в январе 1942 г. запомнилась надолго.

И овощи были доступны не всем. Картофель оставался недоступным и после окончания «смертного времени». Лук во время первой зимы вообще ценился на вес золота. Он не только спасал от авитаминоза, но и являлся средством, способным смягчить крайне неприятный привкус пищевых суррогатов.

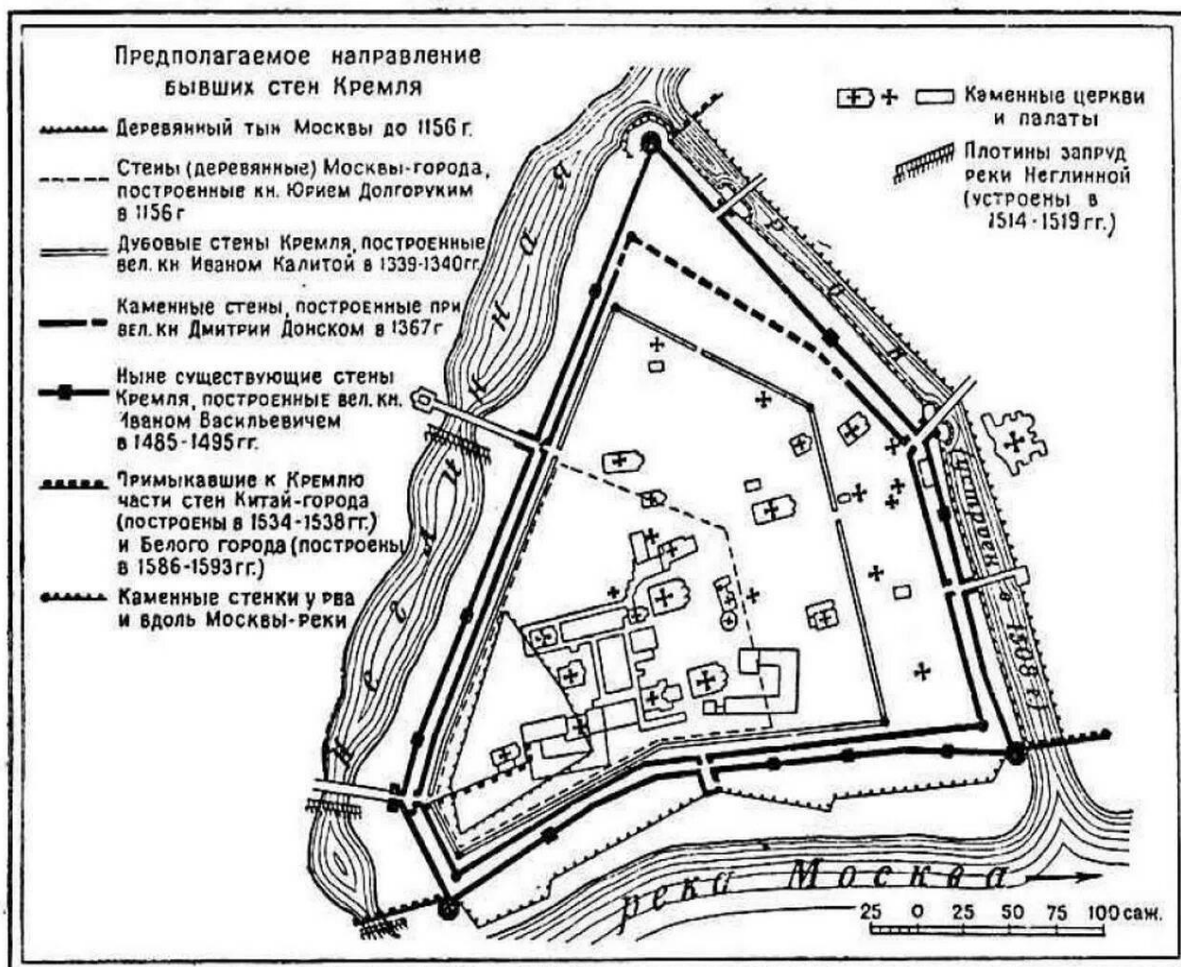
Едва сошел снег и зазеленела трава, опухшие, обезображенные цингой горожане начали всюду, буквально под ногами, искать витамины. Собирали корни подорожника, ромашку, лопух, не брезговали и водорослями».

- 4) «Многие колодцы на улицах возникали внезапно, в местах бомбежек водопроводов и там, где лопались от мороза трубы. Как правило, около них собирались очереди. Набирать здесь воду было трудно: расплескиваясь из ведер и бидонов, она образовывала целые ледяные горы, на которые изможденные горожане могли взобраться с немалыми усилиями. Набирая воду, часто стояли на коленях во льду, иначе ее было не достать. Бывали случаи, когда в эти колодцы, не умея удержаться на их скользких склонах, падали люди».

3.1. Какое событие изображено на фотографиях и описано в текстах? (2 балла)

3.2. Опираясь на фотографии, тексты и имеющиеся знания, приведите 2 обоснования указанного Вами события. (Ответ должен быть сформулирован развернуто, с опорой на фотографии и тексты). (4 балла)

Задание 4. Рассмотрите схему, иллюстрирующую постепенный рост территории Московского Кремля в средние века. Выберите из списка все суждения, которые подтверждаются данной схемой (2 балла за каждый верно выбранный ответ, максимальный балл – 6). Рекомендуемое время выполнения задания – 10 минут.



Московский Кремль с XII по XVI век.

- 1) до середины XIV в. стены и башни Кремля были деревянными
- 2) в XIX в. большая часть р. Неглинной была заключена в подземную трубу
- 3) ров, устроенный в начале XVI в., соединял р. Неглинную с р. Москвой
- 4) на территории дубового Кремля Ивана Калиты располагалось не менее трёх храмов
- 5) территория современного Кремля превышает территорию Кремля при Юрии Долгоруком более чем в 20 раз
- 6) средневековая Москва располагалась на семи холмах

Задание 5. Расположите исторические события в хронологической последовательности их возникновения, начиная с самого раннего (4 балла только за полную правильную последовательность, максимальный балл – 4). Рекомендуемое время выполнения задания – 5 минут.

- 1) Ям-Запольский мир
- 2) Деулинское перемирие
- 3) Медный бунт
- 4) взятие Астрахани войсками Ивана IV Грозного
- 5) Смоленская война

Задание 6. Установите соответствие между историческими событиями / явлениями, о которых говорится в отрывках из исторических источников, и именами русских царей / императоров, в период правления которых происходили эти события / явления. Поместите букву, которой обозначен отрывок, в соответствующую колонку таблицы, учитывая, что в одной колонке может быть от одной до трёх букв, а один из отрывков является лишним (1 балл за каждое верное соотнесение, максимальный балл – 8). Рекомендуемое время выполнения задания – 10 минут. Перенесите свой ответ в бланк ответа.

<p>А) «Он уничтожил достоинство бояр: ему надобны были министры, канцлеры, президенты! Вместо древней славной Думы явился Сенат, вместо приказов – коллегии, вместо дьяков – секретари».</p>	<p>Б) «Назывались же тогда эти его советники избранной радой. Действительно, по делам и название им было, потому что все избранное и лучшее осуществляли они своими советами, то есть справедливый суд богатому и бедному, невзирая на лица, что служит к украшению царства, кроме того, умелых и храбрых людей они назначают воеводами против врага и ставят на</p>	<p>В) «И диаволим научением мыслил той боярин учинитись царем, и чрез какой бы обычай; и съ единомышленными своими умыслил послати некоторых людей во град Угличь, обещая им великую честь и богатство, чтоб они царского брата царевича Димитриа убили».</p>
---	---	--

	стратегические должности над конницей и пехотой».	
<p>Г) «Народ был взбешен против бояр и по окончании процессии толпою явился на царский двор. Тут стрельцы или телохранители, состоявшие из тысячи человек, жалованье которым было убавлено в такой степени, что они не имели возможности содержать себя этим, приняли сторону народа, и затем, после обеда, и народ, и стрельцы ворвались в дом Бориса Ивановича Морозова, главного после его царского величества правителя всей России».</p>	<p>Д) «Он имел великодушие, проныцание, волю непоколебимую, деятельность, неутомимость редкую: исправил, умножил войско, одержал блестящую победу над врагом искусным и мужественным; завоевал Ливонию, сотворил флот, основал гавани, издал многие законы мудрые, привёл в лучшее состояние торговлю, рудокопни, завел мануфактуры, училища, академию, наконец, поставил Россию на знаменитую степерь в политической системе Европы».</p>	<p>Е) «А о гетмане о Богдане Хмельницком и о всем войске Запорожском бояре и думные люди приговорили, чтоб Великий Государь-Царь и Великий князь всея Руси изволил того гетмана Богдана Хмельницкого и всё войско Запорожское с городами их и с землями принять под свою государскую высокую руку».</p>
<p>Ж) «По смерти же того царя учинился царем, племени царского по роду Романовых, царь и великий князь, всея Руси самодержец. Отец же его Феодор, во иноческом чину Филарет, при его царстве бысть в Московском государстве патриархом».</p>	<p>З) «Мятежники толпою вышли из Серпуховских ворот. Их было около 4 или 5 тысяч, без оружия, лишь у некоторых имелись дубины и палки. Они притязали на возмещение убытков за медные деньги. С сею целью в разных местах города были расклеены листы, а один стряпчий перед Земским двором читал лист, содержащий их жалобы, имена некоторых особ, коих они мнили виновными в злоупотреблениях, и призыв ко всем идти к царю и добиваться возмещения, а также голов дурных советников».</p>	<p>И) «Взял же стольный и великий город Казань благоверный царь в год 7061 октября во второй день на память святых великомученков Киприана и Устины, в воскресный день, в три часа дня, много потрудивших для своей богохранимой державы, для Русской земли».</p>

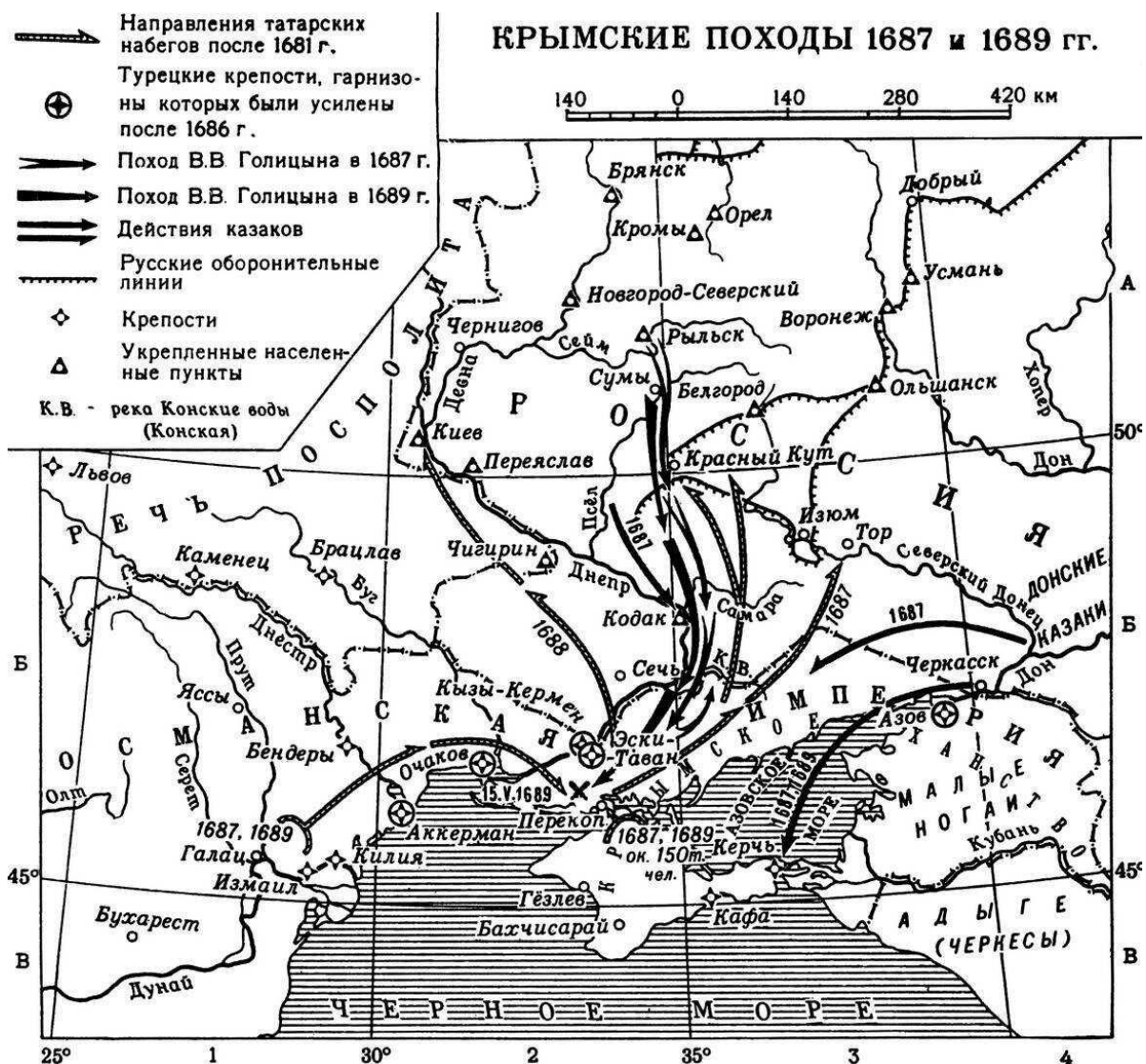
1. Правление Ивана IV Грозного	2. Правление Михаила Федоровича	3. Правление Алексея Михайловича	4. Правление Петра I

Задание 7. Рассмотрите и проанализируйте историческую карту и выполните задания (2 балла за полный правильный ответ на вопрос 1, по 4 балла за полные правильные ответы на вопросы 2 и 3, максимальный балл – 10). Рекомендованное время выполнения задания – 15 минут.

7.1. Назовите государство (образовавшееся в результате распада Золотой Орды), против которого были направлены Крымские походы В.В. Голицына. Назовите государство, которое в период Крымских походов владело крепостями Азов и Очаков.

7.2. Назовите четыре города, которые в XVII в. были укрепленными пунктами для защиты от татарских набегов, а сейчас являются административными центрами областей Российской Федерации.

7.3. Объясните с опорой на исторические знания, почему Крымские походы В.В. Голицына не увенчались успехом. Укажите не менее двух причин.



Задание 8. Прочитайте и проанализируйте текст исторического источника и ответьте на вопросы (2 балла за полный правильный ответ на вопрос 1, по 4 балла за полные правильные ответы на вопросы 2 и 3, максимальный балл – 10). Рекомендуемое время выполнения задания – 20 минут.

«О, светло светлая и прекрасно украшенная земля Русская! Многими красотами прославлена ты: озерами многими славишься, реками и источниками местночтимыми, горами, крутыми холмами, высокими дубравами, чистыми полями, дивными зверями, разнообразными птицами, бесчисленными городами великими, селениями славными, садами монастырскими, храмами Божьими и князьями грозными, боярами честными, вельможами многими. Всем ты преисполнена, земля Русская, о правоверная вера христианская!

<Все> повиновались великому князю Всеволоду, отцу его Юрию, князю киевскому, деду его Владимиру Мономаху, которым половцы своих малых детей в колыбели пугали. А литовцы из болот своих на свет не показывались, а угры укрепляли каменные стены своих городов железными воротами, чтобы их великий Владимир не покорил, а немцы радовались, что они далеко – за Синим морем. ... А император царьградский Мануил от страха великие дары посылал к нему, чтобы великий князь Владимир Царьград у него не взял. И ... до нынешнего Ярослава, и до брата его Юрия, князя владимирского, – обрушилась беда на христиан...».

8.1. Определите, в каком веке было написано данное литературное произведение. О какой беде, обрушившейся на христиан, идёт речь в тексте?

8.2. Как сейчас называется упомянутый в тексте народ угры? Каким государством правил император Мануил? Как он называл столицу своего государства? Какой город во время создания данного литературного произведения был главным городом Северо-Восточной Руси?

8.3. На основании текста и исторических знаний определите, под какими прозвищами вошли в историю названные в тексте великий князь Всеволод и отец его Юрий, какие отчества имели «нынешний Ярослав» и Юрий, князь владимирский.

Задание 9. Изучите представленные материалы и ответьте на вопросы по истории родного края (по 3 балла за полный правильный ответ на каждый вопрос, максимальный балл – 12). Рекомендуемое время выполнения задания – 35 минут.

«Первой сухопутной дорогой в Сибирь стала Бабиновская. Проложенная Артемием Бабиновым дорога заметно сократила и облегчила прежний путь за Урал. До этого пользовались Вишеро-Лозьвинским водным путем с сухопутным волоком через Уральские горы. Осенью 1597 года дорогу провели до реки Туры, к уже заброшенному в то время мансийскому городищу Нером-Кар... На реке Туре вырос новый город – Верхотурье.

Здесь построили деревянную крепость, которая стала воротами в Сибирь. Открылась государственная таможня, обосновался воинский контингент. Следовать в Сибирь и обратно по другим дорогам, минуя Верхотурье, запретили. Новый город стал богатеть и развиваться.

По Бабиновской дороге через Верхотурье прошло много известных людей. По пути в ссылку город посещали протопоп Аввакум, сподвижник Петра I князь Александр Меншиков, фаворит императрицы Анны Иоанновны Бирон и другие... В разные годы верхотурскими воеводами были родственники царя Бориса Годунова, дед будущей царицы Марии Милославской, сводный брат Дмитрия Пожарского, отец первой жены Петра I.

Время от времени город страдал от пожаров, сильнее из которых случились в 1674 и 1738 годах, поэтому начали внедрять каменное строительство. В 1699 году, по указу Петра I, на Троицком камне началось строительство каменного Верхотурского кремля. Строились и многочисленные каменные церкви.

После основания Екатеринбурга значение Верхотурья стало снижаться. В 1753 году в России закрыли внутренние таможни, а в 1763 году вместо Бабиновской дороги открыли Московско-Сибирский тракт, прошедший через Екатеринбург. Развитие Верхотурья значительно замедлилось.

Из административного и торгового центра Верхотурье превратилось в центр православный. Еще в начале XVII века здесь появился Свято-Николаевский монастырь. В начале XVIII века в нем разместили мощи главного уральского святого – Симеона Верхотурского, перенесенные из деревни Меркушино... Во второй половине XIX века почитание Симеона распространилось за пределы Урала. В Верхотурье прибывало всё больше паломников. В первой половине 1910-х годов их поток достигал 90-120 тысяч человек в год» (П. Распов).



Верхотурский кремль


«Праведный Симеон Верхотурский родился в начале XVII века в европейской части России в семье благочестивых дворян. Повинуясь Божественному водительству, он оставил почести и земное богатство и удалился за Урал. В Сибири

праведный Симеон жил как простой странник, скрывая свое происхождение. Чаще всего он посещал село Меркушинское, находившееся недалеко от города Верхотурья, где молился в деревянной церкви.

С благовестием о Троицином Боге, о вечной жизни в Царстве Небесном праведный Симеон ходил по окрестным селениям. Он не чуждался и иноверцев вогулов, коренных жителей этого края, которые полюбили святого за его чистое житие. С помощью благодати Божией праведный Симеон пробудил в сердцах вогулов стремление к добродетельной жизни...

Подвижник никогда не оставался праздным. Он хорошо умел шить шубы и, обходя села, работал в домах у крестьян, не принимая за труды никакого вознаграждения...

Много молился святой Симеон об укреплении в вере новопросвещенных жителей Сибири. Свою молитву подвижник соединял с подвигом коленопреклонного стояния на камне в дремучей тайге. В десяти верстах от Меркушина на берегу реки Туры подвижник имел уединенное место, где ловил рыбу. Но и здесь он проявлял воздержание: рыбы он добывал ровно столько, сколько требовалось ему для дневного пропитания... Блаженная кончина святого мужа последовала среди великих подвигов поста и молитвы. Скончался он в 1642 году» (из жития Симеона Верхотурского).



Святой праведный Симеон Верхотурский

9.1. В период правления какого русского царя был основан город Верхотурье? Назовите любые два, кроме Верхотурья, старейших города Свердловской области, основанных до 1650 года.

9.2. Почему в XVIII – XIX вв. город Верхотурье потерял своё административное и военное значение? Назовите три причины.

9.3. Симеон Верхотурский в XVII в. просвещал «иноверцев вогулов». Как сейчас называется этот коренной народ Урала и Западной Сибири? Какую веру исповедовали коренные народы Урала до принятия православия? Кто из деятелей Русской православной церкви почитается как просветитель коренного уральского народа коми?

9.4. Как называется монастырь, изображённый на иконе? Почему в начале XX в. этот монастырь стал одним из самых известных и богатых на Урале? Мог ли Симеон Верхотурский во время своих странствий по окрестностям видеть каменные стены Верхотурского кремля? Аргументируйте свой ответ.