

**Муниципальный этап
Всероссийской олимпиады школьников по истории
2024 / 2025 учебного года**

Комплект заданий для учеников 7 класса

Номер задания	Максимальное количество баллов
1	3
2	6
3	6
4	6
5	4
6	8
7	10
8	10
9	12
Общий балл	65

Уважаемый участник Олимпиады!

Перед Вами задания по истории. Они соотнесены с содержанием школьного курса истории, а также требуют широкого кругозора, навыка поиска информации и умения мыслить.

Вам предлагается 9 заданий, максимальный первичный балл за выполнение которых составляет 65. Первичный балл, полученный за выполнение всех заданий, переводится в тестовый по формуле $Y = X/65 * 100$, где Y – тестовый балл, а X – первичный балл. Максимальный тестовый балл составляет 100.

Обратите внимание: за выполнение каждого задания Вы получите различное количество баллов, поскольку степень сложности заданий также различна.

Если Вам кажется, что задания относятся к теме, не очень хорошо Вам знакомой, не теряйте самообладание. Достаточно проявить внимание и сообразительность, которые помогут успешно справиться с заданием.

После выполнения всех предложенных заданий еще раз удостоверьтесь в правильности выбранных ответов и решений.

Закончив выполнение заданий, внимательно перенесите ответы в бланк ответов! Проверяется только бланк ответов, текст заданий и черновики не проверяются!

Если требуется корректировка ответа, то неправильный ответ нужно зачеркнуть, а рядом вписать новый правильный ответ.

Пишите разборчиво и правильно.

Желаем успеха!

**Максимальная оценка – 65 первичных баллов
Время на выполнение заданий – 120 минут**

Задание 1. Выберите один верный ответ из предложенных вариантов. (1 балл за каждый правильный ответ, максимальный балл - 3). Время выполнения задания - 5 минут.

А) какой из перечисленных городов находился на землях ильменских словен:

1. Смоленск
2. Полоцк
3. Искоростень
4. Новгород
5. Муром


Б) какой из городов связан с легендой о крещении князя Владимира:

1. Саркел
2. Корсунь
3. Чернигов
4. Константинополь
5. Киев


В) какой из городов был основан Ярославом Мудрым, затем получил название Дертт, а сейчас носит название Тарту:

1. Ярославль
2. Юрьев
3. Москва
4. Владимир-на-Клязьме
5. Минск

Задание 2. Рассмотрите иллюстрации. Выберите верные утверждения из шести предложенных. Запишите через запятую соответствующие цифры в бланк ответа (2 балла за каждый правильный ответ, максимальный балл – 6). Время выполнения задания – 8 минут.



1.



2.



3.

1. Все три храма имеют названия в честь Премудрости Божией.
2. Все три храма были построены в XI веке.
3. Все три храма были построены на территории Киевского княжества.
4. Храм под номером 2 подвергся позднейшей перестройке в романском стиле.
5. Храм под номером 1 подвергся позднейшей перестройке в поздне-готическом стиле.
6. В храме под номером 3 установлены бронзовые рельефные ворота, которые предположительно были захвачены новгородцами во время похода в Швецию.

Задание 3. Рассмотрите предложенные иллюстрации, прочитайте тексты. Выполните задания. Ответы впишите в бланк ответа (1 балл за правильный ответ на первый вопрос, 2 балла за правильный ответ на второй вопрос, 3 балла за верный ответ на третий вопрос, максимальный балл – 6). Время выполнения задания – 12 минут.

1. Мемориал «Цветок жизни». Одна из стел на Аллее Дружбы




2. Мемориал «Цветок жизни» Роща 900 берез



3. Мемориал «Цветок жизни». Траурный курган



4. Мемориал «Цветок жизни» в Зелёном поясе славы. Центральный монумент



23 февраля 1965г. в газете «Смена» была опубликована статья поэта-фронтовика, участника обороны Ленинграда, М.Н. Дудина, который от имени ветеранов войны писал: «Пусть на месте кольца блокады вырастет вокруг Ленинграда зеленое кольцо мира, пусть оно обозначит на вечные времена своим зеленым шумом рубеж нашего мужества... Пусть каждый ленинградец, молодой и старый, долгом и честью сочтет посадить на смертном рубеже дерево вечной жизни и памяти – это наш долг».

Онлайн-журнал Управления Росреестра по Ленинградской области К 75-летию Победы в Великой Отечественной войне 1941-1945 г.г., 10 апреля 2020 г.

Выпуск № 1 «Экскурсия по Зелёному поясу славы. История создания мемориального комплекса».

Бейся, сердце!

Стучи, несмотря на усталость,

Слышишь:

Город клянется, что враг не пройдет!

...Сотый день догорал.

Как потом оказалось,

Впереди

Оставалось еще восемьсот...

Отрывок из стихотворения «Сотый день» Юрия Воронова, поэта-ленинградца, пережившего блокаду

3.1. Назовите имя девочки, чьи страницы из дневника стали одним из обвинительных документов на Нюрнбергском процессе, где проходил суд над фашистскими преступниками.

3.2. Сколько дней длилась блокада Ленинграда?

3.3. Сколько лет со Дня Победы в Великой Отечественной войне исполнилось, когда было начато строительство Зелёного пояса славы вокруг Ленинграда? Кому посвящен мемориал «Цветок жизни»? Почему на берёзы в роще мемориала повязывают пионерские галстуки?

Задание 4. Ознакомьтесь с данными, представленными в таблице и справке. Выберите верные суждения из списка предложенных. Запишите их номера в бланк ответа. (2 балла за каждое правильно выполненное задание, максимальный балл – 6). Время выполнения задания – 10 минут.

Клад из 203 дирхемов, найденный в Новгороде	число монет	отношение в %
VIII век		
- первая половина	15	7,39
- третья четверть	28	13,79
- четвертая четверть	43	21,18
IX век		
- первая четверть	69	33,99
- вторая четверть	21	10,35
- третья четверть – до 864 г.	27	13,30

Справка. Дирхем (дирхам) - арабская серебряная монета, введённая в обращение в конце VII века. Название представляет собой арабизированное греческое слово «драхма». Согласно мусульманской религии, на монетах нет изображений. Надписи на монетах содержали изречения из Корана, год (по мусульманскому летосчислению) и место выпуска монеты, позже - имена правителей.

1. Интенсивность торговых обменов с восточными купцами равномерно увеличивалась на протяжении VIII – IX вв.
2. Интенсивность торговых обменов с восточными купцами равномерно убывала на протяжении VIII – IX вв.
3. Наибольшая интенсивность торговых обменов с восточными купцами приходится на начало IX в.
4. Серебряные дирхемы появились раньше деятельности Пророка Мохаммеда.
5. Клад был зарыт через два года после события, имевшего большое значение для Новгорода и всей истории Древней Руси.
6. Количество монет, собранных во второй половине VIII в. меньше количества монет, собранных в первой половине IX в.

Задание 5. Восстановите хронологическую последовательность. Ответ запишите в виде последовательности цифр. Засчитывается только полностью правильная цепочка из цифр. (Максимальный балл за выполнение задания – 4 балла). Время выполнения задания – 5 минут.

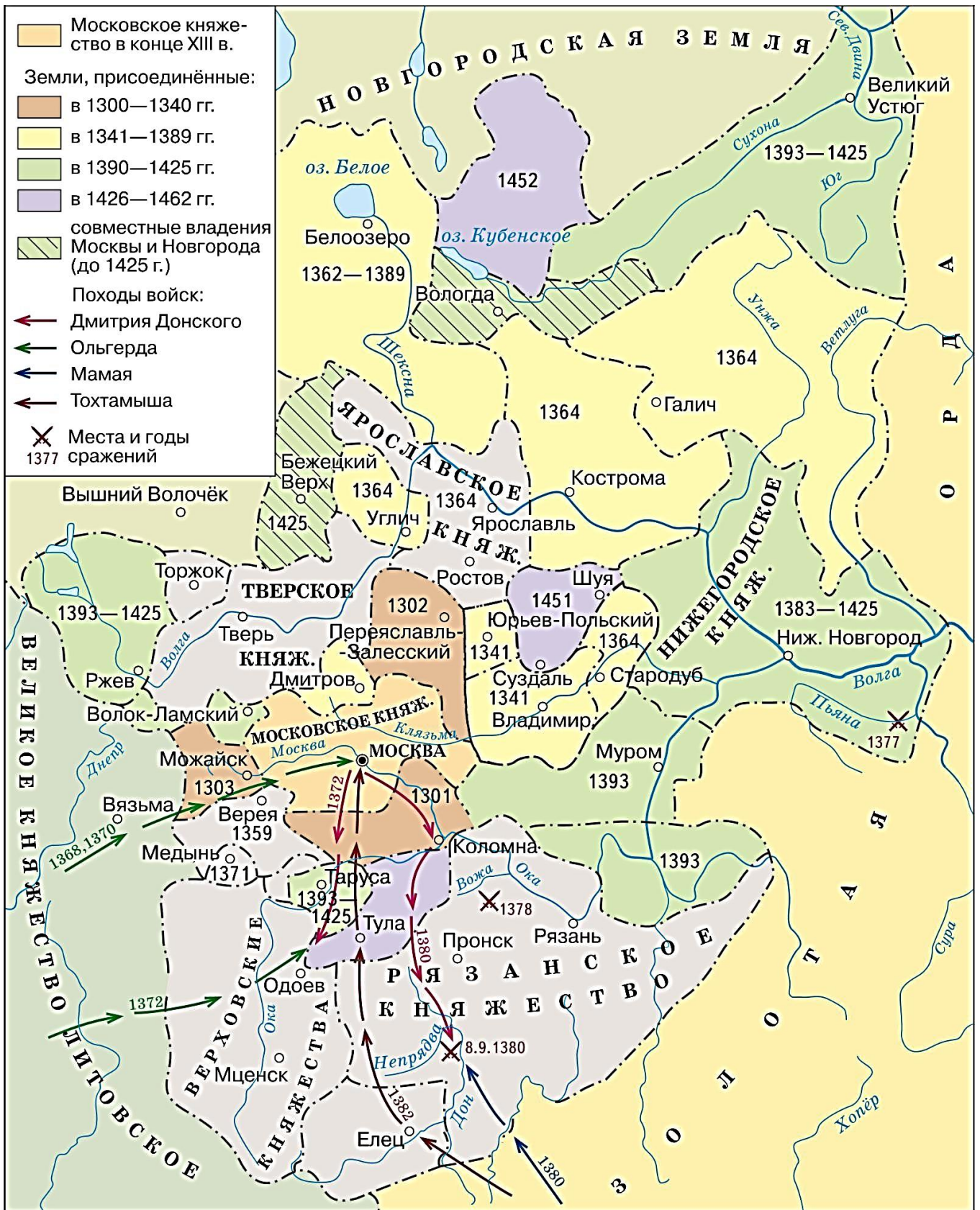
Установите хронологическую последовательность присоединения княжеств к Москве:

- 1) Владимир
- 2) Муром
- 3) Нижний Новгород
- 4) Тверь
- 5) Переяславль-Залесский

Задание 6. Соотнесите даты в левом столбце с описаниями событий отечественной и мировой истории в правом столбце. Ответы внесите в бланк ответов (2 балла за каждое правильное соотнесение, максимальный балл – 8). Время выполнения задания – 10 минут.

Даты	События истории России и всемирной истории
А. 1492-1493	1. изобретение книгопечатания И. Гутенбергом
Б. первая четверть XV в.	2. взятие Константинополя крестоносцами
В. 1204	3. Андрей Рублев завершает работу над иконой Троица
Г. 1194-1197	4. в селе Коломенском строится храм Вознесения Господня
	5. в Москве строится современный Кремль из красного кирпича
	6. строительство белокаменного Кремля в Москве
	7. строительство Дмитриевского Собора во Владимире
	8. первая экспедиция Христофора Колумба
	9. путешествие Марко Поло в Индию и Китай

Задание 7. Ознакомьтесь с картой и выполните предложенные задания. Ответы впишите в бланк ответа (2 балла за правильно выполненное первое задание, 4 балла за правильно выполненное второе задание, 4 балла за правильно выполненное третье задание, максимальный балл – 10). Время выполнения задания – 15 минут.



7.1. На карте отражена часть процесса присоединения земель к Московскому княжеству. **Запишите временные границы этого периода, согласно карте.**

7.2. Найдите на карте княжества, еще не присоединенные к Москве. **Запишите названия княжеств, которые будут присоединены к Московскому до 1521 года (не менее двух названий).**

7.3. Какое государство, из указанных на карте, подвергнется распаду в XV веке на Сибирское, Казанское, Астраханское и Крымское ханства? **Запишите его название.** Какие отношения связывают русские княжества с указанным государством в период, изображенный на карте? **Найдите на карте дату военного противостояния русских войск, под предводительством московского князя и войск указанного государства. Запишите дату сражения и его название.**

Задание 8. Прочитайте и проанализируйте тексты и ответьте на вопросы (2 балла за правильный ответ на первый вопрос, 4 балла за правильный ответ на второй вопрос, 4 балла за правильный ответ на третий вопрос, максимальный балл – 10). Время выполнения задания – 25 минут.

Текст 1. Запись диакона Григория, писца, на последней странице Остромирова Евангелия (по статье протоиерея Бориса Пивоварова «Остромирово Евангелие»)

«Слава Тебе, Господи Царь Небесный, за то, что удостоил меня написать это Евангелие. Начал же я его писать в году 6564-м, а окончил в 6565-м. Написал же я Евангелие для раба Божия, названного в крещении Иосиф, а по мирскому Остромир, который был свойственником князя Изяслава. Князь же Изяслав тогда владел обеими областями — отца своего Ярослава и брата своего Владимира. Сам князь Изяслав управлял престолом отца своего Ярослава в Киеве, а престол своего брата он поручил управлять своему свойственнику Остромиру в Новгороде».

Источниковедение в школе, 2007, №2 (5) - С. 8

Текст 2. Из статьи Л.Г. Панина «Остромирову Евангелию – 950 лет»

То десятилетие, в которое создавалось Остромирово Евангелие, было насыщено важнейшими для нашего прошлого культурными, политическими, духовными событиями.

Так, в 1051–1061 гг.:

- был основан Киево-Печерский монастырь...;
- в Новгороде завершилось строительство Софийского собора (вкладом в этот собор позже и стало Остромирово Евангелие);
- в Вышгороде строится церковь Свв. Романа и Давида для погребения мощей святых Бориса и Глеба;

– митрополитом Киевским впервые избирается русич — Иларион, он создает замечательный памятник русской духовной и философской мысли — «Слово о Законе и Благодати» ...;

– состоялись два важных брака детей <князя Киевского>: в 1052 г. его сын Всеволод женится на дочери византийского императора Константина IX Мономаха, а годом ранее состоялся брак Генриха I Французского с <дочерью князя> Анной, привезшей во Францию славянское кириллическое Евангелие, которое долгие последующие века хранилось в г. Реймсе и получило название Реймского Евангелия и на котором присягали французские короли во время своей коронации.

Источниковедение в школе, 2007, №2 (5) - С. 15

8.1. В каком году диакон Григорий завершил написание Евангелия для Остромира, если по старому стилю начало нашей эры приходилось на 5508 год от Сотворения мира?

8.2. Как звали великого князя киевского, престол которого унаследовал Изяслав, оставивший Остромира управлять в Новгороде? Какой памятник древнерусского права, по преданию, связан с периодом его княжения в Новгороде?

8.3. Кто такие святые Борис и Глеб? Кем они приходились князю Изяславу? Как вы думаете, почему храм в Вышгороде, построенный для сохранения и почитания мощей святых Бориса и Глеба, носил посвящение Роману и Давиду? Обоснуйте свой ответ.

Задание 9. Изучите представленные материалы и ответьте на вопросы по истории родного края (4 балла за правильный ответ на каждый вопрос, максимальный балл – 12). Время выполнения задания – 25 минут.

Рис. 1. Памятные плиты в честь первых строителей города Екатеринбург на Плотинке

Надпись на одной из плит: *Но трудом великим, живинкой в деле уральских умельцев, талантом и сметливостью крестьян и солдат, рабочих людей и мастеровых Никифора Клеопина, Константина Гордеева, Тимофея Бурцева, Леонтия Злобина, Ивана Королевича и многих других известных и безвестных мастеров в короткий срок было создано рукотворное техническое чудо, разбудившее окрестные леса и горы шумом водяных колес, ударами молотов, отблесками плавок металла в доменных печах.*



Текст 1. Корепанова С. А. Свод петровских памятников России и Европы.

Уктусский казённый завод был первым промышленным предприятием в черте современного Екатеринбурга. Строительство завода началось 4 декабря 1702 года. Место для плотины было выбрано на речке Уктус (современное название - Патрушиха), в нескольких сотнях метров от впадения её в Исеть. Строить плотину начал мастер Ермолай Яковлевич Неклюдов.

... В 1713 году была проведена первая плавка меди. ... Однако местные рудники быстро оскудели, работа на заводе часто прекращалась из-за волнений приписных крестьян или башкирских набегов. Но основной причиной остановок производства была маловодность реки Уктус.

Текст 2. По книге «Индустриальное наследие Урала (в фотографиях) Авторы: Корепанов Н.С., Алексеев В.В., Рукосуев Е.Ю., Устьянцев С.В.


Работа вододействующего оборудования заводов зависела от уровня воды. ...Со времен де Геннина запрещалось строить мукомольные мельницы на всех притоках заводского пруда.

Но самым главным было строительство запасных верхних заводских плотин, позволявшее без особых проблем регулировать уровень воды в основном пруду. При верхних плотинах часто устраивались собственные фабрики, а со временем строился самостоятельный завод. Так появился Верх-Исетский завод, сохранивший и даже приумноживший свое значение, когда Екатеринбургский завод практически прекратил свое существование.

... В апреле при отправке заводских караванов почти полностью выпускались пруды Полевского и Ревдинского заводов, и вода из речек Полевой и Ревды резко повышала Чусовую.

Рис. 2 Ломы и упоры для подъема защитных щитов плотины.

Архивное фото из собрания ревдинского краеведа Сергея Новикова



9.1. В чем причина запрета строить мукомольные мельницы на реках, которые питали заводские пруды?

9.2. Как вы думаете, почему в истории сохранились имена крепостных мастеров-строителей плотин?

9.3. С какой целью выше по течению рек для крупных заводов строили дополнительные плотины? Запишите название пруда, образованного такой плотиной для Екатеринбургского завода на реке Исеть. Запишите похожие названия других прудов или населенных пунктов Свердловской области, отражающие их место и роль в работе заводов, построенных в XVIII-XIX вв. на Урале.