

ЗАДАНИЯ МУНИЦИПАЛЬНОГО ЭТАПА ВСЕРОССИЙСКОЙ ОЛИМПИАДЫ
ШКОЛЬНИКОВ ПО ПРЕДМЕТУ
«ОСНОВЫ БЕЗОПАСНОСТИ И ЗАЩИТЫ РОДИНЫ»
в 2024/2025 учебном году
10 классы

Уважаемые участники олимпиады!

Вам предстоит выполнить теоретические задания. Время выполнения заданий теоретического тура **90 минут**.

Выполнение теоретических заданий целесообразно организовать следующим образом:

- не спеша, внимательно прочитайте задание и определите, наиболее верный и полный ответ;

- отвечая на теоретический вопрос, обдумайте и сформулируйте конкретный ответ только на поставленный вопрос;

- если вы отвечаете на задание, связанное с заполнением таблицы или схемы, не старайтесь детализировать информацию;

- после выполнения всех предложенных заданий еще раз удостоверьтесь правильности выбранных вами ответов и решений;

- особое внимание обратите на задания, в выполнении которых требуется выразить ваше мнение с учетом анализа ситуации или поставленной проблемы.

Закончив выполнение заданий, внимательно перенесите ответы в бланк ответов! Проверяется только бланк ответов, текст заданий и черновики не проверяются!

Максимальная оценка – **150 баллов**.

Желаем вам успеха!

Закрытые задания с выбором одного верного варианта

1. Укажите, где хранится стрелковое оружие и боеприпасы:

- а) в прикроватных тумбочках;
- б) в комнате для чистки оружия;
- в) в кабинете у директора;
- г) в комнате для хранения оружия.

2. Укажите, какое из перечисленных действий может вызвать отравление при использовании бытовой химии:

- а) использование бытовой химии в хорошо проветриваемом помещении;
- б) контакт бытовой химии с кожей без перчаток;
- в) хранение бытовой химии на верхних полках;
- г) применение бытовой химии в перчатках и маске.

3. Укажите, что следует сделать при укусе змеи:

- а) оставить укус без внимания, если боль не сильная;
- б) немедленно отсосать яд из раны;
- в) приложить холод к месту укуса, закрыть нетугой повязкой и обратиться к врачу;
- г) намазать место укуса маслом.

4. Укажите, что означает знак пожарной безопасности, изображенный на рисунке:



- а) пожароопасно: окислитель;
- б) пожароопасно: легко-воспламеняющиеся вещества;
- в) взрывоопасно: взрывоопасная среда;
- г) пожароопасно: газ.

5. Укажите, в каких странах минимальна вероятность землетрясений:

- а) Швеция, Барбадос, Мальта;
- б) Румыния, Турция, Сирия;
- в) Норвегия, Италия, Чили;
- г) Финляндия, Швеция, Китай.

6. Что из перечисленного относится к вторичным поражающим факторам наводнения:

- а) подтопление прилегающей территории;
- б) осложнение санитарно-эпидемиологической обстановки;
- в) поток воды, характеризующийся высоким уровнем подъема;
- г) поток воды, характеризующийся значительными скоростями течения.

7. Укажите, чем необходимо пользоваться при возгорании электропроводки, электроагрегатов:

- а) пенным огнетушителем;
- б) углекислотным или порошковым огнетушителем;
- в) водой или песком;
- г) снегом.

8. Укажите, какое мероприятие осуществляет РСЧС в режиме повышенной готовности:

- а) подготовка населения к действиям в чрезвычайных ситуациях;
- б) формирование оперативных групп и организация выдвижения их в предполагаемые районы действий;
- в) проведение мероприятий по защите населения и территорий от чрезвычайных ситуаций;
- г) аварийно-спасательные работы.


9. Аварийно-спасательные работы в очагах поражения включают:

- а) мониторинг и прогнозирование чрезвычайных ситуаций;
- б) разведку маршрутов и участков работ;
- в) подготовка объектов экономики и систем жизнеобеспечения населения к работе в условиях чрезвычайных ситуаций;
- г) подготовка населения к действиям в чрезвычайных ситуациях.

10. Ваш самокат весит больше 35 кг. Укажите, где, согласно новым правилам дорожного движения, вам разрешено на нём ехать:

- а) по пешеходной дорожке;
- б) по велодорожке, обочине, правому краю проезжей части дороги;
- в) по тротуару;
- г) в пешеходной зоне.

11. Выберите дорожный знак «Движение без остановки запрещено»:



Закрытые задания с выбором нескольких верных вариантов

12. Выберите два верных варианта при ответе на вопрос, что из нижеперечисленных объектов, может являться линейными ориентирами:

- а) линии электропередач и дороги;
- б) летящий самолет;
- в) движущийся автотранспорт и сельскохозяйственная техника;
- г) граница леса, просека;
- д) линия горизонта;
- е) тень от вертикально стоящей палки.

13. Выберите два верных варианта при ответе на вопрос о действиях, которые следует предпринять, если вы обнаружили подозрительный предмет:

- а) немедленно сообщить об этом охране или полиции;
- б) оставить предмет и уйти, чтобы избежать проблем;
- в) подойти поближе и попытаться узнать побольше о предмете;
- г) сделать фотографию предмета и отправить друзьям;
- д) вызвать экстренные службы и сообщить о предмете.

14. Разноцветные контейнеры для сбора мусора вводятся в целях удобства переработки твердых бытовых отходов. Выберите два верных варианта ответа из представленных, что следует выбрасывать в синий контейнер:

- а) картон;
- б) пластик;
- в) стекло;
- г) ёмкости, загрязнённые продуктами питания;
- д) макулатуру.

15. Выберите два верных варианта при ответе на вопрос, какие меры необходимо предпринять при обнаружении оголенных проводов:

- а) закрыть изолянтной место повреждения;
- б) отключить электричество в квартире;
- в) прикоснуться к проводу, чтобы проверить идёт ли ток;

- г) вызвать электрика для устранения проблемы;
- д) оставить провод так, если он не искрит.

16. Вы проживаете в селеопасном районе. Находясь дома, услышали по радио сообщение об угрозе схода селя. У вас в запасе 30 минут. Выберите два ответа из предлагаемых вариантов и определите их очередность:

- а) соберете все ценное имущество во дворе и укроете его в помещении;
- б) выйдете из здания и направитесь в безопасное место;
- в) плотно закроете вентиляционные и другие отверстия;
- г) закроете все двери, окна;
- д) предупредите соседей об угрозе селя;
- е) будете выходить на склон горы, находящийся на селеопасном направлении.

17. Выберите три верных варианта при ответе на вопрос: «Что не способствует профилактике переутомления?»

- а) крепкий кофе утром и вечером;
- б) утренняя гимнастика;
- в) своевременный отход ко сну;
- г) исключение из режима дня занятий физическими упражнениями;
- д) длительное пребывание на свежем воздухе;
- е) спортивные тренировки с предельной нагрузкой.

18. Выберите три верных варианта при ответе на вопрос, в каких случаях ремень безопасности в случае ДТП не сможет защитить пассажиров и водителя автомобиля:

- а) от вылета (выброса из автомобиля);
- б) от осколков разбитого оконного стекла;
- в) от столкновения с другими пассажирами;
- г) от удара незакрепленным предметом;
- д) от удара о дверь;
- е) от травм при разрушении автомобиля.

19. Какие предметы и вещества запрещено перевозить на борту воздушного судна пассажиру в зарегистрированном багаже и (или) в вещах, находящихся при нём. Определите пять верных вариантов ответа:

- а) пиротехнические средства: сигнальные и осветительные ракеты, патроны сигнальные;
- б) имитаторы любого вида оружия;
- в) ядовитые и отравляющие вещества;
- г) газы для бытового пользования (бутан-пропан) и другие газы;

- д) хозяйственно-бытовые ножи, (ножницы) с длиной клинка (лезвия) свыше 60 мм.;
- е) тонометр ртутный в стандартном футляре;
- ж) радиоактивные материалы;
- з) аэрозоли, предназначенные для использования в спортивных или бытовых целях;
- и) вещества, подверженные самопроизвольному возгоранию.

**Задания на установление соответствия между списками из
одинакового количества элементов**

20. Установите соответствие между ситуацией и действием для предотвращения бытовой травмы:

1. Работа с острым ножом на кухне	а) работать в перчатках и защитной одежде
2. Подъем тяжелых предметов	б) использовать правильную технику выполнения действий
3. Ремонт электропроводки	в) хранить в недоступном для детей месте
4. Использование химических чистящих средств	г) использовать специальный инструмент с изолированными ручками



21. Установите соответствие между действиями и потенциальными интернет-угрозами:

Действие	Интернет-угроза
1. Переход по подозрительным ссылкам в сообщениях	а) кража паролей и доступ к личным данным
2. Использование одного пароля на всех сайтах	б) установка вредоносного программного обеспечения
3. Скачивание файлов с непроверенных сайтов	в) фишинг и кража банковской информации

22. Установите соответствие между симптомами и типом отравления:

1. Головная боль, слабость, покраснение кожи	а) отравление угарным газом
2. Тошнота, рвота, понос	б) отравление пищевое
3. Затруднённое дыхание, жжение во рту и горле	в) отравление бытовыми химикатами

23. В процессе проведения поисково-спасательных работ на территории Российской Федерации были найдены пострадавшие. Ими с земли были переданы следующие знаки. Установите соответствие между выложенными знаками и их названием:

<p>1.</p> 	<p>а) нуждаемся в продовольствии, воде, теплом обмундировании</p>
<p>2.</p> 	<p>б) здесь можно произвести посадку</p>
<p>3.</p> 	<p>в) произошло летное происшествие, имеются пострадавшие</p>

24. Соотнесите взрывные устройства при угрозе террористического акта и рекомендуемое минимальное безопасное расстояние от них

Вид взрывного устройства	Рекомендуемое минимальное безопасное расстояние
1) Граната Ф - 1	а) 50 метров
2) Тротиловая шашка массой 400 граммов	б) 200 метров
3) Чемодан (кейс), начиненный взрывчаткой	в) 230 метров
4) Граната РГД-5	г) 950 метров
5) Заминированный микроавтобус	д) 85 метров