



**ЗОЛОТОЕ
СЕЧЕНИЕ**

ФОНД ПОДДЕРЖКИ
ТАЛАНТЛИВЫХ ДЕТЕЙ
И МОЛОДЕЖИ

Разбор заданий муниципального этапа всероссийской олимпиады школьников по истории для 7 класса

2024/2025 учебного года в Свердловской области

Разработчик –
Шерер Анастасия
Александровна,
старший преподаватель ИРО

ВС{ }Ш



Уважаемые участники олимпиады, родители, педагоги!

Муниципальный этап Всероссийской олимпиады школьников для 7 класса включает в себя 9 заданий, которые были нацелены на проверку исторических знаний и метапредметных умений.

Максимальный первичный балл за выполнение всех заданий составил **65 баллов**.

Перевод первичных баллов в итоговые тестовые баллы осуществлялся по формуле: $Y = X/65 * 100$, где Y – тестовый балл, а X – первичный балл.

Максимальный тестовый балл составляет 100.



№	Уровень сложности	Проверяемые элементы
1	базовый	требует знания истории России с древнейших времен до середины XVI в. (задание на знание исторических городов России)
2	повышенный	предполагает работу с иллюстративным материалом, посвящённым событиям и явлениям истории России с древнейших времен до середины XIII в.
3	повышенный	направлено на проверку знания истории Великой Отечественной войны и умения искать, анализировать, интерпретировать информацию
4	базовый	направлено на проверку умений анализировать статистический материал по истории России
5	базовый	проверяет знание исторической хронологии истории России с древнейших времен до середины XVI в.
6	повышенный	проверяет знания истории России с древнейших времен до середины XVI в.
7	высокий	предполагает анализ исторической карты
8	высокий	направлено на проверку умений анализировать информацию, представленную в разных формах (тексты и иллюстративный материал) по истории России с древнейших времен до середины XVI в.
9	высокий	предполагает анализ информации, представленной в разных формах (краеведческое)

Задание № 1

А. Какой из перечисленных городов находился на землях ильменских словен:	Б. Какой из городов связан с легендой о крещении князя Владимира:	В. Какой из городов был основан Ярославом Мудрым, затем получил название Дерпт, а сейчас носит название Тарту:
1. Смоленск 2. Полоцк 3. Искоростень 4. Новгород 5. Муром	1. Саркел 2. Корсунь 3. Чернигов 4. Константинополь 5. Киев	1. Ярославль 2. Юрьев 3. Москва 4. Владимир-на-Клязьме 5. Минск
4	2	2
1 балл	1 балл	1 балл
<p>ВНИМАНИЕ! При выборе более трёх цифр – 0 баллов!</p>		



Задание 2



1. Все три храма имеют названия в честь Премудрости Божией.
2. Все три храма были построены в XI веке.
3. Все три храма были построены на территории Киевского княжества.
4. Храм под номером 2 подвергся позднейшей перестройке в романском стиле.
5. Храм под номером 1 подвергся позднейшей перестройке в поздне-готическом стиле.
6. В храме под номером 3 установлены бронзовые рельефные ворота, которые предположительно были захвачены новгородцами во время похода в Швецию.

ВНИМАНИЕ! При выборе более трёх цифр – 0 баллов!

Задание 3

Зелёное кольцо славы Мемориал «Цветок жизни»

1




2



3



4



Бейся, сердце!
Стучи, несмотря на
усталость,
Слышишь:
Город клянется, что враг не
пройдет!
...Сотый день догорал.
Как потом оказалось,
Впереди
Оставалось еще восемьсот...

*Отрывок из
стихотворения «Сотый
день» Юрия Воронова*

23 февраля 1965г. в газете «Смена» была опубликована статья поэта-фронтовика, участника обороны Ленинграда, М.Н. Дудина, который от имени ветеранов войны писал: «Пусть на месте кольца блокады вырастет вокруг Ленинграда зеленое кольцо мира, пусть оно обозначит на вечные времена своим зеленым шумом рубеж нашего мужества... Пусть каждый ленинградец, молодой и старый, долгом и честью сочтет посадить на смертном рубеже дерево вечной жизни и памяти – это наш долг».

Задание 3 (вопросы и ответы)

1. Назовите имя девочки, чьи страницы из дневника стали одним из обвинительных документов на Нюрнбергском процессе, где проходил суд над фашистскими преступниками. – 1 балл

Таня Савичева

2. Сколько дней длилась блокада Ленинграда? (2 балла)

900 дней

3. Сколько лет со Дня Победы в Великой Отечественной войне исполнилось, когда было начато строительство Зелёного пояса славы вокруг Ленинграда? – 1 балл

20 лет

Кому посвящен мемориал «Цветок жизни»? – 1 балл

Мемориал посвящен детям блокадного Ленинграда

Почему на берёзы в роще мемориала повязывают пионерские галстуки? – 1 балл

Галстуки повязывают в память о пионерах- защитниках города.

Клад из 203 дирхемов, найденный в Новгороде	число монет	отношение в %
VIII век		
- первая половина	15	7,39
- третья четверть	28	13,79
- четвертая четверть	43	21,18
IX век		
- первая четверть	69	33,99
- вторая четверть	21	10,35
- третья четверть – до 864 г.	27	13,30

Справка. Дирхем (дирхам) - арабская серебряная монета, введённая в обращение в конце VII века. Название представляет собой арабизированное греческое слово «драхма». Согласно мусульманской религии, на монетах нет изображений. Надписи на монетах содержали изречения из Корана, год (по мусульманскому летосчислению) и место выпуска монеты, позже - имена правителей.

1. Интенсивность торговых обменов с восточными купцами равномерно увеличивалась на протяжении VIII – IX вв.
2. Интенсивность торговых обменов с восточными купцами равномерно убывала на протяжении VIII – IX вв.
3. Наибольшая интенсивность торговых обменов с восточными купцами приходится на начало IX в.
4. Серебряные дирхемы появились раньше деятельности Пророка Мохаммеда.
5. Клад был зарыт через два года после события, имевшего большое значение для Новгорода и всей истории Древней Руси.
6. Количество монет, собранных во второй половине VIII в. меньше количества монет, собранных в первой половине IX в.

Ответ: 356

Задание 5

Установите хронологическую последовательность присоединения княжеств к Москве:

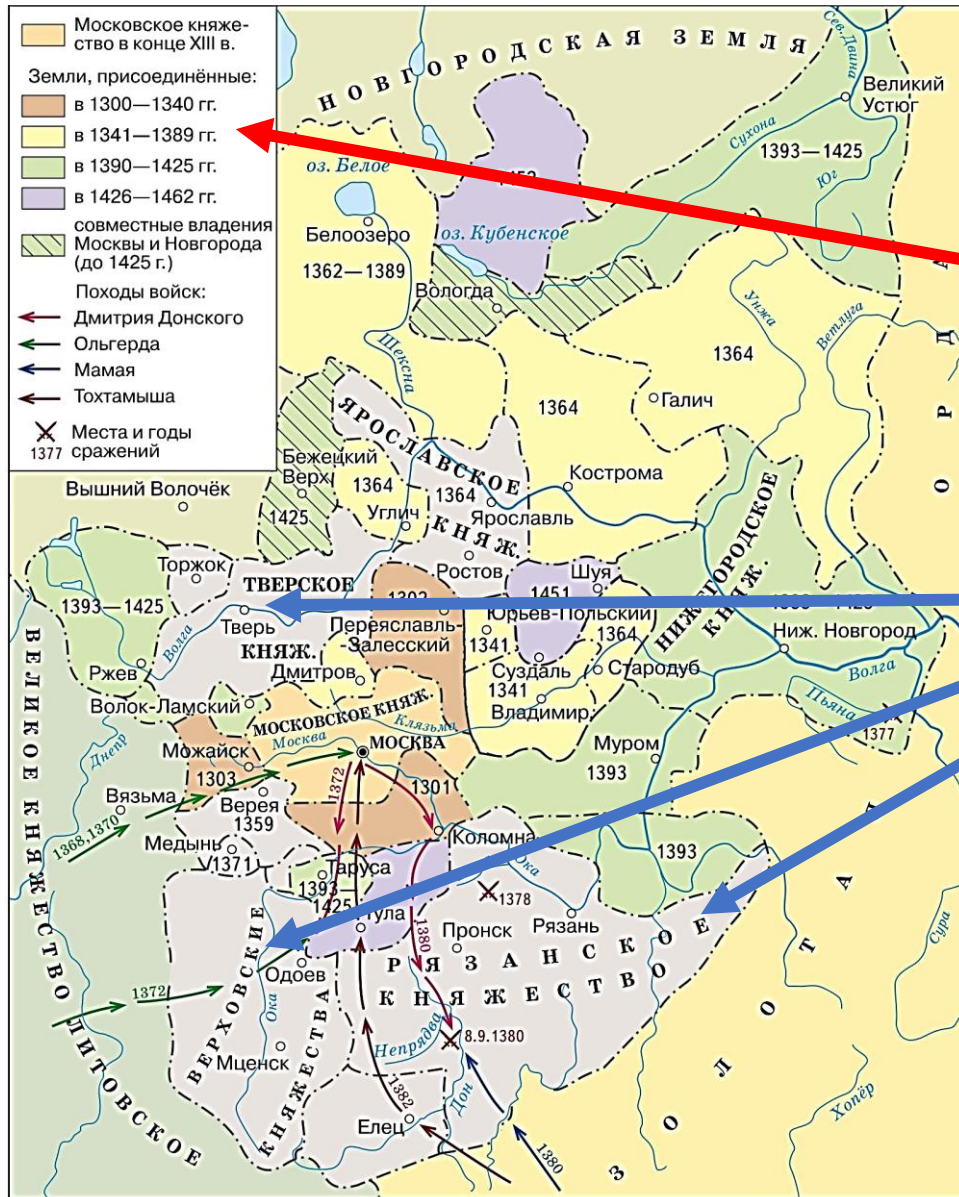
- 1) Владимир
- 2) Муром
- 3) Нижний Новгород
- 4) Тверь
- 5) Переяславль-Залесский

Ответ: 51234

Даты	События истории России и всемирной истории
А. 1492-1493	1. изобретение книгопечатания И. Гутенбергом
Б. первая четверть XV в.	2. взятие Константинополя крестоносцами
В. 1204	3. Андрей Рублев завершает работу над иконой Троица
Г. 1194-1197	4. в селе Коломенском строится храм Вознесения Господня
	5. в Москве строится современный Кремль из красного кирпича
	6. строительство белокаменного Кремля в Москве
	7. строительство Дмитриевского Собора во Владимире
	8. первая экспедиция Христофора Колумба
	9. путешествие Марко Поло в Индию и Китай

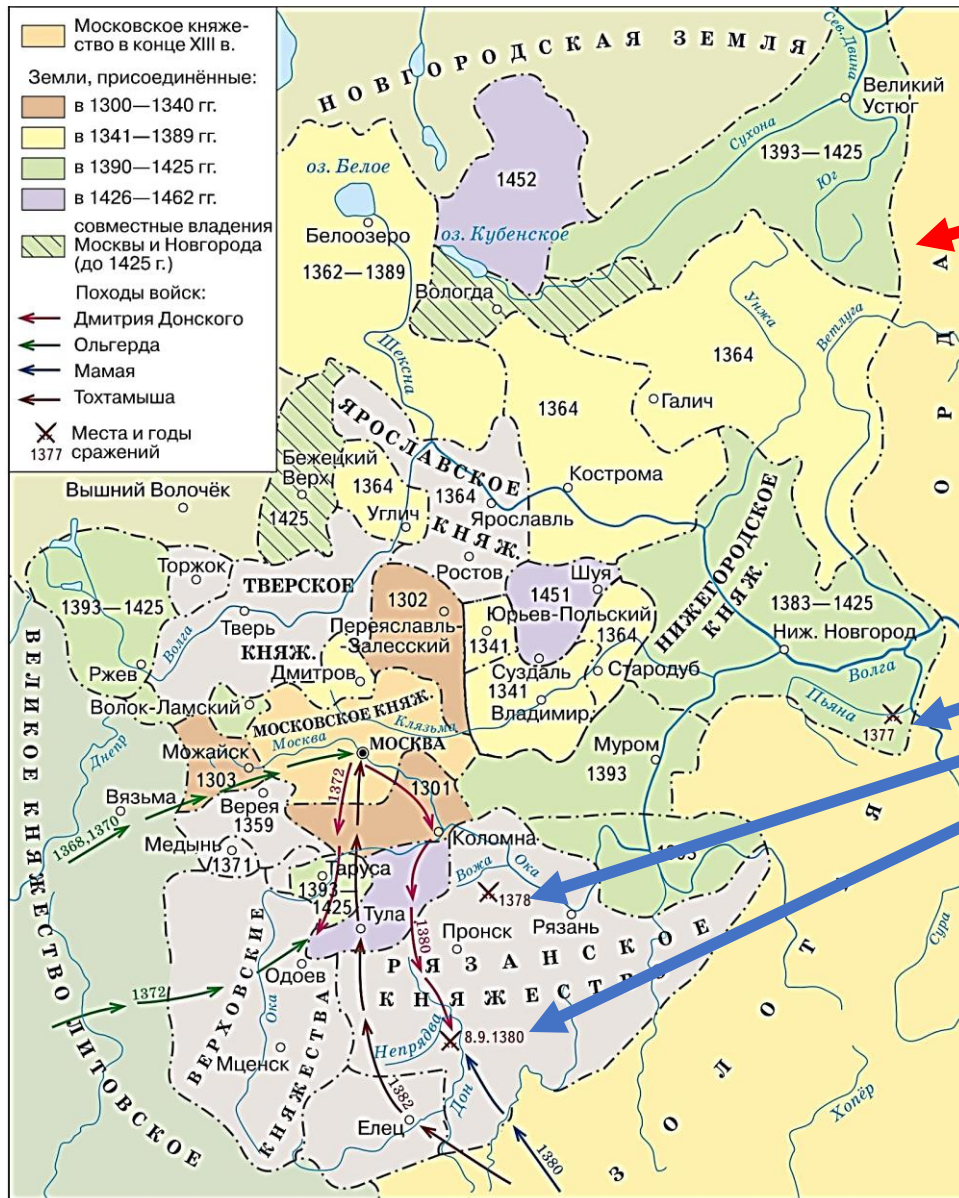
А	Б	В	Г
(1492-1493)	(первая четверть XV в.)	(1204)	(1194-1197)
8	3	2	7

Задание 7



1. На карте отражена часть процесса присоединения земель к Московскому княжеству. Запишите временные границы этого периода, согласно карте.

2. Найдите на карте княжества, еще не присоединенные к Москве. Запишите названия княжеств, которые будут присоединены к Московскому до 1521 года (не менее двух названий).



3. Какое государство, из указанных на карте, подвергнется распаду в XV веке на Сибирское, Казанское, Астраханское и Крымское ханства? Запишите его название.

Золотая Орда

Какие отношения связывают русские княжества с указанным государством в период, изображенный на карте?

Зависимость, вассальная зависимость (иго)

Найдите на карте дату военного противостояния русских войск, под предводительством московского князя и войск указанного государства. Запишите дату сражения и его название.

1377 – Битва на реке Пьяне

1378 – Битва на реке Воже

8.9.1380 – Куликовская битва

Текст 1. Запись диакона Григория, писца, на последней странице Остромирова Евангелия (по статье протоиерея Бориса Пивоварова «Остромирово Евангелие»)

«Слава Тебе, Господи Царь Небесный, за то, что удостоил меня написать это Евангелие. Начал же я его писать в году 6564-м, а окончил в 6565-м. Написал же я Евангелие для раба Божия, названного в крещении Иосиф, а по мирскому Остромир, который был свойственником князя Изяслава. Князь же Изяслав тогда владел обеими областями — отца своего Ярослава и брата своего Владимира. Сам князь Изяслав управлял престолом отца своего Ярослава в Киеве, а престол своего брата он поручил управлять своему свойственнику Остромиру в Новгороде».

Текст 2. Из статьи Л.Г. Панина «Остромирову Евангелию – 950 лет»

То десятилетие, в которое создавалось Остромирово Евангелие, было насыщено важнейшими для нашего прошлого культурными, политическими, духовными событиями.

Так, в 1051–1061 гг.:

- был основан Киево-Печерский монастырь...;
- в Новгороде завершилось строительство Софийского собора (вкладом в этот собор позже и стало Остромирово Евангелие);
- в Вышгороде строится церковь Свв. Романа и Давида для погребения мощей святых Бориса и Глеба;
- митрополитом Киевским впервые избирается русич — Иларион, он создает замечательный памятник русской духовной и философской мысли — «Слово о Законе и Благодати» ...;
- состоялись два важных брака детей <князя Киевского>: в 1052 г. его сын Всеволод женится на дочери византийского императора Константина IX Мономаха, а годом ранее состоялся брак Генриха I Французского с <дочерью князя> Анной, привезшей во Францию славянское кириллическое Евангелие, которое долгие последующие века хранилось в г. Реймсе и получило название Реймского Евангелия и на котором присягали французские короли во время своей коронации.

Задание 8

1. В каком году диакон Григорий завершил написание Евангелия для Остромира, если по старому стилю начало нашей эры приходилось на 5508 год от Сотворения мира? – 2 балла

1057 год

2. Как звали великого князя киевского, престол которого унаследовал Изяслав, оставивший Остромира управлять в Новгороде? – 2 балла Какой памятник древнерусского права, по преданию, связан с периодом его княжения в Новгороде? – 2 балла

Ярослав Мудрый, Русская Правда

3. Кто такие святые Борис и Глеб? – 1 балл. Кем они приходились князю Изяславу? – 1 балл. Как вы думаете, почему храм в Вышгороде, построенный для сохранения и почитания мощей святых Бориса и Глеба, носил посвящение Роману и Давиду? Обоснуйте свой ответ. – 2 балла

Первые русские святые, канонизированные в лике страстотерпцев.

Для князя Изяслава (сына Ярослава Мудрого) святые Борис и Глеб были дядями.

В крещении Борис был наречен Романом, а Глеб получил имя Давид.

Надпись на одной из плит: *Но трудом великим, живинкой в деле уральских умельцев, талантом и сметливостью крестьян и солдат, работных людей и мастеровых Никифора Клеопина, Константина Гордеева, Тимофея Бурцева, Леонтия Злобина, Ивана Королевича и многих других известных и безвестных мастеров в короткий срок было создано рукотворное техническое чудо, разбудившее окрестные леса и горы шумом водяных колес, ударами молотов, отблесками плавок металла в доменных печах.*



Уктусский казённый завод был первым промышленным предприятием в черте современного Екатеринбурга. Строительство завода началось 4 декабря 1702 года. Место для плотины было выбрано на речке Уктус (современное название - Патрушиха), в нескольких сотнях метров от впадения её в Исеть. Строить плотину начал мастер Ермолай Яковлевич Неклюдов.

... В 1713 году была проведена первая плавка меди. ... Однако местные рудники быстро оскудели, работа на заводе часто прекращалась из-за волнений приписных крестьян или башкирских набегов. Но основной причиной остановок производства была маловодность реки Уктус.

Работа вододействующего оборудования заводов зависела от уровня воды. ...Со времен де Геннина запрещалось строить мукомольные мельницы на всех притоках заводского пруда.

Но самым главным было строительство запасных верхних заводских плотин, позволявшее без особых проблем регулировать уровень воды в основном пруду. При верхних плотинах часто устраивались собственные фабрики, а со временем строился самостоятельный завод. Так появился Верх-Исетский завод, сохранивший и даже приумноживший свое значение, когда Екатеринбургский завод практически прекратил свое существование.

... В апреле при отправке заводских караванов почти полностью выпускались пруды Полевского и Ревдинского заводов, и вода из речек Полевой и Ревды резко повышала Чусовую.

Задание 9



1. В чем причина запрета строить мукомольные мельницы на реках, которые питали заводские пруды? – 4 балла

Запрет строить на притоках заводских прудов мельницы был связан с необходимостью сохранить всю их полноводность, чтобы в пруд набиралось максимальное количество воды.

2. Как вы думаете, почему в истории сохранились имена крепостных мастеров-строителей плотин? – 4 балла.

Имена строителей плотин сохранились в истории, потому что плотины имели решающее значение для работоспособности заводов. Это были сложные технические сооружения, и строили их настоящие мастера своего дела.

3. С какой целью выше по течению рек для крупных заводов строили дополнительные плотины? – 2 балла.

Дополнительные пруды выше по течению рек, образующих заводские пруды строили для того, чтобы с их помощью регулировать уровень воды в основном заводском пруде.

Запишите название пруда, образованного такой плотиной для Екатеринбургского завода на реке Исеть. – 1 балл.

Верх-Исетский.

Запишите похожие названия других прудов или населенных пунктов Свердловской области, отражающие их место и роль в работе заводов, построенных в XVIII-XIX вв. на Урале. (запишите не менее двух названий) – 1 балл.

Верхняя Салда, Верх-Нейвинский пруд.



Благодарю за внимание!