

**Муниципальный этап Всероссийской олимпиады школьников
по Искусству (Мировой художественной культуре)
2024/2025 учебный год**

Комплект заданий для учащихся 10 классов

Уважаемый участник, при выполнении заданий обратите внимание:

- необходимо внимательно читать задание и отвечать на поставленные вопросы;
- при выполнении задания обратите внимание на то, что есть открытые задания (где нужно написать правильный ответ) и закрытые (где нужно выбрать правильный ответ);
- все ответы вносятся в бланки ответов;
- в бланк ответов Вы должны вписать номер задания и номер вопроса и записать ответ, например, Задание 2, вопрос 2.1;
- бланк заданий Вы можете использовать как черновик, бланки заданий сдаются после окончания работы вместе с бланками ответов, но не проверяются;
- **обратите внимание, что баллы за ответы с ошибками не начисляются**, если допускается ошибка в написании искусствоведческого термина, имени, отчества, фамилии деятеля культуры, названии художественного произведения, неверно указывается имя рядом с фамилией.

За каждый правильный ответ Вы можете получить:

- за задания 1–2 – по 5 баллов,
- за задание 3–4 – по 10 баллов,
- за задания 5–6 – по 30 баллов,

Максимальная оценка – 110 баллов (включая диктант – 20 баллов)

Время на выполнение заданий основной части тура – 150 минут

НЕ ЗАБЫВАЙТЕ ПЕРЕНЕСТИ ОТВЕТЫ В БЛАНК ОТВЕТОВ!!!

ЗАДАНИЕ 1

- 1.1. Напишите имя и фамилию художника, который в 1958 году создал логотип испанской торговой марки шарообразных леденцов на палочке Chupa-Chups («Чупа-чупс»):
- 1.2. Напишите название одной из его живописных работ:

Максимум за задание – 5 баллов, имя художника – 1 балл, фамилия художника – 2 балла, название одной из работ художника – 2 балла

НЕ ЗАБЫВАЙТЕ ПЕРЕНЕСТИ ОТВЕТЫ В БЛАНК ОТВЕТОВ!!!

ЗАДАНИЕ 2

В 1874 году в память об ушедшем из жизни друге, художнике и архитекторе, композитор Модест Петрович Мусоргский написал цикл фортепианных пьес «Картинки с выставки».

- 2.1 Как звали друга Мусоргского, которому был посвящен данный цикл (укажите имя и фамилию)
- 2.2 Укажите название любой пьесы из фортепианного цикла М. Мусоргского:

НЕ ЗАБЫВАЙТЕ ПЕРЕНЕСТИ ОТВЕТЫ В БЛАНК ОТВЕТОВ!!!

ЗАДАНИЕ 3

Допишите недостающие части имён известных мастеров искусства:


- 3.1. _____ Диего Хосе Франсиско де Паула Хуан Непомусено Мария де лос Реседиос Сиприано де ла Сантисима Тринидад Мартир Патрисио Руис-и-_____
- 3.2. _____ Хосе де _____-и-Лусьентес
- 3.3. _____ Родригес де Сильва-и-_____
- 3.4. _____ Доменек Фелип Жасинт _____-и-Доменек, маркиз де Пуболь
- 3.5. Доменикос Теотокопулос, прозванный _____

Максимум за задание – 10 баллов, по 1 баллу за указание каждого из пропущенных имен и фамилий.

НЕ ЗАБЫВАЙТЕ ПЕРЕНЕСТИ ОТВЕТЫ В БЛАНК ОТВЕТОВ!!!

ЗАДАНИЕ 4

Перед вами фрагмент живописного произведения художника, чье 160-летие со дня рождения отмечается в 2025 году. Рассмотрите его внимательно и ответьте на вопросы:



4.1. Назовите автора произведения (выберите из вариантов, предложенных в Таблице):

А	Н. Альтман
Б	В. Серов
В	К. Сомов
Г	Л. Бакст
Д	П. Кузнецов

4.2. Укажите название работы

4.3. Укажите год создания работы









4.4. Укажите музейное собрание, в котором находится произведение (город, название музея)


Максимум за задание – 10 баллов

НЕ ЗАБЫВАЙТЕ ПЕРЕНЕСТИ ОТВЕТЫ В БЛАНК ОТВЕТОВ!!!

ЗАДАНИЕ 5

Рассмотрите произведения с женскими образами.

А			Б		
В			Г		
Д			Е		
Ж			З		

И			
----------	---	--	--

Подумайте, как бы вы могли классифицировать эти образы. Результаты размышлений запишите в бланк ответов через дефис или через запятую: типы героинь данных художественных произведений – примеры (указав нужную букву) – привести собственные примеры такого же типа, указав имя и фамилию автора и название произведения. Для удобства можете нарисовать в бланке ответов таблицу и внести туда ответы.

№	Классификация образов (женские типы)	Примеры (буквенное обозначение изображения)	Собственные примеры
1			
2			
3			


За каждую верно указанную категорию начисляется 2 балла (всего максимум 6), за каждый верно указанный пример, обозначенный буквой, начисляется по 1 баллу (всего максимум 9), за каждый собственный пример – 5 баллов

НЕ ЗАБЫВАЙТЕ ПЕРЕНЕСТИ ОТВЕТЫ В БЛАНК ОТВЕТОВ!!!

ЗАДАНИЕ 6

В России, как и во многих других странах, существует традиция установки монументов и создания других произведений искусства в честь знаменательных событий. Одним из таких событий, нашедшим отклик во многих произведениях искусства, стала Отечественная война 1812 года.

Посмотрите на изображения и определите, что это за произведения. Ответы запишите в бланк ответов.



№	Название памятника	Место расположения (город)
6.1		
6.2		
6.3		
6.4		
6.5		

Вспомните и напишите два подобных памятника Отечественной войне 1812 года:

6.6 _____
 6.7 _____

За каждый верный ответ в каждой ячейке таблицы начисляется по 2 балла (всего 20), за каждый пример – 5 баллов.

НЕ ЗАБЫВАЙТЕ ПЕРЕНЕСТИ ОТВЕТЫ В БЛАНК ОТВЕТОВ!!!