

7-8 класс

Вариант 1

Задание 01

Укажите имя князя, при котором появилось первое письменное законодательство на Руси:

А - Иван III Васильевич

В - Ярослав Владимирович Мудрый

С - Владимир Всеволодович Мономах

Д - Юрий Владимирович Долгорукий

Е - Александр Юрьевич Невский

Правильный ответ - В

Задание 02

Прочитайте два текста, связанные с историей России, и укажите верные суждения о них.

1) «В лето 1257 зимою приехали татарские численники и пересчитали всю землю Суздальскую, и Рязанскую, и Муромскую, и поставили десятников, сотников, тысячников и темников, и поехали в Орду. Не пересчитывали только игуменов и чернецов, и попов, и клирошан тех, кто зрит на Святую Богородицу».

(Из Симеоновской летописи, конец XV- первая половина XVI вв.)

2) «В лето 1257 пришла в Новгород весть из Руси злая, что хотят татары тамги и десятины от Новгорода. И волновались люди все лето... В лето 1259 зимою приехал с низа (Суздальская земля) Михайло Пинецинич со лживым посольством, говоря так: «Соглашайтесь на число (перепись), не то полки татарские уже на Низовской земле»

И согласились новгородцы на число. В ту же зиму приехали окаянные татары сыроядцы Беркай и Касачик с женами своими и иных много. И был мятеж велик в Новгороде... И начали ездить окаянные татары по улицам и переписывать дома христианские. Взяв число, уехали окаянные, а князь Александр поехал после, посадив сына своего Дмитрия на столе».

(Из Новгородской первой летописи, XII – первая половина XV вв.)

А - Оба текста связаны с периодом освобождения Руси от власти Орды.

В - Служители русской православной церкви не попадали под перепись населения, которую проводили представители Орды.

С - Население Новгорода устроило мятеж против переписи.

Д - Татары приезжали на Русь, оставляя надолго свои семьи в Орде.

Е - Князь Александр Невский оставил своего сына, Михайло Пинецинича, вместо себя в Новгороде.

Правильный ответ - В, С

Задание 03

Расположите события истории России (с древнейших времен до середины XVIII века) в хронологическом порядке.

А - Крещение Руси

В - Съезд князей в Любече

С - Первое упоминание о Москве

Д - Невская битва

Е - Ликвидация самостоятельности Новгорода

Правильный ответ - А-1 В-2 С-3 Д-4 Е-5

Задание 04

Установите соответствие между изображениями и текстами.

1**2****3****4****5**

А - Памятник древнерусского зодчества, время постройки которого датируется 1037 годом. Великий киевский князь заложил этот храм в знак победы над печенегами.

В - Выдающийся памятник владими́ро-суздальского зодчества XII века, считается одним из величайших памятников мирового искусства.

С - Архитектурный памятник, соединяющий в себе византийскую, средневековую (готическую) и древнерусскую традиции, построен в 1532 году.

Д - Памятник архитектуры на южной стороне Красной площади в Москве, построен в ознаменование победы над Казанским ханством и во славу павших русских воинов.

Е - Уникальный памятник архитектуры XVII века, представляющий нарышкинское барокко. Предание связывает его появление со стрельцким бунтом 1682 года.

Правильный ответ - А-1 В-2 С-3 D-4 Е-5

Задание 05

Укажите правильные суждения об истории родного края.

А - Знаменитая Ирбитская ярмарка существовала с XVII века.

В - Металл с клеймом «Старый соболь», который отливали в Нижнем Тагиле, был одним из лучших в мире.

С - Первые города - заводы на Урале появились значительно позже Санкт-Петербурга.

Д - Детство Петра Ильича Чайковского было связано с Алапаевском.

Е - Невьянская башня по высоте ниже Пизанской башни (Италия).


Ф - С середины XVIII века на казённых уральских заводах стали добывать платину.

Правильный ответ - А, В, Д


Задание 06

Установите соответствие между изображениями и характеристиками исторических деятелей.

1



2




3



4



5



А - «Храбрый в бою, неистощимо энергичный, опрометчивый и мстительный, доверчивый и коварный, Василий Васильевич (в позднейшей литературе получивший стойкое прозвище «Темный», не известное его современникам) внес свой вклад в историю Русской земли. Победа в феодальной войне, укрепившая первенство Москвы - главное дело его жизни».

Алексеев Ю.Г. Государь всяя Руси. Новосибирск, 1999. С.30

В - «Димитрий, внук Ивана Калиты, пользуясь настроениями в Орде, покусился на открытую брань с завоевателями Руси... Он явился предводителем русских князей... по свободному стремлению доставить Русской земле независимость от иноплеменников».

Костомаров Н.И. Начало единодержавия в Древней Руси // Костомаров Н.И. Избранные страницы русской истории. М., 2008. С.203

С - «При нем московский дворец стал трезвым и целомудренным, тихим и добрым, правительство – спокойным и негневливым... Но от светлoduшия и доброты правителя было бы ошибочно заключать о правительственной слабости. Власть он держал твердою рукою и умел показать ее не хуже

Грозного, когда видел в этом надобность...»
Платонов С.Ф. Борис Годунов. М., 1999. С. 137

Д - «Москвитяне славили его благость и единогласно дали ему имя Собрателя земли Русской и Государя-отца: ибо сей Князь не любил проливать крови в войнах бесполезных, освободил Великое Княжение от грабителей внешних и внутренних...Он всегда носил с собою мешок, или калиту, наполненную деньгами для бедных».

Карамзин Н.М. История государства Российского. Кн.1. СПб., 1997

Е - «великий князь Всеволод,..сын Юрьев, благочестивого князя всея Руси, внук Владимира Мономаха, княжил в Суздальской земле 30 и 6 лет, многое мужество и дерзость имел, что на бранях показал, украшенный всеми добрыми нравами, злых казня, а добросмысленных милуя».

Из Лаврентьевской летописи, 1212 год

Правильный ответ - А-1 В-2 С-3 D-4 Е-5

Задание 07

Прочитайте отрывок из летописного источника и укажите все верные суждения, относящиеся к данному тексту.

«В лето 1598 заболел великий государь царь Федор Иванович и, видя отшествие свое к Богу от суетного мира сего в вечный покой, призвал к себе благоверную царицу и великую княгиню Ирину. И, простившись с нею, не повелел ей царствовать, но повелел ей принять иноческий образ. Потом государь велел себя соборовать и честную праведную душу свою отдал Богу...

Бояре и все воинство царствующего града Москвы и всего царства Московского, всякие люди ото всех городов и весей собирали людей и посылали к Москве на избрание царя.

Патриарх же Иов и все власти, посоветовавшись со всею землею, порешили посадить на Московское государство шурина царя Федора Ивановича - Бориса Федоровича Годунова, ибо видели его праведное и крепкое правление и к людям ласку великую при Федоре Ивановиче. Они чаяли от него и впредь милостей и не ждали себе от него гонения. И молили его многие люди, чтобы сел на Московское государство, он же им отказал устами своими, сказав, что не хочет. Сердце же его и мысль давно того желали...».

Из Нового летописца (первая половина XVII века)

А - Борис Годунов не стремился к царствованию, его просили об этом жители Московского государства.

В - В избрании нового царя должны были принять участие представители многих городов и земель Московского государства.

С - В 1598 году закончилось правление династии Рюриковичей.

Д - Борис Годунов считался кровным родственником царя Федора Ивановича.

Е - Жена Федора Ивановича стала инокиней, выбрала монашеский образ жизни.

Ф - Патриарх Иов, и другие люди его круга отрицательно оценивали деятельность Бориса Годунова.

Правильный ответ - В, С, Е

Задание 08

Перед вами ряд изображений.



Укажите номера двух «лишних» изображений, не относящихся к истории и культуре Урала.

А - изображение 1

В - изображение 2

С - изображение 3

D - изображение 4

E - изображение 5

Правильный ответ - C, D

Задание 09

Рассмотрите карту и укажите все верные суждения, относящиеся к событиям, изображённым на данной карте.



A - Тевтонский орден располагался на землях пруссов.

B - В XIII веке Великое княжество Литовское непосредственно граничило с Польшей.

C - Крестоносцы - представители Тевтонского ордена и Ливонского ордена имели выход к Балтийскому морю.

Д - Ливонский орден был создан в тот год, когда монголы разорили Рязанское княжество.

Е - Таллин (Ревель) подчинялся Тевтонскому ордену.

Ф - Жемайты, курши и земгалы вынуждены были подчиниться Ливонскому ордену.

Правильный ответ - А, С, D

Задание 10

Прочитайте тексты, рассмотрите фотографию и укажите все верные суждения, относящиеся к описываемой исторической ситуации.

«Мне не перечислить всех подвигов, совершенных в те дни на подступах к сталинградским окраинам.

Дело происходило в 42-й стрелковой бригаде полковника М.С. Батракова, которая продолжала прикрывать подходы к Мамаеву кургану. Держалась бригада стойко, но, ослабленная значительными потерями, все-таки была, как и ее соседи, потеснена противником. В руках немцев оказалась высота, дававшая им на этом участке ощутимые преимущества.

Вернуть высоту было трудно. Если у бригады и существовала такая возможность, то лишь до тех пор, пока враг не успел закрепиться на высоте. Батраков верил в такую возможность и не упустил ее... Дерзкая контратака удалась, высоту батальон отбил. Это само по себе являлось подвигом – моряки отбросили противника, имевшего значительный численный перевес. Но главное было впереди.

Обстановка сложилась так, что удерживать позиции на высоте, отбитые в ночь на 7 сентября, пришлось одной роте, отрезанной от своей бригады... На высоту пикировали и ходили над ней каруселью бомбардировщики, ее интенсивно обстреливала артиллерия. Но когда после этого фашистская пехота и танки начинали очередную атаку, наши воины встречали их огнем ПТР и пулеметов, бутылками с горючей жидкостью, гранатами...».

Из воспоминаний маршала Н.И. Крылова // Пазин Р.В., Морозов А.Ю. Хрестоматия-практикум по истории России: 6-11 класс. СПб, 2022. С. 379 - 380.

«Начавшийся в середине сентября период боев за сталинградский промышленный район можно назвать позиционной или «крепостной» войной. Время для проведения крупных операций окончательно миновало... За каждый цех, водонапорную башню, железнодорожную насыпь, стену, подвал и, наконец, за каждую кучу развалин велась ожесточенная борьба, которая не имела себе равных даже в период Первой мировой войны с ее гигантским расходом боеприпасов... Русские превосходили немцев в отношении использования местности и маскировки и

были опытнее в баррикадных боях и боях за отдельные дома; они заняли прочную оборону.»

*Из воспоминаний Г. Дерра (генерал-майора немецко-фашистской армии)
// Пазин Р.В., Морозов А.Ю. Хрестоматия-практикум по истории
России: 6-11 класс. СПб, 2022. С. 381 - 382.*



А - Маршал Н.И. Крылов говорит о значительных потерях советских войск при защите Сталинграда.

В - С точки зрения немецкого автора советские солдаты, в сравнении с противником, имели больший опыт баррикадных боев.

С - В воспоминаниях маршала Н. И. Крылова упоминается об удачной военной операции в условиях численного перевеса войск противника.

Д - Немецкий автор рассказывает о крупных военных операциях на Сталинградском фронте.

Е - Содержание фотографии противоречит мысли второго текста – «за каждый цех, водонапорную башню, железнодорожную насыпь, стену, подвал и, наконец, за каждую кучу развалин велась ожесточенная борьба».

Ф - По мнению немецкого автора, сражения Первой мировой войны требовали значительно больше ресурсов, чем битвы Второй мировой войны, в частности, Сталинградская битва.

Правильный ответ - А, В, С

Вариант 2

Задание 01

Укажите имя великого князя московского и владимирского, при котором Новгород окончательно подчинился Москве:

А - Василий I Дмитриевич

В - Василий II Васильевич Темный

С - Дмитрий Иванович Донской

Д - Василий III Иванович

Е - Иван III Васильевич

Правильный ответ - Е

Задание 02

Прочитайте два текста, связанные с историей России, и укажите верные суждения о них.

1) «В лето 1480 безбожный царь Ахмат Большой Орды пошел на православное христианство на Русь, на святые церкви и на великого князя, похваляясь пленить все православие и самого великого князя взять, как при Батые было. С царем шла вся Орда. А король польский Казимир с царем совет держал, обещал идти на великого князя: царь пойдет от себя полем, а король от себя.

Князь же великий Иван Васильевич, слышав то, начал посылать к Оке на берег своих воевод с силою, и сына своего великого князя Ивана послал также к Оке на берег в Серпухов, месяца июня в 8-й день, и с ним много воевод и воинство бесчисленное.

Царь же Ахмат шел медленно, короля ожидая. Когда он приблизился к Дону, князь великий Иван Васильевич пошел сам против него к Коломне».

(Из Московского летописного свода конца XV века)

2) «Слыша, что князь великий хочет бежать от берега Угры, написал владыка ростовский Вассиан великому князю на берег: «Благоверному и христоробивому, благородному и Богом венчанному и Богом утвержденному преславному государю князю Ивану Васильевичу всея Руси богомолец твой, господине, архиепископ Вассиан Ростовский благословение дает и челом бьет... Дошло до слуха нашего, что прежние твои злые советники не перестают шептать в ухо твое лживые слова и советуют тебе не противиться супостатам. Молюся твоей державе, не слушай такого их совета... Выходи скорей навстречу врагу, возьми Бога на помощь и

пресвятую Богородицу и всех святых его, уподобься прежде бывшим прародителям твоим, великим князьям: они не только Русскую землю обороняли от поганых, но иные страны принимали под власть свою». *(Из Софийской второй летописи, первая половина XVI века)*

А - Польский король Казимир обещал поддержку ордынскому хану в противостоянии с Русью.

В - Ростовский архиепископ выразил сомнение в победе русского войска над ордынским.

С - В обращении архиепископа Вассиана Ростовского есть упоминание о подвигах русских правителей.

Д - Великий князь Иван Васильевич мог располагать только московским войском, которое количественно значительно уступало ордынскому.

Е - Хан Ахмат осознавал невозможность подчинения Руси Орде и стремился только к восстановлению уплаты дани.

Правильный ответ - А, С

Задание 03

Расположите события истории России (с древнейших времен до середины XVIII века) в хронологическом порядке.

А - Провозглашение Новгородской республики

В - Битва на Калке

С - Ледовое побоище

Д - Появление первого Судебника Московского государства

Е - Начало правления Ивана IV Васильевича

Правильный ответ - А-1 В-2 С-3 Д-4 Е-5

Задание 04

Установите соответствие между изображениями и текстами.



А - Выдающийся памятник новгородского зодчества XIV века, стены которого щедро украшены декоративными элементами.

В - Православный храм в Пскове, расположенный напротив Псковского кремля. Долгое время велись споры о времени его строительства.

С - Главный княжеский храм, усыпальница московского великокняжеского дома, он был построен в 1505-1508 гг. итальянским архитектором Алевизом Новым.

Д - Двухэтажная палата свое название получила из-за сечения камня, которым облицован парадный фасад. Так ее создатель - итальянский архитектор Антонио Солари, отразил особенности приема «диаманти», применявшегося на его родине.

Е - Эта небольшая крестово-купольная церковь была построена в конце XII века во Владимиро-Суздальском княжестве и входит в Список всемирного наследия Юнеско.

Правильный ответ - А-1 В-2 С-3 D-4 Е-5

Задание 05

Укажите правильные суждения об истории родного края.

А - Уральские горы – одни из самых древних на нашей планете.

В - Один из самых молодых и густонаселенных городов Свердловской области – город Верхотурье.

С - В XIX веке на уральских приисках в 30 километрах от Нижнетуринского железодобывающего завода было открыто уникальное месторождение платины.

Д - В досоветский период Нижний Тагил славился не только металлургическим производством, но и знаменитыми пряниками.

Е - В Нижней Синячихе находится знаменитый музей-заповедник каменного зодчества.

Г - Герб Екатеринбурга – черный (чугунный) конь, вставший на дыбы, под попой, с уздой, но без повода.

Правильный ответ - А, С, Д

Задание 06

Установите соответствие между портретами и характеристиками исторических деятелей.

1**2****3****4****5**

А - «Стал он собирать много воинов храбрых. И легко ходил в походах, как пардус, и много воевал. В походах же не возил за собою ни возов, ни котлов, не варил мяса, но, тонко нарезав конину, или зверину, или говядину и зажарив на углях, так ел. Не имел он и шатра, но спал, подостлав потник, с седлом в головах...И посылал в иные земли со словами: «Хочу на вас идти». *«Повесть временных лет», начало XII века*

В - «Положительное значение царя Ивана в истории нашего государства далеко не так велико, как можно было бы думать, судя по его замыслам и начинаниям, по шуму, какой производила его деятельность. Грозный царь больше задумывал, чем сделал, сильнее действовал на воображение и нервы своих современников, чем на современный ему государственный порядок». *Ключевский В.О. Исторические портреты. М., 1990.*

С - «...необходимо отметить как великую заслугу Петра его непрерывное и самоотверженное служение государству и народу российскому, которому он действительно посвящал все свои силы в течение всей своей жизни...» *Пушкарёв С.Г. Обзор русской истории. Ставрополь, 1993.*

Д - «Личность царя Михаила как нельзя более способствовала укреплению его власти: мягкость, доброта и чистота этого государя производили на народ самое выгодное для верховной власти впечатление, самым выгодным образом представляли эту власть в глазах народа...».

Соловьёв С.М. История России с древнейших времен. Т.IX, глава 4. М., 1874-1889

Е - «Сторонники и приближенные Фёдора Алексеевича вправе были ожидать, что в пятнадцать лет...царь будет еще вполне зависим от их воли. Они с удивлением обнаружили, что больной юноша неожиданно серьёзно отнёсся к священным для него обязанностям государя...».

Богданов А.П. Царь-реформатор Фёдор Алексеевич: старший брат Петра I. М., 2020

Правильный ответ - А-1 В-2 С-3 D-4 Е-5

Задание 07

Прочитайте отрывок из летописного источника и укажите все верные суждения, относящиеся к данному тексту.

«В лето 1382 царь Тохтамыш послал на Волгу татар своих. Чтобы не дошли вести до Руси, повелел он перебить всех купцов русских, а суда их перехватить себе для переправы. И, придя к Волге со всею силою своею, переправился на эту сторону и пошел набегом на Русскую землю.

Князю же великому Дмитрию Ивановичу едва могли весть прислать некоторые доброжелатели христиан, живущие в стороне татарской, поборники земли Русской. Он же начал полки собирать и пошел из Москвы, желая идти против татар. И была рознь в князьях русских: одни хотели идти с князем великим, другие не хотели, ибо многие люди были на Дону перебиты. А царь шел на них со многою силою и был уже так близко, что русским собрать силы было некогда.

Князь великий в недоумении был и пошел за Волгу, в град свой Кострому. А в Москве одни хотели бежать, а другие в граде сидеть. И были мятежи и распри великие...

Взят же град августа 26-го, в 7-й час дня, в четверг, и огнем спален. А люди иссечены, а другие пленены, а иные сгорели, а иные потонули. И это все не только в одной Москве сотворили, но и во Владимире, и в Переяславле, и в Юрьеве, и в Звенигороде, и в Можайске, и во всех волостях всё попленили».

А - Тохтамыш не скрывал своих захватнических намерений, открыто объявил о начале военного похода на Русь.

В - Все русские князья находились в подчинении у Дмитрия Ивановича, великого владимирского и московского князя, и поддержали его в походе против татар.

С - Среди жителей Москвы не было единства, не все готовы были остаться в городе во время осады его ордынцами.

Д - Москва была захвачена войском Тохтамыша в августе, через четыре года после Куликовской битвы.

Е - Ордынцы разорили не только Москву, но и многие другие города Северо-Восточной Руси.

Ф - Во время нашествия Тохтамыша великого князя Дмитрия Ивановича не было в Москве.

Правильный ответ - С, Е, Ф

Задание 08

Перед вами ряд изображений.



Укажите номера двух «лишних» изображений, не относящихся к истории и культуре Урала.

А - изображение 1

В - изображение 2

С - изображение 3

Д - изображение 4

Е - изображение 5

Правильный ответ - В, С

Задание 09

Рассмотрите карту и укажите все верные суждения, относящиеся к событиям, изображённым на данной карте.



А - Согласно Плюсскому перемирию, Швеция получила земли на побережье Ладожского озера.

В - С 1569 года Речь Посполитая прекратила своё существование как единое государство, была разделена на Литву и Польшу.

С - С 1561 года территория Эстляндии принадлежала Швеции.

Д - Ливонский орден прекратил свое существование позднее образования Речи Посполитой.

Е - Остров Сааремаа в XVI веке вошёл в состав Дании.

Ф - Курляндия и Лифляндия в XVI веке входили в состав Московского государства.

Правильный ответ - А, С, Е

Задание 10

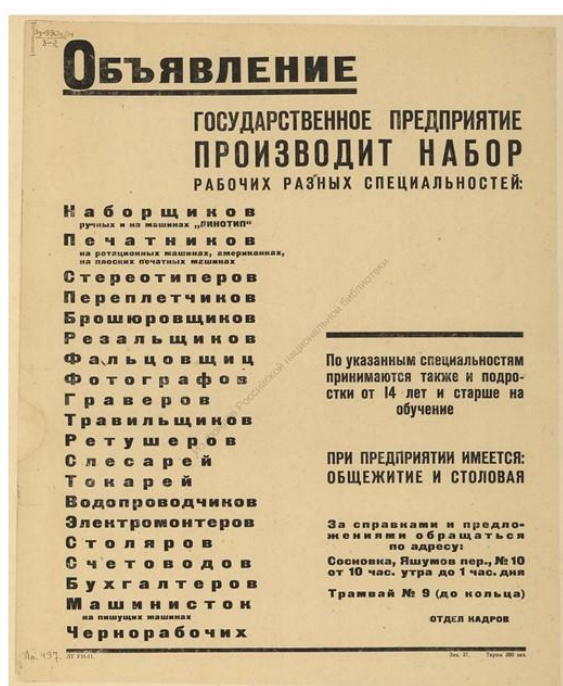
Прочитайте тексты, рассмотрите фотографию и укажите все верные суждения, относящиеся к описываемой исторической ситуации.

«Если в 1942 году артиллерийские налеты на городские районы были совершены 390 раз, то в 1943 году — 2490. Летом и осенью обстрелы иногда не прекращались сутками. Ленинградские артиллеристы и летчики самоотверженно боролись с артиллерией врага. Успешную контрбатарейную борьбу с противником вели артиллеристы кронштадтских фортов и кораблей Балтийского флота. Но окончательно снять постоянную угрозу обстрелов могло только полное освобождение Ленинграда от вражеской блокады.

В середине января 1944 года мощный удар трех фронтов — Ленинградского, Волховского и 2-го Прибалтийского, поддержанных Балтийским флотом, взломал оборону фашистских армий. За две недели упорных боев от врага были освобождены Пушкин, Павловск, Петродворец, Красное Село, Гатчина, Новгород и другие города. Никогда ленинградцы не забудут день 27 января 1944 года. С волнением и радостью слушали они по радио обращение Военного совета Ленинградского фронта: «Город Ленинград полностью освобожден от вражеской блокады... Граждане Ленинграда! Мужественные и стойкие ленинградцы! Вместе с войсками Ленинградского фронта вы отстаивали наш родной город» ...

Ленинградская битва завершилась сокрушительным разгромом немецко-фашистских войск. Вся страна гордилась этой победой. Общей была борьба за город Ленина, и все делили по праву радость его полного освобождения от блокады... Общая борьба и общая судьба спаяли воинов фронта и жителей города в единый боевой коллектив. Моральной поддержкой для ленинградцев были слова братского приветия, шедшие из всех республик,

краев и областей страны. Многочисленные выступления радио и печати, нескончаемый поток телеграмм и приветствий, шедших в осажденный город, вдохновляли ленинградцев на решительную борьбу с врагом. Велика и многообразна была материальная помощь, оказанная страной Ленинграду на протяжении войны. С военных заводов воинам, защищавшим крепость на Неве, шло вооружение и боевая техника... Несмотря на то что страна испытывала нехватку товаров, советские люди стремились поделиться с ленинградцами продуктами питания, одеждой, обувью. Русские и казахи, узбеки и киргизы, грузины и армяне, азербайджанцы и таджики внесли свой вклад в фонд продовольственной помощи Ленинграду. В этой помощи ленинградцам ярко проявилось единство народов Советского государства...
Адамович А. М. Блокадная книга / Алесь Адамович, Даниил Гранин. М., 2023.



Потребности государственных предприятий в рабочей силе. Ленинград, 1944



Молодежная бригада ленинградского завода № 810 на производстве пулеметов «Максим». Справа — слесарь-сборщик Макар Михайлович Ильичев (1925 г.р.), награжденный 03.06.1943 г. медалью «За оборону Ленинграда» за выполнение спецзаданий по производству вооружений.

А - Количество артиллерийских налётов на Ленинград в 1943 году было значительно больше, чем в 1942 году.

В - Победа защитников Ленинграда была общей победой народов СССР, которые стремились к военной защите города, его материальной, продовольственной поддержке.

С - В военное время, до и после снятия блокады, на ленинградских заводах работали подростки старше 14 лет, занятые в том числе и на металлургическом, оружейном производстве.

Д - Ленинград, города Ленинградской области были освобождены от блокады силами трех фронтов - Ленинградского, Волховского и Резервного фронта.

Е - Анализируя объявление, можно сделать вывод, что подростков принимали на работу не по всем рабочим специальностям, указанным в списке.

Г - Медаль «За оборону Ленинграда» вручалась только за военные заслуги.

Правильный ответ - А, В, С