

## 5-6 класс

### Вариант 1

#### Задание 01

Укажите событие, которое произошло до нашей эры.

А - принятие христианства на Руси

В - проведение первых Олимпийских игр

С - крещение короля франков Хлодвига

Д - создание первого печатного станка Иоганном Гуттенбергом

Е - открытие Америки Христофором Колумбом

Правильный ответ - В

#### Задание 02

*Прочитайте два текста. Подумайте, о каком государстве древнего мира в них говорится.*

**Укажите все верные суждения, относящиеся к описываемым событиям.**

Его Величество силою подобен богу. Он прекрасен, как солнце. В стрельбе из лука он не знает равных. Словно сокол Гор, он истребляет врагов без усталости. На блистательной колеснице он один сокрушил сотни тысяч воинов. Вселяет он страх грозным рыком своим в сердца народов всех стран.  
(Вигасин А.А. и др. *История Древнего мира. 5 класс. 2023 г.*)

Оглянулся Его Величество. И все, кто были с ним рядом, телохранители и слуги, хранитель знамени Ипуки и я с дядей Сенмутом, взглянули в ту сторону, куда было обращено лицо Благого Бога. И все увидели, что из-за белокаменных стен Кадеша выкатились колесницы, по два человека в каждой, и не было им числа. За колесницами шагали копейщики и стрелки из лука, во множестве, подобном песку.

Тогда взмолился Его Величество к отцу своему Амону, и мы, маленькие люди, уподобились слышать, как бог-сын разговаривает с богом-отцом:

- Что же случилось, отец мой, Амон? Совершал ли я что без ведома твоего? Разве не воздвиг я тебе храмы на миллионы лет и не принес тебе в дар все страны...? Почему же против меня ополчились чужеземцы и я остался без колесничих и без войска?

*(Немировский А.И. Книга для чтения по истории древнего мира. 1991 г.)*

А - Эта страна расположена в междуречье рек Тигр и Евфрат.

**В** - Правитель этой страны считался сыном бога и назывался фараоном.

**С** - Войска фараона всегда одерживали победы.

**Д** - Фараон воевал при помощи меча, сидя верхом на верблюде.

**Е** - В одном из отрывков говорится об одном из первых крупнейших сражений древности, в котором участвовал фараон Рамсес II.

Правильный ответ - В, Е

### **Задание 03**

**Расположите в хронологическом порядке строительство знаменитых сооружений от самого раннего к самому позднему:**

**А** - Строительство пирамиды Хеопса

**В** - Строительство Висячих садов Семирамиды в Вавилоне

**С** - Строительство Александрийского маяка

**Д** - Строительство храма Святой Софии Ярославом Мудрым в Киеве

**Е** - Строительство Московского кремля при Дмитрии Донском

Правильный ответ - А-1 В-2 С-3 Д-4 Е-5


### **Задание 04**

Рассмотрите предложенные изображения.

1




2



3



4



5



**Соотнесите изображение архитектурного объекта и название города, в котором он находится:**

**A** - Москва

**B** - Новгород

**C** - Казань

**D** - Екатеринбург

**E** - Санкт-Петербург

Правильный ответ - A-1 B-2 C-3 D-4 E-5

**Задание 05**

**Рассмотрите изображения и укажите верные утверждения.**

**Наши рекомендации**

- При посещении пешеходных экскурсий надевать удобную обувь, закрытую одежду и головные уборы.
- Рассчитывать свои силы и физические возможности при посещении пешеходной экскурсии на поселение Аркаим.
- Не пить воду из реки.
- Не трогать руками змей.
- Не посещать длительные экскурсионные маршруты с грудными детьми.
- Не привязывать посторонние предметы к ветвям растений.
- Животные могут находиться на территории туристического лагеря только в наморднике и на поводке.



**"Аркаим"** Укрепленное поселение эпохи бронзы XVIII-XVI в.в. до н.э.

- территория памятника исследованная археологическими методами
- территория памятника исследованная геофизическими

1 - центральная площадь  
2 - внутренняя оборонительная стена  
3,4 - внутренний ров (система канализации) круговая улица

5 - внешняя оборонительная стена  
6 - внешний ров  
7 - центральный въезд в поселение  
8 - входы - "лабиринты"  
9 - жилища  
10 - хозяйственно-производственные постройки (печи-калориды)  
11 - радиальные стены

Информационный щит при входе на территорию археологического памятника Аркаим



Почтовая марка, посвященная А.Т. Болотову – ученому-агроному и писателю, распространявшему картофель в России




ВОСТОЧНАЯ ГРУППА НАСТЕННЫХ КРАСОЧНЫХ ИЗОБРАЖЕНИЙ В ЗАЛЕ "РИСУНКОВ".

СЛЕВА НАПРАВО: ПЕРВЫЙ МАМОНТ; ВТОРОЙ МАМОНТ, ПОВЕРНУТЫЙ НАПРАВО; ПЕРВАЯ ЛОШАДЬ; ДАЛЕЕ ТРИ ФИГУРЫ СВЕРХУ ВНИЗ - ТРЕТИЙ МАМОНТ, ПОД НИМ НОСОРОГ, НИЖЕ - УСЛОВНЫЙ ЗНАК&NBSP; В ВИДЕ УСЕЧЕННОГО КОНУСА С "УШКАМИ" И РАСЧЕРЧЕННЫМ ВНУТРЕННИМ ПРОСТРАНСТВОМ; ПРАВЕЕ - ВТОРАЯ ЛОШАДЬ (ВВЕРХУ), ЧЕТВЕРТЫЙ МАМОНТ (ВНИЗУ).  
ЗАРИСОВКА (ПО ШЕЛИНСКОМУ, 1996)

Схема расположения росписей в пещере Шульган-Таш в Бурзянском районе республики Башкортостан



Шигирский идол в Музее истории и археологии Урала



Реконструкция рисунков Северской писаницы



Юбилейная монета Банка России

**А** - Поселение Аркаим в Челябинской области является ровесником некоторых египетских пирамид.

**В** - На территории Среднего Урала в I тысячелетии до нашей эры выращивали картофель.

**С** - Шигирский идол – самая древняя сохранившаяся деревянная скульптура в мире.

**Д** - На территории Урала не найдено пещер с образцами искусства первобытных людей.



**Е** - Недалеко от посёлка Северка под Екатеринбургом находятся скалы с остатками древних наскальных рисунков.

**Ф** - Самым древним городом на территории Свердловской области является Екатеринбург.

Правильный ответ - А, С, Е

### **Задание 06**

**Соотнесите изображения с именами выдающихся религиозных деятелей.**



А - Святой Преподобный Сергий Радонежский

В - Апостол Пётр

С - Будда Шакьямуни

Д - Конфуций

Е - Моисей

Правильный ответ - А-1 В-2 С-3 Д-4 Е-5

### Задание 07

*Прочитайте текст.*

**Укажите все верные суждения, относящиеся к данному тексту.**

#### ***ОБ ОСТРОВЕ ПАТМОС***

В стороне, далеко в море остров Патмос. На том острове Иоанн Богослов написал Евангелие <...>.

Далее – остров Родос, большой и очень всем богатый. <...> А от Самос до острова Родос двести верст, а от Родос до Макрии шестьдесят верст. И в том городе, и по всей той земле до самых Мир – там родится черный фимиам

гомфит.

Вот как добывается черный фимиам гомфит: из дерева исходит как бы смола, и ее снимают острым железом. Называется то дерево зигия, а по виду оно похоже на ольху. <...>

А от Макрии до города Патера верст сорок. Здесь родился святой Никола; это его отчизна и родина – Патера. А от Патеры до Мир, где гроб святого Николы, сорок верст. А от Мир до Хилидония шестьдесят верст. А от Хилидония до Кипра, великого острова, верст двести.

*(Житие и хождение игумена Даниила из Русской земли. XII в.)*

**А** - Автор «хождения» описывает местонахождение христианских святынь.

**В** - Святой Николай Мирликийский родился в городе Патера.

**С** - «Хождение» описывает путешествие игумена Даниила по великому шелковому пути.

**Д** - Путешествие игумена Даниила состоялось в I веке до н.э.

**Е** - Дерево зигия, из которого добывают черный фимиам, похоже на ель.

**Ф** - Путь Даниила лежал через Эгейское и Средиземное моря.

Правильный ответ - А, В, Ф

### **Задание 08**

**Рассмотрите иллюстрации и укажите примеры художественного творчества первобытности, которые были обнаружены на Урале.**





А - иллюстрация 1

В - иллюстрация 2

С - иллюстрация 3

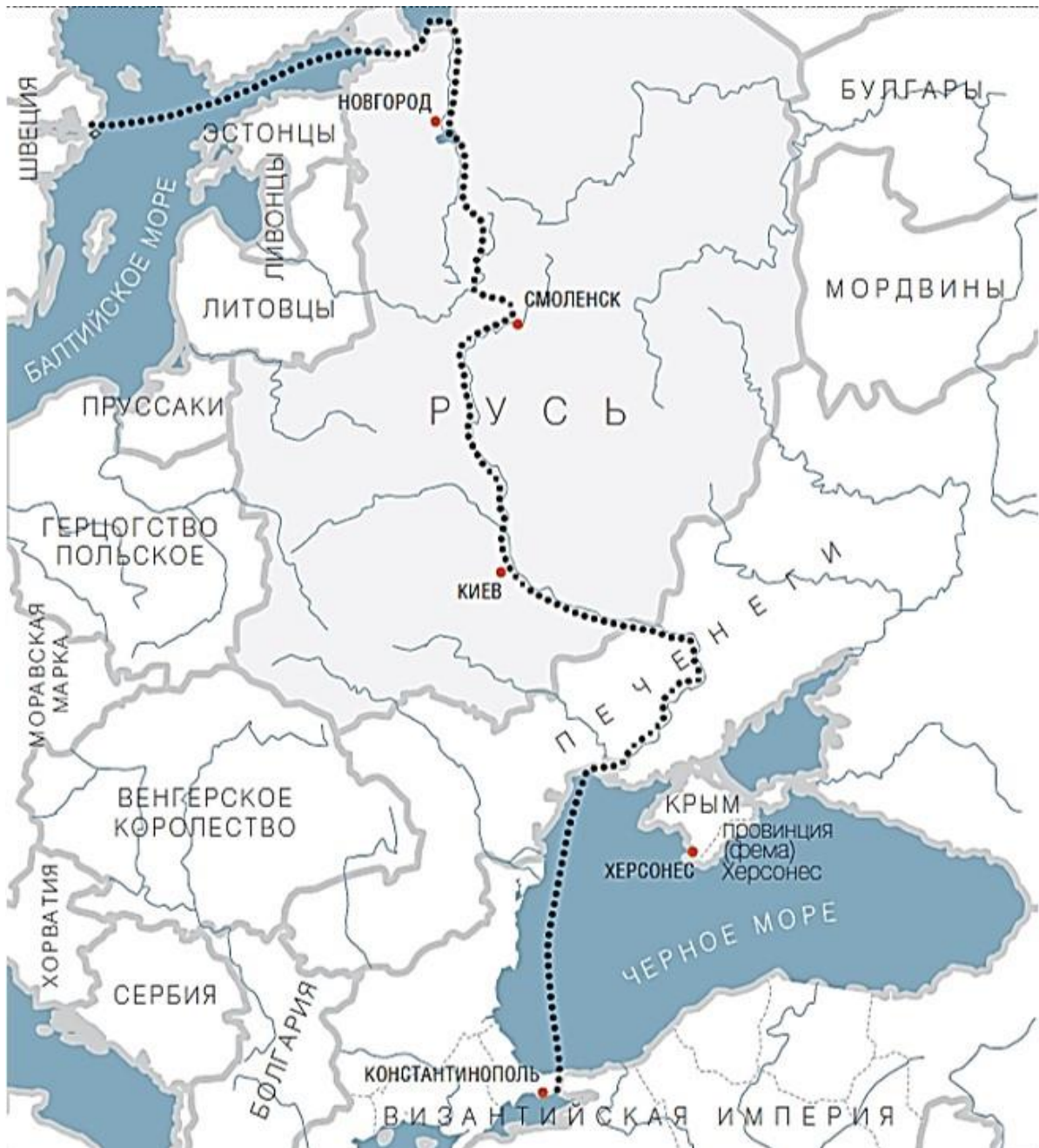
Д - иллюстрация 4

Е - иллюстрация 5

Правильный ответ - С, Е

### Задание 09

Рассмотрите карту и укажите все верные суждения.



**А** - Указанный на карте торговый путь проходил через земли Венгерского королевства.

**В** - Указанный на карте торговый путь назывался «Из варяг в греки».

**С** - Часть торгового пути принадлежала финно-угорским племенам мордвин.

**Д** - Первым крупным городом на торговом пути был Смоленск.

**Е** - Торговый путь соединял города Древней Руси с Византией.

**Ф** - Торговый путь проходил через Черное море.

Правильный ответ - В, Е, Ф

## Задание 10

**Прочитайте текст, рассмотрите иллюстрации и укажите все верные суждения.**

С утра 9 мая Букин и Бубукин прихорашивались – побрились, умылись, причесались, почистили комбинезоны, навели глянец на обуви – и запаслись баночкой краски и кисточкой. Они готовились пойти к рейхстагу.

Прошёл слух, что все, кто брал Берлин, идут к этому огромному зданию, где прежде заседало правительство фашистов, и пишут на стенах, на колоннах свои фамилии – оставляют автографы на добрую память друзьям и в назидание врагам. Говорили, что сам прославленный маршал Георгий Константинович Жуков расписался на рейхстаге.

Действительно, площадь перед рейхстагом была полна наших солдат и командиров. В разных её местах играли гармошки и аккордеоны; где плясали, где пели. А стены рейхстага и колонны были испещрены различными фамилиями. Надписи всё прибавлялись и прибавлялись. На уровне человеческого роста всё уже было заполнено ими.

- Опоздали, сказал Бубукин. – Места не осталось!

- Что ты? – засмеялся Букин. – Нам-то как раз самое лучшее оставили.

Встанька-ка покрепче. Я с твоих плеч расписываться буду.

*(Митяев А.В., «Подвиг солдата» (рассказы). 1985 г.)*



Рис. 1. Советские солдаты оставляют автографы на стенах Рейхстага. Фотограф Анатолий Морозов.



Рис. 2. Установление Знамени Победы на крыше Рейхстага. Фотограф Евгений Халдей.

**А** - Военные действия в Берлине продолжались до августа 1945 года.

**В** - Правительство фашистской Германии находилось в городе Дрездене.

**С** - Во время капитуляции гитлеровской армии Г.К. Жуков носил звание Маршала Советского Союза.

**Д** - Во время боев в Берлине здание рейхстага было полностью разрушено.

**Е** - Красная Армия завершила Великую Отечественную войну в столице Германии.

**F** - Великая Отечественная война началась в 1941 году, а завершилась в 1945 году.

Правильный ответ - С, Е, F

## Вариант 2

### Задание 01

**Укажите событие, которое произошло до нашей эры.**

**А** - битва на Куликовом поле

**В** - возникновение империи Карла Великого

**С** - строительство храма Артемиды в Эфесе

**Д** - путешествие венецианского купца Марко Поло на Дальний Восток

**Е** - открытие университета в Болонье

Правильный ответ - С

### Задание 02

*Прочитайте два текста. Подумайте, о каком государстве древнего мира в них говорится.*

**Укажите все верные суждения, относящиеся к истории этого государства.**

Для существования в «стране мёртвых» человеку нужно тело, в которое могла бы вновь вселиться его душа. Поэтому [жители этой страны] очень заботились о сохранении тела умершего. Его высушивали, пропитывали смолой и обматывали тонкими бинтами – оно превращалось в мумию. Затем мумию клали в гроб, украшенный рисунками и надписями, - саркофаг, на котором писали заклинания и изображали богов. Гробница, где стоял

саркофаг, считалась домом покойного.

*(Вигасин А.А. и др. История Древнего мира. 5 класс. 2023 г.)*

Каждый вечер, пройдя дневной путь по небу, ладья Ра подплывает к западным горам, в которых находился вход в подземный мир.

Ра торжественно переходит с дневной ладьи Манджет на ночную ладью Мескетет, и начинается плавание по подземному Нилу, протекающему в длинной и узкой долине, разделенной 12 вратами на 12 частей. Каждое подразделение ладьи Ра проплывает в определенный час ночи, и души мертвых выходят из своих гробниц, приветствуя солнце и наслаждаясь его сиянием.

Но вот приходит полночь, и приближается час страшного боя Ра с гигантским змеем Апопом. Желая воспрепятствовать дальнейшему плаванию Ра и погубить его, Апоп выпивает воду подземного Нила. Однако Ра неизменно побеждает. В конце своего путешествия ладья Ра проходит сквозь тело огромного змея в 1300 локтей длиной и через отверстия в восточных горах снова выходит на небо.

*(по Матье М.Э., Сказания о Солнце.)*

**А** - Это государство расположено в междуречье рек Инд и Ганг.

**В** - Бог солнца в мифологии жителей этого государства носил имя Сет.

**С** - Жители этой страны верили в загробный мир и особым образом готовили тело умершего к погребению.

**Д** - Согласно верованиям жителей этого государства, небо и подземный мир были похожи на основную судоходную реку страны.

**Е** - В одном из отрывков говорится о сражении сына бога Осириса с отцом.

Правильный ответ - С, Д

### **Задание 03**

**Расположите в хронологическом порядке строительство знаменитых сооружений от самого раннего к самому позднему.**

**А** - Строительство пирамиды Джосера

**В** - Строительство Мавзолея в Галикарнасе

**С** - Строительство Колосса Родосского

**Д** - Строительство Десятинной церкви в Киеве князем Владимиром Святославичем

**Е** - Строительство Успенского собора в Московском кремле

Правильный ответ - А-1 В-2 С-3 D-4 Е-5

### Задание 04

Рассмотрите предложенные изображения.



**Соотнесите изображение архитектурного объекта и название города, в котором он находится:**

**А** - Екатеринбург

**В** - Казань

**С** - Ростов Великий

**D** - Санкт-Петербург

**Е** - Москва

Правильный ответ - А-1 В-2 С-3 D-4 Е-5

### Задание 05

Рассмотрите изображения и укажите верные утверждения.



Наскальные рисунки из заповедника Шульган-Таш имеют возраст около 19,5 тысяч лет



Невьянская башня, строительство которой началось в 1722 году



Всадник на коне, отливка из серебра, описанная Ф. А. Теплоуховым в статье «Древности Пермской Чуди в виде баснословных людей и животных»



Фрагмент памятной таблички на плотине городского пруда в Екатеринбурге



Памятник мастерам-литейщикам пушек в горе Каменск-Уральский



Примечание. Границы даны на 1914 г.

**А** - Невьянская башня была построена в правление Ивана IV Грозного.

**В** - В Каповой пещере находятся росписи эпохи палеолита.

**С** - Первые заводские плотины на Среднем Урале начали строить в XIX веке.

**Д** - Пермский звериный стиль относится к эпохе бронзы.

Е - До 1917 года Екатеринбург не входил в состав Пермской губернии.

Ф - На Каменском заводе изготавливали артиллерийские орудия и боеприпасы.

Правильный ответ - В, D, F

### Задание 06

Соотнесите изображения с именами исторических деятелей.



А - Цинь Шихуан

В - Владимир Красное Солнышко

С - Карл Великий

Д - Рамсес II

Е - Александр Македонский

Правильный ответ - А-1 В-2 С-3 D-4 Е-5



## Задание 07

*Прочитайте текст.*

**Укажите все верные суждения, относящиеся к данному тексту.**

### ***О ИЕРУСАЛИМЕ, О ЛАВРЕ***

Я, недостойный игумен Даниил, придя в Иерусалим, пробыл шестнадцать месяцев на одном месте, в лавре святого Саввы, и потому смог обойти и рассмотреть все святые эти места.

А так как невозможно без хорошего проводника и без знания языка разыскать и увидеть все святые места, то я, что имел под рукой из бедного моего добыточка, все для того подавал знающим хорошо все святые места в городе и вне города, – чтобы показали мне все хорошо; как оно и было.

И помог мне Бог встретить в лавре мужа святого и старого днями, и очень книжного; <...> и он показал мне хорошо все святые те места: и в Иерусалиме, и по всей земле той поводил меня, и до Тивериадского моря проводил меня, и к Фавору, и в Назарет, и до Хеврона, и до Иордана <...>.

Святой город Иерусалим расположен в теснине, вплотную около него – высокие каменные горы. Подходя уже к самому городу, видишь сначала столп Давидов, а потом, пройдя немного, видишь Елеонскую гору, и Святая Святых, и церковь Воскресения, где находится Гроб Господен, и потом видишь весь город.

*(Житие и хождение игумена Даниила из Русской земли)*

**А** - Путешествие игумена Даниила проходило после 988 года.

**В** - Во время паломничества в Иерусалим игумен Даниил жил в местном монастыре (лавре).

**С** - В Иерусалиме игумен Даниил самостоятельно посетил все интересующие его святыни.

**Д** - Вокруг Иерусалима находится равнинная местность.

**Е** - Игумен Даниил пробыл в Иерусалиме больше года.

**Ф** - Пожилой проводник Даниила был неграмотным.

Правильный ответ - А, В, Е

## Задание 08

**Рассмотрите иллюстрации и укажите примеры артефактов, которые были обнаружены на Урале.**



А - иллюстрация 1

В - иллюстрация 2

С - иллюстрация 3

Д - иллюстрация 4

Е - иллюстрация 5

Правильный ответ - А, С

### Задание 09

Рассмотрите карту и укажите все верные суждения.



**А** - Указанный на карте торговый путь проходил через провинцию Херсонес.

**В** - Указанный на карте торговый путь существовал в те времена, когда в южных степях с древнерусскими княжествами граничили печенеги.

**С** - Данный торговый путь на территории Древней Руси проходил только по сухопутным дорогам.

**Д** - Торговый путь начинался в Швеции.

**Е** - Торговый путь соединял Древнюю Русь со столицей Византии.

**F** - Торговый путь выходил в Средиземное море.

Правильный ответ - В, D, E

## Задание 10

**Прочитайте текст, рассмотрите иллюстрации и укажите из списка все верные суждения.**

Нет на свете дружбы крепче, чем фронтовая. <...>

Дружбу Букина и Бубукина фашисты проверяли и в столице фашистской Германии — Берлине. Чтобы скорее кончилась война, надо было скорее взять этот город.

В штурме Берлина участвовали пехотинцы и артиллеристы, сапёры и лётчики, связисты и миномётчики, и, конечно, танкисты.

Танку трудно воевать на городских улицах <...> в городе, среди каменных построек, танк словно среди крепостей.

Опасно каждое окно, опасны чердаки и подвалы — отовсюду фашисты могут выстрелить фаустпатроном. Фаустпатрон, в переводе с немецкого, — кулак-патрон. Этот сильный снаряд летел недалеко, метров на сто, но взрывался так мощно, что мог уничтожить танк со всем экипажем.

*(Митяев А.В., «Подвиг солдата» (рассказы). 1985 г.)*



Рис. 1. Танк с защитными сетками от фаустпатронов на улицах Берлина.



Рис. 2. Советские пехотинцы и танкисты 3-й гвардейской танковой армии согласовывают действия во время боя в предместье Берлина.

**А** - Столицей фашистской Германии был город Кенигсберг.

**В** - Танковые войска имеют особое преимущество во время боев на городских улицах.

**С** - В завершении Великой Отечественной войны велись бои за взятие Берлина.

**Д** - В штурме Берлина участвовали только танковые войска.

**Е** - Чтобы уберечь броню танка от фаустпатронов советские танкисты использовали защитные экраны.

**Ф** - Во время штурма Берлина танкисты взаимодействовали с пехотинцами.

Правильный ответ - С, Е, Ф