

## 9 класс

### Задание 01

Укажите, на сколько градусов Земля поворачивается вокруг своей оси за 3 часа.

А - 10

В - 20

С - 25

Д - 40

Е - 45

Правильный ответ - Е

### Задание 02

Маршрут предстоящего вам похода на карте масштаба 1:50000 изображен линией длиной 18 см. За какое время вы сможете его пройти, если будете двигаться со скоростью 3 км в час?

А - 1 час

В - 2 часа

С - 3 часа

Д - 4 часа

Е - 5 часов

Правильный ответ - С

### Задание 03

Установите последовательность этапов развития географических знаний о Земле.

А - Вычислены размеры Земли и составлена первая карта.

В - Эрик Рыжий открыл Гренландию и основал поселения на южном побережье этого острова.

**С** - Путешествие Афанасия Никитина в Индию.

**Д** - Христофор Колумб открыл морской путь к берегам Америки.

**Е** - Первое кругосветное плавание Фернана Магеллана.

**Ф** - Открытие Антарктиды русскими мореплавателями Ф.Ф.Беллинсгаузенем и М.П.Лазаревым.

Правильный ответ - А-1 В-2 С-3 D-4 Е-5 F-6

#### **Задание 04**

**Расположите формы рельефа по мере увеличения их возраста (от самого молодого до самого древнего).**

**А** - Срединный хребет

**В** - Верхоянский хребет

**С** - Уральские горы

**Д** - Восточный Саян

**Е** - Русская равнина

Правильный ответ - А-1 В-2 С-3 D-4 Е-5

#### **Задание 05**

**Установите соответствие между памятниками природы, расположенных на территории Свердловской области, и их названием.**

**А**



**Б**



**В**



**Г**



**Д**



**Е**



1. А
2. Б
3. В
4. Г
5. Д
6. Е

**А** - Чёртово городище

**В** - Горный массив «Серебрянский крест»

**С** - Смоленская пещера

**Д** - Тальков Камень

**Е** - Азов-гора

**Ф** - Озеро Песчаное

Правильный ответ - А-1 В-2 С-3 Д-4 Е-5 Ф-6

### **Задание 06**

**Укажите, эндемиком какого материка является окапи.**

**А** - Евразия

**В** - Африка

С - Южная Америка

Д - Австралия

Е - Северная Америка

Правильный ответ - В

### **Задание 07**

**Укажите высказывание, в котором содержится информация о паводке.**

А - Буря отличается высокой водностью: средний годовой расход воды ее равен 890 м<sup>3</sup> /сек.

В - Обильные осадки привели к подъему воды в малых реках Челябинской области. В Карабашском городском округе резко прибыла вода в реке Большой Киалим.

С - В нижнем течении Зея выходит на равнину, ее долина расширяется, а русло делится на многочисленные рукава.

Д - Свердловская область обладает значительными ресурсами поверхностных и подземных вод. Здесь много рек длиной свыше 10 км.

Правильный ответ - В

### **Задание 08**

**Укажите территорию, где будет наблюдаться наибольшее значение годовой амплитуды температур.**

А - Сихотэ-Алинь

В - Пермский край

С - Окско-Донская равнина

Д - Плато Путорана

Е - Побережье Балтийского моря

Правильный ответ - Д

### **Задание 09**

**Укажите верное утверждение.**

**А** - Нагревание поверхности приводит к понижению атмосферного давления.

**В** - Сила Кориолиса отклоняет все движущиеся объекты в Южном полушарии вправо.

**С** - В облаках вода находится в газообразном состоянии.

**Д** - Циклоны в Северном полушарии закручиваются по часовой стрелке.

**Е** - На планете 3 океана.

Правильный ответ - А

### **Задание 10**

Собираясь в отпуск, Николай Иванович разрабатывал свой маршрут с учетом следующих требований: он хотел посетить страны, граничащие с Россией, это должен быть или отдых на теплом море в зоне влажных субтропиков, или знакомство со страной с мусульманскими традициями, памятниками архитектуры, как древнего периода, так и современного времени.

**Укажите страны, подходящие для отпуска Николая Ивановича.**

**А** - Южная Осетия

**В** - Армения

**С** - Абхазия

**Д** - Азербайджан

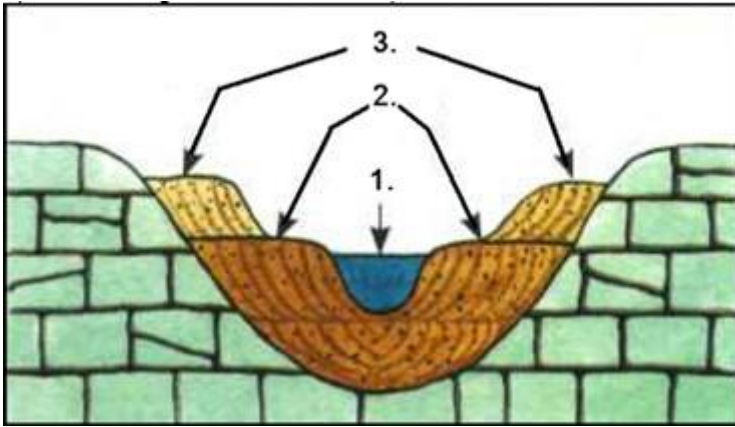
**Е** - Турция

Правильный ответ - С, D

### **Задание 11**

На рисунке перед вами – поперечный профиль речной долины.

**Укажите, какой элемент долины обозначен цифрой 1.**



А - Пойма

В - Водораздел

С - Русло

Д - Терраса

Е - Склон долины

Правильный ответ - С

### Задание 12

Одним из действенных способов рационального природопользования в зоне степей является посадка поперечных лесополос.

**Укажите, для защиты от чего они создаются.**

А - Избыточной солнечной радиации

В - Сильных снегопадов

С - Ветровой эрозии почв

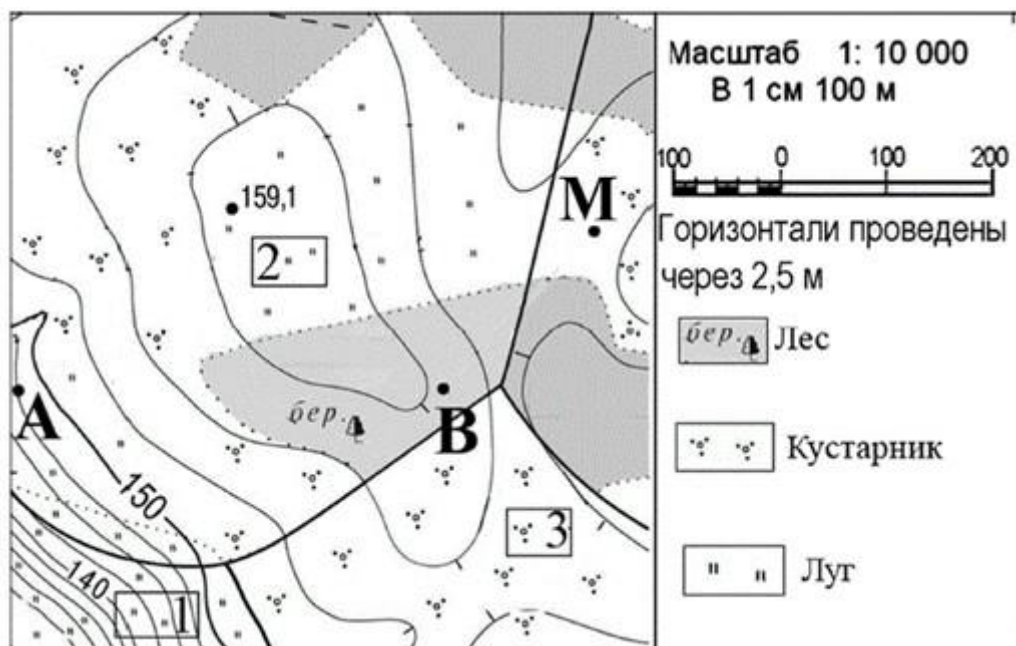
Д - Биологических вредителей

Е - Водной эрозии

Правильный ответ - С, Е

### Задание 13

Рассмотрите карту и укажите верные утверждения.



**А** - Азимут от точки В к точке А составляет  $270^\circ$ .

**В** - Высота точки А - 147,5 метров.

**С** - На местности находится смешанный лес.


**Д** - На востоке участка местность имеет меньшие перепады высот, чем на юго-западе.

**Е** - Склоны холма покрыты только луговой растительностью.

Правильный ответ - А, В, Д

### Задание 14

Укажите изображения, отображающие последствия нерационального природопользования.



A - A

B - Б

C - В

D - Г

E - Д

F - E

Правильный ответ - В, D



## Задание 15

Установите соответствие между субъектами Российской Федерации и их контурами.

**А**



**Б**



**В**



**Г**



**Д**



**Е**



1. А
2. Б
3. В
4. Г
5. Д
6. Е

**А** - Челябинская область

**В** - Ямало-ненецкий автономный округ

**С** - Республика Крым

**Д** - Свердловская область

**Е** - Камчатский край

**Г** - Красноярский край

Правильный ответ - А-1 В-2 С-3 D-4 Е-5 F-6

### **Задание 16**

**Установите соответствие между субъектом РФ и его административным центром.**

1. Йошкар-Ола
2. Сыктывкар
3. Благовещенск
4. Гатчина

**А** - Республика Марий Эл

**В** - Республика Коми

**С** - Амурская область

**Д** - Ленинградская область

Правильный ответ - А-1 В-2 С-3 D-4

### **Задание 17**

**Установите соответствие между путешественником и его вкладом в географическую науку.**

1. В. В. Атласов
2. Г. И. Невельской
3. И. Ю. Москвитин
4. С. И. Челюскин
5. С. И. Дежнёв

**А** - Поход по Камчатке

**В** - Освоение земель о. Сахалин

**С** - Выход к Тихому океану

**Д** - Открыл крайнюю материковую точку Евразии

**Е** - Исследователь Северной и Восточной Сибири, первым прошёл проливом между Северной Америкой и Евразией

Правильный ответ - А-1 В-2 С-3 D-4 Е-5

### **Задание 18**

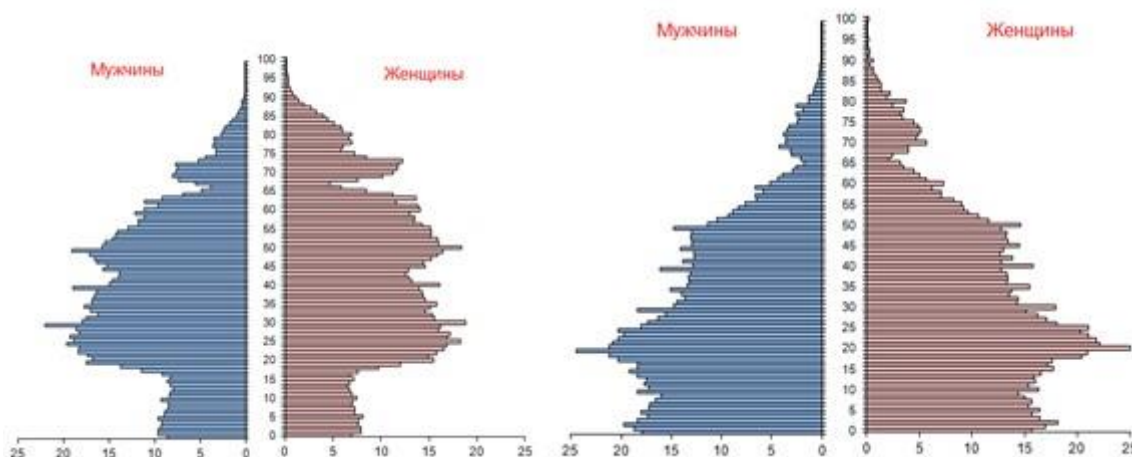
**"Рассчитайте естественный прирост/убыль в населенном пункте X, если известно, что общий прирост населения за год в пункте X составляет -3112 человек, в течении года в населенный пункт въехало 145 человек, выехало 311 человек.**

***Полученное число впишите в поле для ответа.***

Правильный ответ - -2946

### **Задание 19**

**Рассмотрите две половозрастные пирамиды. Укажите, к каким двум субъектам Российской Федерации они относятся.**



**А - Москва и республика Дагестан**

**В - Москва и Санкт-Петербург**

**С - Республика Дагестан и республика Ингушетия**

**Д - Псковская область и Свердловская область**

**Е - Краснодарский край и Ростовская область**

Правильный ответ - А

### **Задание 20**

**Соотнесите народ, проживающий на территории России и традиционное занятие народа.**

**А**



**Б**



**В**



**Г**



**Д**



1. А
2. Б
3. В
4. Г
5. Д

**А** - Кубачинцы

**В** - Калмыки

**С** - Чуваши

**Д** - Карелы

**Е** - Ханты

Правильный ответ - А-1 В-2 С-3 Д-4 Е-5

### **Задание 21**

Определите отрасль промышленности по ее характеристике. **Название отрасли впишите в поле для ответа.**

«Данная промышленность является одной из основных отраслей современной мировой экономики, она преобразует сырье в более чем 70000 видов различных продуктов. Использует разнообразные виды сырья: от

углеводородов до воздуха. Является одним из самых быстро развивающихся направлений в экономике России в последние годы, с темпом ежегодного роста в 5-7 %. Является отраслью специализации Уральского экономического района».

Правильный ответ - ХИМИЧЕСКАЯ

### Задание 22

Одним из крупных производителей вооружения в России является ПАО «Мотовилихинские заводы», располагающееся в Перми.

**Укажите, какие два фактора стали решающими при размещении данного предприятия в Пермском крае.**

А - Экологический

В - Сырьевой

С - Потребительский

Д - Военно-стратегический

Е - Топливный

Правильный ответ - В, D

### Задание 23

**Укажите, схема какого объекта топливно-энергетического комплекса показана на рисунке.**



А - ТЭЦ

В - АЭС

C - ГЭС

D - ГеоТЭС

E - ПЭС

Правильный ответ - B

#### Задание 24

**Впишите в поле для ответа название города Свердловской области.**

«Город входит в пятерку крупных городов Свердловской области. Расположен в пределах Уфалейского горного хребта. Хозяйственной специализацией города является производство труб, огнеупоров, соединений хрома, стройматериалов, сварочного оборудования».

Правильный ответ - Первоуральск

#### Задание 25

Рассмотрите таблицу, в которой представлены страны и один из показателей, их характеризующий.

**Укажите, какому показателю соответствуют данные цифры.**

Афганистан	182
Кипр	29
Норвегия	2
Российская Федерация	56
Казахстан	67

A - Добыча железной руды (млн. тонн)

B - Сбор хлопка-сырца (в млн. тонн)

C - Количество потребленной электроэнергии (кВт/час в год)

D - Индекс человеческого развития (место)

E - Затраты на науку (млрд.долл.)

Правильный ответ - D