

## 7-8 класс

### Вариант 1

#### Задание 01

**Укажите понятие, которое является обобщающим для всех остальных понятий представленного ниже ряда.**

**А** - Дисциплинарная ответственность.

**В** - Административная ответственность.

**С** - Юридическая ответственность

**Д** - Гражданско-правовая ответственность

**Е** - Уголовная ответственность

Правильный ответ - С

#### Задание 02

**Укажите лишнее понятие из предложенного ряда.**

**А** - Совесть

**В** - Долг

**С** - Гуманизм

**Д** - Искусство

**Е** - Достоинство

Правильный ответ - Д

#### Задание 03

*Решите логическую задачу.*

**Укажите графический образ, который подходит для отражения соотношения между понятиями, где:**

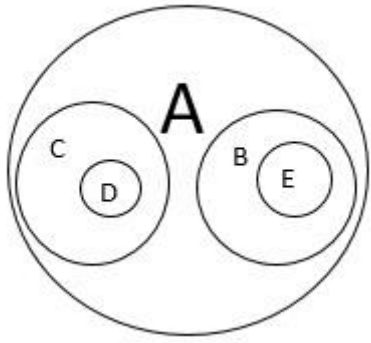
**А)** правонарушения

**В)** преступления

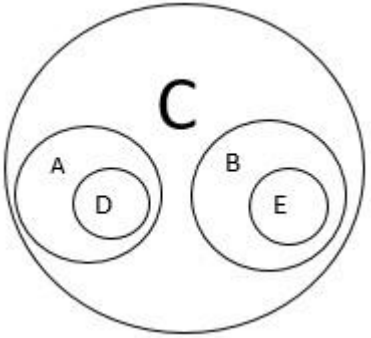
**С)** проступки

**Д)** нарушение правил пожарной безопасности

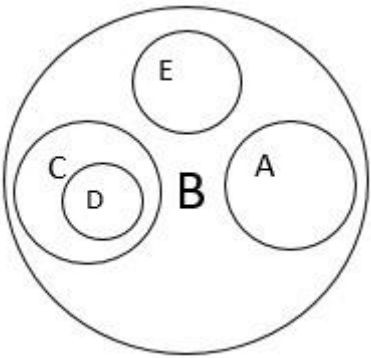
**Е)** грабеж



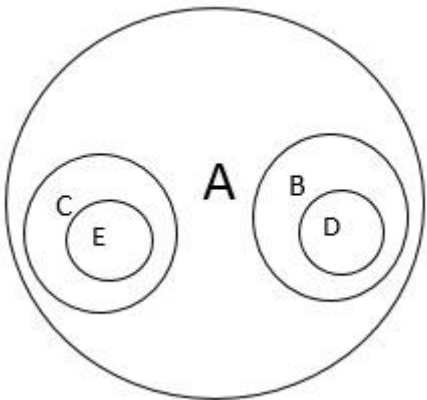
**A -**



**B -**



**C -**



**D -**

Правильный ответ - A

## Задание 04

*Ниже приведены четыре изображения, которые можно использовать для иллюстрации различных социальных норм.*

**Какими из приведенных изображений можно проиллюстрировать в первую очередь неформальные социальные нормы?**

**А**



**Б**



**В**



**Г**



А - АВВ

В - АВГ

С - АВГ

D - БВГ

Правильный ответ - D

### Задание 05

*Ниже приведены четыре изображения, которые можно использовать для иллюстрации различных социальных норм.*

Укажите верное суждение.

**А**



**Б**



**В**



**Г**



**А** - Традиции и обычаи служат объединению людей и не могут служить поводом для конфликтов.

**В** - Все приведенные изображения могут служить для иллюстрации социальных норм одной страны.

**С** - Религиозные нормы и народные традиции регулируют совершенно разные сферы жизни человека, и религиозные нормы не могут становиться народными обычаями.

**Д** - Все представленные на изображениях социальные нормы регулируются законами.

Правильный ответ - В

### **Задание 06**

*Ниже приведены четыре изображения, которые можно использовать для иллюстрации различных социальных норм.*

**Укажите верное суждение.**

**А**



**Б**



**В**



**Г**



**А** - Ряд представленных изображений можно использовать для иллюстрации традиций и обычаев, встречающихся в Западной Европе.

**В** - Все представленные на изображениях социальные нормы появились в глубокой древности, много столетий назад.

**С** - Традиции и обычаи, представленные на изображениях, с момента появления до наших дней оставались неизменными.

**Д** - Социальная норма, изображенная под буквой Б, носит запретительный характер.

Правильный ответ - А

### Задание 07

Ниже приведены четыре изображения, которые можно использовать для иллюстрации различных социальных норм.

Укажите верное суждение.

**А**



**Б**



**В**



**Г**



А - Все социальные нормы, которые можно проиллюстрировать представленными изображениями, носят предписывающий характер.

**В** - Все социальные нормы, которые можно проиллюстрировать представленными изображениями, универсальны и существуют в любом обществе.

**С** - Социальные нормы, которые можно проиллюстрировать изображением под буквой Г, устанавливаются государством.

**Д** - Социальные нормы, которые можно проиллюстрировать изображением под буквой А, включают в себя личные и культурные права.

Правильный ответ - Д

### **Задание 08**

Пункт 1 статьи 6 Семейного кодекса РФ гласит: «Если международным договором Российской Федерации установлены иные правила, чем те, которые предусмотрены семейным законодательством, применяются правила международного договора».

**Примером какой нормы является это положение?**

**А** - Декларативной

**В** - Оперативной

**С** - Коллизионной

**Д** - Регулятивной

Правильный ответ - С

### **Задание 09**

**Установите соответствие между приведенными ситуациями и их юридическим значением.**

1. Условия заключения брака
2. Препятствия для заключения брака
3. Обстоятельства, не имеющие юридического значения
4. Обстоятельства, при наличии которых супруг вправе требовать признания брака недействительным

**А** - Никита Васнецов достиг возраста 18 лет.

**В** - Елена и Петр, являясь усыновителем и усыновленной, выразили абсолютно честное, добровольное и взаимное согласие вступить в брак и быть вместе, пока смерть не разлучит их.



**С** - Валентин Мухленков проживает вместе со своей возлюбленной Анной Кудряшкиной (Анна периодически обижается на Валентина, так как он не решается ей сделать предложение на протяжении уже 5 лет).

**Д** - Иван Ухмылкин, получив положительные результаты медицинского обследования на ВИЧ, в эмоциональном порыве и состоянии саморефлексии решил не говорить об этом своей будущей супруге Екатерине (свадьба и регистрация брака фактически в органах ЗАГСа состоялась через несколько месяцев).

Правильный ответ - А-1 В-2 С-3 D-4

### **Задание 10**

Судья районного суда Храбрецов при рассмотрении гражданского дела о признании права собственности и вынесении решения сослался в мотивировочной части судебного решения на нормы Конституции России. В дальнейшем Кирилл Книжкин, являясь проигравшей стороной, подал апелляционную жалобу на вышеуказанное решение, указав, что при вынесении решения судья должен был сослаться на Гражданский кодекс РФ, а не на Конституцию.

**Мог ли судья Храбрецов сослаться на Конституцию Российской Федерации в судебном решении?**

**А** - Судья Храбрецов не мог сослаться на Конституцию России, поскольку российский суд, являясь самым честным и гуманным судом в мире, обязан сослаться только на федеральные законы и кодексы, так как в них содержится конкретная и детальная информация, а не общие фразы.

**В** - Судья Храбрецов мог сослаться на Конституцию России, поскольку положения, к которым обращался судья, не требуют дополнительной законодательной регламентации.

**С** - Судья Храбрецов не мог сослаться на Конституцию России, поскольку статья, которую он применил при разрешении дела, является декларативной.

**Д** - Судья Храбрецов мог сослаться на Конституцию России, поскольку положения, к которым обращался Храбрецов, находятся в главах 1, 2 и 9 Конституции.

Правильный ответ - В

## Задание 11

### Какие социальные явления описаны в приведенном отрывке?

«Мой дорогой, когда ты вырастешь, вспомнишь ли ты, как однажды зимним вечером ты вышел из детской в столовую, остановился на пороге, - это было после одной из наших ссор с тобой, - и, опустив глаза, сделал такое грустное личико?»

Но это была слишком крупная ссора.

Помнишь ли, что в этот вечер ты даже не решился близко подойти ко мне? - Покойной ночи, дядечка, - тихо сказал ты мне и, поклонившись, шаркнул ножкой.

Конечно, ты хотел, после всех своих преступлений, показаться особенно деликатным, особенно приличным и кротким мальчиком. Нянька, передавая тебе единственный известный ей признак благовоспитанности, когда-то учила тебя: «Шаркни ножкой!» И вот ты, чтобы задобрить меня, вспомнил, что у тебя есть в запасе хорошие манеры. И я понял это - и поспешил ответить так, как будто между нами ничего не произошло, но все-таки очень сдержанно:

- Покойной ночи.

Но мог ли ты удовлетвориться таким миром? Да и лукавить ты не горазд еще.

Перестрадав свое горе, твое сердце с новой страстью вернулось к той заветной мечте, которая так пленяла тебя весь этот день. И вечером, как только эта мечта опять овладела тобою, ты забыл и свою обиду, и свое самолюбие, и свое твердое решение всю жизнь ненавидеть меня. Ты помолчал, собрал силы и вдруг, торопясь и волнуясь, сказал мне: - Дядечка, прости меня... Я больше не буду... И, пожалуйста, все-таки покажи мне цифры! Пожалуйста! Можно ли было после этого медлить ответом? А я все-таки помедлил. Я, видишь ли, очень, очень умный дядя...».

*Бунин И.А. Цифры*

**А** - Социальный конфликт, социальная норма, социальные статусы.

**В** - Социальный конфликт, социальная мобильность, социальный статус.

**С** - Социальный статус, социальная норма, социальная мобильность.

**Д** - Социальная стратификация, социальная мобильность, социальная норма.

Правильный ответ - А

## Задание 12

### Какие формы социального взаимодействия представлены в отношениях между взрослыми и ребенком в данном тексте?

«Мой дорогой, когда ты вырастешь, вспомнишь ли ты, как однажды зимним вечером ты вышел из детской в столовую, остановился на пороге, - это было после одной из наших ссор с тобой, - и, опустив глаза, сделал такое грустное личико?»

Но это была слишком крупная ссора.

Помнишь ли, что в этот вечер ты даже не решился близко подойти ко мне?

- Покойной ночи, дядечка, - тихо сказал ты мне и, поклонившись, шаркнул ножкой.

Конечно, ты хотел, после всех своих преступлений, показаться особенно деликатным, особенно приличным и кротким мальчиком. Нянька, передавая тебе единственный известный ей признак благовоспитанности, когда-то учила тебя: «Шаркни ножкой!» И вот ты, чтобы задобрить меня, вспомнил, что у тебя есть в запасе хорошие манеры. И я понял это - и поспешил ответить так, как будто между нами ничего не произошло, но все-таки очень сдержанно:

- Покойной ночи.

Но мог ли ты удовлетвориться таким миром? Да и лукавить ты не горазд еще.

Перестрадав свое горе, твое сердце с новой страстью вернулось к той заветной мечте, которая так пленяла тебя весь этот день. И вечером, как только эта мечта опять овладела тобою, ты забыл и свою обиду, и свое самолюбие, и свое твердое решение всю жизнь ненавидеть меня. Ты помолчал, собрал силы и вдруг, торопясь и волнуясь, сказал мне:

- Дядечка, прости меня... Я больше не буду... И, пожалуйста, все-таки покажи мне цифры! Пожалуйста! Можно ли было после этого медлить ответом? А я все-таки помедлил. Я, видишь ли, очень, очень умный дядя...».

*Бунин И.А. Цифры*

**А** - Воспитание, обучение, игра

**В** - Воспитание, труд, общение

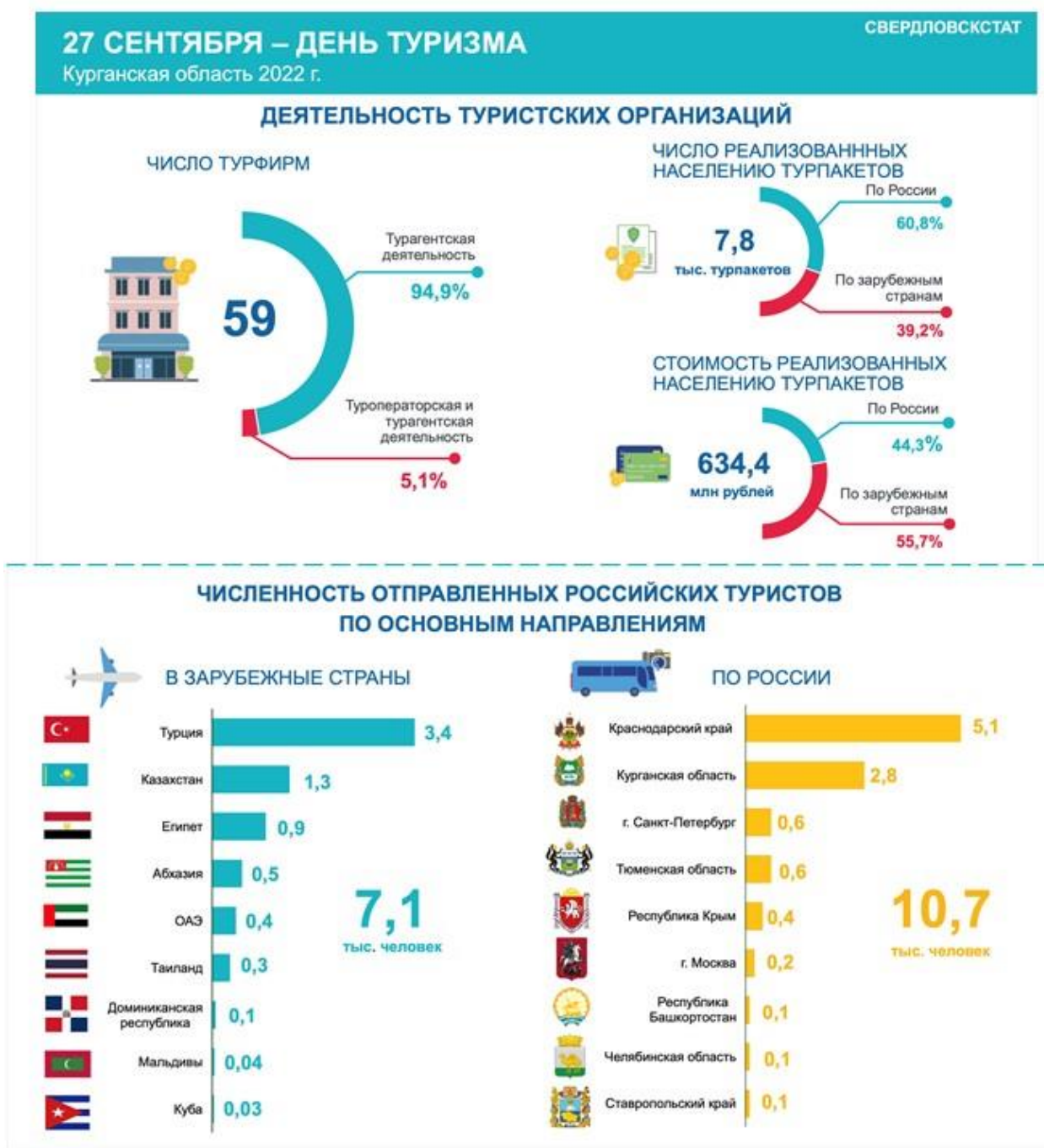
**С** - Труд, общение, обучение

**Д** - Воспитание, общение, обучение

Правильный ответ - Д

## Задание 13

Ниже представлена инфографика. Изучите ее и выполните задание. Укажите верные суждения.



**А** - Около трети туристов Курганской области, выбравших Россию в качестве туристического направления, посетили регионы Уральского федерального округа.

**В** - Средняя стоимость турпакета за границу была ниже, чем стоимость турпакета по России.

**С** - Примерно пятая часть туристов в качестве направления поездки выбрали арабские страны.

**Д** - Страна СНГ вошла в Топ-5 стран, наиболее популярных среди туристов.

**Е** - Лишь треть туристов в качестве направления поездки выбрала зарубежные страны.

Правильный ответ - А, Д

#### **Задание 14**

*Ниже представлена инфографика. Изучите ее и выполните задание.*

**Какова была средняя стоимость путевки по России в 2022 году для жителя Курганской области (ответ округлите до целого числа и укажите соответствующий вариант ответа)?**

ДЕЯТЕЛЬНОСТЬ ТУРИСТСКИИ ОРГАНИЗАЦИИ

ЧИСЛО ТУРФИРМ



ЧИСЛО РЕАЛИЗОВАННЫХ НАСЕЛЕНИЮ ТУРПАКЕТОВ



СТОИМОСТЬ РЕАЛИЗОВАННЫХ НАСЕЛЕНИЮ ТУРПАКЕТОВ



ЧИСЛЕННОСТЬ ОТПРАВЛЕННЫХ РОССИЙСКИИ ТУРИСТОВ ПО ОСНОВНЫИ НАПРАВЛЕНИЯИ



А - 45 000 рублей

В - 50 000 рублей

С - 55 000 рублей

Д - 60 000 рублей

Правильный ответ - Д

## 7-8 класс

### Вариант 2

#### Задание 01

**Укажите понятие, которое является обобщающим для всех остальных понятий представленного ниже ряда.**

- А - Возмещение убытков
- В - Защита гражданских прав
- С - Взыскание неустойки
- Д - Компенсация морального вреда
- Е - Признание права

Правильный ответ - В

#### Задание 02

**Укажите лишнее понятие из предложенного ряда.**

- А - Нормы пунктуации
- В - Традиции
- С - Правовые нормы
- Д - Религиозные нормы
- Е - Моральные нормы

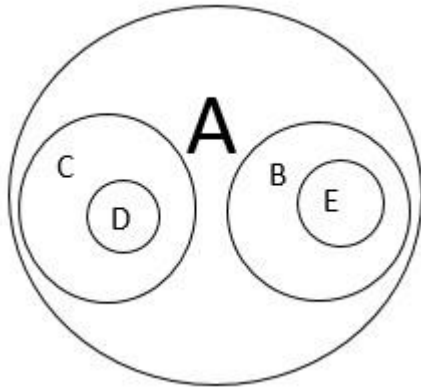
Правильный ответ - А

#### Задание 03

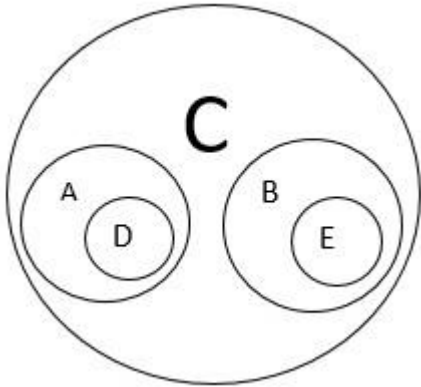
*Решите логическую задачу.*

**Укажите графический образ, который подходит для отражения соотношения между понятиями, где:**

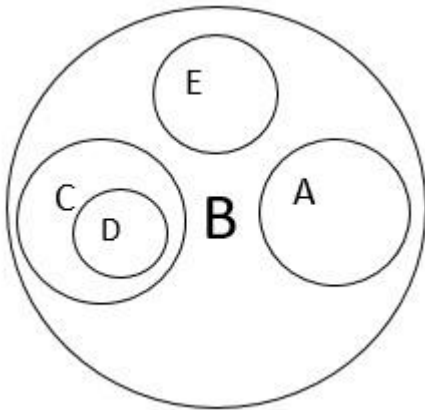
- А) юридическая ответственность
- В) дисциплинарная ответственность
- С) административная ответственность
- Д) замечание
- Е) предупреждение



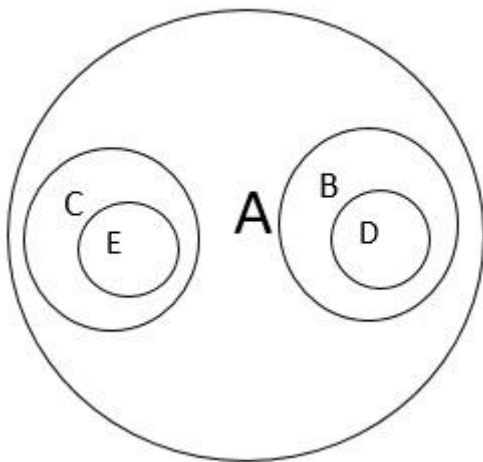
A -



B -



C -



D -



Правильный ответ - D

2024\_12\_7-8\_v2 Задание 01

Онлайн тур "


*Ниже приведены четыре изображения, которые можно использовать для иллюстрации различных потребностей.*

**Какими из приведенных изображений можно проиллюстрировать вторичные потребности, формирующиеся в процессе жизни?**

**А**



**Б**



**В**



**Г**



А - АВВ

В - АВГ

С - АВГ

Д - БВГ

Правильный ответ - А

### Задание 05

*Ниже приведены четыре изображения, которые можно использовать для иллюстрации различных потребностей.*

**Укажите верное суждение.**

**А**



**Б**



**В**



**Г**



**А** - Не существует потребностей, которые были бы общими у людей и у животных.

**В** - Потребность в общении у человека со временем снижается.

**С** - В современном мире биологические потребности человек, как правило, удовлетворяет при помощи общества.

**Д** - Удовлетворение потребностей всегда приносит пользу человеку.

Правильный ответ - С

### Задание 06


*Ниже приведены четыре изображения, которые можно использовать для иллюстрации различных потребностей.*

**Укажите верное суждение.**

**А**



**Б**



**В**



**Г**



**А** - Труд как вид деятельности всегда направлен на удовлетворение материальных потребностей.

**В** - Общение как вид деятельности всегда направлено на удовлетворение духовных потребностей.

**С** - Пока человек в полной мере не удовлетворит биологические потребности, он не может перейти к удовлетворению социальных потребностей.

**Д** - Духовные потребности, в отличие от физиологических, не являются врожденными.

Правильный ответ - Д

### **Задание 07**


*Ниже приведены четыре изображения, которые можно использовать для иллюстрации различных потребностей.*

**Выберите верное суждение.**

**А**



**Б**



**В**



**Г**



**А** - Структура деятельности включает в себя игру, труд, общение и обучение.

**В** - Творчество может быть нацелено на общественное признание, то есть выступать как социальная потребность.

**С** - Такой вид деятельности, как игра, всегда имеет целью выигрыш.

**Д** - Наслаждение природой является биологической потребностью.

Правильный ответ - В

**Задание 08**

В части первой статьи 56 Конституции России закреплена следующая формулировка: «В условиях чрезвычайного положения для обеспечения безопасности граждан и защиты конституционного строя в соответствии с федеральным конституционным законом...».

**Она является примером такого элемента нормы права, как...**

**А** - Гипотеза

**В** - Диспозиция

**С** - Санкция

**Д** - Гарантия

Правильный ответ - А

### **Задание 09**

**Установите соответствие между приведенными ситуациями и их юридическим значением.**

1. Основания для расторжения трудового договора по инициативе работодателя
2. Основания для расторжения трудового договора по инициативе работника
3. Основания прекращения трудового договора по не зависящим от воли сторон обстоятельствам
4. Основания прекращения трудового договора из-за нарушения правил его заключения

**А** - Иван Иванович, главный бухгалтер крупной строительной фирмы, рассказал своему старому другу, с которым он дружил со школьной скамьи, в каком районе будет построен новый элитный жилищный комплекс, что на момент разговора являлось коммерческой тайной.

**В** - Петр решил пройти курсы профессиональной переподготовки на программиста, так как решил, что это более актуальная профессия в современном постиндустриальном обществе, и перестал работать в кафе поваром, чтобы полностью поменять свою жизнь.

**С** - Курьер Иванов весной 2024 года был призван на военную службу, так как защита Отечества – долг и обязанность гражданина России.

**Д** - Сергей, будучи 10-классником, пользуется уважением среди друзей, так как работает барменом в местном ночном клубе «Мы за ЗОЖ» и всегда в курсе всех предстоящих концертов рок-групп.

Правильный ответ - А-1 В-2 С-3 D-4

### Задание 10

Находясь поздним вечером в продуктовом магазине «Вкусно как у бабушки», Неотдыхайкин Николай заметил, что гражданин Трухин подошел к кассиру без очереди, чтобы просто спросить о действующих акциях в магазине. Считая себя оскорбленным таким поведением, Неотдыхайкин напал на Трухина и в ходе драки совершил причинение средней тяжести вреда здоровью. Впоследствии оказалось, что Трухин занимает должность судьи районного суда города N, из-за чего у Неотдыхайкина возникло еще большее чувство стыда за свое аморальное поведение и состояние депрессии.

**Как следует предположительно квалифицировать совершенное деяние, исходя из условий задачи и норм Уголовного кодекса РФ?**

**А** - Неотдыхайкина следует привлечь к уголовной ответственности за посягательство на жизнь лица, осуществляющего правосудие.

**В** - Неотдыхайкина следует привлечь к уголовной ответственности за умышленное причинение средней тяжести вреда здоровью.

**С** - Неотдыхайкина следует привлечь к уголовной ответственности за неумышленное причинение средней тяжести вреда здоровью.

**Д** - Неотдыхайкина следует понять, простить и не привлекать к юридической ответственности, так как отсутствует состав преступления.

Правильный ответ - В

### Задание 11

**Какие социальные явления описаны в приведенном отрывке?**

«В Толубеевском депо лучшим паровозным машинистом считался Александр Васильевич Мальцев.

Ему было лет тридцать, но он уже имел квалификацию машиниста первого класса и давно водил скорые поезда. Когда в наше депо прибыл первый мощный пассажирский паровоз серии «ИС», то на эту машину назначили работать Мальцева, что было вполне разумно и правильно. Помощником у Мальцева работал пожилой человек из деповских слесарей по имени Федор Петрович Драбанов, но он вскоре выдержал экзамен на машиниста и ушел работать на другую машину, а я был, вместо Драбанова, определен работать в бригаду Мальцева помощником; до того я тоже работал помощником механика, но только на старой, маломощной машине.

Я был доволен своим назначением. Я желал поработать в бригаде первоклассного механика, чтобы научиться у него искусству вождения

тяжелых скоростных поездов.

Обычно мы работали молча; лишь изредка Александр Васильевич, не оборачиваясь в мою сторону, стучал ключом по котлу, желая, чтобы я обратил свое внимание на какой-нибудь непорядок в режиме работы машины, или подготавливая меня к резкому изменению этого режима, чтобы я был бдителен. Я всегда понимал безмолвные указания своего старшего товарища и работал с полным усердием, однако механик по-прежнему относился ко мне, равно и к смазчику-кочегару, отчужденно и постоянно проверял на стоянках пресс-масленки, затяжку болтов в дышловых узлах, опробовал буксы на ведущих осях и прочее. Если я только что осмотрел и смазал какую-либо рабочую трущуюся часть, то Мальцев вслед за мной снова ее осматривал и смазывал, точно не считая мою работу действительной.

- Я, Александр Васильевич, этот крейцкопф уже проверил, - сказал я ему однажды, когда он стал проверять эту деталь после меня.

- А я сам хочу, - улыбнувшись, ответил Мальцев.».

*Платонов А.П. В прекрасном и яростном мире*

**А** - Социальный конфликт, социальная норма, социальные статусы.

**В** - Социальный конфликт, социальная мобильность, социальный статус.

**С** - Социальный статус, социальная группа, социальная мобильность.

**Д** - Социальная стратификация, социальная мобильность, социальная норма.

Правильный ответ - С

## **Задание 12**

**Какие формы социального взаимодействия представлены в данном тексте?**

«В Толубеевском депо лучшим паровозным машинистом считался Александр Васильевич Мальцев.

Ему было лет тридцать, но он уже имел квалификацию машиниста первого класса и давно водил скорые поезда. Когда в наше депо прибыл первый мощный пассажирский паровоз серии «ИС», то на эту машину назначили работать Мальцева, что было вполне разумно и правильно. Помощником у Мальцева работал пожилой человек из деповских слесарей по имени Федор Петрович Драбанов, но он вскоре выдержал экзамен на машиниста и ушел работать на другую машину, а я был, вместо Драбанова, определен работать в бригаду Мальцева помощником; до того я тоже работал помощником механика, но только на старой, маломощной машине.

Я был доволен своим назначением. Я желал поработать в бригаде первоклассного механика, чтобы научиться у него искусству вождения



тяжелых скоростных поездов.

Обычно мы работали молча; лишь изредка Александр Васильевич, не оборачиваясь в мою сторону, стучал ключом по котлу, желая, чтобы я обратил свое внимание на какой-нибудь беспорядок в режиме работы машины, или подготавливая меня к резкому изменению этого режима, чтобы я был бдителен. Я всегда понимал безмолвные указания своего старшего товарища и работал с полным усердием, однако механик по-прежнему относился ко мне, равно и к смазчику-кочегару, отчужденно и постоянно проверял на стоянках пресс-масленки, затяжку болтов в дышловых узлах, опробовал буксы на ведущих осях и прочее. Если я только что осмотрел и смазал какую-либо рабочую трущуюся часть, то Мальцев вслед за мной снова ее осматривал и смазывал, точно не считая мою работу действительной.

- Я, Александр Васильевич, этот крейцкопф уже проверил, - сказал я ему однажды, когда он стал проверять эту деталь после меня.

- А я сам хочу, - улыбнувшись, ответил Мальцев.».

*Платонов А.П. В прекрасном и яростном мире*

**А** - Воспитание, обучение, игра

**В** - Воспитание, труд, общение

**С** - Труд, общение, обучение

**Д** - Воспитание, общение, обучение

Правильный ответ - С

## Задание 13

Ниже представлена инфографика. Изучите ее и выполните задание.  
Укажите верные суждения.



**А** - Чуть больше четверти туристов Свердловской области, выбравших Россию в качестве туристического направления, посетили Кубань.

**В** - Средняя стоимость турпакета за границу была ниже, чем стоимость турпакета по России.

**С** - Чуть больше 20% туристов, посетивших зарубежные страны, в качестве направления поездки выбрали арабские государства.

**Д** - Страна Европейского союза вошла в Топ-5 стран, наиболее популярных среди туристов.

**Е** - Только треть туристов из Свердловской области посетили зарубежные страны.

Правильный ответ - А, С

#### **Задание 14**

*Ниже представлена инфографика. Изучите ее и выполните задание.*

**Какова была средняя стоимость путевки по России в 2022 году для жителя Свердловской области (ответ округлите до целого числа и выберите соответствующий вариант ответа)?**

ДЕЯТЕЛЬНОСТЬ ТУРИСТСКИХ ОРГАНИЗАЦИЙ



ЧИСЛЕННОСТЬ ОТПРАВЛЕННЫХ РОССИЙСКИХ ТУРИСТОВ ПО ОСНОВНЫМ НАПРАВЛЕНИЯМ



А - 45 000 рублей

В - 50 000 рублей

С - 55 000 рублей

Д - 60 000 рублей

Правильный ответ - В