

**Всероссийская олимпиада школьников по географии**  
**Региональный этап**  
**2023/2024 учебного года**

**ЗАДАНИЯ**  
**ПЕРВОЙ (теоретической) и**  
**ВТОРОЙ (практической) частей**  
**для 10 – 11 классов**

ФИО участника (заполнить обязательно!)

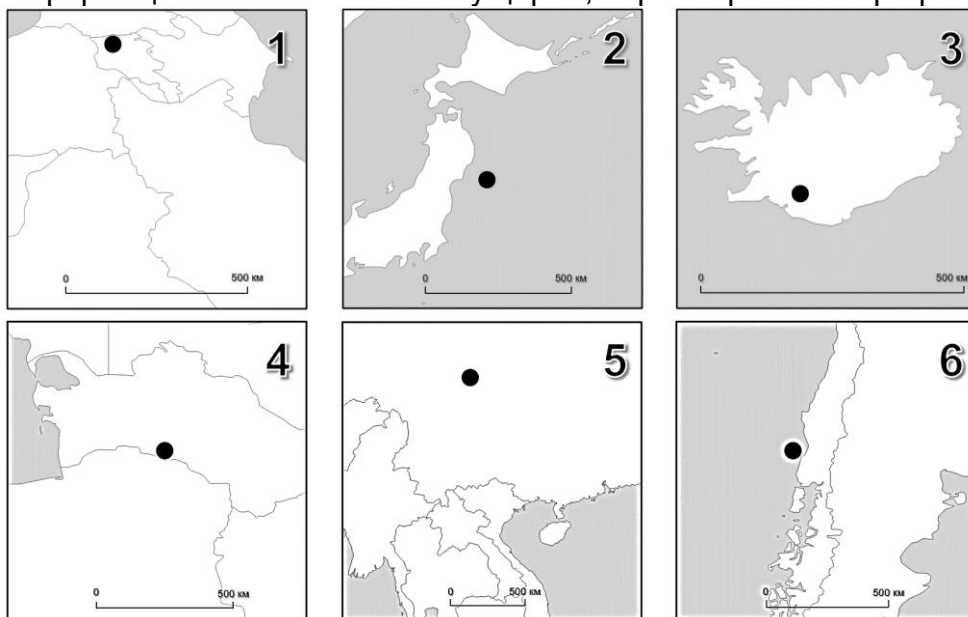
Класс (заполнить обязательно!)

**ПЕРЕД ВЫПОЛНЕНИЕМ ЗАДАНИЯ**  
**ВНИМАТЕЛЬНО ПРОЧТИТЕ ИНСТРУКЦИЮ**

- На выполнение всех трёх частей регионального этапа отводится 3 часа (180 минут).
- На выполнение заданий первой части (4 задачи теоретического тура и задания практического тура) отводится 2 часа 30 минут (150 минут).
- На выполнение заданий второй части (20 вопросов тестового тура) отводится 30 минут.
- Максимальная оценка за выполнение заданий:
  - Теоретического тура – 60 баллов (15 баллов за каждую задачу);
  - Практического тура – 20 баллов;
  - Тестового тура – 20 баллов (1 балл за каждый тестовый вопрос).
- На полях листов ответов теоретического и практического туров указаны максимальные баллы за отдельные элементы
- Для записи ответов используйте полученные вами листы заданий с полями для ответов.
- Персональные данные укажите только на титульном листе. Листы, на которых вы будете писать ответы, не подписывайте.
- Черновики не проверяются и не оцениваются.

### ЗАДАНИЯ ПЕРВОЙ (ТЕОРЕТИЧЕСКОЙ) ЧАСТИ

**Задача 1.** Современные базы данных о стихийных бедствиях содержат подробную информацию об их масштабах ущерба, параметрах и географическом положении.



Локализацию событий, вызвавших масштабные стихийные бедствия этого типа, определяют на основе постоянных наблюдений на особых станциях.

**Рисунок 1**

Назовите тип событий, отмеченных на **Рисунке 1**: \_\_\_\_\_.

Назовите прибор, регистрирующий этот тип событий: \_\_\_\_\_.

На территории или вблизи берегов каких современных государств произошли эти события? Заполните **Таблицу 1**.

**Таблица 1**

86

№ события на Рисунке 1	Государство	Год	Показатель X*	Показатель Y
1		1988	6,8	10-11
2		2011	9,1	9-10
3		1912	7,5	7-8
4		1948	7,2	9-10
5		2008	7,9	9-10
6		1960	9,5	10-11

Назовите показатели X и Y – важнейшие характеристики этого типа событий. Показатель X: \_\_\_\_\_; Показатель Y: \_\_\_\_\_.

46

Как называются точки, имеющие одинаковые координаты, в одной из которых фиксируется максимальное значение показателя X, а в другой – Y?

X: \_\_\_\_\_;

Y: \_\_\_\_\_.

Приведенные на **Рисунке 1** события связаны с тремя основными процессами, происходящими на границах геоструктур планетарного масштаба. Назовите эти процессы и распределите события по ним.

36

	Процесс	№ на Рисунке 1
1		
2		
3		

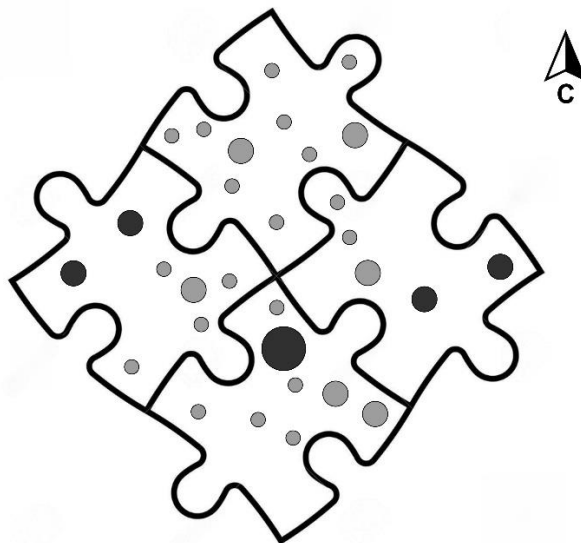
**Задача 2.** Территория условной провинции площадью в 10 тыс. км<sup>2</sup> включает четыре района: Северный, Западный, Восточный и Южный (**Рисунок 3**). На схематичную карту нанесены все населённые пункты провинции.

**Условные обозначения**

Городские населённые пункты  
Численность населения, тыс. чел.



Сельские населённые пункты  
Численность населения, тыс. чел.



**Рисунок 3**

Определите численный масштаб схематичной карты: \_\_\_\_\_.

36 Каким способом картографического изображения на карте показаны населённые пункты? \_\_\_\_\_.

Назовите районы с наиболее высокими значениями следующих характеристик расселения (размещения населения) и рассчитайте значения соответствующих показателей для этих районов, округляя до целых. Приведите ответы в **Таблице 2**. При всех расчётах площадью населённых пунктов пренебречь.

**Таблица 2**

126

Характеристика расселения	Район с максимальным значением (Северный, Западный, Восточный, Южный)	Значение показателя в районе-лидере
Общая плотность населения, чел./км <sup>2</sup>		
Плотность сельского населения, чел./км <sup>2</sup>		
Доля городского населения, %		
Густота сети населённых пунктов, нас.пунктов/1 тыс.км <sup>2</sup>		

**Задача 3.** В XX в. многие официальные названия народов, населяющих территорию России, были изменены. В **Таблице 3.1** приведены данные о численности населения пяти таких «переименованных» народов, относящихся к одной языковой группе.

Назовите эти народы, зная их прежние названия:

*вогулы, вотяки, зыряне, остяки, черемисы.*

**Таблица 3.1**

116

Народ (современное название)	Народ (устаревшее название из списка)	Численность в России 2002 г., тыс. чел.	Численность в России 2021 г., тыс. чел.
		604,3	423,8
		636,9	386,5
		293,4	143,5
		28,7	31,5
		11,4	12,2

К какой языковой группе относятся народы, указанные в таблице?

Большинство других «переименованных» в XX веке народов России относится к числу «*коренных малочисленных народов Севера, Сибири и Дальнего Востока*».

Заполните **Таблицу 3.2**: соотнесите современные названия таких народов с их устаревшими названиями:

*гиляки, енисейские остяки, енисейские самоеды, ламуты, лопари, остяки-самоеды, самоеды, тунгусы.*

**Таблица 3.2**

46

Народ (современное название)	Народ (устаревшее название из списка)	Народ (современное название)	Народ (устаревшее название из списка)
Ненцы		Селькупы	
Эвенки		Саамы	
Эвены		Кеты	
Нивхи		Энцы	

**Задача 4.** На карте (**Приложение А к Задаче 4**) выделены государства – члены важнейшей отраслевой международной организации. На эти государства приходится более трети производства профильного вида продукции и около 50% международной торговли этой продукцией.

Укажите аббревиатуру этой организации: \_\_\_\_\_ и её полное название на русском языке: \_\_\_\_\_.

Где расположена её штаб-квартира? Город: \_\_\_\_\_. Страна: \_\_\_\_\_.

46 Какая у этой организации главная цель? \_\_\_\_\_.

Механизм достижения этой цели: \_\_\_\_\_.

26 Как называется единица измерения этого профильного вида продукции? \_\_\_\_\_.

Выразите эту величину в принятой в России системе мер: \_\_\_\_\_.

Организация основана в 1960 г. пятью государствами. Определите, каким её государствам-основателям соответствуют показатели, представленные в **Таблице 4.1** (на 2022 г.). Заполните пустующие ячейки.

**Таблица 4.1**

Объём производства продукции, млн тонн	Доля от мирового производства, %	Производство продукции на душу населения, тонн/чел	Государства
573,1	13	15,7	
221,3	5	4,9	
176,5	4	2	
145,7	3,3	34,1	
37,3	0,8	1,3	

В последствии членами организации стали в некоторые государства Африки, получившие независимость в середине XX века. Заполните **Таблицу 4.2**.

**Таблица 4.2**

Государство, от которого получили независимость	Африканские государства – члены организации
Франция	
Великобритания и Франция	
Великобритания	
Испания	

Ещё одно государство, имеющее членство в организации, стало независимым в 1971 г. По форме государственного устройства это федерация, а по форме правления – монархия. Напишите полное название государства: \_\_\_\_\_.

### ЗАДАНИЕ ВТОРОЙ (ПРАКТИЧЕСКОЙ) ЧАСТИ

Перед вами учебная топографическая карта (Приложение Б, состояние местности вымышленное). Ответьте на вопросы и выполните задания.

26 | 1. К территории какого субъекта РФ геодезически привязана карта?  
\_\_\_\_\_

26 | 2. Масштаб карты: \_\_\_\_\_. Высота сечения рельефа: \_\_\_\_\_.

16 | 3. Каково общее направление течения реки Андога в пределах карты?  
С \_\_\_\_\_ на \_\_\_\_\_.

26 | 4. Какой уклон имеет река на участке в пределах карты? Приведите расчеты.  
Поле для расчётов:  
\_\_\_\_\_

Ответ \_\_\_\_\_‰.

26 | 5. В ходе промеров выяснилось, что русло Андоги имеет V-образный поперечный профиль. Рассчитайте расход воды в реке (приведите расчеты), укажите единицы измерения.  
Поле для расчётов:  
\_\_\_\_\_

Ответ \_\_\_\_\_.


16 | 6. Откуда взялась и как пополняется вода в пруду за земляной плотиной в селе Сидорово? \_\_\_\_\_.

26 | 7. По деталям на карте определите механический состав грунтов в районе елового леса в селе Сидорово. \_\_\_\_\_.

16 | 8. Каков перепад высот в пределах карты (округлите до целого числа)? \_\_\_\_\_ м.

16 | 9. Во время вёрстки карты в типографии при изображении обрывистых берегов реки Андоги была допущена ошибка. Где она и в чём она состоит? \_\_\_\_\_  
\_\_\_\_\_  
\_\_\_\_\_.

16 | 10. На Новый год жители села Сидорово ставили в посёлке натуральную ёлку. Для этого в лесу у земляной плотины срубили среднее по размерам дерево. Подставка с отверстием какого диаметра понадобилась для установки этой ёлки? \_\_\_\_\_ см.

11. Зная, что валовый сбор яблок в фермерском хозяйстве Беличи ежегодно составляет около 55 тонн, определите, какой единственный сорт яблонь из приведённых в таблице там культивируется. Приведите расчеты. Свой выбор отметьте значком  в последнем столбце таблицы.

36

№	Сорт	Среднегодовая урожайность, ц/га	Значок
1	Чемпион	450	
2	Белорусское сладкое	170	
3	Ред Делишес	400	
4	Мельба	90	
5	Макинтош	150	

Поле для расчётов:

26

12. Оцените общую численность населения в пределах изображенной на карте территории зная, что средний размер домохозяйства в России – 2,6 человека.

Ответ: \_\_\_\_\_ человек.