

**Задания второго тура регионального этапа
Всероссийской олимпиады школьников по обществознанию 2024 г.
9 класс
Время выполнения заданий второго тура — 150 минут**

1. «Да» или «нет»? Если вы согласны с утверждением, напишите «да», если не согласны — «нет». Внесите свои ответы в таблицу.

1.1. Политическая власть осуществляется только государственными институтами.

1.2. Олигополия относится к рынкам с ослабленной конкуренцией.

1.3. Вторичная группа — это группа, в которой связь поддерживается личными контактами.

1.4. Онтология — это философское учение о познаваемости мира рациональными средствами.

1.5. Несоблюдение простой письменной формы сделки всегда влечет ее недействительность.

2. Ниже приведен ряд понятий, одно из которых лишнее. **Выпишите его. Объясните, почему оно является исключением, и укажите основание, которое позволит объединить остальные понятия.**

Голосование, иммиграция, массовая манифестация, обращение с инициативой к главе местных органов власти.

3. «Фамилия ребенка».

У Виктории Квакиной и Сергея Лягушкина родился сын. На семейном совете было принято решение, что мальчика назовут Иван, а фамилия будет записана как у матери — Квакин. При регистрации рождения ребенка должностным лицом органа ЗАГС было отказано в присвоении ребенку фамилии матери, по причине того, что детям присваивается только фамилия отца.

3.1. Правомерен ли отказ должностного лица органа ЗАГС?

3.2. Какие фамилии могли быть присвоены ребенку? Назовите все возможные варианты.

4. «Книги XIX века».

Николай шел по улице и увидел сверток, внутри свертка оказались книги, датированные XIX веком. «Клад» подумал Николай и взял сверток.

4.1. Объясните Николаю, почему данный сверток не является кладом. Приведите развернутое объяснение.

4.2. Как называется действие Николая, если его охарактеризовать как юридический факт?

**Второй тур регионального этапа
Всероссийской олимпиады школьников по обществознанию 2024 г.
9 КЛАСС**

5. «Год к году».

Информация о результатах финансово-хозяйственной деятельности предприятия представлена в таблице:

А Показатель	В 2022 год	С 2023 год
Выручка от продаж, тыс. руб.	60 000	84 000
Себестоимость проданной продукции, тыс. руб.	30 000	40 000
Коммерческие и управленческие расходы	15 000	20 000

5.1. Заполните последнюю строку таблицы. Для этого:

- 1) Определите результативный показатель и впишите его в таблицу.**
 - 2) Рассчитайте значение указанного показателя для 2022 и 2023 года.**
- Обязательно приведите решение.**

5.2. Насколько (в %) изменилось значение указанного Вами показателя в 2023 году по сравнению с 2022 годом. Приведите решение.

6. «Цена и спрос».

Равновесная цена продукции (P) равна 40, а равновесный объём (Q) равен 50. Известно, что на данном рынке выполняется закон спроса — иначе говоря, с ростом цены продукции величина спроса на нее убывает.

Какая из нижеперечисленных функций может описывать спрос на данном рынке? Свой ответ обоснуйте. Обоснование должно быть развернутым и математически обоснованным.

- 1) $Q = 10 + P$
- 2) $Q = -10 + P$
- 3) $Q = 140 - 2P$
- 4) $Q = 130 - 2P$

7. Прочтите текст и выполните задание к нему.

В политическом процессе две составляющие: с одной стороны, приверженность традиции, с другой — неустанная изобретательность и приспособление к изменениям. В политике, как и в жизни, непривычные нововведения сначала оспариваются, затем постепенно осваиваются, доводятся до авто-

**Второй тур регионального этапа
Всероссийской олимпиады школьников по обществознанию 2024 г.
9 КЛАСС**

матизма; затем то же самое происходит и с другими новшествами. Новое правило дорожного движения сначала с трудом осваивается, отторгается, однако рано или поздно становится автоматически исполняемым и, в свою очередь, служит основой противостояния какому-либо новому правилу, вводимому в силу новых обстоятельств.

Это предполагает процесс приспособления, постепенной реадaptации к изменяющимся условиям. В одних странах он протекает в муках революции, в других осуществляется более спокойными, но и не столь быстрыми способами. Одна из основных задач политики всегда, видимо, состоит в том, чтобы сделать последствия изменений как можно менее разорительными. Закон, суд, полиция, бюрократия, парламентарии, соглашения, союзы и т. д. играют важную роль в высвобождении социальной энергии, которая в противном случае привела бы к жестоким схваткам между людьми и целыми народами.

Какие из приведенных ниже утверждений нельзя считать верными?

1. Политический процесс подразумевает только кардинальные социальные изменения.
2. Автор уподобляет процесс адаптации к политическим нововведениям реакции людей на новшества в обыденной жизни.
3. Политика нужна для того, чтобы потенциальные социально-политические изменения проходили максимально безболезненно для общества.
4. Политические изменения всегда сопряжены с революцией.

8. «Учителя».

Прочитайте условие и ответьте на вопросы. Каждый ответ должен быть корректно обоснован.

Уроки проходят с понедельника по воскресенье. Каждый день проходит только одно занятие, которое ведет один из следующих учителей: Арбузов, Баклажанов, Вишнева, Лимонова, Огурцов, Персикова и Яблокова. Известно, что должны соблюдаться следующие условия:

- Вишнева не преподает в дни, смежные с днем, когда преподает Огурцов или Арбузов
- Арбузов и Огурцов преподают во вторник или субботу
- Персикова преподает на следующий день после Арбузова
- Яблокова не преподает на следующий день после Огурцова

8.1. Если Огурцов преподает в один из дней до занятия Персиковой, то, кто преподает в воскресенье (при соблюдении всех условий)?

8.2. Кто преподает в четверг (при соблюдении всех условий)?

**Второй тур регионального этапа
Всероссийской олимпиады школьников по обществознанию 2024 г.
9 КЛАСС**

8.3. Кто должен преподавать в среду или воскресенье (при соблюдении всех условий)?

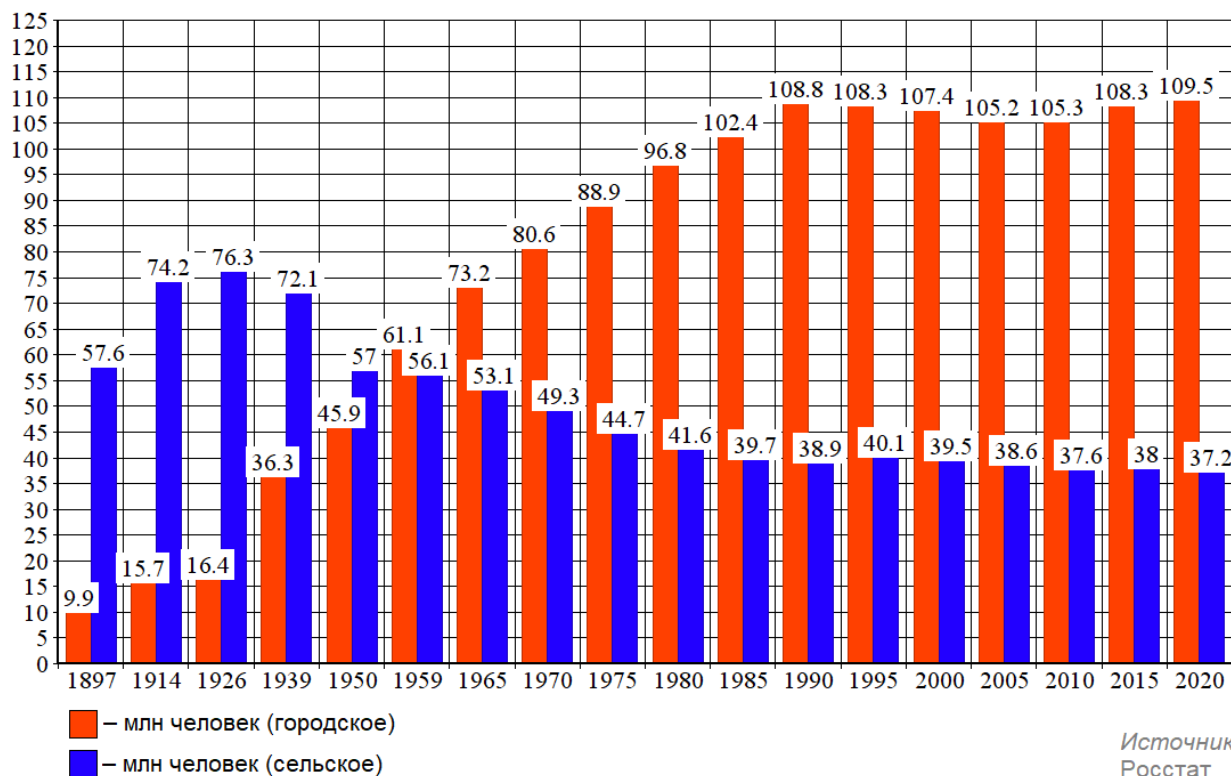
8.4. Если Баклажанов и Персикова ведут свои занятия до занятий Огурцова, то кто преподает в воскресенье (при соблюдении всех условий)?

8.5. Если Баклажанов преподает до занятия Огурцова, а Огурцов до занятия Вишневой, то тогда кто преподает в пятницу (при соблюдении всех условий)?

9. «Численность населения»

Рассмотрите предложенный график и ответьте на вопросы.

Численность городского и сельского населения в России



9.1. Как называется социально-демографический процесс, изображенный на графике?

9.2. Дайте развернутое определение названного Вами процесса.

9.3. Как с этим процессом связан Второй демографический переход? Свой ответ обоснуйте, пояснив, что ученые понимают под Вторым демографическим переходом.

**Второй тур регионального этапа
Всероссийской олимпиады школьников по обществознанию 2024 г.
9 КЛАСС**

10. «Куда движутся искусства?»


Перед Вами фрагмент из статьи Эрика Хобсбаума (*Разломанное время. Изд-во: Corpus, 2017 г.*), в котором пропущены понятия, и серия изображений, которые иллюстрируют тезисы автора.

Заполните пропуски в тексте, опираясь на приведенный перечень понятий и изображения так, чтобы текст фрагмента был восстановлен.


Впишите свой ответ в таблицу. Под выбранными и вписанными в таблицу изображениями подпишите, что именно на них изображено.

Обратите внимание, изображений и понятий больше, чем пропусков в тексте. Понятия приведены в именительном падеже единственного числа.

Какого рода здания станут символом XXI века? До наступления _____ (1) эпохи такими зданиями были _____ (2), по меньшей мере на Западе. В XIX веке их место, по крайней мере в _____ (3), заняли здания _____ (4) — соборы для буржуазии — и _____ (5) — соборы технологического прогресса. В конце тысячелетия можно выделить три типа зданий, которые могут претендовать на роль новых _____ (6) публичной сферы: _____ (7), _____ (8) и , в самое последнее время, _____ (9).



**Второй тур регионального этапа
Всероссийской олимпиады школьников по обществознанию 2024 г.
9 КЛАСС**



Г.




Д.



Е.



Ж.



З.



И.

1. Буржуазная	6. Мода
2. Государство	7. Постиндустриальная
3. Символ	8. Город
4. Тренд	9. Материал
5. Столица	10. Богатство

	1	2	3	4	5	6	7	8	9
А. Понятие (цифра)/изображение (буква)									
В. Что именно изображено?									

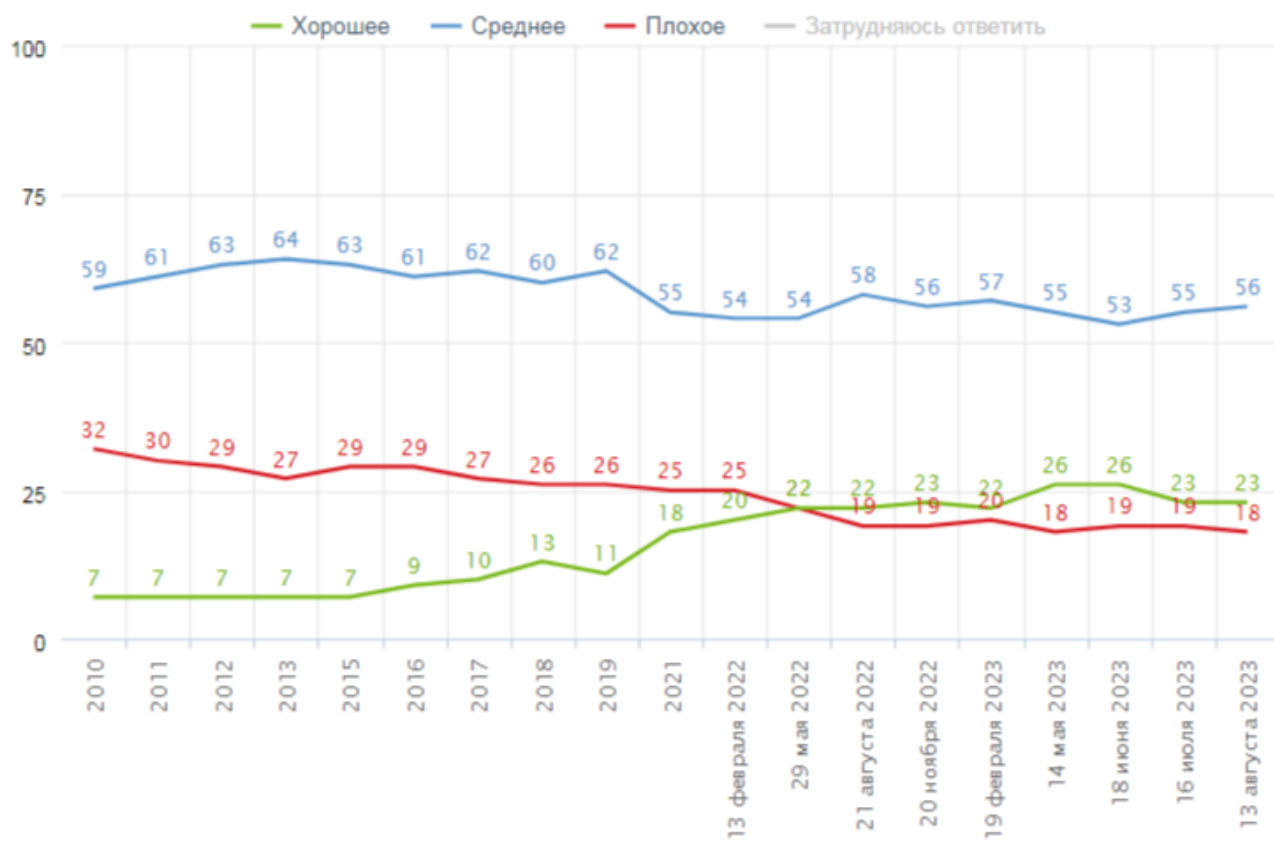
**Второй тур регионального этапа
Всероссийской олимпиады школьников по обществознанию 2024 г.
9 КЛАСС**

11. «Динамика материального положения россиян».

Познакомьтесь с кратким описанием результатов исследования и выполните задания.

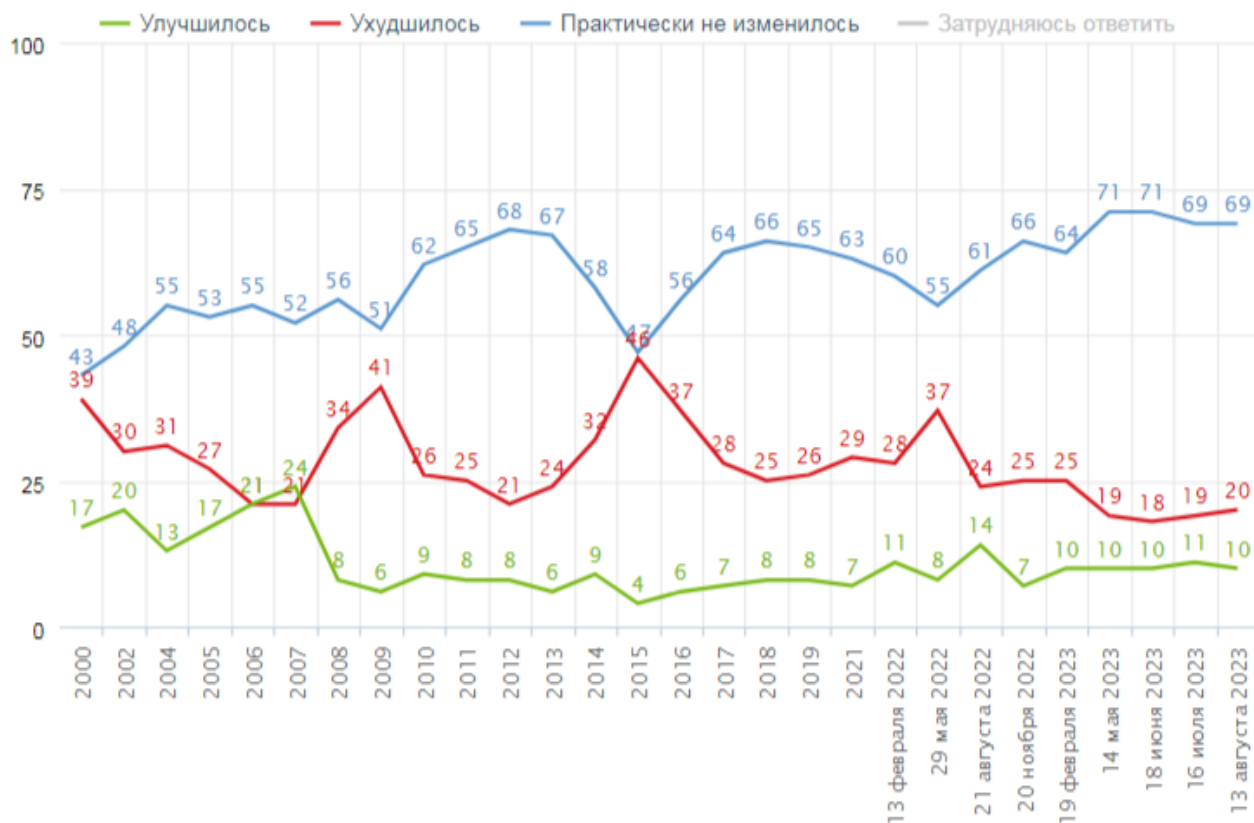
В середине августа 2023 года Фонд «Общественное мнение» (ФОМ) провел исследование, посвященное изучению материального положения россиян, в задачи которого входили: оценка текущего материального положения, динамика за последнее время и прогнозы материального положения на год. Основной метод — еженедельный всероссийский поквартирный опрос в 53 субъектах РФ (104 населенных пункта, 1500 респондентов). Результаты данного исследования представлены на *Рисунках 1, 2, 3*.

*Рисунок 1.
Распределение ответов на вопрос
«У вас сейчас хорошее или плохое материальное
положение?», данные в % от групп*



**Второй тур регионального этапа
Всероссийской олимпиады школьников по обществознанию 2024 г.
9 КЛАСС**

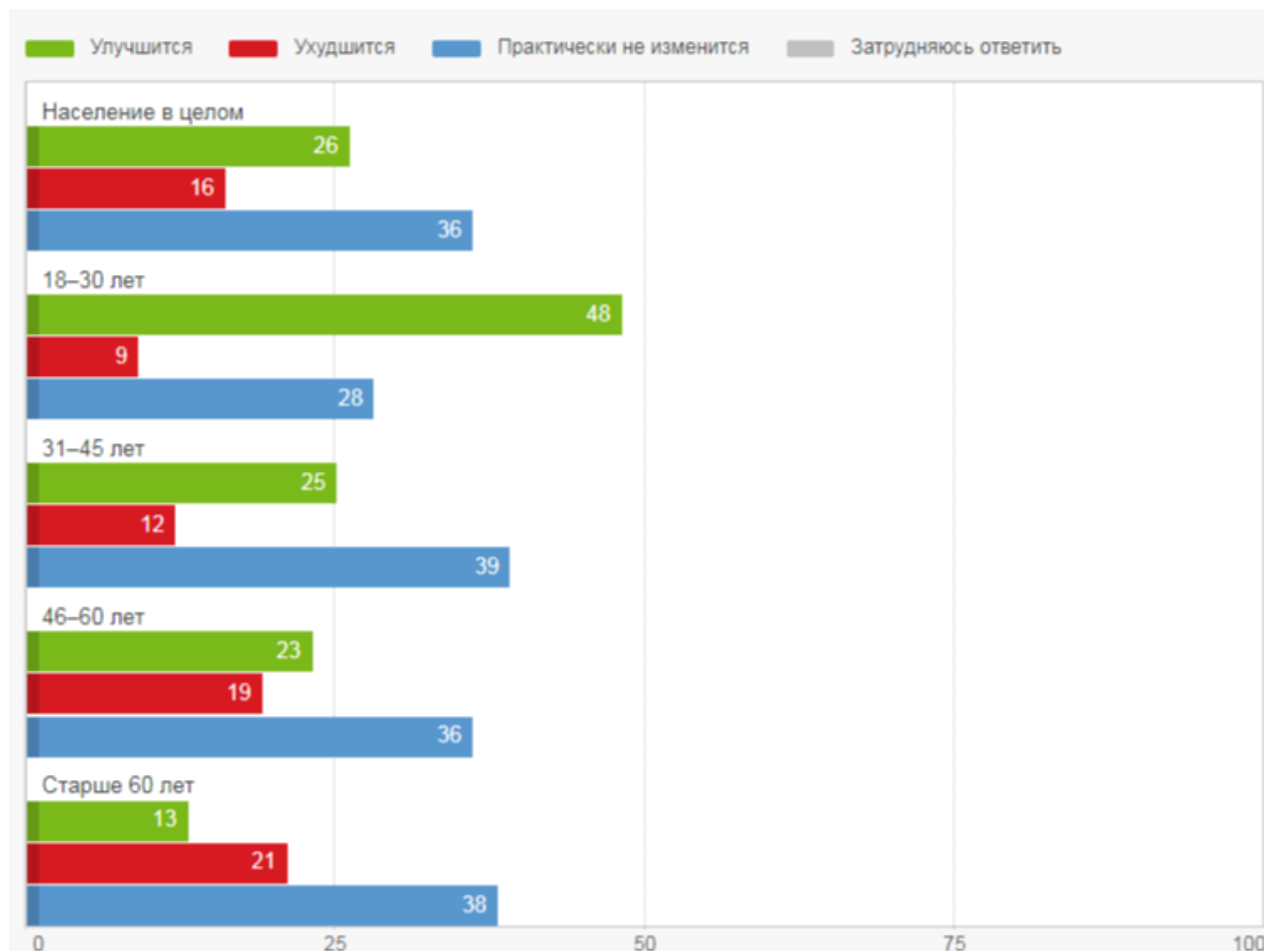
*Рисунок 2.
Распределение ответов на вопрос
«Как вы считаете, ваше материальное положение за последние
два-три месяца улучшилось, ухудшилось или практически не изменилось?»,
данные в % от групп*



**Второй тур регионального этапа
Всероссийской олимпиады школьников по обществознанию 2024 г.
9 КЛАСС**

Рисунок 3.

*Распределение ответов на вопрос
«Как вы думаете, в ближайший год ваше материальное положение
улучшится, ухудшится или практически не изменится?», данные в % от групп*



11.1. Какова общая доля россиян, находящихся в трудном материальном положении, на момент последнего замера? Опираясь на результаты исследования, укажите долю в процентах, кратко аргументировав свой ответ.

Примечание: ответ должен быть аргументирован, исходя из результатов исследования, представленных на диаграмме с указанием количественных показателей.

11.2. Может ли быть сделан следующий вывод по итогам исследования: «Наиболее оптимистичные материальные ожидания наблюдаются у людей старше 35 лет». Дайте ответ, аргументируйте его данными, представленными на соответствующей диаграмме.

Примечание: ответ должен быть аргументирован, исходя из результатов исследования, представленных на рисунках с указанием количественных показателей.

**Второй тур регионального этапа
Всероссийской олимпиады школьников по обществознанию 2024 г.
9 КЛАСС**

11.3. В какой точке замера россияне отметили наибольшее ухудшение своего материального положения? Дайте ответ, аргументируя его результатами, представленными на соответствующей диаграмме.

Примечание: ответ должен быть аргументирован, исходя из результатов исследования, представленных на диаграмме с указанием количественных показателей.

11.4. Результаты данного социологического исследования собираются на протяжении многих лет. При этом социологи задают людям одни и те же вопросы. Чем это обусловлено? Ответ аргументируйте.