

**Задания второго тура регионального этапа  
Всероссийской олимпиады школьников по обществознанию 2024 г.**

**9 класс**

**Время выполнения заданий второго тура — 150 минут**

<b>Задание</b>	<b>1</b>	<b>2</b>	<b>3</b>	<b>4</b>	<b>5</b>	<b>6</b>	<b>7</b>	<b>8</b>	<b>9</b>	<b>10</b>	<b>11</b>	<b>Всего</b>
<b>Макс. балл</b>	<b>5</b>	<b>3</b>	<b>2</b>	<b>3</b>	<b>4</b>	<b>3</b>	<b>2</b>	<b>5</b>	<b>5</b>	<b>10</b>	<b>5</b>	<b>47</b>

**1. «Да» или «нет»? Если вы согласны с утверждением, напишите «да», если не согласны — «нет». Внесите свои ответы в таблицу.**

**1.1.** Политическая власть осуществляется только государственными институтами.

**1.2.** Олигополия относится к рынкам с ослабленной конкуренцией.

**1.3.** Вторичная группа — это группа, в которой связь поддерживается личными контактами.

**1.4.** Онтология — это философское учение о познаваемости мира рациональными средствами.

**1.5.** Несоблюдение простой письменной формы сделки всегда влечет ее недействительность.

**Ответ:**

<b>1.1.</b>	<b>1.2.</b>	<b>1.3.</b>	<b>1.4.</b>	<b>1.5.</b>
нет	да	нет	нет	нет

**По 1 баллу за верный ответ.**

**Всего: 5 баллов.**

**2.** Ниже приведен ряд понятий, одно из которых лишнее. **Выпишите его. Объясните, почему оно является исключением, и укажите основание, которое позволит объединить остальные понятия.**

Голосование, иммиграция, массовая манифестация, обращение с инициативой к главе местных органов власти.

**Ответ:**

**Лишнее:** иммиграция

**Объяснение исключения:** Это въезд (вселение) в страну на постоянное или временное проживание граждан других стран или лиц без гражданства.

**Основание обобщения:** Остальные понятия являются формами политического участия.

**1 балл – за верно указанное исключение, 1 балл за верное объяснение исключения, 1 балл за основание обобщения.**

**Всего: 3 балла.**

**3. «Фамилия ребенка».**

У Виктории Квакиной и Сергея Лягушкина родился сын. На семейном совете было принято решение, что мальчика назовут Иван, а фамилия будет записана

**Второй тур регионального этапа  
Всероссийской олимпиады школьников по обществознанию 2024 г.  
9 КЛАСС**

как у матери — Квакин. При регистрации рождения ребенка должностным лицом органа ЗАГС было отказано в присвоении ребенку фамилии матери, по причине того, что детям присваивается только фамилия отца.

**3.1. Правомерен ли отказ должностного лица органа ЗАГС?**

**3.2. Какие фамилии могли быть присвоены ребенку? Назовите все возможные варианты.**

**Ответ:**

**3.1. Нет.**

**3.2. Квакин, Лягушкин, Квакин-Лягушкин, Лягушкин-Квакин.**

**1 балл – за верный ответ на вопрос о правомерности отказа, 1 балл за верно перечисленные 4 фамилии, в иных случаях – 0 баллов.**

**Всего: 2 балла.**

**4. «Книги XIX века».**

Николай шел по улице и увидел сверток, внутри свертка оказались книги, датированные XIX веком. «Клад» подумал Николай и взял сверток.

**4.1. Объясните Николаю, почему данный сверток не является кладом. Приведите развернутое объяснение.**

**4.2. Как называется действие Николая, если его охарактеризовать как юридический факт?**

**Ответ:**

**4.1. Николай нашел потерянную вещь, так как сверток просто лежал на улице (1 балл), в то время как клад – это специально сокрытые (зарытые в земле или сокрытые иным способом) ценности, собственник которых не может быть установлен или в силу закона утратил на них право (1 балл).**

**4.2. Поступок (1 балл).**

**Всего: 3 балла.**

**5. «Год к году».**

Информация о результатах финансово-хозяйственной деятельности предприятия представлена в таблице:

<b>А. Показатель</b>	<b>В. 2022 год</b>	<b>С. 2023 год</b>
Выручка от продаж, тыс. руб.	60 000	84 000

**Второй тур регионального этапа  
Всероссийской олимпиады школьников по обществознанию 2024 г.  
9 КЛАСС**

Себестоимость проданной продукции, тыс. руб.	30 000	40 000
Коммерческие и управленческие расходы	15 000	20 000

**5.1. Заполните последнюю строку таблицы. Для этого:**

- 1) Определите результативный показатель и впишите его в таблицу.
  - 2) Рассчитайте значение указанного показателя для 2022 и 2023 года.
- Обязательно приведите решение.**

**5.2. Насколько (в %) изменилось значение указанного Вами показателя в 2023 году по сравнению с 2022 годом. Приведите решение.**

**Ответ:**

**5.1.**

Показатель	2022 год	2023 год
Выручка от продаж, тыс. руб.	60 000	84 000
Себестоимость проданной продукции, тыс. руб.	30 000	40 000
Коммерческие и управленческие расходы	15 000	20 000
<b>Прибыль от продаж (1 балл)</b>	<b>15 000 (1 балл при условии верного решения)</b>	<b>24 000 (1 балл при условии верного решения)</b>

Прибыль от продаж 2022 = 60 000 – 30 000 - 15 000 = 15 000 тыс. руб.,

Прибыль от продаж в 2023 году = 84 000 – 40 000 - 20 000 = 24 000 тыс. руб.

**5.2. Изменение прибыли (в %) = 24 000:15 000 \* 100 - 100 = 60.**

Прибыль от продаж в 2023 году по сравнению с 2022 годом выросла на 60%  
**(1 балл при условии верного решения).**

**Всего: 4 балла.**

**6. «Цена и спрос».**

Равновесная цена продукции (P) равна 40, а равновесный объём (Q) равен 50. Известно, что на данном рынке выполняется закон спроса — иначе говоря, с ростом цены продукции величина спроса на нее убывает.

**Второй тур регионального этапа  
Всероссийской олимпиады школьников по обществознанию 2024 г.  
9 КЛАСС**

**Какая из нижеперечисленных функций может описывать спрос на данном рынке? Свой ответ обоснуйте. Обоснование должно быть развернутым и математически обоснованным.**

- 1)  $Q = 10 + P$
- 2)  $Q = -10 + P$
- 3)  $Q = 140 - 2P$
- 4)  $Q = 130 - 2P$

**Ответ:**

**4 (1 балл).**

**Обоснование:**

Так как на рынке выполняется закон спроса – с ростом цены величина спроса на продукцию убывает, то в формуле спроса перед показателем  $P$  должен стоять знак «минус». Соответственно первый и второй варианты не подходят, т.к. перед показателем  $P$  стоит знак «плюс» **(1 балл)**.

Математически третий вариант не подходит ( $Q = 140 - 2 \cdot 40 = 60$ , а не 50 как по условию), следовательно верным является четвертый вариант, что проверяется, если подставить в формулу имеющиеся значения  $Q = 130 - 2 \cdot 40 = 50$ , что и требовалось доказать. **(1 балл)**

**Всего: 3 балла.**

**7. Прочтите текст и выполните задание к нему.**

В политическом процессе две составляющие: с одной стороны, приверженность традиции, с другой — неустанная изобретательность и приспособление к изменениям. В политике, как и в жизни, непривычные нововведения сначала оспариваются, затем постепенно осваиваются, доводятся до автоматизма; затем то же самое происходит и с другими новшествами. Новое правило дорожного движения сначала с трудом осваивается, отторгается, однако рано или поздно становится автоматически исполняемым и, в свою очередь, служит основой противостояния какому-либо новому правилу, вводимому в силу новых обстоятельств.

Это предполагает процесс приспособления, постепенной реадaptации к изменяющимся условиям. В одних странах он протекает в муках революции, в других осуществляется более спокойными, но и не столь быстрыми способами. Одна из основных задач политики всегда, видимо, состоит в том, чтобы сделать последствия изменений как можно менее разорительными. Закон, суд, полиция, бюрократия, парламентарии, соглашения, союзы и т. д. играют важную роль в высвобождении социальной энергии, которая в противном случае привела бы к жестоким схваткам между людьми и целыми народами.

**Какие из приведенных ниже утверждений нельзя считать верными?**

1. Политический процесс подразумевает только кардинальные социальные изменения.

**Второй тур регионального этапа  
Всероссийской олимпиады школьников по обществознанию 2024 г.  
9 КЛАСС**

2. Автор уподобляет процесс адаптации к политическим нововведениям реакции людей на новшества в обыденной жизни.
3. Политика нужна для того, чтобы потенциальные социально-политические изменения проходили максимально безболезненно для общества.
4. Политические изменения всегда сопряжены с революцией.

**Ответ: 1, 4.**

**1 балл за каждое верное указание ошибочного утверждения. При наличии в ответе лишних утверждений — 0 баллов. Всего: 2 балла.**

**8. «Учителя».**

**Прочитайте условие и ответьте на вопросы. Каждый ответ должен быть корректно обоснован.**

Уроки проходят с понедельника по воскресенье. Каждый день проходит только одно занятие, которое ведет один из следующих учителей: Арбузов, Баклажанов, Вишнева, Лимонова, Огурцов, Персикова и Яблокова. Известно, что должны соблюдаться следующие условия:

- Вишнева не преподает в дни, смежные с днем, когда преподает Огурцов или Арбузов
- Арбузов и Огурцов преподают во вторник или субботу
- Персикова преподает на следующий день после Арбузова
- Яблокова не преподает на следующий день после Огурцова

**8.1. Если Огурцов преподает в один из дней до занятия Персиковой, то, кто преподает в воскресенье (при соблюдении всех условий)?**

**Ответ: Персикова**

*Обоснование: Либо Огурцов преподает во вторник, а Арбузов – в субботу, либо Огурцов – в субботу, а Арбузов – во вторник. Персикова преподает на следующий день после Арбузова. Огурцов должен преподавать до Персиковой, поэтому Огурцов не может преподавать в субботу. Значит, Арбузов преподает в субботу, а в воскресенье – Персикова.*

**8.2. Кто преподает в четверг (при соблюдении всех условий)?**

**Ответ: Вишнева**

*Обоснование. Представим условия в виде таблицы.*

<i>ПН</i>	<i>ВТ</i>	<i>СР</i>	<i>ЧТ</i>	<i>ПТ</i>	<i>СБ</i>	<i>ВС</i>
<i>Вишнева</i>	<i>Арбузов</i>	<i>Персикова</i>		<i>Вишнева</i>	<i>Огурцов</i>	<i>Вишнева</i>
<i>Вишнева</i>	<i>Огурцов</i>	<i>Вишнева</i>		<i>Вишнева</i>	<i>Арбузов</i>	<i>Персикова</i>

*В обоих случаях получается, что в четверг преподает Вишнева.*

**Второй тур регионального этапа  
Всероссийской олимпиады школьников по обществознанию 2024 г.  
9 КЛАСС**

**8.3. Кто должен преподавать в среду или воскресенье (при соблюдении всех условий)?**

**Ответ: Персикова**

*Обоснование. Та же таблица показывает, что в среду или воскресенье преподает Персикова.*

**8.4. Если Баклажанов и Персикова ведут свои занятия до занятий Огурцова, то кто преподает в воскресенье (при соблюдении всех условий)?**

**Ответ: Лимонова**

*Обоснование. Добавим в таблицу новое условие: Баклажанов и Персикова ведут свои занятия до занятий Огурцова. Вторая строка не подходит, поскольку до Огурцова должны быть свободны два дня. Также мы поняли, что Вишнева преподает в четверг. Добавим условие про Яблокову. Баклажанов и Персикова ведут свои занятия до занятий Огурцова. Значит, Баклажанов не может преподавать в воскресенье. Следовательно, в воскресенье преподает Лимонова.*

ПН	ВТ	СР	ЧТ	ПТ	СБ	ВС
	Арбузов	Персикова	Вишнева		Огурцов	Яблокова Баклажанов

**8.5. Если Баклажанов преподает до занятия Огурцова, а Огурцов до занятия Вишневой, то тогда кто преподает в пятницу (при соблюдении всех условий)?**

**Ответ: Яблокова**

*Обоснование. Добавим новые условия в таблицу. Подходит только вторая строка. Добавим условие про Яблокову (она не преподает на следующий день после Огурцова). Получается, что в пятницу преподает Яблокова.*

ПН	ВТ	СР	ЧТ	ПТ	СБ	ВС
Баклажанов	Огурцов	Яблокова	Вишнева		Арбузов	Персикова

**1 балл за каждый верный ответ с обоснованием. Ответы без корректного обоснования – 0 баллов.**

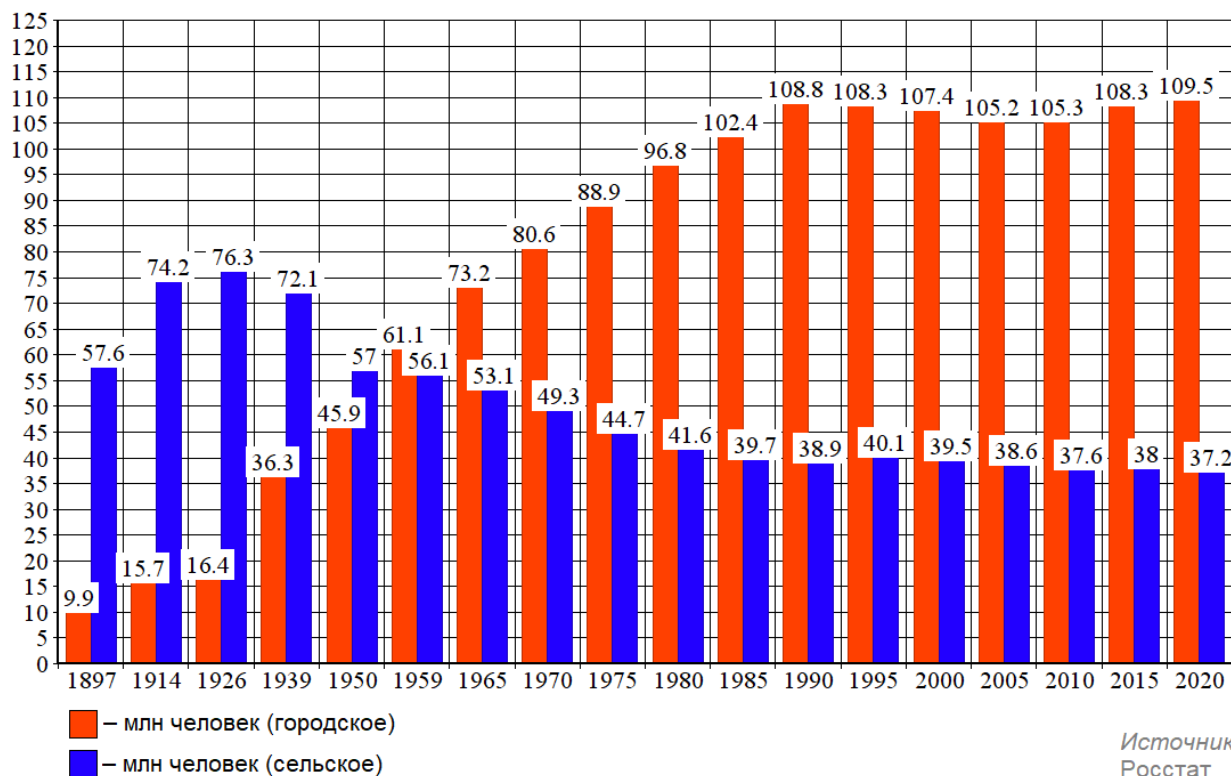
**Всего: 5 баллов.**

**Второй тур регионального этапа  
Всероссийской олимпиады школьников по обществознанию 2024 г.  
9 КЛАСС**

**9. «Численность населения»**

**Рассмотрите предложенный график и ответьте на вопросы.**

**Численность городского и сельского населения в России**



**9.1. Как называется социально-демографический процесс, изображенный на графике?**

**9.2. Дайте развернутое определение названного Вами процесса.**

**9.3. Как с этим процессом связан Второй демографический переход? Свой ответ обоснуйте, пояснив, что ученые понимают под Вторым демографическим переходом.**

**Ответ:**

**9.1. Урбанизация (1 балл)**

**9.2. Урбанизация – это процесс концентрации населения в городах, повышения их роли в социально-экономическом развитии общества, распространения городского образа жизни на всю сеть населенных мест. (1 балл)**

**9.3. Второй демографический переход влечет сокращение или даже остановку роста городского населения (1 балл). Особенно в тех случаях, когда внешний миграционный приток ограничен, а уровень урбанизации в стране достиг не менее 75% (1 балл).**

Второй демографический переход проявляется в виде роста среднего возраста заключения брака и рождения первого ребёнка, увеличения интервалов между родами, увеличения доли рождения детей вне официального брака, увеличения

**Второй тур регионального этапа  
Всероссийской олимпиады школьников по обществознанию 2024 г.  
9 КЛАСС**

доли людей, никогда не вступавших в зарегистрированный брак и не имевших ни одного ребёнка. Он может завершиться в зоне сверхнизкой рождаемости, когда коэффициент рождаемости упадет ниже 1 ребенка на женщину (1 балл).

**Всего: 5 баллов.**

**10. «Куда движутся искусства?»**

Перед Вами фрагмент из статьи Эрика Хобсбаума (*Разломанное время. Изд-во: Corpus, 2017 г.*), в котором пропущены понятия, и серия изображений, которые иллюстрируют тезисы автора.

**Заполните пропуски в тексте, опираясь на приведенный перечень понятий и изображения так, чтобы текст фрагмента был восстановлен.**

**Впишите свой ответ в таблицу. Под выбранными и вписанными в таблицу изображениями подпишите, что именно на них изображено.**

*Обратите внимание, изображений и понятий больше, чем пропусков в тексте. Понятия приведены в именительном падеже единственного числа.*

Какого рода здания станут символом XXI века? До наступления \_\_\_\_\_ (1) эпохи такими зданиями были \_\_\_\_\_ (2), по меньшей мере на Западе. В XIX веке их место, по крайней мере в \_\_\_\_\_ (3), заняли здания \_\_\_\_\_ (4) — соборы для буржуазии — и \_\_\_\_\_ (5) — соборы технологического прогресса. В конце тысячелетия можно выделить три типа зданий, которые могут претендовать на роль новых \_\_\_\_\_ (6) публичной сферы: \_\_\_\_\_ (7), \_\_\_\_\_ (8) и , в самое последнее время, \_\_\_\_\_ (9).



А.




Второй тур регионального этапа  
Всероссийской олимпиады школьников по обществознанию 2024 г.  
9 КЛАСС



Б.



В.



Г.




Д.



Е.




Ж.



З.

**Второй тур регионального этапа  
Всероссийской олимпиады школьников по обществознанию 2024 г.  
9 КЛАСС**



И.

- 1) Буржуазная
- 2) Государство
- 3) Символ
- 4) Тренд
- 5) Столица
- 6) Мода
- 7) Постиндустриальная
- 8) Город
- 9) Материал
- 10) Богатство

	1	2	3	4	5	6	7	8	9
А. Понятие (цифра)/ изображение (буква)									
В. Что именно изображено?									

**Ответ:**

	1	2	3	4	5	6	7	8	9
А. Понятие (цифра)/ изображение (буква)	1	3	8	В	А	3	Г*	Е*	Ж
В. Что именно изображено?		Церковь/собор		Опера/театр	вокзал		спортивная арена	отель	торгово-развлекательный центр

**Второй тур регионального этапа  
Всероссийской олимпиады школьников по обществознанию 2024 г.  
9 КЛАСС**

**По 1 баллу за каждую верно заполненную позицию в таблице  
(\*очередность ответов в столбцах 7 и 8 может быть обратная).**

**1 балл за все верные подписи выбранных изображений.**

**Всего: 10 баллов.**

**11. «Динамика материального положения россиян».**

**Познакомьтесь с кратким описанием результатов исследования и вы-полните задания.**

В середине августа 2023 года Фонд «Общественное мнение» (ФОМ) про-вел исследование, посвященное изучению материального положения россиян, в задачи которого входили: оценка текущего материального положения, динамика за последнее время и прогнозы материального положения на год. Основной ме-тод — еженедельный всероссийский поквартирный опрос в 53 субъектах РФ (104 населенных пункта, 1500 респондентов). Результаты дан

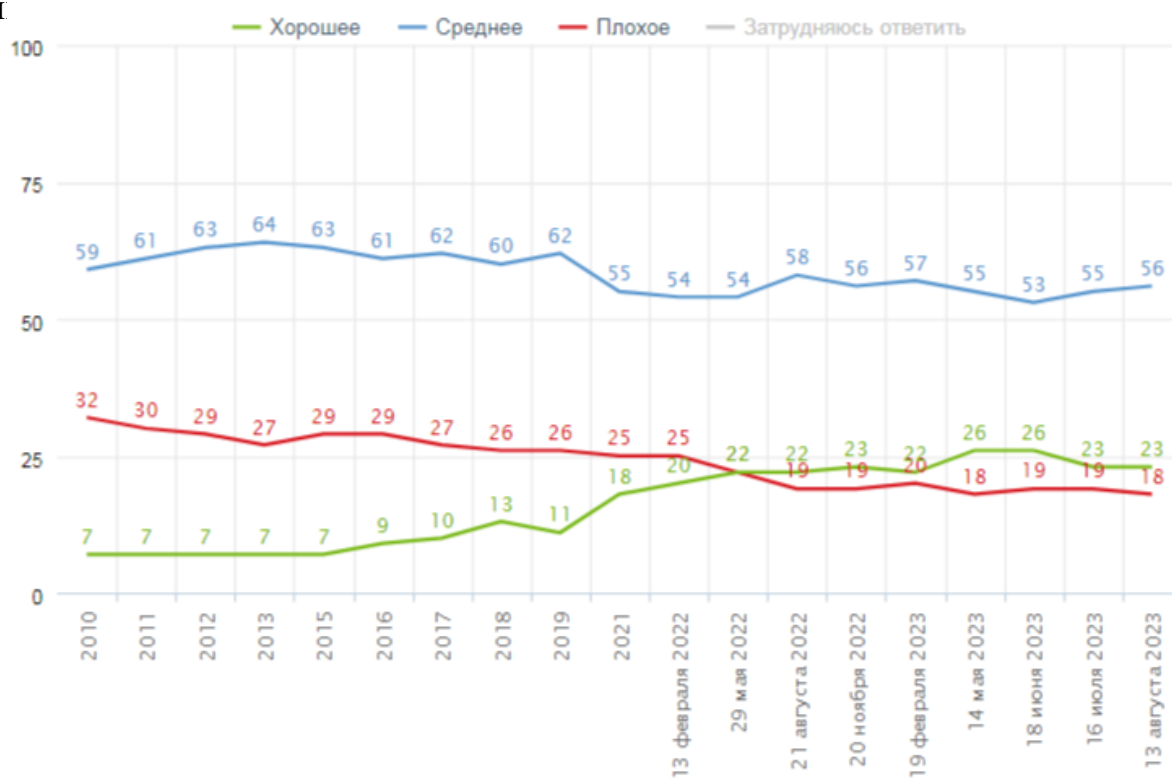


Рис.1. Распределение ответов на вопрос «У вас сейчас хорошее или плохое материальное положение?», данные в % от групп

## Второй тур регионального этапа Всероссийской олимпиады школьников по обществознанию 2024 г. 9 КЛАСС

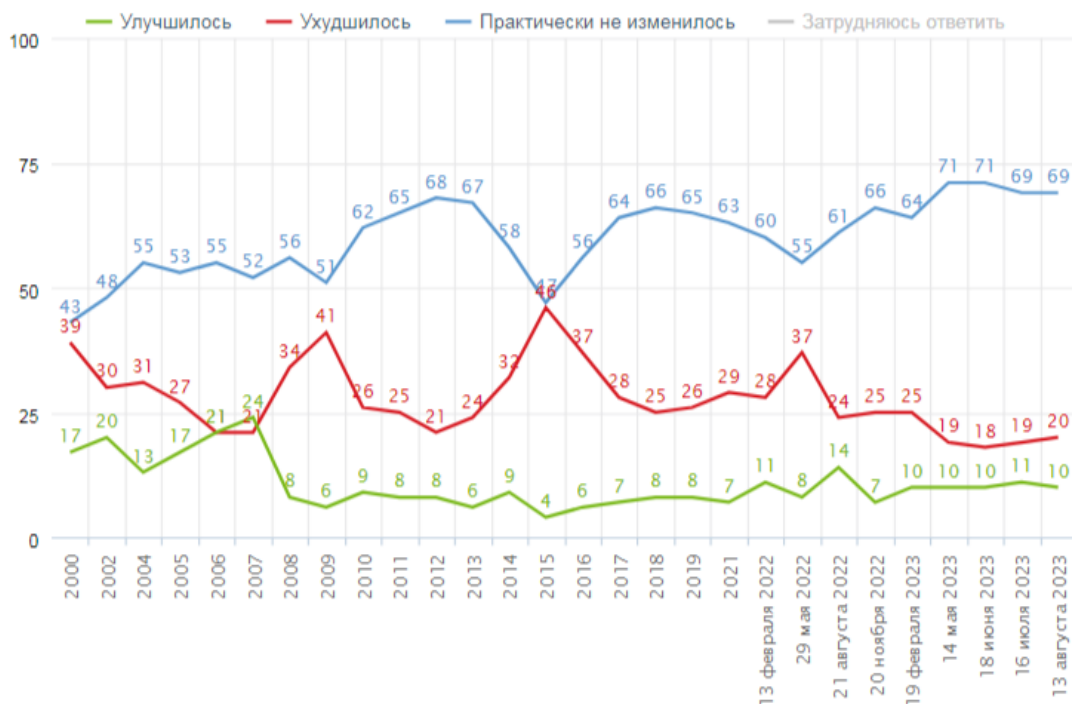


Рис.2. Распределение ответов на вопрос «Как вы считаете, ваше материальное положение за последние два-три месяца улучшилось, ухудшилось или практически не изменилось?», данные в % от групп

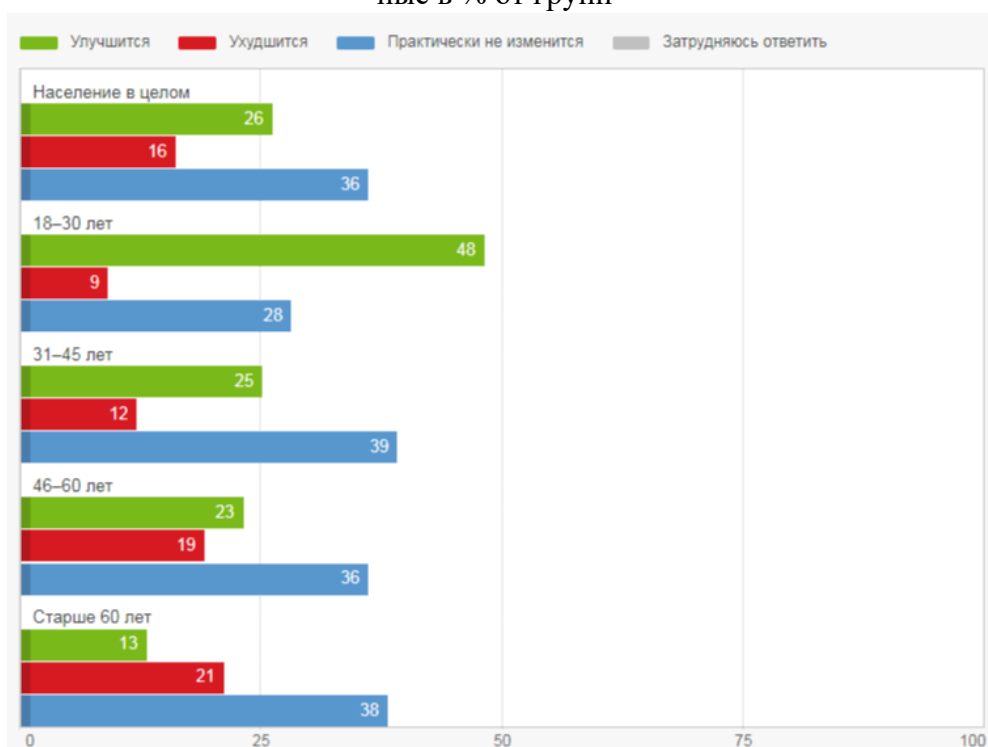


Рис.3. Распределение ответов на вопрос «Как вы думаете, в ближайший год ваше материальное положение улучшится, ухудшится или практически не изменится?», данные в % от групп

**Второй тур регионального этапа  
Всероссийской олимпиады школьников по обществознанию 2024 г.  
9 КЛАСС**

**10.1. Какова общая доля россиян, находящихся в трудном материальном положении, на момент последнего замера? Опираясь на результаты исследования, укажите долю в процентах, кратко аргументировав свой ответ.**

*Примечание: ответ должен быть аргументирован, исходя из результатов исследования, представленных на диаграмме с указанием количественных показателей.*

**Ответ:** Анализ диаграммы на *Рисунке 1*, где графически представлен ответ на вопрос «У вас сейчас хорошее или плохое материальное положение?», показал, что 18% россиян оценили свое материальное положение как плохое на момент опроса 13 августа 2023 года.

**1 балл за верное обоснованное указание.**

**10.2. Может ли быть сделан следующий вывод по итогам исследования: «Наиболее оптимистичные материальные ожидания наблюдаются у людей старше 35 лет». Дайте ответ, аргументируйте его данными, представленными на соответствующей диаграмме.**

*Примечание: ответ должен быть аргументирован, исходя из результатов исследования, представленных на рисунках с указанием количественных показателей.*

**Ответ:** Нет, исходя из данных диаграммы на *Рисунке 2*, наиболее оптимистичные материальные ожидания наблюдаются у молодежи 18–30 лет, 48% из них отмечают, что в ближайший год их материальное положение улучшится.

**1 балл за опровержение утверждения,**

**1 балл за верное обоснование и указание на правильное суждение.**

**Всего: 2 балла.**

**10.3. В какой точке замера россияне отметили наибольшее ухудшение своего материального положения? Дайте ответ, аргументируя его результатами, представленными на соответствующей диаграмме.**

*Примечание: ответ должен быть аргументирован, исходя из результатов исследования, представленных на диаграмме с указанием количественных показателей.*

**Ответ:** В 2015 году, опираясь на данные диаграммы на *Рисунке 2*, можно увидеть, что 46% россиян отметили ухудшение своего материального положения за последние два-три месяца. Это самые высокие показатели за все время опроса с 2000 по 2023 год.

**1 балл за верное обоснованное указание.**

**Второй тур регионального этапа  
Всероссийской олимпиады школьников по обществознанию 2024 г.  
9 КЛАСС**

**10.4. Результаты данного социологического исследования собираются на протяжении многих лет. При этом социологи задают людям одни и те же вопросы. Чем это обусловлено? Ответ аргументируйте.**

**Ответ:** Данное исследование направлено на оценку динамики материального положения россиян, такие исследования должны проводиться с определенной периодичностью по одним и тем же вопросам, чтобы зафиксировать возможные изменения.

**1 балл за верно аргументированный ответ.**

**Всего: 5 баллов.**