

**Муниципальный этап Всероссийской олимпиады школьников
по Искусству (Мировой художественной культуре)
2023/2024 учебного года**

Комплект заданий для учащихся 7 – 8 классов

Уважаемый участник Олимпиады!

Вам предстоит выполнить письменные задания,

Время на выполнение заданий – 225 минут

При выполнении заданий обратите внимание:

- необходимо внимательно читать задание и отвечать на поставленные вопросы;
- есть открытые задания (где нужно вписать правильный ответ) и закрытые (где нужно выбрать правильный ответ)

За каждый правильный ответ Вы можете получить:

С 1 – 4 задания по 2 балла, в 5 задании по 3 балла, в 6 задании – 4 балла, в 7 задании максимально 21 балл.

Максимальная оценка – 100 баллов

ЗАДАНИЕ 1

1. В 2023 году празднуют юбилей два российских города: Санкт-Петербург и Екатеринбург. За этот период создано большое количество памятников искусства и культуры. Определите в каком из двух городов они созданы? Впишите соответствующий номер из таблицы через запятую (например, Екатеринбург – 2,4,5).

Таблица 1

1. Эрмитаж-Урал	2. Собор Смольного монастыря	3. Памятник Петру I
4. Ново-Тихвинский монастырь	5. Памятник «Горожане»	6. Эрмитаж
7. Памятник Чижику-Пыжику	8. Музей-заповедник Павловск	9. Усадьба Харитоновы-Расторгуева

Ответ:

Санкт-Петербург _____

Екатеринбург _____

1. В создании какого памятника участвовал скульптор Э. М. Фальконе со своей ученицей М. А. Колло? _____ (впишите название или номер из Таблицы 1)

За каждый правильный ответ ставится по 2 балла.

Оценка за задание – максимум 20 баллов

ЗАДАНИЕ 2

1. Соотнесите виды и жанры искусства. Впишите к какому виду изобразительного, музыкального, театрального или кино-искусства относится конкретное произведение (См. таблицу 3) и внесите свои ответы в Таблицу 2 (справа):

Таблица 2

1.	Алеша Попович и Тугарин Змей(К. Бронзит)	
2.	Петя и волк (В. Прокофьев)	
3	Щелкунчик (П.Чайковский)	
4	Снегурочка (Н. Римский-Корсаков)	
5	Гарри Поттер и Тайная комната (К.Коламбус)	

Таблица 3

<p>симфоническая сказка</p> <p>опера</p> <p>мультфильм</p> <p>фильм</p> <p>балет</p>
--

2. Укажите имя и фамилию автора, который сочинил произведение, положенное в основу произведения «Гарри Поттер и Тайная комната» (впишите имя и фамилию) _____

За каждый правильный ответ ставится по 2 балла.

Оценка за задание – максимум 12 баллов

ЗАДАНИЕ 3

1. Какие мифологические и библейские герои часто встречаются на памятниках культуры и искусства. Выберите правильный ответ и подчеркните его в таблице 4:

Таблица 4

1.	Младший из олимпийцев, бог растительности, виноградарства, виноделия, производительных сил природы, вдохновения и театра	<p>1)Аполлон</p> <p>2)Дионисий</p> <p>3)Зевс</p>
----	--	--

2.	Богиня мудрости, военной стратегии и тактики, одна из наиболее почитаемых богинь, входившая в число двенадцати великих олимпийских богов	1)Артемида 2)Гера 3)Афина
3.	Библейский герой, у которого длинные волосы служили источником необычайного могущества. Его возлюбленная Далида выведывали у него тайны, которые передавала врагам-филистимлянам. Известен одним из подвигов, когда победил льва, «порвав ему пасть»	1)Давид 2)Самсон 3)Христос
4.	Дочь Иоакима и Анны, будучи галилеянкой из Назарета, была обручена с Иосифом, у нее появился сын чудесным образом, посредством Святого Духа, одна из наиболее почитаемых святых в христианстве	1)Богоматерь 2)Руфь 3)Св. Варвара
5..	Сын афинского царя Эгея, который добровольно вызвался отправиться на Крит и убить необычного зверя с телом человека и головой быка	1)Геракл и лернейская гидра 2)Персей и Медуза Горгона 3) Тесей и Минотавр

2. В какой технике выполнен сюжет с мифологическими героями. Впишите в таблицу:



М					К	
---	--	--	--	--	---	--

*За каждый правильный ответ ставится по 2 балла.
Оценка за задание – максимум 12 баллов*

ЗАДАНИЕ 4.

1. Внимательно посмотрите на фрагменты кадров анимационного, театрального и кино-искусства и определите по картинкам автора или название произведения. Подчеркните правильный вариант:

1		<p>1) Три мушкетера</p> <p>2) Пираты Карибского моря</p> <p>3) Одиссея капитана Блада</p>
---	--	---

2		<p>1)О. де Бальзак</p> <p>2)Э. Т. Гофман</p> <p>3)Х. К. Андерсен</p>
3		<p>1)М. де Сервантес</p> <p>2)А. де Сент-Экзюпери</p> <p>3)В. Гюго</p>
4		<p>1)Собор Парижской Богоматери</p> <p>2)Алиса в стране чудес</p> <p>3)Чикаго</p>

*За каждый правильный ответ ставится по 2 балла.
Оценка за задание – максимум 8 баллов*

ЗАДАНИЕ 5.

1. Определите основные черты эпохи западноевропейского Средневековья. Выберите и обведите правильный ответ в каждом пункте:

Таблица 5

1	<p>1)строительство замков, имеющих оборонительный характер;</p> <p>2)строительство королевских дворцов в форме пагоды;</p> <p>3)строительство белокаменных кремлей со сторожевыми башнями;</p>
2	<p>1)победа над Волжской Булгарией и Хазарским каганатом;</p> <p>2)появление вестготов, остготов и других варварских народов;</p> <p>3)вторжение тюркских племен на территорию Индии;</p>
3	<p>1)храм-перистиль, окруженный колоннадой;</p> <p>2)равнинный тип храма со святилищем;</p> <p>3)готический храм-базилика как синтез архитектуры, живописи и скульптуры</p>
4	<p>1) «человек, который служит», благородные и бесстрашные бойцы, сражающимся против врагов с помощью катан, охраняли императора;</p> <p>2) рыцари, участники крестовых походов, их храбрость и доблесть вызывала всеобщее уважение;</p> <p>3) беспощадные и таинственные «воины тьмы», ставшие шпионами и воителями, обладающие нечеловеческими способностями;</p>

2. Определите по изображению как называются народы, населявшие Скандинавские страны в период раннего средневековья:




В					Г	
---	--	--	--	--	---	--

За каждый правильный ответ ставится по 3 балла.
Оценка за задание – максимум 15 баллов


ЗАДАНИЕ 6

Отгадайте по атрибуту и фрагменту текста главного героя литературного произведения:

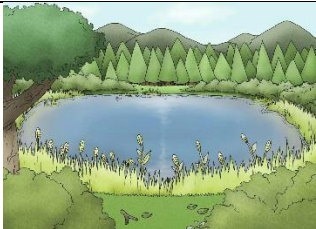
1		<p><i>«...Стоял ясный весенний вечер, окна были открыты, и белые занавески медленно раскачивались, словно здороваясь с маленькими бледными звёздами, только что появившимися на чистом весеннем небе. Малыш облокотился о подоконник и стал смотреть в окно. Он думал о том прекрасном щенке, который повстречался ему сегодня. Быть может, этот щенок лежит сейчас в корзинке на кухне и какой-нибудь мальчик– не Малыш, а другой– сидит рядом с ним на полу, гладит его косматую голову и приговаривает: «Рики, ты чудесный пёс!»</i></p> <p><i>Малыш тяжело вздохнул. Вдруг он услышал какое-то слабое жужжание. Оно становилось всё громче и громче, и вот, как это ни покажется странным, мимо окна пролетел ...»</i></p>
---	---	--

Ответ №1 _____

2		<p><i>«...Кабы одни большие сидели, так, может, ничего бы дальше и не случилось.</i></p> <p><i>Каждый, видишь, подумал: “Вон до чего на огонь загляделся! В глазах зарябило... Неведомо что померещится с устатку-то!”</i></p>
---	--	--

	<p>Один Федюнька этого не подумал и спрашивает у отца: - Тятя, это кто? Отец отвечает: - Филин. Кому больше-то? Неуж не слышал, как он ухает? -Да не про филина я! Его-то, поди-ка, знаю и ни капельки не боюсь. Ты мне про девчонку скажи...»</p>
---	--

Ответ №2 _____

<p>3</p>		<p>«...Старая Утка ввиду близившейся разлуки относилась к дочери-калеке с удвоенной нежностью. Бедняжка еще не знала, что такое разлука и одиночество, и смотрела на сборы других в дорогу с любопытством новичка. Правда, ей иногда делалось завидно, что ее братья и сестры так весело собираются к отлету, что они будут опять где-то там, далеко-далеко, где не бывает зимы...»</p>
----------	---	---

Ответ №3 _____

За каждый правильный ответ ставится по 4 балла.

Оценка за задание – максимум 12 баллов

ЗАДАНИЕ 7

По фрагменту картины выполните описание и анализ художественного произведения:



1) Название произведения	1) Охотники на снегу. Зима; 2) Жатва. Лето; 3) Возвращение стад. Осень;
2) Имя художника	1) Иероним Босх; 2) Питер Брейгель Старший; 3) Рогир ван дер Вейден;
3) Эпоха	1) Северное Возрождение 2) Итальянское Возрождение 3) Раннее средневековье;
4) Страна	1) Италия; 2) Германия; 3) Нидерланды;

5) Краткое описание (не менее 5-6 предложений)

За каждый правильный ответ №1 – 4 ставится по 3 балла, в пункте №5 – 9 баллов. Оценка за задание – максимум 21 балл.