

6-7 класс

Вариант 1

Задание 01

Общество состоит из четырёх сфер, каждая из которых включает наиболее устойчивые формы взаимодействия людей и социальных групп.

Укажите, что из перечисленного ниже относится к экономической сфере жизни общества:

А - В XV в. до н.э. войска фараона Тутмоса III захватили город Мегиддо.

В - Разнообразные изделия, которые продавались в средневековых городах, производились в маленьких мастерских ремесленников.

С - Средневековье считается временем, когда привилегированная часть общества, составляла так называемую феодальную лестницу.

Д - В 1879 году в пещере Альтамира (Испания) были обнаружены наскальные рисунки первобытного человека.

Правильный ответ - В

Задание 02

Потребность – это необходимость (нужда, надобность) в чём-либо, требующая удовлетворения. Традиционно потребности делятся на биологические (физиологические), социальные и духовные.

Из предложенных примеров отметьте те, которые относятся к биологическим потребностям:

А) Все жители страны Y после окончания долгого вооружённого конфликта с соседним государством X желали установления у себя в стране порядка и законности.

Б) Из-за сурового климата страны Y её жители нуждались в тёплой одежде и искусственно обогреваемых жилых помещениях.

В) На территории страны Y много промышленных предприятий, из-за чего жители крупных городов испытывали желание чаще бывать на природе, чтобы дышать чистым воздухом.

Г) После долгого вооружённого конфликта с государством X жители страны Y стали чаще перечислять средства пострадавшим от войны людям, детям, оставшимся без родителей.

Д) Дети в стране Y, получившие после долгого перерыва возможность учиться, стали посещать не только учреждения общего образования, но и много времени уделять саморазвитию, посещая учреждения дополнительного

образования.

Е) Прекращение конфликта между странами Y и X привело к тому, что люди получили возможность больше времени проводить дома, отдыхать после работы.

A - ABD

B - BBE

C - BGD

D - ABE

Правильный ответ - B

Задание 03

Во все исторически эпохи крайне важным для человека был процесс познания, т.е. приобретения, систематизации знаний о мире, обществе и человеке. При этом познание осуществляется на чувственном и рациональном уровнях.

В приведённом ниже тексте каждое предложение пронумеровано. **Укажите те предложения, которые относятся к чувственному уровню познания:**

(1) Летом 2022 года в одном приморском посёлке установилась холодная погода, поэтому местные жители решили отказаться от купания в холодной морской воде. (2) Учёные страны, в которой расположен посёлок, проводят исследования, чтобы выявить причины, которые привели к установлению холодной погоды. (3) Для этого они изучают подводные течения, осуществляют измерения, пытаясь вывести закономерности погодной аномалии в этом и соседних посёлках, находящихся в схожих климатических условиях. (4) Гипотеза учёных заключается в том, что изменение ряда подводных течений приводит к переносу больших масс холодной воды из северных широт в южные, существенно меняя местный климат. (5) Однако у изменения температуры воздуха есть один плюс: люди стали чаще наблюдать особенно красивые закаты над морем, у которого расположен их посёлок

A - 1

B - 2

C - 3

D - 4

E - 5

Правильный ответ - А, Е

Задание 04

Деятельность – это действия человека с применением специальных средств, направленные на достижение целей и удовлетворение потребностей.

Установите соответствие между видом деятельности и примером, который его иллюстрирует:

1. Общение
2. Учение
3. Игра

А - Василий Семёнович очень религиозен, поэтому каждое утро он обращается с молитвой к богу.

В - Зинаида Эдуардовна записалась на курсы красноречия, чтобы лучше понимать окружающих.

С - Для кандидатов на должность менеджера по продажам компания решила организовать смоделированное мероприятие, чтобы понять, как потенциальные сотрудники будут действовать в той или иной ситуации.

Правильный ответ - А-1 В-2 С-3

Задание 05



Перед вами иллюстрация, на которой изображена семья.

Укажите верные ответы, относящиеся к иллюстрации:

- А) Семья является первичной социальной группой.
- Б) Семья не изменяется на протяжении тысячелетий, сохраняя свою уникальность и специфику.
- В) На иллюстрации изображена нуклеарная семья.
- Г) Семья является одновременно и агентом, и институтом социализации.
- Д) Семья – это большая социальная группа.
- Е) Изображённая на иллюстрации семья является неполной.

А - АВГ

В - АДЕ

С - БВД

Д - БГЕ

Правильный ответ - А

Задание 06

Социальные нормы – это правила поведения человека в обществе.

Социальных норм, определяющих наше поведение, очень много.

Укажите примеры, которые иллюстрируют моральные нормы.

| | |
|----|--|
| А) | Стела с законами вавилонского царя Хаммурапи |
| Б) | Правило «поступай с другими так, как ты хотел бы, чтобы поступали с тобой» |
| В) | Друг простил своего товарища, который рассказал о его секрете одноклассникам |
| Г) |  |
| Д) |  |
| Е) |  |

А - АДЕ

В - БВЕ

С - АБГ

Д - ВГДЕ

Правильный ответ - В

Задание 07

| | МАЛЬЧИКИ | | | ДЕВОЧКИ | | |
|----------------|---------------------|-----------------------------|--------------------------------|---------------------|-----------------------------|--------------------------------|
| | Проживают в столице | Проживают в крупных городах | Проживают в сельской местности | Проживают в столице | Проживают в крупных городах | Проживают в сельской местности |
| Соперничество | 35 | 30 | 5 | 5 | 5 | 0 |
| Сотрудничество | 25 | 20 | 50 | 30 | 25 | 55 |
| Компромисс | 20 | 30 | 30 | 35 | 30 | 30 |
| Игнорирование | 10 | 15 | 10 | 5 | 10 | 5 |
| Приспособление | 10 | 5 | 5 | 25 | 30 | 10 |

Перед вами данные социологических опросов школьников 6–7 классов страны Z. Им предложили определить, какой тип поведения в межличностном конфликте они выбирают (согласно концепции К. Томаса – Р. Киллмена). Результаты опросов (в процентах от числа отвечавших) представлены в таблице.

Какие выводы можно сделать на основе полученных в ходе социологических опросов данных?

Укажите все правильные ответы.

А - Выбор поведения в межличностном конфликте зависит от типа населённого пункта, в котором проживают опрашиваемые.

В - Мальчики гораздо чаще девочек выбирают такой тип поведения в межличностном конфликте как соперничество.

С - Опрашиваемые могли дать несколько ответов на поставленный вопрос.

Д - Примерно одинаковые доли опрошенных, проживающих во всех типах населённых пунктов, выбрали сотрудничество как оптимальный, на их взгляд, способ поведения в межличностном конфликте.

Е - Наименее популярен среди девочек вне зависимости от места их проживания такой тип поведения в межличностном конфликте как «соперничество».

Ф - Мальчики в стране Z в большей степени склонны к агрессии при возникновении межличностных конфликтов.

Правильный ответ - А, В, Е

Задание 08

Решите экономическую задачу.

Старшеклассник Константин решил выпекать дома пирожные и продавать их своим одноклассникам. Для того, чтобы приготовить одно пирожное, Константину нужно потратить на ингредиенты 20 рублей, учесть

коммунальные расходы (он использует электропечь) в размере 2 рублей (для производства одного пирожного). Чтобы привезти пирожные в школу, ему нужно заплатить за проезд 30 рублей. Известно, что в классе, в котором учится Константин, 25 человек. Константин хочет зарабатывать 500 рублей от каждой партии пирожных.

По какой цене Константину нужно продавать одно пирожное, чтобы получить желаемую прибыль?

Укажите верный вариант ответа.

A - 20 рублей

B - 23 рубля

C - 30 рублей

D - 43 рубля

Правильный ответ - D

Задание 09

Старшеклассник Константин решил выпекать дома пирожные и продавать их своим одноклассникам. Для того, чтобы приготовить одно пирожное, Константину нужно потратить на ингредиенты 20 рублей, учесть коммунальные расходы (он использует электропечь) в размере 2 рублей (для производства одного пирожного). Чтобы привезти пирожные в школу, ему нужно заплатить за проезд 30 рублей.

Укажите, что из перечисленного ниже характеризует экономическую деятельность Константина:

A) Константин комбинирует различные факторы производства, такие как труд, капитал, информация.

B) Константин оказывает услуги.

B) Константин выполняет посредническую деятельность.

Г) Константин работает сам, поэтому затрат на выплату заработной платы у него нет.

Д) Чтобы получить прибыль, он должен установить цену на свои пирожные не ниже, чем величина затрат на их производство.

Е) Константин может не опасаться за свою продукцию, ведь выпечка не требует обязательной сертификации в Российской Федерации.

A - АВГ

B - АД

C - БГДЕ

D - ВГЕ

Правильный ответ - В

Задание 10

Случается, что жизненные ситуации ограничивают возможности человека. По статистике, в современном мире каждый десятый человек имеет ограниченные возможности здоровья. Причины ограничения возможностей здоровья разнообразны, от этого не застрахован ни один человек. Ограничение возможностей человека вызывает необходимость его социальной защиты.

Укажите все верные суждения о людях с ограниченными возможностями здоровья и помощи им в Российской Федерации.

- А) Помочь людям с ограниченными возможностями здоровья может только государство.
- Б) Основным нормативным актом, нацеленным на защиту людей с ограниченными возможностями здоровья в Российской Федерации, является федеральный закон «О социальной защите инвалидов в Российской Федерации».
- В) Важнейшая задача российского государства состоит в том, чтобы здоровые люди и люди с ограниченными возможностями здоровья могли учиться и работать бок о бок, относились друг к другу с уважением.
- Г) Все люди с ограниченными возможностями здоровья видны «невооружённым глазом», поэтому каждый гражданин может и должен оказывать им посильную помощь в адаптации к общественной жизни.
- Д) Одним из важных элементов помощи людям с ограниченными возможностями здоровья является создание безбарьерной среды в населённых пунктах, что обеспечивает равный доступ к спортивным сооружениям, местам отдыха, развлечениям.
- Е) В Москве с 1991 года работает Российская государственная специализированная академия искусств – высшее учебное заведение, специализирующееся на обучении студентов с ограниченными физическими возможностями.

A - АБГД

B - АВДЕ

C - БВГ

D - БВДЕ

Правильный ответ - D

Задание 11

Установите соответствие между выдающимися учёными и деятелями искусства России и их открытиями и достижениями:

1. Н.И. Пирогов
2. О. Мелджер
3. М. Склодовская
4. М. Плисецкая
5. А.К. Гейм
6. К.А. Бархатова

А - Создатель военно-полевой хирургии, топографической анатомии, русской школы анестезии. Превратил хирургию в науку.

В - Учёный-практик, конструктор первых работающих моделей паровых машин на уральских заводах.

С - Учёный-физик, первооткрывательница радиоактивности (и самого термина «радиоактивность»).

Д - Выдающаяся балерина, создательница собственного стиля в балетном искусстве, особенно удавались ей трагедийные роли.

Е - Создал принципиально новый материал, который пока не имеет достаточно широкого применения.

Ф - Астроном с мировым именем. Прославилась благодаря руководству проектом по созданию «Атласа диаграмм “цвет – величина” рассеянных звездных скоплений».

Правильный ответ - А-1 В-2 С-3 D-4 Е-5 F-6

Задание 12



Считается, что древнейшим способом передачи культуры является религия. Роль религии в культуре современного мира остаётся значительной. Не случайно в принятых в 2020 году изменениях в Конституцию РФ (статья 67.1) вера в Бога упоминается в связи с важнейшими духовными ценностями, переданными предками современным россиянам. Перед вами карта России. **Определите территория расселения приверженцев какой традиционной религии отмечена на карте России жёлтым цветом.**

А - Приверженцев родоплеменных культов

В - Буддистов

С - Иудеев

Д - Христиан

Е - Мусульман


Правильный ответ - В

Задание 13

Студент гуманитарного факультета участвует в конференции, посвящённой историческим типам обществ. На дверях каждой из аудиторий, где будут проходить выступления, висят иллюстрации, характеризующие определённый исторический тип общества. Студент подготовил доклад об

аграрном обществе. Помогите ему найти нужную аудиторию.

Укажите два изображения, иллюстрирующих аграрный тип общества:



А - АВ

В - БЕ

С - ГД

Д - ДЕ

Правильный ответ - В

Вариант 2

Задание 01

Общество состоит из четырёх сфер, каждая из которых включает наиболее устойчивые формы взаимодействия людей и социальных групп.

Укажите, что из перечисленного ниже относится к политической сфере жизни общества:

А - Уже в эпоху первобытности происходит выделение знати и появление неравенства.

В - Шедевр западноевропейской готики – Шартрский собор (Франция) сохранился с конца XIII в. до наших дней практически в первоначальном виде.

С - В эпоху Средневековья одним из наиболее значительных событий стали крестовые походы, в результате которых на Ближнем Востоке возникли новые христианские государства.

Д - В Древней Греции возник театр.

Правильный ответ - С

Задание 02

Потребность – это необходимость (нужда, надобность) в чём-либо, требующая удовлетворения. Согласно концепции американского ученого А. Маслоу, потребности можно разделить на первичные и вторичные.

Из предложенных примеров отметьте те, которые относятся ко вторичным потребностям:

А) Жители страны А покупают в магазинах исключительно товары первой необходимости.

Б) Жители страны В, наоборот, всё чаще приобретают такие предметы, которые свидетельствуют об их высоком статусе в обществе.

В) Жители страны В уделяют большое внимание своему здоровью и здоровью своих близких, регулярно проходят медицинские осмотры и обследования.

Г) Жители страны А в отличие от жителей страны В чаще участвуют в коллективных событиях, которые сами организуют.

Д) В стране А увеличивается количество тех, кто посещает художественные и музыкальные школы.

Е) Жители страны В чаще строят дома за пределами города, чтобы иметь возможность дышать свежим воздухом и наслаждаться природой.

A - АБД

B - БГД

C - АВЕ

D - БВЕ

Правильный ответ - B

Задание 03

Во все исторические эпохи крайне важным для человека был процесс познания, т.е. приобретения, систематизации знаний о мире, обществе и человеке. При этом познание осуществляется на чувственном и рациональном уровнях.

В приведённом ниже тексте каждое предложение пронумеровано. **Укажите те предложения, которые относятся к рациональному уровню познания:**

(1) Гипотеза учёных, занимающихся изучением влияния спорта на организм человека, заключается в том, что частые тренировки приводят к улучшению состояния здоровья и качества жизни. (2) Учёные, чтобы подтвердить собственную гипотезу, изучают две группы людей: представители первой на регулярной основе занимаются спортом, представители второй – спортом не занимаются. (3) Те люди, которые занимаются спортом, отмечают, что чувствуют улучшение состояния своего здоровья, они чаще радуются происходящим вокруг них событиям, ощущая полноту жизни, которую они ведут. (4) Представители второй группы, наоборот чаще испытывают тревогу и стресс, волнуются по пустякам. (5) Они замечают ухудшение состояния своего здоровья.

A - 1

B - 2

C - 3

D - 4

E - 5

Правильный ответ - A, B

Задание 04

Деятельность – это действия человека с применением специальных средств, направленные на достижение целей и удовлетворение потребностей.

Установите соответствие между видом деятельности и примером, который его иллюстрирует:

1. Общение
2. Труд
3. Творчество

А - Прочитав во время летних каникул произведение А.С. Пушкина «Дубровский», школьник Евпедрахий поспорил с родителями о морали данного произведения.

В - Александр Петрович – профессор крупного вуза, выступил на конференции с докладом о важности творчества в повседневной жизни человека.

С - В советское время многие художники создавали картины, на которых был изображён тяжёлый труд рабочих.

Правильный ответ - А-1 В-2 С-3

Задание 05



Перед вами иллюстрация, на которой изображён школьный класс.

Укажите ответы, относящиеся к иллюстрации, которые являются верными:

А) Учащиеся класса непосредственно и постоянно контактируют друг с другом.

- Б) Школьный класс – это всегда сплочённый коллектив.
- В) На поведение учащихся класса оказывают первостепенное влияние традиции, которые сложились в данном коллективе.
- Г) Ожидание определённого поведения от ученика класса называется групповым поведением.
- Д) Школьный класс – это малая социальная группа.
- Е) В классе, как и в любой социальной группе, есть лидер (официальный или эмоциональный).

А - АДЕ

В - БВГ

С - АВД

Д - БГЕ




Правильный ответ - А

Задание 06

Социальные нормы – это правила поведения человека в обществе.

Социальных норм, определяющих наше поведение, очень много.

Укажите, какие примеры иллюстрируют правовые нормы:

| | |
|----|--|
| А) | Согласно статье XV Салической правды, убийство свободного франка каралось наказанием в 100 солидов |
| Б) | 10 библейских заповедей |
| В) | Семья Захарьиных каждый год в преддверии Пасхи красит яйца и печёт куличи |
| Г) |  |
| Д) |  |
| Е) |  |

А - АВВ

В - АГД

С - ВДЕ

Д - БГ

Правильный ответ - В

Задание 07

| | ШКОЛЬНИКИ 6-7 КЛАССОВ | | ШКОЛЬНИКИ 10-11 КЛАССОВ | |
|----------------|-----------------------|---------|-------------------------|---------|
| | Мальчики | Девочки | Мальчики | Девочки |
| Соперничество | 35 | 10 | 10 | 5 |
| Сотрудничество | 25 | 30 | 35 | 45 |
| Компромисс | 20 | 30 | 20 | 40 |
| Игнорирование | 10 | 5 | 20 | 5 |
| Приспособление | 10 | 25 | 15 | 5 |

Перед вами данные социологических опросов школьников 6-7 и 10-11 классов страны Z. Им предложили определить, какой тип поведения в межличностном конфликте они выбирают (согласно концепции К. Томаса – Р. Киллмена). Результаты опросов (в процентах от числа отвечавших) представлены в таблице.

Какие выводы можно сделать на основе полученных в ходе социологических опросов данных?

Укажите все правильные ответы.

А - Доля опрошенных, которые считают компромисс лучшим типом поведения в межличностном конфликте, в разных возрастных группах опрошенных одинакова.

В - Мальчики 6-7 классов гораздо чаще девочек выбирают такой тип поведения в межличностном конфликте как соперничество.

С - Опрашиваемые могли дать несколько ответов на поставленный вопрос.

Д - Наиболее популярным ответом среди учащихся 10-11 классов является сотрудничество.

Е - В отличие от младших подростков старшие школьники владеют большей информацией о межличностных конфликтах, поэтому лучше умеют контролировать собственные чувства и эмоции, чаще избегают конфликтов.

Ф - Игнорирование как тип поведения в конфликте является наименее распространенным типом поведения в межличностном конфликте во всех группах опрошенных.

Правильный ответ - В, Д

Задание 08

Решите экономическую задачу.

Предприниматель Кондратий открыл стартап по ремонту смартфонов. Размер его затрат ежемесячно составляет 150 000 рублей, при этом величина его ежемесячной выручки около 195 000 рублей.

Какова прибыль Кондратия? Какова средняя стоимость ремонта одного смартфона в мастерской у Кондратия, если известно, что ежемесячно Кондратий ремонтирует около 150 смартфонов?

Укажите верный вариант ответа.

А - Прибыли нет, Кондратий работает себе в убыток

В - Прибыль 195 000 рублей, стоимость ремонта одного смартфона 1 300 рублей

С - Прибыль 45 000 рублей, стоимость ремонта одного смартфона 1 000 рублей

Д - Прибыль 45 000 рублей, стоимость ремонта одного смартфона 1 500 рублей

Правильный ответ - С

Задание 09

Предприниматель Кондратий открыл стартап по ремонту смартфонов. Размер его затрат ежемесячно составляет 150 000 рублей, при этом величина его ежемесячной выручки около 195 000 рублей.

Какие выводы можно сделать о деятельности Кондратия?

А) Кондратий оказывает услуги.

Б) Кондратий в своей деятельности не использует факторы производства.

В) Кондратий занимается производственной деятельностью.

Г) Кондратий работает сам, поэтому затрат на выплату заработной платы у него нет.

Д) В случае болезни и иных непредвиденных обстоятельств Кондратий не сможет получать прибыль от своей деятельности, если он работает один.

Е) Кондратий может не опасаться за качество выполняемой им работы, т.к. для её осуществления не требуется специальная квалификация или образование.

А - АВ

В - АД

С - БДЕ

Д - БВГ

Правильный ответ - В

Задание 10

Случается, что жизненные ситуации ограничивают возможности человека. По статистике, в современном мире каждый десятый человек имеет ограниченные возможности здоровья. Причины ограничения возможностей здоровья разнообразны, от этого не застрахован ни один человек. Ограничение возможностей человека вызывает необходимость его социальной защиты.

Укажите верные суждения о людях с ограниченными возможностями здоровья и помощи им в Российской Федерации:

А) Помочь людям с ограниченными возможностями здоровья может каждый человек.

Б) В Российской Федерации нет специальных нормативных актов, гарантирующих право лиц с ограниченными возможностями здоровья, получить социальную помощь.

В) В Российской Федерации активно развивается инклюзивное образование - такой процесс обучения и воспитания, при котором все дети, в независимости от их физических, психических, интеллектуальных и иных особенностей, включены в общую систему образования и обучаются по месту жительства вместе со своими сверстниками без инвалидности.

Г) Люди с ограниченными возможностями здоровья могут быть разными и чрезвычайно сильно отличаться друг от друга в плане собственных образовательных возможностей.

Д) В Российской Федерации повсеместно создана безбарьерная среда для удобства перемещения людей с ограниченными возможностями здоровья.

Е) В Российской Федерации отсутствуют высшие учебные заведения для лиц с ограниченными возможностями здоровья, они могут обучаться в обычных вузах, куда поступают на конкурсной основе наряду с другими абитуриентами.

А - АВГ

В - АБГЕ

С - БВГ

Д - БВДЕ

Правильный ответ - А

Задание 11

Установите соответствие между выдающимися учёными и деятелями искусства России и их открытиями и достижениями:

1. С. Ковалевская
2. Д. Планер
3. М. Верёвкина
4. М. Шолохов
5. Ж. Алфёров
6. С. Ворошилова-Романская

А - Открыла третий классический случай разрешимости задачи о вращении твердого тела вокруг неподвижной точки.

В - Инженер по образованию, переводчик работ многих иностранных авторов. В его честь назван минерал.

С - Известный художник, ученица Ильи Репина. Изначально работала в стиле реализма, за что получила прозвище «Русского Рембрандта».

Д - Всего третий лауреат Нобелевской премии по литературе в России/СССР.

Е - Учёный-физик, создатель работающего полупроводникового лазера, который теперь применяется в оптико-волоконной связи.

Ф - Первая русская женщина, профессионально занимавшаяся астрономией. Выполнила более 23 тысяч высокоточных наблюдений широт.

Правильный ответ - А-1 В-2 С-3 Д-4 Е-5 Ф-6

Задание 12



Считается, что древнейшим способом передачи культуры является религия. Роль религии в культуре современного мира остаётся значительной. Не случайно в принятых в 2020 году изменениях в Конституцию РФ (статья 67.1) вера в Бога упоминается в связи с важнейшими духовными ценностями, переданными предками современным россиянам. Перед вами карта России. **Определите территория расселения приверженцев какой традиционной религии отмечена на карте России зелёным цветом:**

А - Приверженцев родоплеменных культов

В - Буддистов

С - Иудеев

Д - Христиан

Е - Мусульман

Правильный ответ - Е

Задание 13

Студент гуманитарного факультета участвует в конференции, посвящённой различным историческим типам обществ. На дверях каждой из аудиторий, где будут проходить выступления, висят иллюстрации, характеризующие определённый исторический тип общества. Студент подготовил доклад об индустриальном обществе. Помогите ему найти нужную аудиторию.

Укажите два изображения, иллюстрирующих индустриальный тип общества:



А - АД

В - БЕ

С - ВД

Д - ГЕ

Правильный ответ - С

Вариант 3

Задание 01

Общество состоит из четырёх сфер, каждая из которых включает наиболее устойчивые формы взаимодействия людей и социальных групп.

Укажите, что из перечисленного ниже относится к духовной сфере жизни общества:

А - В XVIII в. до н.э. в правление вавилонского царя Хаммурапи были записаны одни из древнейших дошедших до нашего времени законов.

В - Первой мировой религией стал буддизм, возникший в южной Азии в VI в. до н.э.

С - Длительное время в европейских странах эпохи Средневековья существовало натуральное хозяйство.

Д - Населения Китая в древности, и в эпоху Средневековья делилось на привилегированные и непривилегированные сословия.

Правильный ответ - В

Задание 02

Потребность – это необходимость (нужда, надобность) в чём-либо, требующая удовлетворения. Традиционно потребности делятся на биологические (физиологические), социальные и духовные.

Из предложенных примеров укажите те, которые относятся к социальным потребностям:

А) Всё больше жителей страны R ищут работу по специальности.

Б) Из-за высокого уровня благосостояния жители страны R стараются приобретать только высококачественные товары и услуги, тем самым демонстрируя окружающим свой высокий социальный статус.

В) Развитие инфраструктуры в стране R приводит к тому, что люди, живущие рядом друг с другом, начинают чаще общаться.

Г) Жители страны R большое внимание уделяют развитию собственных личностных качеств, стремясь не останавливаться на однажды достигнутом уровне развития.

Д) Всё больше жителей страны R стало заниматься в художественных и музыкальных школах, развивая собственные задатки и способности.

Е) Возросшая мобильность в стране R привела к тому, что многие семьи стали менять место жительства, в результате у детей возросла нужда включения в новые коллективы сверстников в детских садах и школах, где они продолжали получение образования.

A - АБД

B - БГД

C - АВЕ

D - БВЕ

Правильный ответ - C

Задание 03

Во все исторически эпохи крайне важным для человека был процесс познания, т.е. приобретения, систематизации знаний о мире, обществе и человеке. При этом познание осуществляется на чувственном и рациональном уровнях. В приведённом ниже тексте каждое предложение пронумеровано.

Укажите те предложения, которые характеризуют чувственный уровень познания.

(1) Сперва люди познают окружающий их мир при помощи данных от природы органов зрения, слуха, осязания, обоняния, вкуса. (2) Результатом такого познания является образ конкретного предмета, возникающий в сознании человека, например, круглый жёлтый теннисный мячик или холодное, тающее во рту, вкусное мороженое. (3) С помощью мышления человек способен выявлять существенные свойства процессов и явлений, с которыми он сталкивается. (4) В процессе мышления человек использует понятия, рассуждает, делает выводы, выявляет закономерности. (5) Именно понятия затем используются в суждениях, которые утверждают или отрицают наличие определённых свойств процессов и явлений.

A - 1

B - 2

C - 3

D - 4

E - 5

Правильный ответ - A, B

Задание 04

Деятельность – это действия человека с применением специальных средств, направленные на достижение целей и удовлетворение потребностей.

Установите соответствие между видом деятельности и примером, который его иллюстрирует:

1. Труд
2. Учение
3. Игра

А - После окончания рабочего дня сотрудники клининговой службы осуществляют уборку всех помещений офиса.

В - Даниилу Константиновичу пришлось записаться на курсы по вождению, т.к. он хотел работать водителем в крупной транспортной компании.

С - Евлампия каждый день после уроков заходит у себя на телефоне в приложение Brawl Stars, чтобы отдохнуть и вместе с друзьями пройти пару режимов.

Правильный ответ - А-1 В-2 С-3

Задание 05



Перед вами иллюстрация, на которой изображена спортивная команда. Укажите ответы, относящиеся к иллюстрации, которые являются верными:

- А) Спортивная команда устроена на принципах равенства, в ней нет социальной роли лидера.
- Б) Членов спортивной команды, изображённой на иллюстрации, объединяет совместная деятельность, направленная на достижение цели.
- В) В спортивной команде, где все игроки могут взять на себя лидирующие функции, нет места конформизму.
- Г) Спортивная команда является малой группой.
- Д) Эмоциональное состояние членов спортивной команды не влияет на достижение группой своей цели.
- Е) Спортивная команда может быть как первичной, так и вторичной социальной группой.

А - АДЕ

В - БВГ

С - АВД

Д - БГЕ



Правильный ответ - Д

Задание 06

Социальные нормы – это правила поведения человека в обществе.

Социальных норм, определяющих наше поведение, очень много.

Укажите, какие примеры иллюстрируют религиозные нормы:

| | |
|----|---|
| А) | Паломничество мусульман, связанное с посещением Мекки и её окрестностей в определённое время |
| Б) | Василия оштрафовали за то, что он не оплатил свой проезд в общественном транспорте |
| В) | Человек, который решит поступить на работу в компанию Google, должен разделять десять базовых принципов её деятельности |
| Г) |  |
| Д) |  |
| Е) |  |

А - АБЕ

В - БВГ

С - АДЕ

Д - АГДЕ

Правильный ответ - С

Задание 07

| | ШКОЛЬНИКИ в 2012 г. | | ШКОЛЬНИКИ в 2022 г. | |
|----------------|---------------------|---------|---------------------|---------|
| | Мальчики | Девочки | Мальчики | Девочки |
| Соперничество | 40 | 30 | 10 | 10 |
| Сотрудничество | 15 | 25 | 35 | 45 |
| Компромисс | 15 | 20 | 30 | 35 |
| Игнорирование | 10 | 5 | 20 | 5 |
| Приспособление | 20 | 20 | 5 | 5 |

Перед вами данные социологических опросов школьников 6-7 классов страны Z, проведенные в 2012 и 2022 гг. Им предложили определить, какой тип поведения в межличностном конфликте они выбирают (согласно концепции К. Томаса – Р. Киллмена). Результаты опросов (в процентах от числа отвечавших) представлены в таблице.

Какие выводы можно сделать на основе полученных в ходе социологических опросов данных?

Укажите все правильные ответы.

A - Компромисс – лучший тип поведения в межличностном конфликте

B - В стране Z активно развивается психологическая служба, обеспечивающая поддержку школьников, поэтому доля тех, кто выбирает соперничество как тип поведения в межличностном конфликте, сократилась более чем в 3 раза

C - Опрашиваемые могли дать только один ответ на поставленный вопрос

D - В 2022 г. наименее популярным типом поведения в межличностном конфликте, как среди мальчиков, так и среди девочек, стало приспособление

E - В 2022 году и у опрошенных мальчиков, и у опрошенных девочек наиболее популярным типом поведения в конфликте было сотрудничество

F - Опрашиваемые ни в 2021, ни в 2022 гг. не понимают разницы между компромиссом и сотрудничеством, как типами поведения в межличностном конфликте

Правильный ответ - D, E

Задание 08

Решите экономическую задачу.

У Валентина есть бабушка, которая ежегодно тратит 2 000 рублей на рассаду овощей и 1 000 рублей на рассаду цветов. Валентин хочет помочь бабушке и выращивать рассаду самостоятельно. Для выращивания такого же количества рассады, которое покупает бабушка, Валентину нужно закупить семена

капусты, помидоров, огурцов, петуний и бархатцев (каждые по 20 рублей за пакетик), 10 упаковок грунта по 75 рублей за упаковку, удобрения для овощей и цветов за 200 рублей, приспособления для пикировки (пересадки) растений за 100 рублей, ёмкости для рассады на общую сумму 500 рублей. Также Валентину нужно учесть расходы на полив рассады (около 150 рублей) и её освещение специальной лампой (еще около 150 рублей). Ламп для освещения требуется 2 штуки, каждая из них стоит 400 рублей.

Посчитайте общие затраты Валентина и размер экономии бабушкиных средств.

Укажите верный вариант ответа.

А - Затраты 2 020 рублей, экономия – 980 рублей

В - Затраты 2 500 рублей, экономия – 500 рублей

С - Затраты 2 900 рублей, экономия – 100 рублей

Д - Затраты превышают 3 000 рублей, сэкономить не получится

Правильный ответ - С

Задание 09

У Валентина есть бабушка, которая ежегодно тратит 2 000 рублей на рассаду овощей и 1 000 рублей на рассаду цветов. Валентин хочет помочь бабушке и выращивать рассаду самостоятельно. Для выращивания такого же количества рассады, которое покупает бабушка, Валентину нужно закупить семена капусты, помидоров, огурцов, петуний и бархатцев (каждые по 20 рублей за пакетик), 10 упаковок грунта по 75 рублей за упаковку, удобрения для овощей и цветов за 200 рублей, приспособления для пикировки (пересадки) растений за 100 рублей, емкости для рассады на общую сумму 500 рублей. Также Валентину нужно учесть расходы на полив рассады (около 150 рублей) и ее освещение специальной лампой (еще около 150 рублей). Ламп для освещения требуется 2 штуки, каждая из них стоит 400 рублей.

Какие выводы можно сделать о деятельности Валентина?

А) Валентин занимается посреднической деятельностью.

Б) Валентин производит блага.

В) Валентин комбинирует в своей деятельности такие факторы производства, как земля, труд, капитал, информация.

Г) Деятельность Валентина нельзя назвать экономической, ведь он выращивает рассаду не для продажи, а для любимой бабушки, которой отдаёт её бесплатно.

Д) Деятельность Валентина нельзя назвать рациональной, ведь он действует себе в убыток.

Е) Валентин занимается производственной деятельностью.

А - АБВ

В - БВЕ

С - ГДЕ

Д - АВГЕ

Правильный ответ - В

Задание 10

Случается, что жизненные ситуации ограничивают возможности человека. По статистике, в современном мире каждый десятый человек имеет ограниченные возможности здоровья. Причины ограничения возможностей здоровья разнообразны, от этого не застрахован ни один человек. Ограничение возможностей человека вызывает необходимость его социальной защиты.

Укажите верные суждения о людях с ограниченными возможностями здоровья и помощи им в Российской Федерации:

- А) Ограниченные возможности здоровья могут быть различными: ограничения в физическом и (или) психическом развитии (глухие, слабослышащие, слепые, слабовидящие, с тяжёлыми нарушениями речи, нарушениями опорно-двигательного аппарата и др.).
- Б) Единственным нормативным актом, нацеленным на защиту людей с ограниченными возможностями здоровья в Российской Федерации, является Конституция РФ.
- В) Важнейшая задача российского государства состоит в том, чтобы здоровые люди и люди с ограниченными возможностями здоровья могли учиться и работать бок о бок, относились друг к другу с уважением. Этот процесс называется эксклюзия.
- Г) Не все люди с ограниченными возможностями здоровья видны «невооружённым глазом», задача общества состоит в том, чтобы оказывать им посильную помощь в адаптации к жизни в социуме.
- Д) У людей с ограниченными возможностями здоровья иные потребности, чем у остальных людей.
- Е) Для глухих людей на телевидении и некоторых интернет-каналах имеются сурдопереводчики, которые с помощью жестов передают сообщаемую информацию.

А - АБГД

В - АГЕ

С - БВГ

D - БВДЕ

Правильный ответ - В

Задание 11

Установите соответствие между выдающимися учёными и деятелями искусства России и их открытиями и достижениями:

1. Е. Перельман
2. П. Рычков
3. Н. Гончарова
4. Е. Вучетич
5. Е. Рубинштейн
6. С. Рихтер

А - Один из наиболее выдающихся математиков современности. Решил одну из семи Задач Тысячелетия и сумел доказать гипотезу Пуанкаре.

В - Известный географ, историк, краевед, считается основоположником экономической географии в России.

С - Известная художница, одной из первых обратила внимание на технику коллажа, работала в стиле лучизма.

D - Участник Великой Отечественной войны. Один из наиболее известных советских скульпторов-монументалистов.

Е - Первая в России женщина-климатолог, занималась изучением изменений климата и прогнозированием погоды.

F - Пианист XX в., обладавший виртуозной техникой. Отличался глубиной исполнения.

Правильный ответ - А-1 В-2 С-3 D-4 Е-5 F-6

Задание 12



Считается, что древнейшим способом передачи культуры является религия. Роль религии в культуре современного мира остаётся значительной. Не случайно в принятых в 2020 году изменениях в Конституцию РФ (статья 67.1) вера в Бога упоминается в связи с важнейшими духовными ценностями, переданными предками современным россиянам. Перед вами карта России. **Определите территория расселения приверженцев какой традиционной религии отмечена на карте России синим цветом.**

А - Приверженцев родоплеменных культов

В - Буддистов

С - Иудеев

Д - Христиан

Е - Мусульман

Правильный ответ - А

Задание 13

Студент гуманитарного факультета участвует в конференции, посвящённой различным историческим типам обществ. На дверях каждой из аудиторий, где будут проходить выступления, висят иллюстрации, характеризующие определённый исторический тип общества. Студент подготовил доклад о постиндустриальном обществе. Помогите ему найти нужную аудиторию.

Укажите два изображения, иллюстрирующих постиндустриальный тип общества.



А - АГЕ

В - БД

С - БВГ

Д - ВД

Правильный ответ - Д