

## 9 класс

### Вариант 1

#### Задание 01

По данным Data Insight, за последний год продажи у селлеров маркетплейсов выросли сильнее, чем у владельцев собственных интернет-магазинов.

В чем преимущества маркетплейса как электронной площадки для продажи товаров в интернете?

**Укажите все верные ответы:**

**A** - Продавцам проще найти покупателей, ведь площадки рекламируют себя самостоятельно.

**B** - Начать торговать на площадках продавцам легко — это можно делать даже со статусом самозанятого.

**C** - Из-за серьёзной конкуренции некоторые продавцы подключают рекламу внутри площадок и пользуются платными сервисами для анализа продаж.

**D** - Затраты продавцов на продвижение, маркетинг и рекламу на маркетплейсах меньше.

**E** - Товар нельзя продавать по всей России и тем более за рубеж.

Правильный ответ - A, B, D

#### Задание 02

**Укажите долгосрочные цели политики импортозамещения для РФ на современном этапе, когда поступление импортной продукции искусственно ограничено:**

**A** - Достижение технологической независимости в критических областях

**B** - Увеличение геополитических и валютных рисков

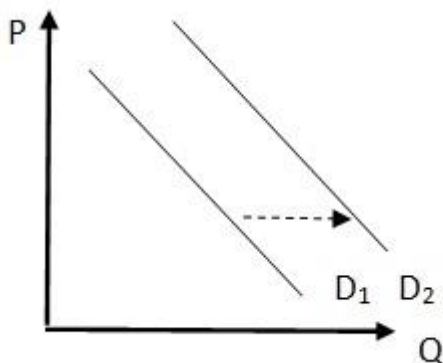
**C** - Создание промышленного производства, продукция которого может оказать достойную конкуренцию иностранной как на внутреннем, так и на международном рынке

**D** - Формирование положительного сальдо торгового баланса

**E** - Сокращение зависимости от поставок импортных товаров и технологий из западных стран и переключение на ввоз импортной продукции из дружественных РФ

Правильный ответ - А, С, D

### Задание 03



На рисунке показано изменение кривой спроса.

**Укажите ситуации, которые могут быть проиллюстрированы соответствующим изменением спроса:**

- А** - Спрос на услуги детских садов при росте рождаемости
- В** - Спрос на корм животных после публикации в телеграмм канале информации об отравлении животных этим кормом
- С** - Спрос на ювелирные изделия с бриллиантами при 80%-ой скидке
- Д** - Спрос на бытовую технику в условиях повышения ставки по потребительским кредитам
- Е** - Спрос на импортные автомобили, на которые перестали продавать запчасти

Правильный ответ - А, С

### Задание 04

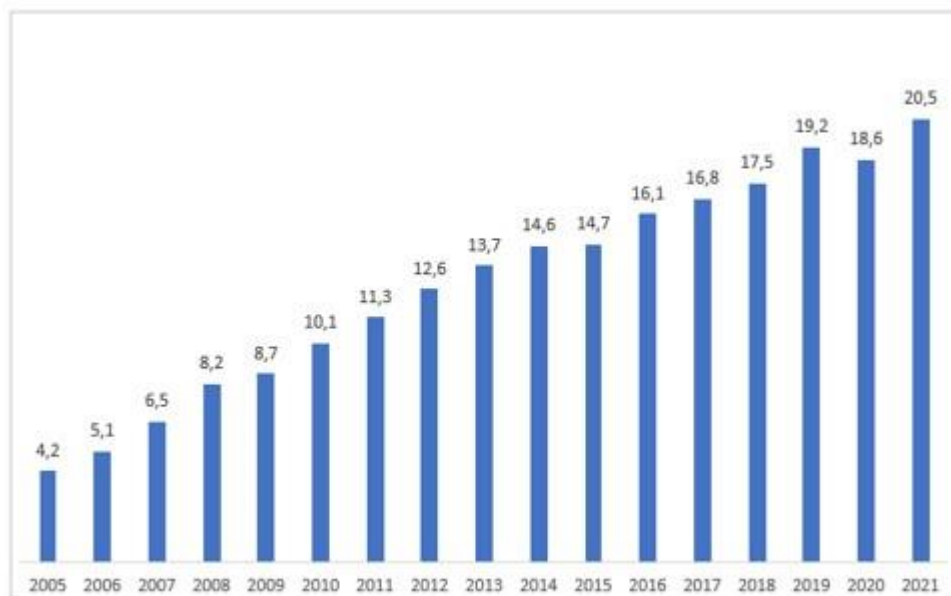
**Укажите, что из перечисленного является примерами ограниченности рыночного механизма:**

- А** - Рынок воспроизводит существенное неравенство.
- В** - Рынок ориентируется на производство социально-необходимых товаров.
- С** - Рынок гарантирует право на труд и доход.
- Д** - Рынок не создает стимулов для производства товаров и услуг коллективного пользования.

**Е** - Рынок подвержен нестабильному развитию, например, экономическим кризисам.

Правильный ответ - А, D, Е

### Задание 05



На рисунке представлена динамика потребительских расходов в среднем на душу населения в месяц, тыс. руб. в РФ.

**Укажите все верные ответы:**

**А** - В 2021 году среднестатистический российский гражданин тратил в месяц чуть более 20 тысяч рублей в номинальном выражении.

**В** - В 2011 году сумма расходов среднестатистического российского гражданина в месяц была почти в два раза больше, чем в 2021 г. в номинальном выражении.

**С** - Сумма расходов среднестатистического российского гражданина в месяц в 2021 г. в реальном выражении, то есть с учетом инфляции, будет меньше 20,5 тыс. руб.

**Д** - Снижение расходов в среднем на душу населения в месяц в 2020 г. обусловлено режимом самоизоляции с марта по май 2020 г. из-за пандемии коронавируса.

**Е** - Реальные потребительские расходы в среднем на душу населения в месяц с 2005 по 2021 год выросли в 5 раз.

Правильный ответ - А, С, D

### Задание 06

Отметьте, какие фундаментальные положения экономической теории иллюстрирует кривая производственных возможностей:

- А - Ограниченность ресурсов
- В - Необходимость выбора
- С - Увеличение альтернативных издержек
- Д - Отсутствие выбора
- Е - Сокращение альтернативных издержек

Правильный ответ - А, В, С

### Задание 07

Q	ТС
0	60
1	140
2	190
3	233
4	280
5	340

Информация об издержках фирмы представлена в таблице.

Укажите все верные ответы:

- А - Общие постоянные издержки равны 60.
- В - Общие переменные издержки равны 140 при  $Q = 1$ .
- С - Средние переменные издержки при  $Q = 5$  равны 56.
- Д - Предельные издержки третьей единицы выпуска равны 43.
- Е - Средние общие издержки равны 140 при  $Q = 2$ .

Правильный ответ - А, С, Д

### **Задание 08**

Рынок товара описывается функцией спроса:  $Q_d = 90 - 20P$  и функцией предложения:  $Q_s = -60 + 30P$ .

**Отметьте, какие утверждения являются верными:**

**A** - Равновесная цена равна 3 ден. ед.

**B** - Равновесный объем равен 90 штук товара.

**C** - Количество товара, которое готовы купить при цене 4 рублей за шт., составляет 10 штук.

**D** - При цене 4 ден. ед. производители готовы продать 60 штук товара.

**E** - При цене ниже 3 ден. ед. на рынке товара возникнет излишек.

Правильный ответ - A, C, D

### **Задание 09**

**Укажите, какие преимущества ожидают фирму при эмиссии ценных бумаг (акций):**

**A** - Более дешевая и более долгая по срокам финансирования альтернатива

**B** - Можно не платить дивиденды при отсутствии прибыли

**C** - Опасность поглощения

**D** - Длительный путь эмиссии

**E** - Нет уплаты процентов за кредит

Правильный ответ - A, B, E

### **Задание 10**

**Укажите, что означает поговорка «Бесплатный сыр бывает только в мышеловке» в экономическом контексте:**

**A** - Ради приобретения одного блага приходится отказываться от чего-то другого.

**B** - Сыр - экономическое благо, поэтому он не бесплатный.

**С** - Сыр имеет цену, потому что ресурсы, необходимые для его производства, ограничены.

**Д** - Любой рациональный человек покупает только дешевый сыр.

**Е** - В мышеловку кладут только самый дешевый сыр.

Правильный ответ - А, В, С

### **Задание 11**

**Подберите наиболее подходящую форму бизнеса, учитывая особенности различных форм его организации, для следующих предприятий:**

1. Индивидуальное предпринимательство
2. Непубличное акционерное общество
3. Общество с ограниченной ответственностью (ООО)
4. Производственный кооператив

**А** - Изготовление поделок и сувениров, мягких кукол

**В** - Нефтяная компания

**С** - Мини-типография

**Д** - Кооператив «Темп»

Правильный ответ - А-1 В-2 С-3 Д-4

### **Задание 12**

**Для каждого понятия, приведенного в левой части, подберите его определение из правой части:**

1. Капитал
2. Безработица
3. Деньги
4. Прибыль

**А** - Собственность, используемая в производстве экономических благ.

**В** - Состояние рынка труда, когда на нем есть свободные ресурсы, но при этом не хватает спроса на труд со стороны работодателей.

**С** - Всеобщий эквивалент, который может обмениваться на любые товары и услуги, выполняя роль измерителя стоимости.

**D** - Доходы – Затраты (в денежном выражении).

Правильный ответ - A-1 B-2 C-3 D-4

### **Задание 13**

**Установите соответствие между отраслевым рынком и соответствующим типом рыночной структуры:**

1. Рынок ценных бумаг
2. Рынок обуви
3. Рынок автомобилей
4. Почтовые услуги

**A** - Совершенная конкуренция

**B** - Монополистическая конкуренция

**C** - Олигополия

**D** - Монополия

Правильный ответ - A-1 B-2 C-3 D-4

### **Задание 14**

**Расположите в хронологическом порядке появление экономических школ и теорий:**

1. 1
2. 2
3. 3
4. 4
5. 5

**A** - Меркантилизм

**B** - Классическая школа (А. Смит, Д. Рикардо)

**C** - Марксизм

**D** - Кейнсианство

**E** - Монетаризм

Правильный ответ - A-1 B-2 C-3 D-4 E-5

## Задание 15

**Расположите в нужном порядке слова в тексте на месте пробелов (все слова указаны в начальной форме).**

Не стоит регистрировать фирму без идеи и четкого понимания, как вы будете получать систематическую \_\_\_\_ (1) \_\_\_\_ . \_\_\_\_ (2) \_\_\_\_ в особенности может быть конкурентоспособен только в том случае, если у владельца есть \_\_\_\_ (3) \_\_\_\_, который дает ему \_\_\_\_ (4) \_\_\_\_ . Чаще всего это его собственные \_\_\_\_ (5) \_\_\_\_ . Начинаящий \_\_\_\_ (6) \_\_\_\_ должен сопоставить все \_\_\_\_ (7) \_\_\_\_ и \_\_\_\_ (8) \_\_\_\_ открытия своего бизнеса, даже если он собирается зарегистрировать ИП, обороты которого будут очень малы.

1. 1
2. 2
3. 3
4. 4
5. 5
6. 6
7. 7
8. 8

**А** - Прибыль

**В** - Малый бизнес

**С** - Актив

**Д** - Конкурентные преимущества

**Е** - Способности

**Ф** - Бизнесмен

**Г** - Выгоды

**Н** - Издержки

Правильный ответ - А-1 В-2 С-3 Д-4 Ф-6 Г-7 Н-8

## Задание 16

**Решите задачу.**

Единица труда в стране Альфания может произвести 10 единиц блага X либо 8 единиц блага Y, в стране Бетания единица труда производит



соответственно 24 единицы блага X либо 30 единиц блага Y. Предположим, что у страны Альфания имеется в наличии 400 единиц трудовых ресурсов, а у страны Бетания — 1000 единиц.

**Определите альтернативные издержки производства блага X в каждой стране.**

*Впишите полученный ответ без единиц измерения в поле для ответа.* (Пример написания ответа, где первое число - в стране Альфания, а второе - в стране Бетания: 3,4; 1,2)

Правильный ответ - 0,8;1,25

### **Задание 17**

**Решите задачу.**

От монтажников оконных систем жильцы многоквартирного дома, которым предстояло устанавливать новые пластиковые окна, узнали, что в их квартирах уже стоят окна компании. Компания продала монтажникам пластиковые окна со скидкой 45%, а монтаж был для них бесплатным, так как окна они устанавливали сами. Своим заказчикам компания поставляет пластиковые окна по цене 15278 руб., а стоимость монтажных работ составляет 15% от стоимости окон. Для выполнения работ по замене одного окна требуется бригада из 2 монтажников. В течение одного дня такая бригада может установить два окна. За установку одного окна каждому монтажнику компания платит 600 руб.

**Какова альтернативная стоимость замены 6 старых окон в квартирах монтажников на новые пластиковые окна?**

*Впишите полученное число без единиц измерения в поле для ответа*

Правильный ответ - 57617,4

### **Задание 18**

**Решите задачу.**

Функция спроса на товар первой необходимости имеет вид  $Q_d = 60 - 2P$ , где  $Q_d$  — величина спроса на товар в штуках, а  $P$  — цена единицы товара в рублях. Предложение товара задано функцией  $Q_s = 20 + 2P$ , где  $Q_s$  — величина предложения зерна.

**Сколько товара придется купить правительству, чтобы рыночная цена на него установилась на уровне 20 руб. за штуку?**

*Впишите полученное число без единиц измерения в поле для ответа*

Правильный ответ - 40

## Задание 19

Решите задачу.

Для приобретения квартиры, стоимостью 5 млн рублей, в ипотеку, переехавшая в новый город семья Горобченко решила сначала накопить сумму, необходимую для первоначального взноса в размере 10% от стоимости квартиры. Им удалось найти надежный банк, который предложил 2-х летний депозит со ставкой 10% с возможностью пополнения счета.

**Рассчитайте размер первоначального взноса на квартиру через 2 года, предположив, что стоимость квартиры повышается на 20% в год.**

*Впишите полученное число без единиц измерения в поле для ответа*

Правильный ответ - 720000

## Задание 20

Решите задачу.

Иванов, получавший 12 тыс. руб. в год (предположим, что в конце года), решил открыть собственное производство мягких игрушек. Он рассчитывает получить выручку в размере 55 тыс. р. В качестве стартового капитала у него есть 10 тыс. руб. Для открытия собственного дела ему нужно в начале следующего года закупить материалов на 10 тыс. руб., нанять 2 (двух) рабочих с оплатой по 10 тыс. руб. в год каждому (с оплатой в конце года) и занять свою дачу под производственное помещение. Кстати, за аренду дачи ему предлагают 8 тыс. руб. Банковский процент по депозитам равен 30%.

**При каком проценте по депозитам экономическая прибыль равна нулю?**

*Впишите полученное число без единиц измерения в поле для ответа*

Правильный ответ - 50

## Вариант 2

### Задание 01

Ниже перечислены характеристики маркетплейсов в сравнении с интернет-магазинами.

**Укажите все НЕверные утверждения:**

- А** - На маркетплейсе торгует множество продавцов, а не один.
- В** - При торговле на маркетплейсе не нужен собственный сайт.
- С** - В интернет-магазине проще оформить заказ, чем в маркетплейсе.
- Д** - Интернет-магазины более удобны для покупателей, чем маркетплейсы.
- Е** - Доставку берёт на себя маркетплейс.

Правильный ответ - С, Д

### Задание 02

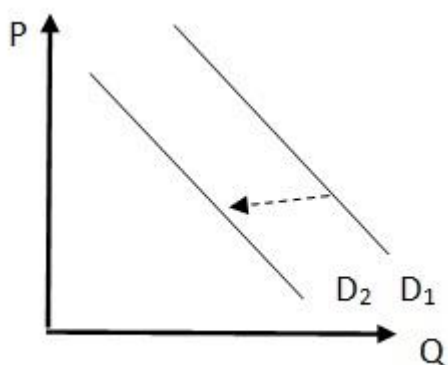
Импортозамещение в РФ требует решения множества задач.

**Укажите, какие сферы на текущем этапе имеют наиболее важное значение для страны:**

- А** - Отечественный подвижный состав и мощные двигатели для него
- В** - Сельскохозяйственное производство
- С** - Авиастроение
- Д** - Программное обеспечение
- Е** - Легкая промышленность

Правильный ответ - А, С, Д

### Задание 03



На рисунке показано изменение кривой спроса.

**Укажите ситуации, которые могут быть проиллюстрированы соответствующим изменением спроса:**

- A** - Спрос на кондиционеры при росте доходов покупателей
- B** - Спрос на детские коляски при «беби-буме»
- C** - Спрос на путевки на средиземноморские курорты в условиях политической нестабильности в этих регионах
- D** - Спрос на мороженое и прохладительные напитки в конце летнего сезона
- E** - Спрос на корм для кошек после неудачной рекламной кампании этого корма на телевидении

Правильный ответ - C, D, E

### Задание 04

**Укажите, что из перечисленного относится к преимуществам рыночного механизма:**

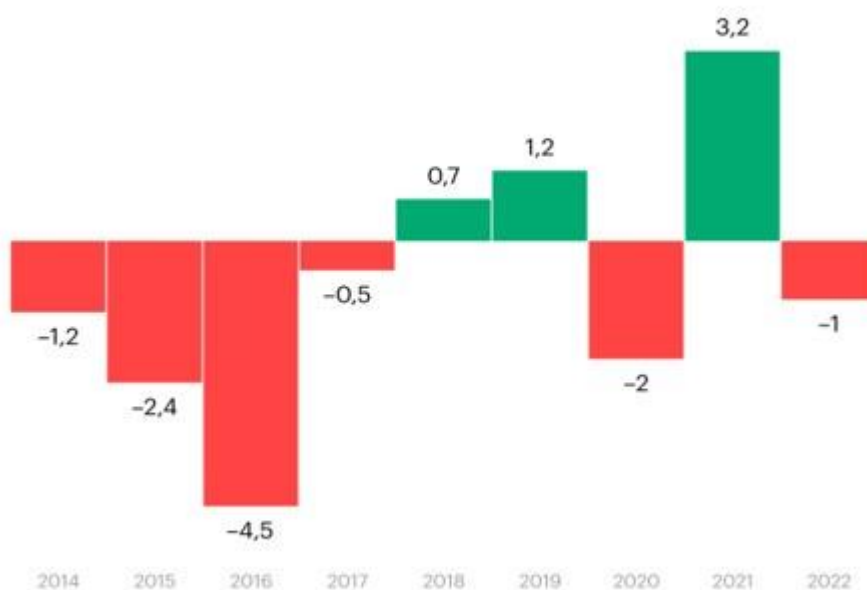
- A** - Высокая дифференциация доходов населения
- B** - Эффективное распределение ресурсов
- C** - Высокая адаптивность к изменяющимся условиям
- D** - Развивается импульсно
- E** - Способность к удовлетворению разнообразных потребностей

Правильный ответ - B, C, E

## Задание 05

### Реальные располагаемые доходы населения

Изменение по сравнению с предыдущим годом, %



Источник: Росстат

© РБК, 2023

На рисунке представлено изменение реальных располагаемых доходов населения в РФ по сравнению с предыдущим годом, в %.

**Укажите все верные ответы:**

**А** - Рост реальных доходов населения в 2021 г. составил 103,2% по сравнению с предыдущим годом.

**В** - Реальные доходы в 2020 г. составили 98% от уровня 2019 г.

**С** - Динамика реальных располагаемых доходов населения в период с 2014 по 2022 гг. свидетельствует о росте уровня жизни.

**Д** - Снижение реальных доходов населения в 2020 г. обусловлено режимом самоизоляции с марта по май 2020 г. из-за пандемии коронавируса.

**Е** - Рост реальных доходов в 2021 г. обусловлен началом специальной военной операции (СВО).

Правильный ответ - А, В, D

### Задание 06

Отметьте, какие утверждения об альтернативной стоимости как экономической категории являются верными:

**A** - Это ценность лучшего из отброшенных вариантов использования ресурса.

**B** - Это синоним издержек производства.

**C** - Это упущенная выгода.

**D** - В денежном эквиваленте альтернативная стоимость рассчитывается по формуле: упущенный доход + издержки для выбранного варианта.

**E** - Альтернативная стоимость включается в бухгалтерскую прибыль.

Правильный ответ - A, C, D

### Задание 07

Q	TC
0	30
1	80
2	120
3	150
4	170
5	210

Информация об издержках фирмы представлена в таблице.  
Укажите все верные ответы:

**A** - Общие постоянные издержки равны 30.

**B** - Общие переменные издержки равны 50 при  $Q = 1$ .

**C** - При  $Q = 5$  средние постоянные издержки равны 6.

**D** - Общие переменные издержки при  $Q = 5$  равны 150.

**E** - Средние общие издержки равны 90 при  $Q = 2$ .

Правильный ответ - A, B, C

### **Задание 08**

Рынок товара описывается следующими функциями спроса:  $Q_d = 12 - 2P$ , а функция предложения:  $Q_s = -3 + P$ .

**Отметьте, какие утверждения являются верными:**

- A** - Равновесная цена равна 5 ден. ед.
- B** - Равновесный объем равен 2 единицам товара.
- C** - По цене 4 ден. ед. покупатели готовы приобрести 4 единицы товара.
- D** - При цене 6 ден. ед. производители готовы продать 4 единицы товара.
- E** - При цене выше 5 ден. ед. на рынке товара возникнет дефицит.

Правильный ответ - A, B, C

### **Задание 09**

**Укажите, что из перечисленного ниже относится к рискам для фирмы при эмиссии ценных бумаг (акций):**

- A** - Акции чаще всего стоят недорого, их может купить большее число инвесторов, каждый по несколько штук.
- B** - Акционеры как совладельцы бизнеса получают часть прибыли — дивиденды. Если прибыли нет, дивиденды не выплачиваются.
- C** - Первичный выпуск акций, или IPO, сложная процедура, она занимает от шести месяцев до нескольких лет.
- D** - По закону компания, осуществившая эмиссию ценных бумаг, должна раскрывать финансовую информацию, собирать общее собрание акционеров для обсуждения вопросов, которые раньше можно было решить без собрания.
- E** - После выпуска акций компания может стать убыточной, что будет видно из ее публичной отчетности.

Правильный ответ - C, D, E

### **Задание 10**

**Укажите, что означает поговорка «У кого много остатку, тот не боится недостатку» в экономическом контексте:**

- A** - Уверенно себя чувствует тот, кто имеет сбережения.

**В** - Даже если у экономического субъекта возникнут трудности, он сумеет их преодолеть, имея накопления.

**С** - Если у фирмы есть прибыль, она успешно преодолеет проблемы даже в кризисный для экономики период.

**Д** - Рациональный человек не боится рисковать.

**Е** - Недостаток чего-либо – это временное явление.

Правильный ответ - А, В, С

### **Задание 11**

**Подберите наиболее подходящий вид предпринимательства для следующих предприятий:**

1. Газпром
2. Федеральная торговая сеть "Пятёрочка"
3. Публичное акционерное общество "Сбербанк России"
4. Росгосстрах

**А** - Производственное предпринимательство

**В** - Коммерческо-торговое предпринимательство

**С** - Финансово-кредитное предпринимательство

**Д** - Страхование предпринимательство

Правильный ответ - А-1 В-2 С-3 D-4

### **Задание 12**

**Установите соответствие между понятием и определением:**

1. Традиционная экономика
2. Инфляция
3. Труд
4. Бартер

**А** - Экономика с традиционными, основанными на обычаях, устоями

**В** - Устойчивое повышение общего уровня цен на товары и услуги

**С** - Физические и умственные способности людей, которые они используют при создании экономических благ



**D** - Вид безналичного расчета, когда из сделки исключены деньги, а обе стороны являются сразу и продавцами, и покупателями

Правильный ответ - А-1 В-2 С-3 D-4

### **Задание 13**

**Установите соответствие между предприятием и соответствующим типом рыночной структуры:**

1. Фирма – производитель зерна
2. Фирма – производитель шоколада Ritter Sport
3. Телекоммуникационные компании
4. Компания, предоставляющая электроэнергию, в маленьком городке

**A** - Совершенная конкуренция

**B** - Монополистическая конкуренция

**C** - Олигополия

**D** - Монополия

Правильный ответ - А-1 В-2 С-3 D-4

### **Задание 14**

**Расположите в хронологическом порядке имена выдающихся экономистов:**

1. 1
2. 2
3. 3
4. 4
5. 5

**A** - А. Смит

**B** - К. Маркс

**C** - Дж. Кейнс

**D** - М. Фридман

**E** - Б. Бернанке

Правильный ответ - А-1 В-2 С-3 D-4 E-5

## Задание 15

Расположите в нужном порядке слова в тексте на месте пробелов (все слова указаны в начальной форме).

Шринкфляция – явление в современной экономике, когда снижается \_\_\_\_\_ 1 \_\_\_\_\_, но сохраняются его \_\_\_\_\_ 2 \_\_\_\_\_ и отпускная \_\_\_\_\_ 3 \_\_\_\_\_. \_\_\_\_\_ 4 \_\_\_\_\_ продовольственных и потребительских товаров знают, что \_\_\_\_\_ 5 \_\_\_\_\_ граждан снижаются, поэтому повышать цены не выгодно. \_\_\_\_\_ 6 \_\_\_\_\_ количества товара в привычной упаковке вызывает у покупателя ложное ощущение стабильности цен. Однако \_\_\_\_\_ 7 \_\_\_\_\_ продают за те же \_\_\_\_\_ 8 \_\_\_\_\_ и, несмотря на благие намерения, получается скрытый \_\_\_\_\_ 9 \_\_\_\_\_ цен

1. 1
2. 2
3. 3
4. 4
5. 5
6. 6
7. 7
8. 8
9. 9

**А** - Количество товара

**В** - Упаковка

**С** - Цена

**Д** - Производители

**Е** - Доходы

**Ф** - Снижение

**Г** - Товары

**Н** - Деньги

**И** - Рост

Правильный ответ - А-1 В-2 С-3 Д-4 Ф-6 Г-7 Н-8 И-9

## Задание 16

Решите задачу.

Единица труда в стране Тальфания может произвести 9 единиц блага X либо 3 единицы блага Y, в стране Мильфания единица труда производит соответственно 12 единицы блага X либо 16 единиц блага Y. Предположим, что у страны Тальфания имеется в наличии 300 единиц трудовых ресурсов, а у страны Мильфания — 500 единиц.

**Определите альтернативные издержки производства блага X в каждой стране.**

*Впишите полученные ответы без единиц измерения в поле для ответа.* (Пример написания ответа: **1,25; 0,34** (где первое число - в стране Тальфания, второе число - в стране Мильфания))

Правильный ответ - 0,33;1,33

## Задание 17

Решите задачу.

Семья Ивановых решила заменить старую входную дверь в квартире, для чего заключила договор на приобретение и установку новой двери с фирмой «Двери даром». От установщиков дверей Ивановы узнали, что работники уже заменили в своих квартирах двери, купив их у фирмы такие же двери в этой фирме со скидкой 25%, а монтаж был бесплатным, так как двери они устанавливали сами. Ивановым фирма продала двери по цене 26350 руб., а стоимость установки составила 10% от цены двери. Для выполнения работ по замене одной двери требуется бригада из 2 человек. В течение одного дня такая бригада может установить одну дверь. За установку одной двери каждому установщику фирма платит 1000 руб.

**Какова альтернативная стоимость замены двух старых дверей на новые в квартирах установщиков?**

*Впишите полученное число без единиц измерения в поле для ответа*

Правильный ответ - 43525

## Задание 18

Решите задачу.

Функция спроса на товар первой необходимости имеет вид  $Q_d = 120 - 4P$ , где  $Q_d$  — величина спроса на товар в штуках, а  $P$  — цена единицы товара в рублях. Предложение товара задано функцией  $Q_s = 40 + 4P$ , где  $Q_s$  — величина предложения зерна.

**Сколько товара придется купить правительству, чтобы рыночная цена на него установилась на уровне 20 руб. за штуку?**

*Впишите полученное число без единиц измерения в поле для ответа*

Правильный ответ - 80

### **Задание 19**

**Решите задачу.**

Чтобы приобрести квартиру стоимостью 3 млн рублей в ипотеку, Мария и Константин решили накопить первоначальный взнос в размере 10% от стоимости квартиры. Молодожены выбрали надежный банк, который предложил 2-х летний депозит со ставкой 15% с возможностью пополнения счета.

**Рассчитайте размер первоначального взноса на квартиру через 2 года, предположив, что стоимость квартиры повышается на 30% в год.**

*Впишите полученное число без единиц измерения в поле для ответа*

Правильный ответ - 507000

### **Задание 20**

**Решите задачу.**

Успешный менеджер Сидоров, получавший 100 тыс. руб. зарплаты в год (предположим, что в конце года), решил открыть собственное производство печенья. Он рассчитывает получить выручку в размере 350 тыс. руб. В качестве стартового капитала у него есть 200 тыс. руб. Для открытия собственного дела ему нужно в начале следующего года закупить сырье на 50 тыс. руб., нанять 2 рабочих с оплатой по 30 тыс. руб. в год каждому (с оплатой в конце года) и занять свою дачу под производственное помещение. Кстати, за аренду дачи ему предлагают 15 тыс. руб. Банковский процент по депозитам равен 10%.

**При каком проценте по депозитам экономическая прибыль равна нулю?**

*Впишите полученное число без единиц измерения в поле для ответа*

Правильный ответ - 62,5