

**МУНИЦИПАЛЬНЫЙ ЭТАП
ВСЕРОССИЙСКОЙ ОЛИМПИАДЫ ШКОЛЬНИКОВ
2022/2023 УЧЕБНОГО ГОДА
8 КЛАСС**

ДОРОГОЙ ДРУГ!

Мы приветствуем Вас на муниципальном этапе предметной олимпиады по обществознанию. Прежде чем приступить к работе, внимательно прочитайте задание и инструкцию к нему.

Есть задания, которые требуют напряжения памяти и точных конкретных ответов на вопросы. Есть задания, для выполнения которых требуется умение логически мыслить, делать выводы, строить умозаключения, правильно и внимательно оценить имеющиеся данные. Задания содержат информацию о баллах, которые вы можете получить за правильное выполнение.

Записывайте свой ответ в этом бланке. Время выполнения – 90 минут.

ПИШИТЕ РАЗБОРЧИВО, ЯРКОЙ ПАСТОЙ

Желаем успеха!

Рейтинговый лист

Задание	1	2	3	4	5	6	7	8	9	10	11	12
Макс. балл:	10	4	5	5	5	5	5	4	4	4	5	12
Баллы участника												
Эксперт 1												
Эксперт 2												
Эксперт 3												

ФИО ЭКСПЕРТА _____

Подпись _____

ФИО ЭКСПЕРТА _____

Подпись _____

ФИО ЭКСПЕРТА _____

Подпись _____

Задание 1. (10 баллов). Начнём с разминки! Правильно ли утверждение? Поставьте «да» в соответствующую ячейку таблицы, если согласны; «нет» – если не согласны. Впишите свой ответ в таблицу.

№	Утверждение	«Да» или «нет»
1	Каждый родившийся ребенок становится человеком только в обществе.	
2	У каждого человека, как и у любого животного, есть инстинкт самосохранения.	
3	Адаптация – это процесс становления человека, суть которого состоит в освоении норм той или иной группы, овладение теми приемами деятельности, которыми владеют другие.	
4	Представители марксизма считают, что решающую роль в обновлении общества играет прогресс.	
5	Революция – это попытка внесения изменений в ход общественного развития.	
6	К духовной сфере относятся взаимоотношения, направленные на получение и удержание власти.	
7	Материальные блага не относятся к формам духовной сферы.	
8	Государственный бюджет – это планируемые государством на год объемы промышленного производства.	
9	Если предложение товара увеличится, то при прочих равных условиях, цены на товары понизятся.	
10	В собственности гражданина Российской Федерации не может находиться самолёт.	

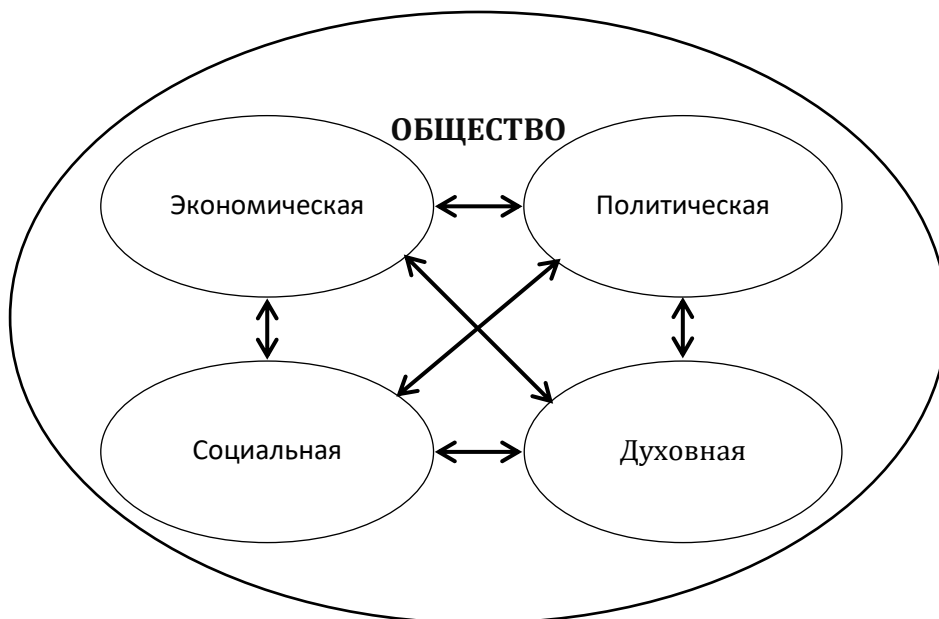
Задание 2. (4 балла). Дайте совет Надежде.

Совершеннолетней Надежде на смартфон пришло сообщение: «Уважаемая Надежда Ивановна, наш банк, клиентом которого Вы являетесь, проводил розыгрыш 1 млн. рублей, и вы оказались победителем. Для подтверждения вашей готовности принять денежный приз пройдите по ссылке ниже в ваш аккаунт в интернет-банкинге нашего банка и нажмите кнопку согласия. После этого Вам на счет будет перечислен выигрыш».

Какое действие следует предпринять девушке в данном случае? Поясните свой ответ.

Ответ: _____

Задание 3. (5 баллов). На уроке обществознания 8Б класс проходил тему «Основные сферы жизни общества». Учитель нарисовала схему и попросила Веру, Игоря, Свету и Макара соотнести сферы жизни общества и примеры их проявления, которые приведены ниже.



- А) Выборы президента в стране Z.
- Б) Церковное богослужение в храме Христа Спасителя.
- В) Заказ на Aliexpress деталей для велосипеда.
- Г) Перемещение беженцев в Россию.
- Д) Съезд ЛДПР.
- Е) Изменение закона «О штрафах».
- Ж) Посещение выставки «Рюриковичи 862-1598» в историческом парке «Россия – моя история».
- З) Покупка автомобиля.

Вера ответила, что к экономической сфере относятся В и Е.
 Игорь ответил, что к социальной сфере относятся Г и Д.
 Макар сказал, что к политической сфере относятся А, Д и Е.
 Света указала, что к духовной сфере можно отнести только Ж.

Кто из учащихся ответил правильно?

Ответ: _____.

Помогите остальным исправить ошибки. Распределите приведенные примеры по сферам жизни общества и запишите свои ответы в таблицу.

Ответ:

Сферы жизни общества	Элементы (укажите буквы)
1. Экономическая	В, З
2. Социальная	Г
3. Политическая	А, Д и Е
4. Духовная	Б, Ж

Задание 4. (5 баллов). Перед вами четыре изображения. Ответьте на несколько вопросов:

- 1) Какая деятельность объединяет людей, изображённых на фотографиях?
- 2) Какое значение для человека имеют данного рода занятия? (Приведите 2 объяснения)
- 3) Какая картинка является лишней и почему?



1



2



3



4

Ответ:

1) _____

2) _____

3) _____

Задание 5. (5 баллов). «Что выгоднее?» Решите экономическую задачу.

Николай получил в наследство квартиру в центре города и собирается ее сдавать в аренду. Желая снять квартиру есть всегда, она благоустроена и удобно расположена. Он может сдавать её посуточно или на длительный срок. Плата за аренду в сутки – 2000 руб.

В первом случае Николай вынужден ежедневно проводить уборку: хозяин квартиры может делать это сам, затрачивая 2 часа своего времени, или нанять себе помощницу, которая за каждую уборку берёт 800 рублей. Если же Николай решит сдавать квартиру на длительный срок, отвлекаться на встречу жильцов и уборку не придётся. Стоимость рабочего времени Николая – 600 руб. за час.

Определите, не менее какой суммы ежемесячно за аренду квартиры на длительный срок должен назначить Николай, чтобы не упустить выгоду по сравнению со следующими вариантами:

- 1) сдавать квартиру посуточно и делать уборку самому,
- 2) сдавать посуточно и приглашать уборщицу.

Считайте, что в любом месяце 30 дней, а коммунальные платежи в любом случае платит хозяин.

Ответ: _____

Решение: _____

Задание 6. (5 баллов). Логическая задача.

Есть деревня, и все жители в ней – либо кузнецы, либо земледельцы. Кузнецы всегда лгут, а земледельцы всегда говорят правду. В деревне прошло собрание всех жителей, и каждый из присутствовавших заявил остальным: «Все вы – кузнецы!»



Сколько в деревне земледельцев? Свой ответ объясните.

Ответ: _____

Объяснение: _____

Задание 7. (5 баллов). «Путаница». На уроке обществознания школьники получили карточки, на которых были написаны отдельные слова. Они получили задание составить из этих слов определение обществоведческого понятия.

Попробуйте сделать это и Вы: найдите в этом наборе слов обществоведческий термин и составьте из оставшихся слов его определение.

Потребности, инициативная, при которой, услуги, производители, на, самостоятельная, людей, чтобы, получение, деятельность, прибыли, произвести, предпринимательство, потребителей, товары, это, стремятся, направленная, удовлетворить, и.

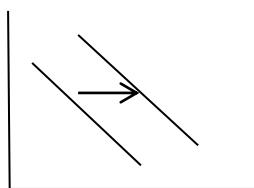
Ответ: _____

Задания 8. (4 балла). Перед вами 4 графика, каждый из которых отражает изменение спроса или предложения. Подберите к каждому из них суждение, указанное ниже.

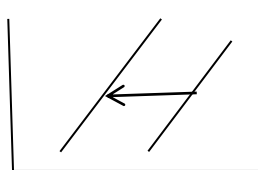
(На оси ординат – цена товара/услуги, на оси абсцисс – количество товара/услуги)

Ответ занесите в таблицу.

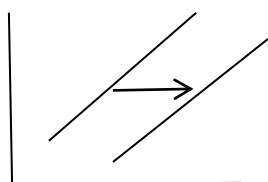
А



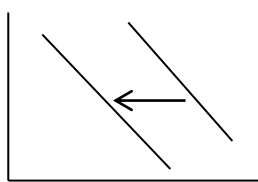
Б



В



Г



1) В связи с увеличением доходов населения и резким понижением цен на бензин график спроса на легковые автомобили переместился из положения D в D1.

2) С увеличением количества пользователей ноутбуками и нетбуками и падением доходов потребителей линия спроса на стационарные компьютеры переместилась из положения D в D1.

3) Из-за резкого снижения цен на энергоносители производители роботов-пылесосов увеличили производство, понизив цены для покупателей, кривая предложения переместилась из положения S в S1.

4) Из-за увеличения налогов на строительство и удорожания стройматериалов кривая предложения переместилась из положения S в S1.

Ответ:

А	Б	В	Г

Задания 11. (5 баллов). «Стили поведения в конфликте».

Установите соответствие между стилями поведения и ситуациями, указанными ниже.










Ответ внесите в таблицу ниже.

Ситуации	Стили поведения
<p>А) Артём – отличник, он любит учиться и находить информацию в интернете и энциклопедиях. На уроках он задаёт много вопросов учителю, пытаясь уличить его, что он чего-то не знает. Учитель русского языка предложил ему подготовить интересные вопросы и провести с ним викторину в классе.</p> <p>Б) Алёна много болела в 5 классе, лежала в больнице и пропустила много уроков по математике, вернувшись в школу, она обнаружила, что ничего не понимает. Ничего не сказав родителям и учителю, она просто перестала выполнять задания и получала «двойки».</p> <p>В) Сергей учится в 6 классе. У него есть любимые (история) и нелюбимые (математика) предметы. А еще у Сергея много друзей, с которыми он любит погулять, поиграть в футбол во дворе. Однажды вечером ребята его позвали гулять, однако родители его непустили – домашнее задание по нелюбимой математике не было выполнено. Возник конфликт. В конце концов, Сергей договорился с родителями, что сможет пойти гулять при условии, что домашнее задание будет сделано.</p> <p>Г) Артур – ученик 8А класса, он хорошо учится и старается быть лидером, но на уроках он может нарушить дисциплину, может вести себя вызывающе, демонстрируя свою независимость. Одноклассники боятся с ним спорить, некоторые пытаются с ним дружить, чтобы не «вызвать его гнева».</p> <p>Д) Арина всегда хорошо училась, и в старших классах положение не изменилось. Но в 10 классе ей приходилось значительно больше трудиться, чтобы получать отличные оценки. И если раньше она не возражала, когда у неё кто-то списывал, то теперь ей стало обидно, что одноклассники используют ее труд и время и она перестала это делать. Такое поведение Арины вызвало недовольство одноклассников, и они объявили ей бойкот.</p>	<p>1) Уклонение 2) Приспособление 3) Конфронтация 4) Сотрудничество 5) Компромисс</p>

Ответ:

А	Б	В	Г	Д

Задание 12. (12 баллов). «Картинки смешались». Попробуйте, используя подсказку, составить схему: впишите недостающие термины в прямоугольники, а номера изображений – в круги схемы:

<p>1</p> 	<p>4</p> 	<p>7</p> 
<p>2</p> 	<p>5</p> 	<p>8</p> 
<p>3</p> 	<p>6</p> 	<p>9</p> 

Ответ:

