

8-9 класс

Вариант 1

Задание 01

Студентов философского факультета университета пригласил научный центр, который организовал конференцию по проблемам религий. В фойе научного центра были размещены изображения, относящиеся к различным религиям.

Укажите изображения, которые относятся к буддизму:

А)



Г)



Б)



Д)



В)



Е)



A - A

B - Б

C - В

D - Г

E - Д

F - Е

Правильный ответ - B, D

Задание 02

Установите соответствие между выдающимися учеными России и их открытиями:

1. Александр Бутлеров
2. Сергей Боткин
3. Николай Пирогов
4. Павел Черенков
5. Владимир Зворыкин
6. Петр Капица
7. Леонид Канторович

A - Создал теорию химического строения органических веществ. Выпускник Казанского университета. Преподавал в Санкт-Петербургском университете.

B - Создал учение об организме как о едином целом. Впервые описал вирусный гепатит А.

C - Создатель военно-полевой хирургии, топографической анатомии, русской школы анестезии. Превратил хирургию в науку.

D - Автор фундаментальных открытий в физической оптике, ядерной физике, физике частиц высоких энергий. Нобелевский лауреат.

E - Инженер изобретатель. Родился и обучался в России, выпускник Санкт-Петербургского государственного технологического института. «Отец» современного телевидения. Создал кинескоп (1929 год), иконоскоп (1931 год), электронную телевизионную систему (1933 год), заложил основы цветного телевидения.

F - Удостоен Нобелевской премии за открытие сверхтекучести жидкого гелия (1978 год). Разработчик промышленной установки для сжижения газов.

Выпускник Санкт-Петербургского политехнического университета Петра Великого. Один из основателей Московского физико-технического института.

G - Математик, один из создателей линейного программирования. В 1975 году получил Нобелевскую премию.

Правильный ответ - A-1 B-2 C-3 D-4 F-6 G-7

Задание 03

Постоянным спутником нашей жизни являются конфликты: между сверстниками, между родителями и детьми, между соседями, между учителем и учеником и т.д. В конфликтах можно вести себя по-разному. Укажите из предложенных ниже ситуаций, те, в которых иллюстрируется такая стратегия поведения в конфликте как «соперничество»:

A - Фирмы «K» и «S» выпускают настольные игры для детей и взрослых. Для того чтобы привлечь покупателей именно к своей продукции, каждая из них изучает предпочтения покупателей разных возрастов, продумывает варианты семейных игр, выделяет большие средства на рекламу.

B - Сергей хотел стать дизайнером, но его родители настаивали на профессии военного, как более престижной, востребованной, продолжающей семейные традиции. В течение года родители уговаривали Сергея прислушаться к их мнению. В конце концов, они сказали сыну, что не будут поддерживать его материально, если он будет настаивать на своем. Сергей согласился поступать в военное училище.

C - Сергей решил сделать себе дреды. Родителям эта прическа категорически не нравится, однако они предпочитают не поднимать вопрос о том, с какой прической ходит их сын. Они полагают, что это не такая уж важная проблема, которая со временем разрешится сама собой.

D - Виктор и Павел участвуют в соревнованиях по шахматам, каждый из них стремится к победе.

E - В семье двое маленьких детей, и каждый вечер перед сном родители читают им сказку. Но 6-летнему Максиму нравятся сказки про разбойников, приключения и пиратов, а 4-летней Алине – про сказочных принцесс, волшебников и драконов. Между детьми постоянно возникает спор из-за того, какую именно сказку будут рассказывать в этот раз. Родители предложили детям выход: один день сказку выбирает Максим, другой – Алина.

Правильный ответ - A, D

Задание 04

Решите логическую задачу:

В современном мире очень важно понимать соотношение между разными понятиями, терминами, явлениями и процессами.

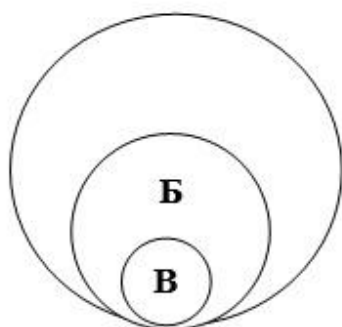
Укажите, какой графический образ в большей степени подходит, на ваш взгляд, для отражения соотношения между понятиями, где:

А) «затраты на производство»

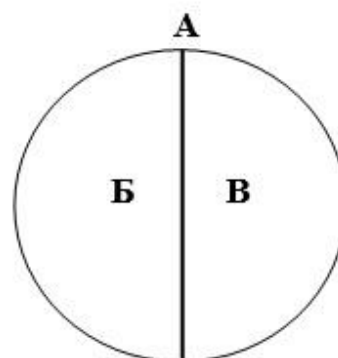
Б) «переменные издержки»

В) «постоянные издержки»

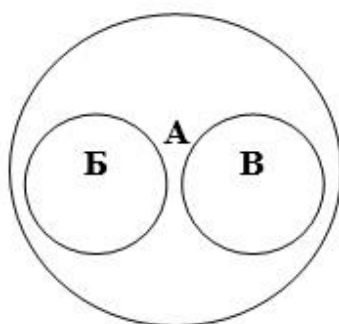
1)



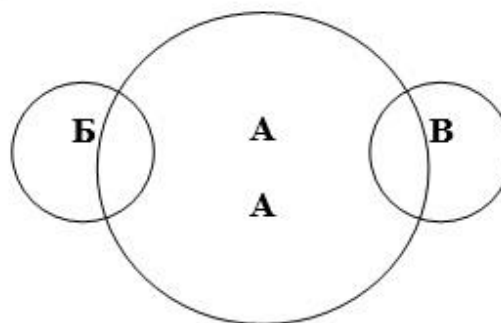
2)



3)



4)



А - 1

В - 2

С - 3

Д - 4

Правильный ответ - В

Задание 05

Решите экономическую задачу:

Известны функции спроса и предложения товара: $Q_d = 5 - P$ и $Q_s = 3P - 3$ (где Q – равновесное количество, P – цена).

Определите параметры рыночного равновесия: равновесное количество и рыночную цену.

A - 3 и 2

B - 2 и 3

C - 5 и 2

D - 2 и 5

Правильный ответ - A

Задание 06

Степан давно хотел реализовать свою мечту: заняться предпринимательской деятельностью. Для открытия автосалона Степан принял решение оформить кредит в банке.

Какую сумму денег должен вернуть Степан банку, если он взял кредит 500000 рублей на пять лет под 12% годовых? При расчете возвратной суммы банк применяет формулу простого процента.

A - 800000

B - 300000

C - 560000

D - 881170

Правильный ответ - A

Задание 07

Михаил отлично написал контрольную работу по обществознанию. Он правильно определил все верные ответы.

Укажите, какие суждения выбрал Михаил:

A - Демократическое государство может иметь только федеративное устройство.

B - Политика – это деятельность, направленная исключительно на приобретение и удержание власти.

C - Политические партии в демократическом обществе разрабатывают программы развития общества и пропагандируют их.

D - Политические партии в демократическом обществе определяют размер налогов и сборов, разрабатывают и принимают законы.

E - Конфедерация предполагает отсутствие суверенитета ее участников, невозможность выхода из состава союзного государства.

F - Государственное устройство определяет порядок взаимодействия центральных и региональных органов власти.

Правильный ответ - C, F

Задание 08

Укажите в приведенном ниже списке высказывания, характерные для конформного поведения:

A - «Я считаю, что вы не правы, поэтому поступлю так, как правильно...»

B - «Знаю, что так нельзя, но все ушли с урока, и я ушел...»

C - «Пусть делают что хотят, главное – не выделяться»

D - «Я поддержу любое ваше решение»

E - «У меня есть своя голова на плечах, я сам за себя отвечаю»

F - «Я имею право на собственную точку зрения»

Правильный ответ - B, C, D

Задание 09

Вы знаете, что различают представительную и прямую формы демократии. Укажите в приведенном списке примеры реализации представительной демократии:

A - законодательная инициатива президента

B - депутатский запрос

C - голосование на выборах в местные органы власти

D - референдум

E - плебисцит

Правильный ответ - A, B

Задание 10

Прочитайте приведённый ниже текст, в котором пропущен ряд слов.

«Деньги были придуманы человечеством, прежде всего, для облегчения __ (А). Первоначально роль денег играли различные __ (Б), и лишь потом появились современные формы денег. Признаком денег является способность выполнять функции средства __ (В) рыночной ценности товаров и средства сбережения. Возникновение современных форм денег было вызвано неудобством __ (Г), который требует чрезвычайной множественности относительных цен. Деньги позволили упростить функционирование __ (Д) и облегчили всю хозяйственную жизнь общества. Деньги, кроме того, позволяют выразить ценность всех товаров в единой __ (Е) и учитывать их для нужд контроля и управления».

СООТНЕСИТЕ ВЫБРАННЫЕ СЛОВА С БУКВАМИ:

1. обмен
2. предметы
3. измерение
4. бартер
5. торговля
6. система

А - А

В - Б

С - В

Д - Г

Е - Д

Ф - Е

Правильный ответ - А-1 В-2 С-3 Д-4 Ф-6

Задание 11

Гражданин К. в ночное время открыл чужой автомобиль, находящийся на платной парковке, и забрал дорогой компьютер владельца.

Укажите верное сочетание характеристик этого поведения:

А - кража

В - вымогательство

С - грабеж

Д - разбой

Е - мошенничество

Г - преступление

В - проступок

Правильный ответ - А, Г

Задание 12

В современном мире существует много юридических профессий. Арсений и Николай решили связать свою профессиональную деятельность с какой-либо из них. Но пока они еще в раздумье: нужно понять, чем отличаются одна юридическая профессия от другой.

Попробуйте и Вы найти в предложенном списке характеристики, свойственные профессии адвоката. Укажите эти характеристики:

А - Адвокат может представлять интересы доверителя (клиента) в конституционном, гражданском, административном и уголовном судопроизводстве.

В - Адвокат может быть вызван и допрошен в качестве свидетеля об обстоятельствах, ставших ему известными в связи с обращением к нему клиента за юридической помощью.

С - Адвокат может опрашивать тех, кто предположительно владеет информацией, относящейся к делу, по которому адвокат оказывает юридическую помощь.

Д - Адвокат может применять меры пресечения: брать подписку о невыезде, устанавливать залог и т.д., поскольку адвокатура относится к правоохранительным органам.

Е - Адвокат может отказаться от принятой на себя защиты, если в процессе работы по поручению клиента выявляются обстоятельства, противоречащие его моральным, политическим или религиозным убеждениям.

Правильный ответ - А, С

Задание 13

Социологической службой страны П. был проведен опрос группы граждан. Был задан вопрос: «Кем бы Вы хотели видеть вашего ребенка в будущем?».

Результаты опроса представлены в виде таблицы.

Найдите в приведенном списке выводы, которые можно сделать на основе данных таблицы. Укажите правильный ответ:

Варианты ответов	% от ответивших	
	2018г.	2020г.
Юристом, экономистом	30	29
Программистом	19	23
Врачом	8	9
Предпринимателем	18	21
Квалифицированным рабочим	13	6
Военным	7	8
Затрудняюсь ответить	5	4

А - Примерно пятая часть опрошенных хотела, чтобы их ребенок стал предпринимателем.

В - Увеличилось количество людей, желающих видеть своих детей юристами и экономистами в будущем.

С - Наибольший процент опрошенных хотят, чтобы в будущем их дети стали врачами.

Д - Количество родителей, не желающих, чтобы их дети выбрали рабочие специальности, увеличилось.

Е - Наименьшее количество опрошенных граждан хотели бы видеть своего ребенка в будущем военным.

Правильный ответ - А, Д

Задание 14

Социологической службой страны П. был проведен опрос группы граждан. Был задан вопрос: «Кем бы Вы хотели видеть вашего ребенка в будущем?».

Результаты опроса представлены в виде таблицы. Результаты опроса были опубликованы и прокомментированы в СМИ.

Укажите, какие из приведенных ниже выводов непосредственно вытекают из полученной в ходе опроса информации:

Варианты ответов	% от ответивших	
	2018 г.	2020 г.
Юристом, экономистом	30	29
Программистом	19	23
Врачом	8	9
Предпринимателем	18	21
Квалифицированным рабочим	13	6
Военным	7	8
Затрудняюсь ответить	5	4

А - Реформирование армии привело к сокращению численности Вооруженных сил.

В - В обществе стал высоко цениться труд квалифицированных рабочих.

С - В обществе по-прежнему высок престиж профессий юриста и экономиста.

Д - Десятая часть опрошенных считают, что дети сами должны сделать свой профессиональный выбор.

Е - Научно-технический прогресс ведет к росту востребованности специалистов в области программирования на рынке труда.

Ф - Научно-технический прогресс ведет к росту востребованности специалистов в области программирования на рынке труда.

Правильный ответ - С, Е

Задание 15

Софью привлекает социология. Она приняла решение поступать на социологический факультет, и сейчас она готовится к поступлению и усиленно изучает обществознание. Она завершила изучение раздела Социология и отлично выполнила тест, в котором надо было выбрать верные ответы.

Укажите, какие суждения выбрала Софья:

А - Исполнение социальной роли зависит от личностных качеств человека.

В - Социальный статус личности предполагает наличие у нее определенных прав и обязанностей.

С - К социальным нормам не относятся традиции и обычаи.

Д - Представители социальной группы «молодёжь» могут выполнять различные социальные роли: ученик, гражданин, работник, супруг.

Е - Принадлежность к сословию чиновников (мандаринов) в Китае в соответствии с требованиями традиционного конфуцианского образования – пример предписанного статуса.

Г - Репродуктивной функцией семьи являются обучение детей трудовым навыкам.

Правильный ответ - А, В, Д

Вариант 2

Задание 01

Выпускников гимназии пригласил философский факультет университета на конференцию по проблемам религий. В фойе университета были размещены изображения, относящиеся к различным религиям.

Укажите изображения, которые относятся к христианству:

А)



Б)



В)



Г)



Д)



Е)



А - А

В - Б

С - В

Д - Г

Е - Д

Ф - Е

Правильный ответ - С, D, Е

Задание 02

Установите соответствие между выдающимися учеными России и их открытиями:

1. Игорь Курчатов
2. Андрей Сахаров
3. Сергей Королев
4. Святослав Федоров
5. Николай Вавилов
6. Илья Мечников
7. Иван Павлов

А - Ему принадлежит серия глобальных открытий в области ядерной физики. В их числе – создание первого в Европе атомного реактора, первой в СССР атомной бомбы, первой в мире термоядерной бомбы. В 1954 году под его руководством сооружена первая в мире атомная электростанция – Обнинская АЭС.

В - Один из пионеров исследований по управляемой термоядерной реакции. Участвовал в создании водородной бомбы (1953 год). Известный правозащитник, удостоенный Нобелевской премии мира в 1975 году.

С - Создатель ракетно-космической техники и практической космонавтики СССР. В числе его основных достижений – запуск первого искусственного спутника Земли (1957 год) и полет первого космонавта планеты Юрия Гагарина (1961 год).

Д - Офтальмолог, микрохирург. Создатель линзы Федорова-Захарова (1962 год) – одного из лучших жестких искусственных хрусталиков в мире. Первым в мире сделал операцию по лечению глаукомы на ранних стадиях (1973 год). Впоследствии его метод стал применяться повсеместно.

Е - Основоположник научных основ селекции, учения о мировых центрах происхождения культурных растений. Автор учения об иммунитете растений.

Ф - Создатель сравнительной патологии, эволюционной эмбриологии, иммунологии. Открыл явление фагоцитоза. Основал научную геронтологию. Удостоен Нобелевской премии за исследования механизмов иммунитета (1908 год).

Г - Создал науку о высшей нервной деятельности. Первый российский Нобелевский лауреат (1904 год). Удостоен награды за исследования физиологии пищеварения.

Правильный ответ - А-1 В-2 С-3 D-4 F-6 G-7

Задание 03

Постоянным спутником нашей жизни являются конфликты: между сверстниками, между родителями и детьми, между соседями, между учителем и учеником и т.д. В конфликтах можно вести себя по-разному. Укажите из предложенных ниже ситуаций, те, в которых иллюстрируется такая стратегия поведения в конфликте как «компромисс»:

А - Фирмы «К» и «S» на протяжении долгих лет занимаются производством детского питания. Для того чтобы привлечь покупателей именно к своей продукции, каждая из них изучает особенности маленьких детей, рекомендации врачей, продумывает упаковку, выделяет большие средства на рекламу.

В - Мария и Ольга – подруги с первого класса. Они вместе проводили все каникулы, посещали художественную школу, после школьных занятий часто вместе гуляли, ходили в кино. После одиннадцатого класса Маша приняла решение поступать в медицинский институт, а Ольга – в архитектурный. Они долго убеждали друг друга поддержать решение подруги и поступать в один институт. Более того, говорили о возможной разлуке. В конце концов, Маша согласилась поступать вместе с Ольгой в архитектурный институт.

С - Соседи многоквартирного дома спорили о распределении парковочных мест на дворовой территории. Одни настаивали на организации четкой разметки, в соответствии с которой каждой машине отводится определенное место для парковки. Другие выступали за возможность свободной расстановки автомобилей. В результате на общем собрании было принято решение, что часть площади во дворе отводится под индивидуальные парковки, а другая часть остается сторонникам произвольной парковки.

Д - Анна и Софья участвуют в музыкальном конкурсе, каждая из них стремится к победе.

Е - В семье двое маленьких детей. Они любят кататься на самокате и велосипеде. И каждый раз, когда дети и родители гуляют в парке, возникает спор из-за того, кто и на чем будет кататься. Родители предложили детям выход: один день самокат выбирает Миша, а Гриша – велосипед, другой день – наоборот.

Правильный ответ - С, Е

Задание 04

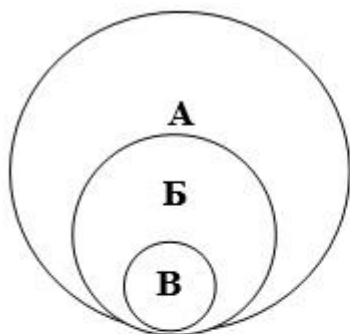
Решите логическую задачу:

В современном мире очень важно понимать соотношение между разными понятиями, терминами, явлениями и процессами.

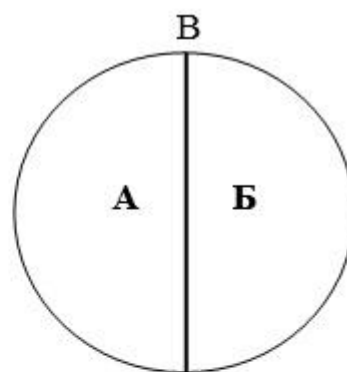
Укажите, какой графический образ в большей степени подходит, на ваш взгляд, для отражения соотношения между понятиями, где:

- А) «собственность»
- Б) «государственная собственность»
- В) «частная собственность»

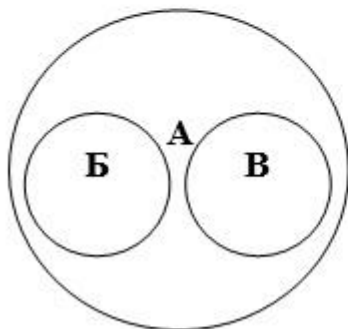
1)



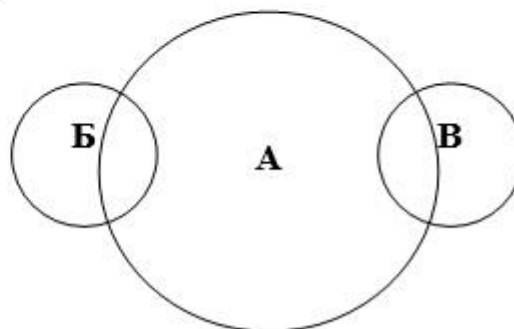
2)



3)



4)



A - 1

B - 2

C - 3

D - 4

Правильный ответ - C

Задание 05

Решите экономическую задачу:

Известны функции спроса и предложения товара: $Q_d = 10 - P$ и $Q_s = 7P - 6$ (где Q – равновесное количество, P – цена).

Определите параметры рыночного равновесия: равновесное количество и рыночную цену.

A - 8 и 2

B - 2 и 8

C - 4 и 2

D - 2 и 4

Правильный ответ - A

Задание 06

Степан давно хотел реализовать свою мечту: заняться предпринимательской деятельностью. Для открытия автосалона Степан принял решение оформить кредит в банке.

Укажите, какую сумму денег должен вернуть Степан банку, если он взял кредит 600000 рублей на пять лет под 15 % годовых. При расчете возвратной суммы банк применяет формулу простого процента.

A - 1050000

B - 690000

C - 1690000

D - 1206814

Правильный ответ - A

Задание 07

Михаил отлично написал контрольную работу по обществознанию. Он правильно определил все верные ответы.

Укажите, какие суждения выбрал Михаил:

A - Форма государства включает в себя три элемента: форма правления, форма государственного устройства, политический режим.

B - Партии организуют участие граждан в политической жизни, выдвигают кандидатов на выборах.

C - Главным органом исполнительной власти при республиканской форме правления является парламент страны.

D - Основными типами республик являются президентская, парламентская, смешанная.

E - Для демократического политического режима характерно ограничение оппозиции.

F - Признаком социального государства является гарантии единства экономического пространства.

Правильный ответ - A, B, D

Задание 08

Укажите в приведенном ниже списке высказывания, характерные для человека с консервативными убеждениями:

A - «Я считаю, что все изменения на нашем предприятии приведут к отрицательным результатам»

B - «Надо бороться за всякие преобразования...»

C - «Пусть делают что хотят, главное – не выделяться»

D - «Я ничего не собираюсь менять в своем доме»

E - «У меня есть своя голова на плечах, я сам за себя отвечаю»

F - «Пусть все будет по-старому»

Правильный ответ - A, D, F

Задание 09

Вы знаете, что различают представительную и прямую формы демократии. Укажите в приведенном списке примеры реализации прямой демократии:

A - собрания

B - депутатский запрос

C - выборы

D - обращения в органы власти

E - законодательная инициатива президента

Правильный ответ - A, C, D

Задание 10

Прочитайте приведённый ниже текст, в котором пропущен ряд слов:

«Самой большой рыночной властью обладает __ (А). Это рынок, на котором присутствует единственный __ (Б) уникального продукта. Такой рынок не выгоден __ (В) с точки зрения качества продукции, разнообразия __ (Г), уровня цен. Чтобы не допустить образования новых рынков такого типа, __ (Д) проводит __ (Е) политику».

Выберите из предлагаемого списка слова, которые необходимо вставить на место пропусков. Соотнесите слова с буквами.

1. монополия
2. продавец
3. покупатель
4. ассортимент
5. государство
6. антимонопольный

А - А

В - Б

С - В

Д - Г

Е - Д

Ф - Е

Правильный ответ - А-1 В-2 С-3 Д-4 Ф-6

Задание 11

Студенты Коля и Миша сидели во дворе своего дома на скамейке, разговаривали, рассматривали информацию в мобильном телефоне. К ним подошел незнакомый мужчина, вырвал телефон из рук Миши и убежал. Через пару дней юноши узнали, что телефон был продан, а полученными деньгами мужчина распорядился в своих личных интересах.

Выберите *верное* сочетание характеристик этого поведения:

А - кража

В - вымогательство

С - грабеж

Д - разбой

Е - мошенничество

Ф - преступление

Г - проступок

Правильный ответ - С, Ф

Задание 12

В современном мире существует много юридических профессий. Гимназия пригласила на встречу с выпускниками прокурора города. Ребятам было очень интересно послушать гостя, тем более многие решили связать свою будущую профессиональную деятельность с юридическим направлением. Конечно, в большей степени прокурор акцентировал внимание на своей профессии.

Попробуйте и Вы найти в предложенном списке характеристики, свойственные профессии прокурора. Укажите эти характеристики:

А - Прокурором субъекта Российской Федерации можно стать с 30 лет, имея при этом стаж юридической работы не менее пяти лет.

В - Прокурор может быть членом какой-либо политической организации. Ему можно совмещать профессиональную деятельность с любой оплачиваемой работой.

С - Прокурор осуществляет надзор за исполнением закона министерствами, службами, агентствами, органами местного самоуправления.

Д - Прокурор в суде выступает как государственный обвинитель. Он участвует в рассмотрении дел об убийствах, организованной преступности, взяточничестве, контрабанде, а также может участвовать в судебном разбирательстве гражданских дел о лишении родительских прав, о восстановлении на работе и др.

Е - Систему прокуратуры возглавляет Генеральный прокурор РФ. Его назначает Государственная Дума Федерального Собрания РФ по представлению Правительства РФ.

Правильный ответ - А, С, Д

Задание 13

В 2005 году Всероссийский центр изучения общественного мнения провел социологический опрос среди жителей крупных городов России. Предлагалось назвать 2-3 наиболее престижных профессии и столько же наиболее доходных профессий. Результаты опроса (в %) представлены в виде таблицы.

Найдите в приведенном списке выводы, которые можно сделать на основе данных таблицы. Укажите правильный ответ:

	Престижные профессии	Доходные профессии
Юрист, нотариус, судья	29	20
Директор, менеджер	17	13
Врач, фармацевт	16	7
Банкир, служащий банка	16	24
Экономист	16	11
Бизнесмен, предприниматель	9	21
Министр, депутат	8	12
Программист	7	4

А - К наиболее доходной профессии большинство опрошенных отнесли профессию банкира, служащего банка.

В - Профессии врача и юриста одинаково престижны среди опрошенных.

С - Профессию программиста опрошенные отнесли к последней тройке профессий по уровню дохода.

Д - К первой тройке наиболее доходных профессий опрошенные отнесли директоров, менеджеров.

Е - Деятельность предпринимателей большинство опрошенных посчитали менее доходной, чем деятельность министров.

Правильный ответ - А, С

Задание 14

В 2005 году Всероссийский центр изучения общественного мнения провел социологический опрос среди жителей крупных городов России. Предлагалось назвать 2-3 наиболее престижных профессии и столько же наиболее доходных профессий. Результаты опроса (в %) представлены в виде таблицы. Результаты опроса были опубликованы и прокомментированы в СМИ.

Укажите, какие из приведенных ниже выводов непосредственно вытекают из полученной в ходе опроса информации:

	Престижные профессии	Доходные профессии
Юрист, нотариус, судья	29	20
Директор, менеджер	17	13
Врач, фармацевт	16	7
Банкир, служащий банка	16	24
Экономист	16	11
Бизнесмен, предприниматель	9	21
Министр, депутат	8	12
Программист	7	4

А - Престиж профессии врача за последнее десятилетие существенно вырос.

В - Большинство профессий, выделенных опрошенными как наиболее доходные, связаны с экономической сферой деятельности.

С - В середине прошлого десятилетия юридические профессии входили в число наиболее популярных в обществе.

Д - Оценка общественным мнением престижа различных профессий за последние годы резко изменилась.

Е - При выборе профессии для большинства опрошенных более значим престиж профессии, чем ее доходность.

Правильный ответ - В, С

Задание 15

Мария подготовила доклад по социологии. Учитель внимательно прочитал выполненную работу и оставил только верные суждения.

Укажите, какие суждения остались в докладе Марии:

А - В одно и то же время человек может исполнять несколько социальных ролей.

В - Оформление отцом банковского кредита на покупку гаража является проявлением экономической функции семьи.

С - Социальные нормы это меры воздействия, способы реагирования со стороны общества, людей на социально одобряемое или социально осуждаемое поведение.

Д - Совместное обсуждение проблем и принятие решений всеми членами семьи является характеристикой партнерской семьи.

Е - Аплодисменты зрителей являются примером формальных позитивных санкций.

Г - Глава совета директоров является предписанным статусом.







Правильный ответ - А, В, Д

Вариант 3

Задание 01

Десятиклассник Петр, выбирая тему будущего исследовательского проекта, стал изучать мировые религии. Глубокое прочтение научных статей, посещение различных конференций по проблемам религий, стали причиной желания учиться на философском факультете. Петр подготовил интересную презентацию с картинками, фотографиями, которые имеют отношения к различным религиям.

Укажите изображения, которые относятся к исламу:

А) 	Г) 
Б) 	Д) 
В) 	Е) 

А - А

В - Б

С - В

Д - Г

Е - Д

Ф - Е

Правильный ответ - А, Е, Ф

Задание 02

Установите соответствие между выдающимися учеными России и их открытиями:

1. Александр Попов
2. Дмитрий Менделеев
3. Жорес Алферов
4. Юрий Оганесян
5. Пафнутий Чебышев
6. Александр Столетов
7. Лев Ландау

А - Одним из первых нашел практическое применение электромагнитных волн, в том числе для радиосвязи. Создал совершенный для своего времени вариант радиоприемника (1895 год).

В - Открыл фундаментальный закон естествознания – периодический закон химических элементов (1869 год). Выявленная им система позволила классифицировать существующие и предугадать появление новых химических элементов и их свойств. Открытие признано величайшим событием в истории материаловедения.

С - Академик, российский лауреат Нобелевской премии (по физике), вице-президент РАН. Именно благодаря его фундаментальной работе о полупроводниках мы сегодня можем пользоваться такими достижениями цивилизации как мобильные телефоны, компакт-диски, светодиоды и т. д.

Д - Физик, академик РАН, научный руководитель лаборатории ядерных реакций им. Г. Н. Флерова в Объединенном институте ядерных исследований, считается одним из вероятных кандидатов на Нобелевскую премию, а выдвигали его кандидатуру уже не раз. Ему принадлежит открытие как минимум шести химических элементов.

Е - Совершил несколько выдающихся открытий в математике и механике. Создал более 40 механизмов, многие из которых используются в современном автостроении при создании приборов.

Ф - Работал в области электромагнетизма, оптики и молекулярной физики. Создал первый фотоэлемент – прибор, преобразующий энергию фотонов в электричество.

Г - Один из авторов «Классического курса теоретической физики», многократно переиздававшегося на 20-ти языках. Внес фундаментальный вклад во все разделы физики – от квантовой механики до физики плазмы. Получил Нобелевскую премию за исследования сверхтекучести гелия (1962 год).

Правильный ответ - А-1 В-2 С-3 D-4 F-6 G-7

Задание 03

Постоянным спутником нашей жизни являются конфликты: между сверстниками, между родителями и детьми, между соседями, между учителем и учеником и т.д. В конфликтах можно вести себя по-разному. Укажите из предложенных ниже ситуаций, те, в которых иллюстрируется такая стратегия поведения в конфликте как «приспособление»:

А - Екатерина хотела стать филологом, но ее родители настаивали на профессии врача как более престижной, востребованной. В течение года родители возвращались к этой теме и настаивали на своем. Девушке эти разговоры были неприятны, и в тоже время ей не хотелось огорчать родителей, поэтому она старалась уходить от обсуждения этой проблемы, менять тему разговора.

В - Дима решил сделать себе модную стрижку и радикально поменять цвет волос. Родителям эта идея категорически не нравится, однако они предпочитают не поднимать вопрос о том, с какой прической ходит их сын. Они полагают, что это не такая уж важная проблема, которая со временем разрешится сама собой.

С - Два брата приняли решение заниматься предпринимательской деятельностью. Степан предложил открыть мастерскую по ремонту автомашин, а Григорий – кафе. Каждый приводил весомые аргументы в защиту своей идеи. Ежедневные споры надоели Григорию, и он согласился с решением брата открыть мастерскую по ремонту автомашин.

Д - Наташа и Света участвуют в олимпиаде по физике, каждая стремится к победе.

Е - Алексей хотел стать юристом, но его родители настаивали на профессии военного, как более престижной, востребованной, продолжающей семейные традиции. В течение года родители уговаривали Алексея прислушаться к их мнению. Они рассказывали истории своих отцов, вспоминали других родственников, которые выбрали военные профессии. В конце концов, они сказали сыну, что не будут поддерживать его материально, если он будет настаивать на своем. Алексей согласился поступать в военное училище.

Правильный ответ - С, Е

Задание 04

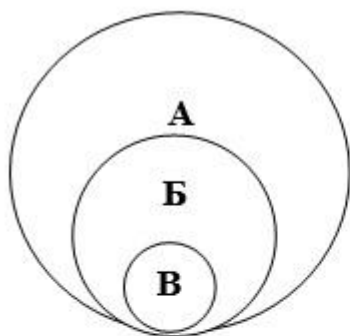
Решите логическую задачу:

В современном мире очень важно понимать соотношение между разными понятиями, терминами, явлениями и процессами.

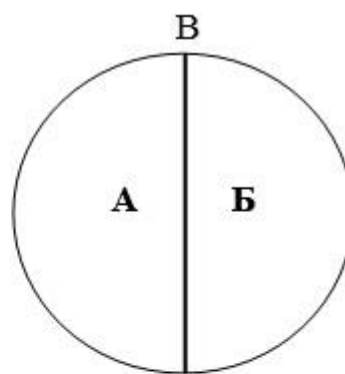
Укажите, какой графический образ в большей степени подходит, на ваш взгляд, для отражения соотношения между понятиями, где:

- А) «блага»
- Б) «экономические блага»
- В) «общественные блага»

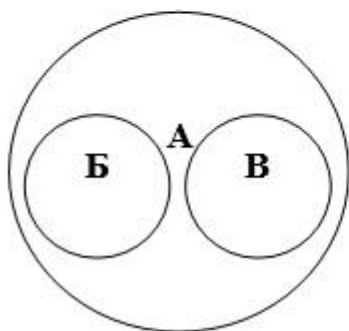
1)



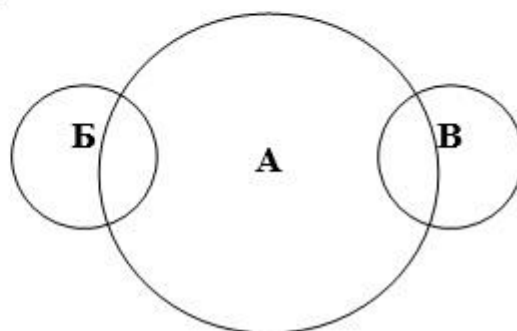
2)



3)



4)



А - 1

В - 2

С - 3

Д - 4

Правильный ответ - А

Задание 05

Решите экономическую задачу:

Известны функции спроса и предложения товара: $Q_d = 6 - P$ и $Q_s = 2P - 6$ (где Q – равновесное количество, P – цена).

Определите параметры рыночного равновесия: равновесное количество и рыночную цену.

A - 2 и 4

B - 4 и 2

C - 5 и 2

D - 2 и 5

Правильный ответ - A

Задание 06

Степан давно хотел реализовать свою мечту: заняться предпринимательской деятельностью. Для открытия автосалона Степан принял решение оформить кредит в банке.

Какую сумму денег должен вернуть Степан банку, если он взял кредит 1000000 рублей на пять лет под 15% годовых? При расчете возвратной суммы банк применяет формулу простого процента.

A - 1750000

B - 1150000

C - 2750000

D - 2011357

Правильный ответ - A

Задание 07

Михаил самостоятельно готовился к итоговой аттестации по обществознанию. Решал тестовые задания и отлично с ними справлялся. Итоговый тест по разделу "Политика" выполнил отлично. Он правильно определил все верные ответы.

Укажите, какие суждения выбрал Михаил:

A - Проявлением конституционного принципа социального государства является запрет установления общеобязательной идеологии.

B - В государстве с тоталитарным политическим режимом все сферы общественной жизни находятся под полным контролем государства.

C - Конфедерация - это союз государств, ориентированных на достижение преимущественно внешнеполитических целей.

Д - Органом исполнительной власти в Российской Федерации является Федеральное Собрание.

Е - Государство не является частью политической системы общества.

Ф - Главным признаком правового государства является наличие суверенитета.

Правильный ответ - В, С

Задание 08

Укажите в приведенном ниже списке высказывания, характерные для поведения человека-альтруиста:

А - «Я считаю, что выигрыш надо разделить между всеми»

В - «Надо остаться всем после уроков и выполнить это задание»

С - «Готов свою премию отдать детскому дому, чтобы для детей организовали новогодний праздник»

Д - «Я после своей основной работы помогаю социальным работникам развозить продукты для пожилых людей»

Е - «У меня есть желание заниматься предпринимательской деятельностью, открыть ИП по производству обуви для людей с ограниченными возможностями»

Ф - «Хочу во время летнего отпуска поддержать экологов и помочь им в работе по очистке городского пруда»

Правильный ответ - С, D, F

Задание 09

Вы знаете, что различают представительную и прямую формы демократии. Укажите в приведенном списке примеры реализации прямой демократии:

А - законодательная инициатива президента

В - депутатский запрос

С - голосование на выборах в местные органы власти

Д - референдум

Е - плебисцит

Правильный ответ - C, D, E

Задание 10

«Экономические ресурсы – это ресурсы, наличные объемы которых ___(А) относительно потребности в них производства. Основная масса ресурсов в современных условиях принадлежит именно к группе ___(Б) ресурсов как по причине их редкости в природе, так и в силу наличия права ___(В) на них. Это и порождает противоречие между растущими ___(Г) общества и ограниченностью ресурсов при их удовлетворении через производство товаров и ___(Д). В условиях ограниченности ресурсов все субъекты экономики совершают свой ___(Е).»

Соотнесите слова с буквами:

1. ограничены
2. экономические
3. собственность
4. потребности
5. услуги
6. выбор

А - А

В - Б

С - В

Д - Г

Е - Д

Ф - Е

Правильный ответ - А-1 В-2 С-3 Д-4 Ф-6

Задание 11

Марина, студентка архитектурного колледжа, хотела забрать дорогой ноутбук у своей сокурсницы Нины без всяких оснований. Она настаивала его отдать под угрозой физической расправы.

Укажите *верное* сочетание характеристик этого поведения:

А - кража

В - вымогательство

С - грабеж

D - разбой

E - мошенничество

F - преступление

G - проступок

Правильный ответ - В, F

Задание 12

В современном мире существует много юридических профессий. В рамках проведения в гимназии недели профориентации были приглашены представители разных направлений. Каждому профессиональному направлению был посвящен тематический стенд. Многие юноши решили связать свою профессиональную деятельность с юридическим направлением. Они с интересом прочитали информацию в отношении особенностей таких профессий как следователь, адвокат, прокурор, нотариус.

Попробуйте и Вы найти в предложенном списке характеристики, свойственные профессии нотариуса. Укажите эти характеристики:

A - Нотариус имеет право совершать нотариальные действия в интересах физических и юридических лиц, составлять проекты сделок, заявлений и других документов, изготавливать копии документов и выписки из них, а также давать разъяснения по вопросам совершения нотариальных действий.

B - Нотариусом в Российской Федерации может быть только российский гражданин.

C - Не все нотариусы являются работниками государственных нотариальных контор, многие занимаются частной практикой.

D - Нотариуса нельзя пригласить домой, в больницу. Все нотариальные действия нотариус совершает только в нотариальной конторе.

E - Нотариус вправе заниматься любой предпринимательской деятельностью.

Правильный ответ - А, В, С

Задание 13

В 2010 г. Всероссийский центр изучения общественного мнения провел социологический опрос. Предлагалось ответить на вопрос: "Откуда, из каких источников вы чаще всего узнаете о том, что происходит в стране и мире (участники могли выбирать не более двух позиций)?" Результаты опроса (в %) представлены в виде таблицы.

Найдите в приведенном списке выводы, которые можно сделать на основе данных таблицы. Укажите правильный ответ:

Варианты ответов	Все опрошенные	Имеющие начальное, неполное среднее образование	Имеющие среднее образование	Имеющие высшее (и неполное высшее) образование
Телевидение	92	93	94	91
Печатная пресса	20	10	17	23
Интернет	15	4	14	24
Радио	12	13	9	11
Рассказы родственников, друзей	6	10	6	4

А - Для людей с начальным и неполным средним образованием главным источником информации является телевидение.

В - Наиболее широко используют Интернет как источник информации люди, имеющие высшее образование.

С - Люди со средним образованием используют печатную прессу чаще, чем те, кто имеет высшее образование.

Д - К рассказам родственников и друзей как источнику информации чаще других групп прибегают люди с начальным и неполным средним образованием.

Е - Люди с высшим образованием менее других групп используют радио как источник информации.

Правильный ответ - А, В, D

Задание 14

В 2010 г. Всероссийский центр изучения общественного мнения провел социологический опрос. Предлагалось ответить на вопрос: "Откуда, из каких источников вы чаще всего узнаете о том, что происходит в стране и мире (участники могли выбирать не более двух позиций)?". Результаты опроса (в %) представлены в виде таблицы. Результаты опроса были опубликованы и прокомментированы в СМИ.

Укажите, какие из приведенных ниже выводов непосредственно вытекают из полученной в ходе опроса информации:

Варианты ответов	Все опрошенные	Имеющие начальное, неполное среднее образование	Имеющие среднее образование	Имеющие высшее (и неполное высшее) образование
Телевидение	92	93	94	91
Печатная пресса	20	10	17	23
Интернет	15	4	14	24
Радио	12	13	9	11
Рассказы родственников, друзей	6	10	6	4

А - Уровень образования и использование Интернета в качестве источника информации неразрывно связаны.

В - За последнее десятилетие существенно снизилась роль радио как источника информации.

С - С ростом образования снижается значение такого источника информации, как рассказы родственников и друзей.

Д - Среди печатных изданий наибольшим спросом пользуются ежедневные газеты и еженедельники.

Е - В ближайшие годы число тех, кто использует Интернет в качестве источника информации, возрастет во всех слоях населения.

Правильный ответ - А, С

Задание 15

В гимназии проходила неделя обществознания. Ученики подготовили тематический стенд, на котором разместили различные статьи, извлечения из кодексов, кроссворды и определенные высказывания. Все приведенные суждения были верными. Стенд получился содержательным и интересным. Укажите, какая информация была вывешена на стенде:

А - В современном обществе ученые выделяют в качестве основных групп населения «высший класс», «средний класс», «низший класс».

В - Семью как малую социальную группу отличает такой характерный признак как организация совместного быта и домашнего хозяйства.

С - Примером позитивного отклоняющегося поведения является посещение плавательного бассейна.

Д - Вручение ученому знака «Заслуженного изобретателя» является примером, иллюстрирующего применение формальных позитивных санкций.

Е - Моральные нормы обязательно имеют формальную определенность.

Ф - Элементами социального контроля являются социальные нормы и социальная стратификация.

Правильный ответ - А, В, Д