

Всероссийская олимпиада школьников по обществознанию

**Школьный этап
8-9 класс**



Общая информация

1. Школьный тур олимпиады проводился для укрупненной группы: учащиеся 8 и 9 классов.
2. Задания олимпиады включают все разделы обществоведческого образования: человек и общество, экономика, социология, политология и право.
3. Количество заданий в каждом варианте – 15.
4. Максимальный первичный балл – 36
5. Время выполнения заданий – 50 минут

Задание 1 (2 балла)

Выберите изображения, которые относятся к буддизму:

А)



Г)



Б)



Д)



В)



Е)



Задание 2 (7 баллов)

Установите соответствие между выдающимися учеными России и их достижениями:

Российские ученые	Открытия
1) Александр Бутлеров	1) Создал теорию химического строения органических веществ. Выпускник Казанского университета. Преподавал в Санкт-Петербургском университете.
2) Сергей Боткин	2) Создатель военно-полевой хирургии, топографической анатомии, русской школы анестезии. Превратил хирургию в науку
3) Николай Пирогов	3) Создал учение об организме как о едином целом. Впервые описал вирусный гепатит А
4) Павел Черенков	4) Математик, один из создателей линейного программирования. В 1975 году получил Нобелевскую премию.
5) Владимир Зворыкин	5) Инженер изобретатель. Родился и обучался в России, выпускник Санкт-Петербургского государственного технологического института. «Отец» современного телевидения. Создал кинескоп (1929 год), иконоскоп (1931 год), электронную телевизионную систему (1933 год), заложил основы цветного телевидения.
6) Петр Капица	6) Удостоен Нобелевской премии за открытие сверхтекучести жидкого гелия (1978 год). Разработчик промышленной установки для сжижения газов. Выпускник Санкт-Петербургского политехнического университета Петра Великого. Один из основателей Московского физико-технического института.
7) Леонид Канторович	7) Автор фундаментальных открытий в физической оптике, ядерной физике, физике частиц высоких энергий. Нобелевский лауреат.

А	Б	В	Г	Д	Е	Ж
1	3	2	7	5	6	4

Задание 3 (2 балла)

Выберите из предложенных ниже ситуаций, те, в которых иллюстрируется такая стратегия поведения в конфликте как «соперничество».

- А) Фирмы «К» и «S» выпускают настольные игры для детей и взрослых. Для того чтобы привлечь покупателей именно к своей продукции, каждая из них изучает предпочтения покупателей разных возрастов, продумывает варианты семейных игр, выделяет большие средства на рекламу.
- Б) Сергей хотел стать дизайнером, но его родители настаивали на профессии военного, как более престижной, востребованной, продолжающей семейные традиции. В течение года родители уговаривали Сергея прислушаться к их мнению. В конце концов, они сказали сыну, что не будут поддерживать его материально, если он будет настаивать на своем. Сергей согласился поступать в военное училище.
- В) Сергей решил сделать себе дреды. Родителям эта прическа категорически не нравится, однако они предпочитают не поднимать вопрос о том, с какой прической ходит их сын. Они полагают, что это не такая уж важная проблема, которая со временем разрешится сама собой
- Г) Виктор и Павел участвуют в соревнованиях по шахматам, каждый из них стремится к победе.
- Д) В семье двое маленьких детей, и каждый вечер перед сном родители читают им сказку. Но 6-летнему Максиму нравятся сказки про разбойников, приключения и пиратов, а 4-летней Алине – про сказочных принцесс, волшебников и драконов. Между детьми постоянно возникает спор из-за того, какую именно сказку будут рассказывать в этот раз. Родители предложили детям выход: один день сказку выбирает Максим, другой – Алина.

Ответ: АГ (существует пять стратегий поведения в конфликтной ситуации: приспособление, компромисс, сотрудничество, соперничество или конкуренция, игнорирование или избегание. Соперничество – это борьба за достижение превосходства, лучшего результата.)



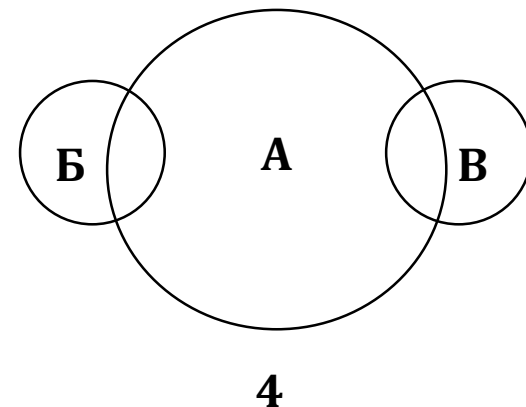
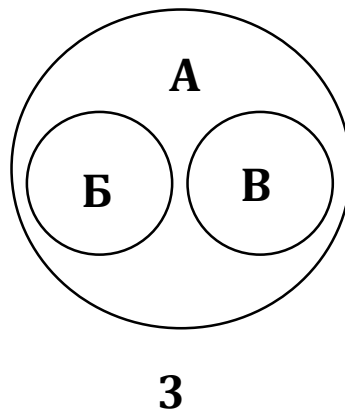
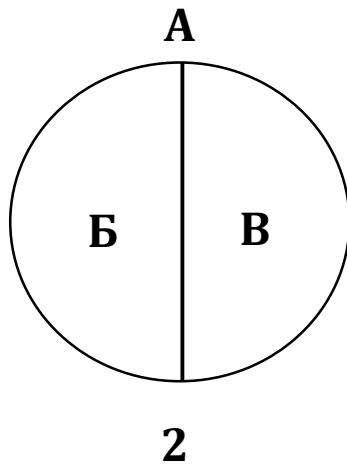
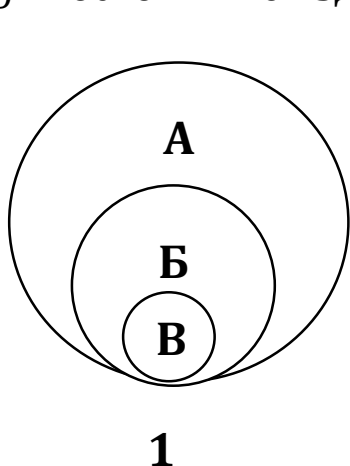
Задание 4 (1 балл)

Какой графический образ в большей степени подходит, на ваш взгляд, для отражения соотношения между понятиями, где:

А) «затраты на производство»

Б) «переменные издержки»

В) «постоянные издержки»



Ответ: 2

Задание 5 (1 балл)

Решите экономическую задачу. Известны функции спроса и предложения товара: $Q_d = 5 - P$ и $Q_s = 3P - 3$ (где Q – равновесное количество, P – цена).

Определите параметры рыночного равновесия: равновесное количество и рыночную цену.

Ответ: 3 и 2

Решение:

(в ситуации рыночного равновесия $Q_d = Q_s$,

Следовательно, $5 - P = 3P - 3$; $P = 2$.

Подставляя значение P в любую функцию, получаем: $5 - 2 = 3$.

Равновесное количество равно 3, равновесная цена равна 2.

Задание 6 (2 балла)

Задание 6. Степан давно хотел реализовать свою мечту: заняться предпринимательской деятельностью. Для открытия автосалона Степан принял решение оформить кредит в банке. Какую сумму денег должен вернуть Степан банку, если он взял кредит 500000 рублей на пять лет под 12% годовых. (При расчете возвратной суммы банк применяет формулу простого процента).

Ответ: 800 000

Решение:

Общая сумма возврата определяется следующим образом: необходимо вернуть сумму кредита и проценты за пользование кредитом, которые определяются как произведение $K \times N \times T$, где K - сумма кредита, N - процентная ставка кредита, T - срок кредитования (в годах).

Следовательно:

$$500000 \times 0,12 \times 5 + 500000 = 800000$$



Задание 7 (2 балла)

Михаил отлично написал контрольную работу по обществознанию. Он правильно определил все верные ответы. Какие суждения выбрал Михаил?

- А) Демократическое государство может иметь только федеративное устройство.
- Б) Политика – это деятельность, направленная исключительно на приобретение и удержание власти.
- В) Политические партии в демократическом обществе разрабатывают программы развития общества и пропагандируют их.
- Г) Политические партии в демократическом обществе определяют размер налогов и сборов, разрабатывают и принимают законы.
- Д) Конфедерация предполагает отсутствие суверенитета ее участников, невозможность выхода из состава союзного государства.
- Е) Государственное устройство определяет порядок взаимодействия центральных и региональных органов власти.

Ответ: ВЕ



Задание 8 (2 балла)

Найдите в приведенном ниже списке высказывания, характерные для конформного поведения.

- А) «Я считаю, что вы не правы, поэтому поступлю так, как правильно...».
- Б) «Знаю, что так нельзя, но все ушли с урока, и я ушел...».
- В) «Пусть делают что хотят, главное – не выделяться».
- Г) «Я поддерживаю любое ваше решение».
- Д) «У меня есть своя голова на плечах, я сам за себя отвечаю».
- Е) «Я имею право на собственную точку зрения».

Ответ: БВГ

Конформное поведение - это изменение модели поведения или взглядов человека под влиянием суждений со стороны других людей.

Задание 9 (2 балла)

Вы знаете, что различают представительную и прямую формы демократии. Выберите в приведенном списке примеры реализации представительной демократии:

- А) законодательная инициатива президента
- Б) депутатский запрос
- В) голосование на выборах в местные органы власти
- Г) референдум
- Д) плебисцит

Ответ: АБ

Остальные перечисленные варианты являются примерами прямой демократии

Задание 10 (6 баллов)

Вставьте пропущенные слова:

«Деньги были придуманы человечеством, прежде всего, для облегчения **обмена** (А). Первоначально роль денег играли различные **предметы** (Б), и лишь потом появились современные формы денег. Признаком денег является способность выполнять функции средства **измерения** (В) рыночной ценности товаров и средства сбережения. Возникновение современных форм денег было вызвано неудобством **бартера** (Г), который требует чрезвычайной множественности относительных цен. Деньги позволили упростить функционирование **торговли** (Д) и облегчили всю хозяйственную жизнь общества. Деньги, кроме того, позволяют выражать ценность всех товаров в единой **системе** (Е) и учитывать их для нужд контроля и управления».

Задание 11 (2 балла)

Гражданин К. в ночное время открыл чужой автомобиль, находящийся на платной парковке, и забрал дорогой компьютер владельца. Выберите верное сочетание характеристик этого поведения.

- А) кража;
- Б) вымогательство;
- В) грабеж;
- Г) разбой;
- Д) мошенничество;
- Е) преступление;
- Ж) проступок.

Ответ: АЕ

Кража это тайное хищение чужого имущества, квалифицирующееся как преступление

Задание 12 (2 балла)

В современном мире существует много юридических профессий. Арсений и Николай решили связать свою профессиональную деятельность с какой-либо из них. Но пока они еще в раздумье: нужно понять, чем отличаются одна юридическая профессия от другой. Попробуйте и Вы найти в предложенном списке характеристики, свойственные профессии адвоката.

- А) Адвокат может представлять интересы доверителя (клиента) в конституционном, гражданском, административном и уголовном судопроизводстве.
- Б) Адвокат может быть вызван и допрошен в качестве свидетеля об обстоятельствах, ставших ему известными в связи с обращением к нему клиента за юридической помощью.
- В) Адвокат может опрашивать тех, кто предположительно владеет информацией, относящейся к делу, по которому адвокат оказывает юридическую помощь.
- Г) Адвокат может применять меры пресечения: брать подписку о невыезде, устанавливать залог и т.д., поскольку адвокатура относится к правоохранительным органам.
- Д) Адвокат может отказаться от принятой на себя защиты, если в процессе работы по поручению клиента выявляются обстоятельства, противоречащие его моральным, политическим или религиозным убеждениям.

Ответ: АВ



Задание 13 (1 балл)

Социологической службой страны П. был проведен опрос группы граждан. Был задан вопрос: «Кем бы Вы хотели видеть вашего ребенка в будущем?» Найдите в приведенном списке выводы, которые можно сделать на основе данных таблицы.

Варианты ответов	% от ответивших	
	2018г.	2020г.
Юристом, экономистом	30	29
Программистом	19	23
Врачом	8	9
Предпринимателем	18	21
Квалифицированным рабочим	13	6
Военным	7	8
Затрудняюсь ответить	5	4

- А) Примерно пятая часть опрошенных хотела, чтобы их ребенок стал предпринимателем.
- Б) Увеличилось количество людей, желающих видеть своих детей юристами и экономистами в будущем.
- В) Наибольший процент опрошенных хотят, чтобы в будущем их дети стали врачами.
- Г) Количество родителей, не желающих, чтобы их дети выбрали рабочие специальности, увеличилось.
- Д) Наименьшее количество опрошенных граждан хотели бы видеть своего ребенка в будущем военным.

Ответ: АГ

Задание 14 (2 балла)

Социологической службой страны П. был проведен опрос группы граждан. Был задан вопрос: «Кем бы Вы хотели видеть вашего ребенка в будущем?» Какие из приведенных ниже выводов непосредственно вытекают из полученной в ходе опроса информации?

Варианты ответов	% от ответивших	
	2018г.	2020г.
Юристом, экономистом	30	29
Программистом	19	23
Врачом	8	9
Предпринимателем	18	21
Квалифицированным рабочим	13	6
Военным	7	8
Затрудняюсь ответить	5	4

- А) Реформирование армии привело к сокращению численности Вооруженных сил.
- Б) В обществе стал высоко цениться труд квалифицированных рабочих.
- В) В обществе по-прежнему высок престиж профессий юриста и экономиста.
- Г) Десятая часть опрошенных считают, что дети сами должны сделать свой профессиональный выбор.
- Д) Научно-технический прогресс ведет к росту востребованности специалистов в области программирования на рынке труда.

Ответ: ВД



Задание 15 (2 балла)

Софью привлекает социология. Она приняла решение поступать на социологический факультет, и сейчас она готовится к поступлению и усиленно изучает обществознание. Она завершила изучение раздела Социология и отлично выполнила тест, в котором надо было выбрать верные ответы. Какие суждения выбрала Софья?

- А) Исполнение социальной роли зависит от личностных качеств человека.
- Б) Социальный статус личности предполагает наличие у нее определенных прав и обязанностей.
- В) К социальным нормам не относятся традиции и обычаи.
- Г) Представители социальной группы «молодёжь» могут выполнять различные социальные роли: ученик, гражданин, работник, супруг.
- Д) Принадлежность к сословию чиновников (мандаринов) в Китае в соответствии с требованиями традиционного конфуцианского образования – пример предписанного статуса.
- Е) Репродуктивной функцией семьи являются обучение детей трудовым навыкам.

Ответ: АБГ

