

6-7 класс

Задание 01

На интеллектуальной игре ведущий предложил поработать с утверждениями, написанными на карточках. Утверждения были либо верными, либо ошибочными по содержанию. Попробуйте и Вы сделать аналогичную работу.

Укажите из предложенных ниже суждений только верные утверждения:

A - В одинаковых видах деятельности люди всегда ставят одинаковые цели.

B - Человек рождается как биологическое существо, а развивается как социальное.

C - Завышенная самооценка может помешать человеку в достижении результата деятельности.

D - Конечный итог деятельности человека называется мотивом.

E - Гуманизм предполагает, что высшая ценность – это человек.

F - Особенности индивидуального развития человека не зависят от его социального окружения и условий.

G - Формирование личности начинается с наступлением взрослого возраста.

Правильный ответ - B, C, E

Задание 02

Две команды старшеклассников приняли участие в конкурсе проектов по озеленению берега городского пруда. Каждая команда подбирала наиболее подходящие, на их взгляд, виды растений и способы их размещения, обосновывая свой проект перед жюри конкурса.

Укажите, какие характеристики подходят для описания их деятельности:

A - Творческая деятельность

B - Научная деятельность

C - Старшеклассники – субъект деятельности

D - Проект – результат деятельности

E - Игра

Правильный ответ - A, B, D

Задание 03

Установите соответствие между описанием потребностей человека и видами потребностей:

1. социальные
2. престижные
3. духовные
4. потребность в безопасности
5. естественные

А - Летние каникулы Алена провела в гостях у родственников в Сибири. Вместе с ними совершила несколько походов по интересным маршрутам, стала самостоятельной. В конце августа девочка вернулась в родной город – Санкт-Петербург. Она с огромным желанием и радостью ждала встречи с друзьями, столько всего ей хотелось рассказать!

В - Марина Викторовна одержала победу в профессиональном конкурсе. Ее успех стал основанием для руководства фирмы, где она работала, предложить ей руководящую должность и повысить заработную плату.

С - Виктор – большой любитель живописи, особенно ему нравится пейзажи. Он решил сам научиться писать картины, освоил несколько курсов. С удовольствием в свободное время переносит на холст свои впечатления от красоты природы.

Д - Егор – инструктор по парашютному спорту. Особое внимание он уделяет тщательной подготовке своих учеников. Перед каждым прыжком он дотошно осматривает и проверяет экипировку и оборудование своих учеников, акцентирует их внимание на всех важных моментах.

Е - После лыжной прогулки по зимнему лесу Оля и Костя, уставшие, но довольные, вернулись домой. Приняв горячий душ и, с аппетитом поужинав, решили отдохнуть.

Правильный ответ - А-1 В-2 С-3 D-4 Е-5

Задание 04

Укажите, в какой из описанных ситуаций речь идет о межличностном конфликте:

А - Рабы под предводительством Спартака подняли восстание в Древнем Риме.

В - Рабочие завода, недовольные снижением заработной платы, обратились в трудовую инспекцию.

С - Жители поселка выразили протест планам администрации закрыть школу из-за небольшого количества учеников.

Д - В присутствии одноклассников Иван бурно выразил учителю недовольство оценкой за контрольную работу.

Правильный ответ - Д

Задание 05

На протяжении последних десятилетий заметно изменилась позиция женщины в семье и отношение общества к этому вопросу.

Используя данные инфографики, нужно указать те утверждения из перечня, которые соответствуют содержанию изображения:



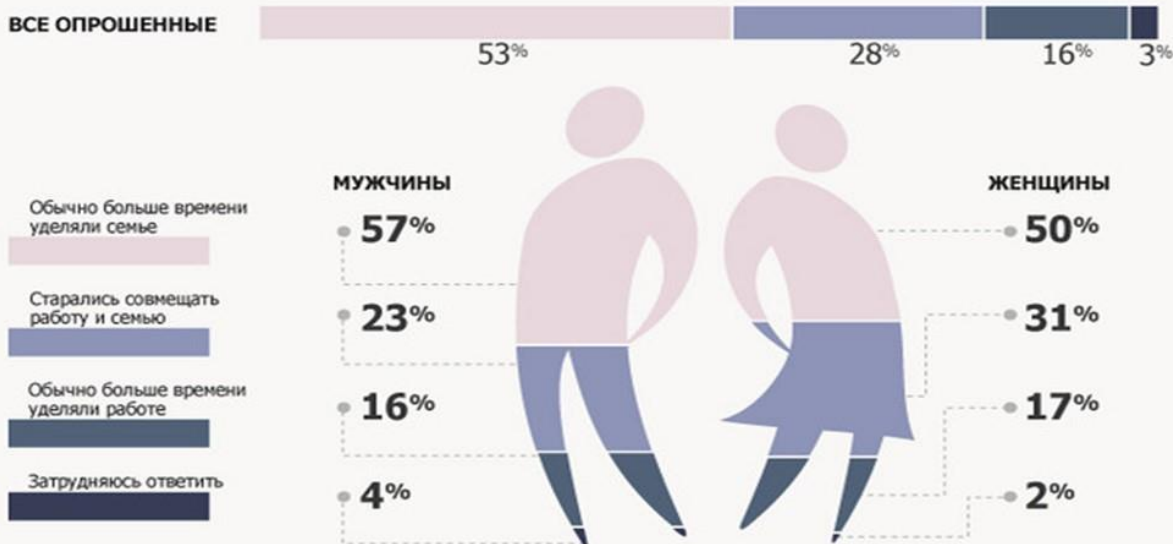
СЕМЬЯ ИЛИ КАРЬЕРА?



Представьте, пожалуйста, что Ваша подруга или знакомая стоит сейчас перед выбором: карьера или семья. Что бы Вы ей посоветовали?



А как решают этот вопрос у Вас в семье? Как обычно поступали Ваши родственницы – сёстры, тётушки и другие?



Как дети меняют жизнь?



Рождение детей ухудшает материальное положение семьи

53%



Рождение детей ограничивает свободу, возможность самореализации личности

48%



Рождение детей препятствует карьерному росту родителей

45%

А - Большинство опрошенных считает, что для женщины важнее семья, чем карьера и личное развитие на работе.

В - Более тридцати процентов опрошенных женщин указали, что их родственницы стараются совмещать работу и семью.

С - Большинство опрошенных считает, что рождение детей не препятствует карьерному росту родителей.

Д - Большинство участников опроса считает, что рождение детей не ухудшает материальное положение семьи.

Е - Между мужчинами и женщинами, принявшими участие в опросе, самая значительная разница мнений в позиции «Женщины в моей семье обычно много времени уделяли работе».

Ф - Незначительная часть опрошенных считает, что рождение детей ограничивает свободу и возможности родителей.

Правильный ответ - А, В, С

Задание 06

В предложенных ниже суждениях о Гербе России содержатся описания фактов и точек зрения (мнений). Внимательно прочитайте приведенные предложения.

Укажите то суждение, которое выражает мнение:

А - Современный герб России представляет собой золотого двуглавого орла на красном фоне.

В - На протяжении многовековой истории российского государства герб не один раз изменялся.

С - Изменения в гербе недопустимы, исторические события не должны влиять на этот государственный символ.

Д - Крылья орла на гербе в разные эпохи изображались по-разному – поднятыми, опущенными, расправленными.

Правильный ответ - С

Задание 07

В предложенных ниже суждениях о символах Свердловской области содержатся описания фактов и точек зрения (мнений). Внимательно прочитайте приведенные предложения.

Укажите то суждение, которое выражает мнение:

А - Гимном Свердловской области должно быть музыкальное произведение на стихи уральского поэта.

В - Малый герб Свердловской области выглядит как щит ярко-красного цвета, на котором изображен белоснежный соболь, стоящий на задних лапах, над соболем – корона.

С - В качестве девиза на гербе – «Опорный край державы» принята цитата из поэмы А. Т. Твардовского.

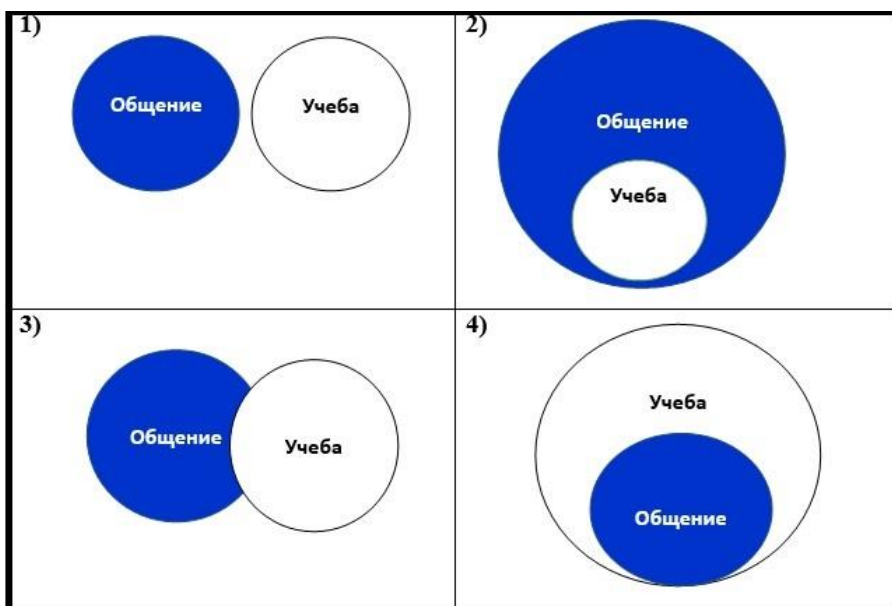
Д - Изображение герба и флага Свердловской области допускается использовать на сувенирной продукции.

Правильный ответ - А

Задание 08

В современном мире очень важно понимать соотношение между разными понятиями, явлениями и процессами.

Укажите, какая из 4-х предложенных схем в большей степени подходит, на ваш взгляд, для отражения соотношения между понятиями общение и учеба:



А - 1

В - 2

С - 3

Д - 4

Правильный ответ - С

Задание 09

Внимательно прочитайте условие и решите задачу:

Егору нужно построить беседку для летних чаепитий возле дома. Он может нанять специалиста, который потратит на постройку 12 часов и возьмёт 800 рублей за каждый час работы. Егор может построить беседку самостоятельно за 24 часа. При этом он потратит выходные и не сможет один день пойти на работу, на которой он получает по 600 рублей в час (рабочий день длится 8 часов). Материалы для постройки беседки Егору покупать не нужно, они остались от постройки дома.

Сколько денег сэкономит Егор, если примет наиболее выгодное для семейного бюджета решение? В ответ запишите только число.

Правильный ответ - 4800

Задание 10

Задача из старинного учебника:

Тихон поехал в выходные в город на базар и купил там лошадь за 50 рублей. Но к вечеру он заметил, что лошади подорожали, и продал ее за 60 рублей. Потом Тихон сообразил, что ехать домой и везти многочисленные покупки ему не на чем, и купил ту же лошадь за 70 рублей. Затем он задумался, как бы не получить от жены нагоняй за такую дорогую покупку, и продал ее за 80 руб.

Сколько денег он заработал в результате торговли? В ответ запишите только число.

Правильный ответ - 20

Задание 11

Укажите верные характеристики финансово грамотного человека:

- А** - ведёт учёт своих доходов и расходов
- В** - тратит больше, чем зарабатывает
- С** - контролирует, чтобы расходы не превышали доходы;
- Д** - берёт в долг в надежде на будущие заработки
- Е** - регулярно откладывает сбережения на будущее

Правильный ответ - А, С, Е

Задание 12

Николай готовил доклад об одном из видов искусства, подобрал изображения для презентации. Ему решила «помочь» младшая сестра, добавив картинки на свой вкус – о других видах искусства. К счастью, большая часть картинок сохранились верно.

Подумайте, о каком виде искусства готовил доклад Николай, и укажите те изображения, которые он сможет использовать в презентации?



A - 1

B - 2

C - 3

D - 4

E - 5

F - 6

Правильный ответ - А, С, D, F

Задание 13

Среди перечисленных фамилий нужно указать явно лишнюю позицию:

А - Христофор Колумб

В - Фернан Магеллан

С - Марко Поло

Д - Робинзон Крузо

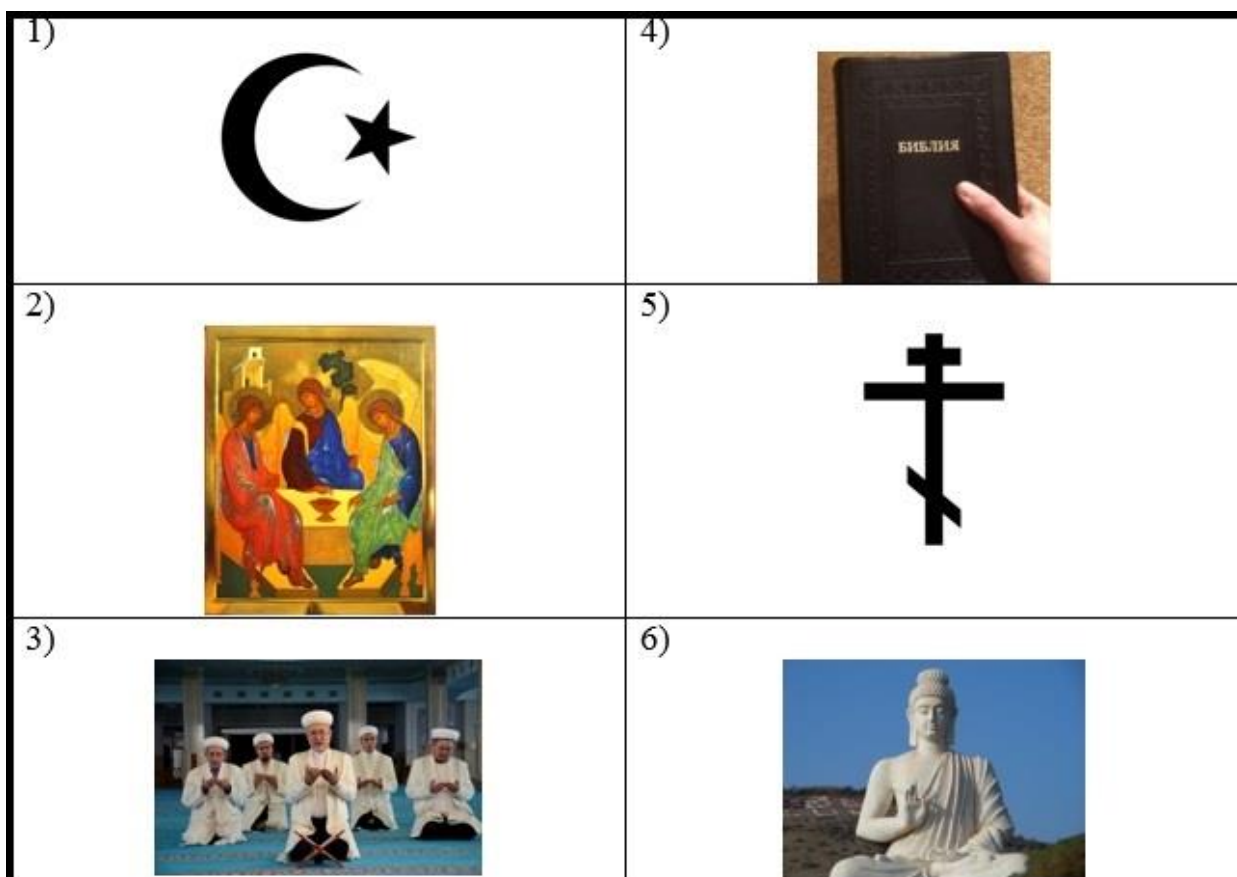
Е - Витус Беринг

Правильный ответ - D

Задание 14

В каждой религии есть свои символы, священные книги, религиозные обряды и т.д. Внимательно рассмотрите изображения.

Укажите, какие из них относятся к христианству:



A - 1

B - 2

C - 3

D - 4

E - 5

F - 6

Правильный ответ - B, D, E

Вариант 2

Задание 01

На интеллектуальной игре ведущий предложил поработать с утверждениями, написанными на карточках. Утверждения были либо верными, либо ошибочными по содержанию. Попробуйте и Вы сделать аналогичную работу.

Укажите из предложенных ниже суждений только верные утверждения:

А - В одинаковых видах деятельности люди могут ставить одинаковые цели.

В - В проявлении инстинктов человек ничем не отличается от животных.

С - Основной принцип гуманизма – признание ценности человеческой личности.

Д - Заниженная самооценка не может помешать человеку в достижении результата деятельности.

Е - Индивидуальность человека проявляется в природных задатках, особенностях психики и поведения.

Ф - Игра как вид деятельности всегда имеет развлекательный, несерьезный характер.

Г - Самооценка человека всегда ошибочна.

Правильный ответ - А, С, Е

Задание 02

Шестиклассники подготовили новогодний спектакль для воспитанников детского сада. Они придумали сценарий, распределили роли, сами создали костюмы и декорации.

Укажите, какие характеристики подходят для описания их деятельности:

А - Творческая деятельность

В - Наука

С - Учение

Д - Трудовая деятельность

Е - Школьники – субъект деятельности

Правильный ответ - А, Д, Е

Задание 03

Установите соответствие между описанием потребностей человека и видами потребностей:

1. социальные
2. престижные
3. духовные
4. потребность в безопасности
5. естественные

А - Иван Дмитриевич – геолог, его работа связана с длительными командировками, когда он, находясь в удаленном от населенных пунктов месте, собирает и передает необходимые данные для составления карт, возможных месторождений полезных ископаемых. Он любит свою работу, но скучает по семье, друзьям и близким в долгих поездках.

В - Для признания своего таланта парикмахера-стилиста Ольга принимала участие в профессиональных конкурсах, программа которых требовала больших затрат времени и сил. Через некоторое время ее участие в конкурсах увенчалось победой, она получила значимую премию и уважение коллег и клиентов.

С - Семен – большой любитель этнографии, особенно его интересуют традиции народного костюма коренных жителей Сибири. Семен создал коллекцию редких оригинальных предметов одежды и быта сибирских народов и передал ее в музей этнографии.

Д - Дети семьи Петровых стали старше, на семейном совете решили, что теперь в школу и на занятия в секции они смогут добираться самостоятельно, старшая сестра будет помогать младшим братьям. Родители подробно объяснили, как следует вести себя в общественном транспорте, на городских улицах, куда обращаться в случае затруднительных ситуаций.

Е - Оля и Петр весь день провели на стройке своего загородного дома, куда отправились на велосипедах. На обратном пути попали под сильный дождь. Усталые вернулись домой, мечтая о горячем душе, вкусном ужине, отдыхе.

Правильный ответ - А-1 В-2 С-3 D-4 Е-5

Задание 04

Укажите, в какой из описанных ситуаций речь идет о межличностном конфликте:

А - Жители Твери подняли восстание против ордынского баскака в 14 веке.

В - Рабочие завода, недовольные ухудшением условий труда, обратились в трудовую инспекцию.

С - Иван Иванович назвал Ивана Никифоровича обидным словом «гусак».

Д - Жители деревни выразили протест планам администрации перенести мост через реку на 2 км.от селения, в связи со строительством новой дороги.

Правильный ответ - С

Задание 05

На протяжении последних десятилетий заметно изменилась позиция женщины в семье и отношение общества к этому вопросу.

Используя данные инфографики, нужно указать те утверждения из перечня, которые соответствуют содержанию изображения:



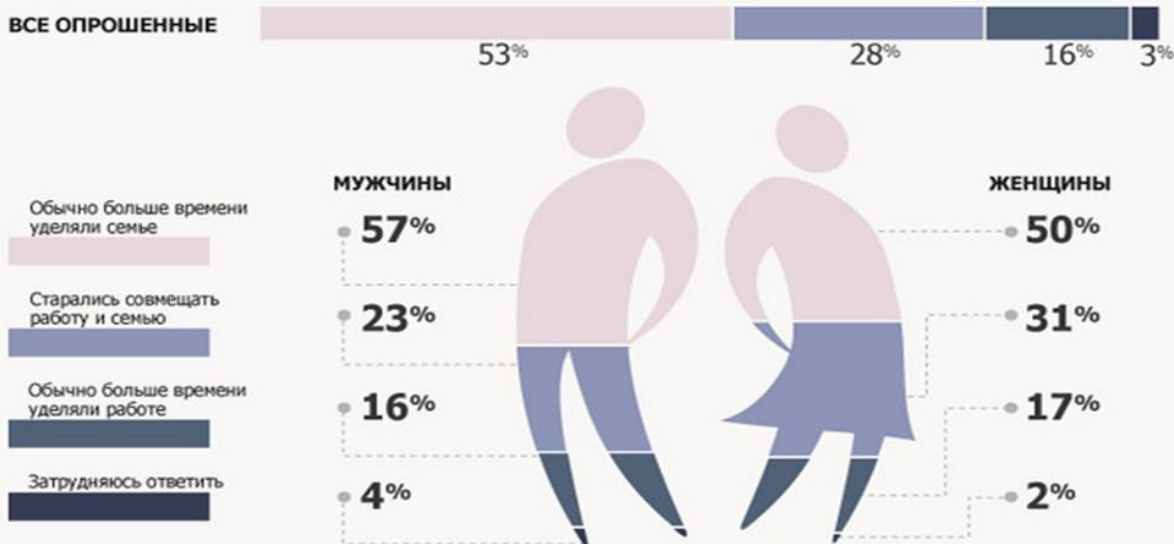
СЕМЬЯ ИЛИ КАРЬЕРА?



Представьте, пожалуйста, что Ваша подруга или знакомая стоит сейчас перед выбором: карьера или семья. Что бы Вы ей посоветовали?



А как решают этот вопрос у Вас в семье? Как обычно поступали Ваши родственницы – сёстры, тётушки и другие?



Как дети меняют жизнь?



Рождение детей ухудшает материальное положение семьи

53%



Рождение детей ограничивает свободу, возможность самореализации личности

48%



Рождение детей препятствует карьерному росту родителей

45%

А - Более тридцати процентов опрошенных женщин указали, что их родственницы стараются совмещать работу и семью.

В - Большинство опрошенных считает, что рождение детей не препятствует карьерному росту родителей.

С - Незначительная часть опрошенных считает, что рождение детей ограничивает свободу и возможности родителей.

Д - Пятая часть всех опрошенных считает, что для женщины важнее карьера и личное развитие на работе, чем семья.

Е - Чуть меньше половины опрошенных полагают, что дети ограничивают свободу и возможности самореализации.

Правильный ответ - А, D, E

Задание 06

В предложенных ниже суждениях о Гимне России содержатся описания фактов и точек зрения (мнений). Внимательно прочитайте приведенные предложения.

Укажите то суждение, которое выражает мнение:

А - Исполнение гимна в сопровождении оркестра звучит наиболее торжественно и впечатляюще.

В - Повторяющийся припев в гимне начинается со слов: «Славься, Отечество наше свободное...».

С - При официальном исполнении Государственного гимна присутствующие выслушивают его стоя, мужчины – без головных уборов.

Д - Слова гимна Российской Федерации написал Сергей Михалков.

Правильный ответ - А

Задание 07

В предложенных ниже суждениях о символах Свердловской области содержатся описания фактов и точек зрения (мнений). Внимательно прочитайте приведенные предложения.

Найдите то суждение, которое выражает мнение:

А - Гимном Свердловской области должно быть музыкальное произведение уральского композитора.

В - На гербе Свердловской области соболев держит передними лапами золотую стрелу, положенную в столб оперением вверх.

С - На Полном гербе Свердловской области серебряными буквами написан девиз «ОПОРНЫЙ КРАЙ ДЕРЖАВЫ».

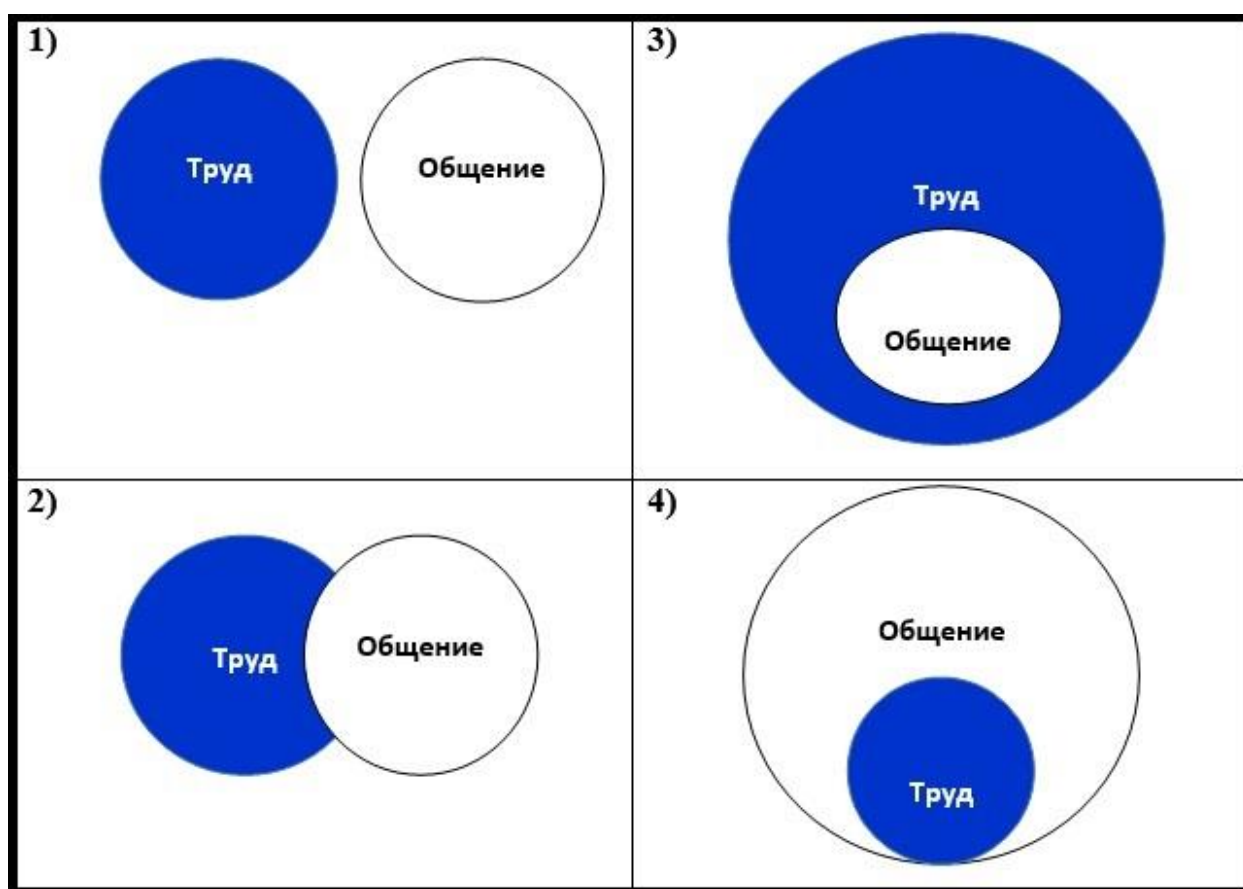
Д - На Полном гербе Свердловской области изображены грифоны со знаменами.

Правильный ответ - А

Задание 08

В современном мире очень важно понимать соотношение между разными понятиями, явлениями и процессами.

Укажите, какая из 4-х предложенных схем в большей степени подходит, на ваш взгляд, для отражения соотношения между понятиями труд и общение:



А - 1

В - 2

С - 3

Д - 4

Правильный ответ - В

Задание 09

Внимательно прочитайте условие и решите задачу:

Ольге нужно приготовить блюда и накрыть стол для большого количества гостей на семейном торжестве. Она может нанять специалистов, которые потратит на подготовку 8 часов и возьмут 1200 рублей за каждый час работы. Ольга может приготовить все самостоятельно за 16 часов. При этом она потратит выходной и не сможет один день пойти на работу, на которой она получает по 900 рублей в час (рабочий день длится 8 часов). Расходы на продукты одинаковы, т.к. при любом варианте их обеспечивает заказчик.

Сколько денег сэкономит Ольга, если примет наиболее выгодное для семейного бюджета решение? В ответ запишите только число.

Правильный ответ - 2400

Задание 10

Задача из старинного учебника:

Евламий поехал в выходные в город на базар и купил там телегу за 40 рублей. Но к вечеру он заметил, что телеги подорожали, и продал ее за 45 рублей. Потом Евламий сообразил, что ехать домой и везти многочисленные покупки ему не на чем, и купил ту же телегу за 50 рублей. Затем он задумался, как бы не получить от жены нагоняй за такую дорогую покупку, и продал ее за 60 руб.

Сколько денег он заработал в результате торговли? В ответ запишите только число.

Правильный ответ - 15

Задание 11

Каждому человеку очень важно научиться управлять своими деньгами. Что значит экономно и бережливо относиться к деньгам?

Укажите верные характеристики:

А - планировать расходы

В - отказывать себе во всём и ничего не покупать

С - не тратить свои деньги, а брать деньги в долг у друзей

Д - не покупать то, без чего можно обойтись

Е - не переплачивать, сравнивать цены и делать наиболее выгодные покупки

Правильный ответ - А, D, E

Задание 12

Оля готовила доклад об одном из видов искусства, подбирал изображения для презентации. Ей решила «помочь» маленькая племянница, добавив картинки на свой вкус – о других видах искусства. К счастью, большая часть картинок сохранились верно.

Подумайте, о каком виде искусства Оля готовила доклад, и укажите те изображения, которые она сможет использовать в презентации?

 <p>1)</p>	 <p>4)</p>
 <p>2)</p>	 <p>5)</p>
 <p>3)</p>	 <p>6)</p>

A - 1

B - 2

C - 3

D - 4

Е - 5

Ф - 6

Правильный ответ - А, В, С, D

Задание 13

Среди перечисленных фамилий нужно указать явно лишнюю позицию:

А - Тутанхамон

В - Карл Великий

С - Салтан

D - Нерон

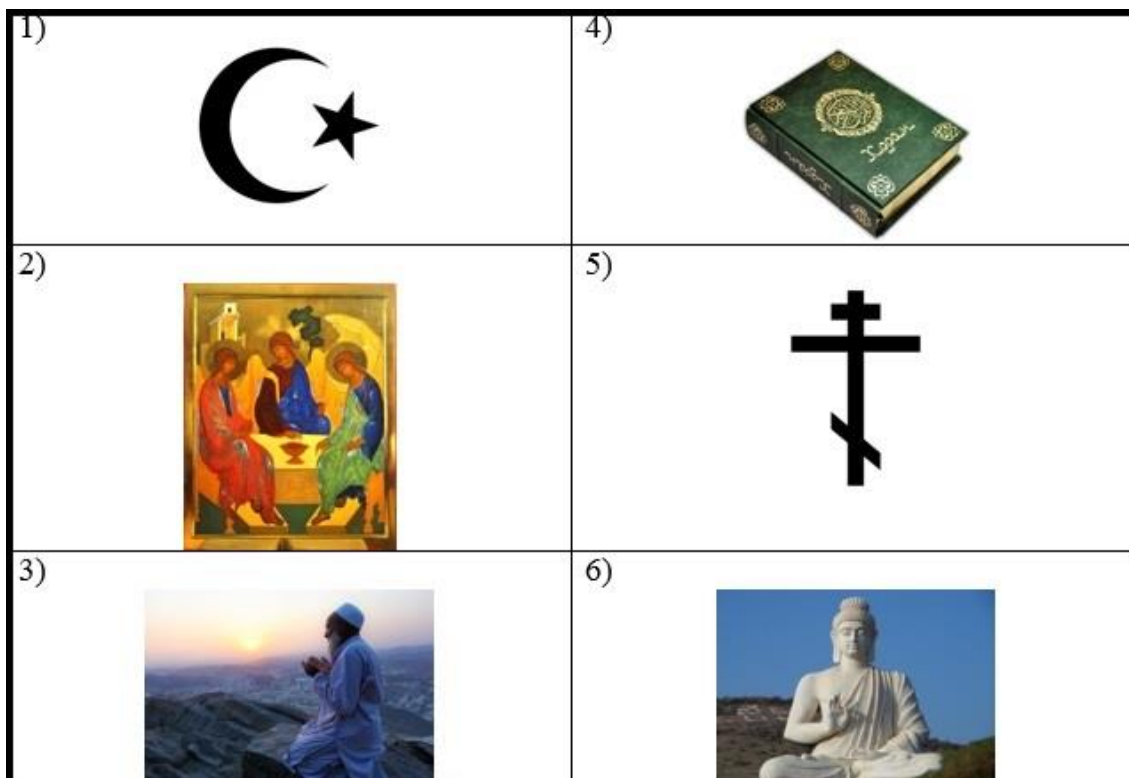
Е - Чингиз хан

Правильный ответ - С

Задание 14

В каждой религии есть свои символы, священные книги, религиозные обряды и т.д. Внимательно рассмотрите изображения.

Укажите, какие из них относятся к исламу:



A - 1

B - 2

C - 3

D - 4

E - 5

F - 6

Правильный ответ - A, C, D

Вариант 3

Задание 01

На интеллектуальной игре ведущий предложил поработать с утверждениями, написанными на карточках. Утверждения были либо верными, либо ошибочными по содержанию. Попробуйте и Вы сделать аналогичную работу.

Укажите из предложенных ниже суждений только верные утверждения:

А - Личность – это результат биологической эволюции.

В - И завышенная и заниженная самооценка могут помешать человеку в достижении результата деятельности.

С - Основной принцип гуманизма – это признание права личности на свободу и счастье.

Д - Самооценка человека не может быть ошибочной, ведь каждый хорошо знает самого себя.

Е - Человек – неотъемлемая часть природы, и как любое природное существо, подчиняется ее законам.

Ф - Особенности индивидуального развития человека зависят только от его биологических особенностей.

Г - Единственным признаком поколения является принадлежность людей к одной возрастной группе.

Правильный ответ - В, С, Е

Задание 02

Под руководством отца одного из семиклассников ребята освоили приемы резьбы по дереву. Каждый из них сделал в подарок маме резную шкатулку по своему эскизу.

Укажите, какие характеристики подходят для описания их деятельности:

А - Творческая деятельность

В - Наука

С - Учебная деятельность

Д - Шкатулка – результат деятельности

Е - Игра

Правильный ответ - А, С, D

Задание 03

Соотнесите описание потребностей человека с видами потребностей:

1. социальные
2. престижные
3. духовные
4. потребность в безопасности
5. естественные

А - Зимние каникулы Маша провела в гостях у родственников в Сибири. Вместе с ними совершила несколько лыжных походов по интересным маршрутам, стала самостоятельной. В конце каникул девочка вернулась в родной город – Псков. Она с огромным желанием и радостью ждала встречи с друзьями, столько всего ей хотелось рассказать!

В - Марина Викторовна одержала победу в профессиональном конкурсе. Ее успех стал основанием для руководства фирмы, где она работала, предложить ей руководящую должность и повысить заработную плату.

С - Дмитрий – большой любитель поэзии, особенно ему нравится творчество испанских поэтов. Много лет он хотел читать любимые стихи в оригинальном варианте, без перевода. Для этого Дмитрий осваивает испанский язык, три раза в неделю занимаясь с носителем языка.

Д - Федор решил построить для своих детей площадку для игр возле загородного дома. Для этого он изучил предложения многих фирм, выбирая варианты детских качелей и комплексов для активного игр из наиболее экологичных материалов и прочных по конструкции.

Е - После завершения напряженной трудовой недели и сдачи заказчиком сложного проекта Степан с нетерпением ждал выходных за городом, чтобы выспаться и отдохнуть.

Правильный ответ - А-1 В-2 С-3 D-4 Е-5

Задание 04

Укажите, в какой из описанных ситуаций речь идет о межличностном конфликте:

А - В 1381 г. Уот Тайлер возглавил поход крестьян на Лондон с требованиями отмены крепостного права.

В - Рабочие индийского завода Wistron устроили крупную акцию протеста в связи с невыплатой заработной платы.

С - Ольга не дала Ирине списать домашнее задание, и Ирина подговорила подружек не общаться с девочкой.

Д - В городе N состоялся митинг, на котором присутствовало более тысячи жителей, протестовавших против вырубки леса, который создает зеленую зону города.

Правильный ответ - С

Задание 05

На протяжении последних десятилетий заметно изменилась позиция женщины в семье и отношение общества к этому вопросу.

Используя данные инфографики, нужно указать те утверждения из перечня, которые соответствуют содержанию изображения:



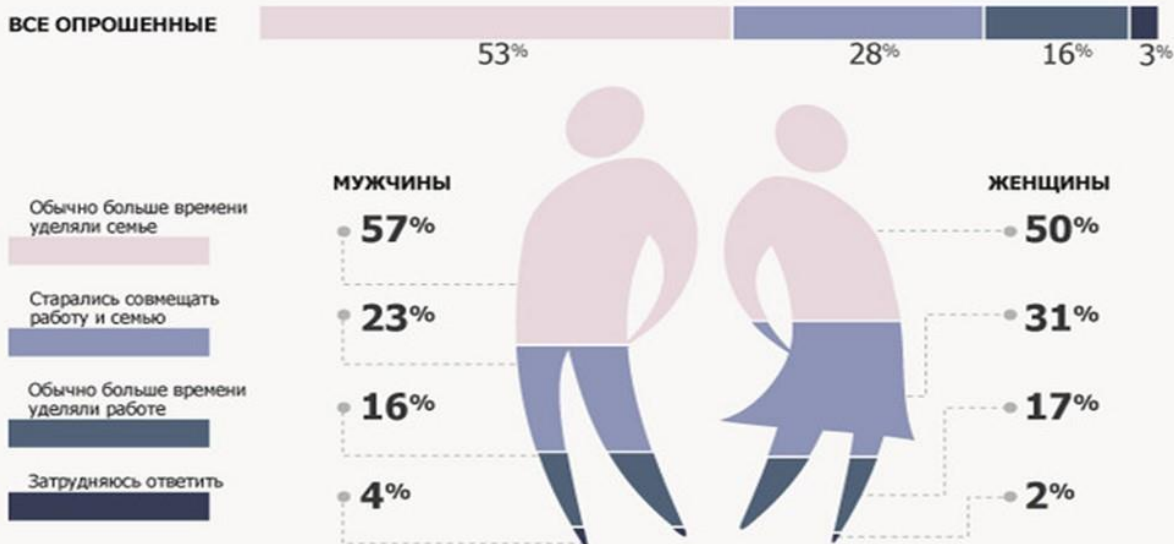
СЕМЬЯ ИЛИ КАРЬЕРА?



Представьте, пожалуйста, что Ваша подруга или знакомая стоит сейчас перед выбором: карьера или семья. Что бы Вы ей посоветовали?



А как решают этот вопрос у Вас в семье? Как обычно поступали Ваши родственницы – сёстры, тётушки и другие?



Как дети меняют жизнь?



Рождение детей ухудшает материальное положение семьи

53%



Рождение детей ограничивает свободу, возможность самореализации личности

48%



Рождение детей препятствует карьерному росту родителей

45%

А - Незначительная часть опрошенных считает, что рождение детей ограничивает свободу и возможности родителей.

В - Более тридцати процентов опрошенных женщин указали, что их родственницы стараются совмещать работу и семью.

С - Большинство опрошенных считает, что рождение детей не препятствует карьерному росту родителей.

Д - Большинство опрошенных считает, что для женщины важнее семья, чем карьера и личное развитие на работе.

Е - Между мужчинами и женщинами, принявшими участие в опросе, самая значительная разница мнений в позиции «Женщины в моей семье обычно много времени уделяли работе».

Правильный ответ - В, С, D

Задание 06

В предложенных ниже суждениях о Флаге России содержатся описания фактов и точек зрения (мнений). Внимательно прочитайте приведенные предложения.

Укажите то суждение, которое выражает мнение:

А - Государственный флаг Российской Федерации представляет собой прямоугольное полотнище из трёх одинаковых горизонтальных полос: верхней — белого, средней — синего и нижней — красного цвета.

В - День государственного флага РФ – 22 августа.

С - Каждый гражданин обязан знать историю российского флага.

Д - Государственный флаг РФ поднят постоянно на зданиях высших органов власти.

Правильный ответ - С

Задание 07

В предложенных ниже суждениях о символах Свердловской области содержатся описания фактов и точек зрения (мнений). Внимательно прочитайте приведенные предложения.

Укажите то суждение, которое выражает мнение:

А - Малый герб Свердловской области представляет собой червлёный щит с серебряным восстающим соболем, держащим передними лапами золотую стрелу, положенную в столб оперением вверх. Щит увенчан золотой императорской короной.

В - Гимном Свердловской области должно быть музыкальное произведение уральских авторов.

С - На Полном гербе Свердловской области серебряными буквами начертан девиз «ОПОРНЫЙ КРАЙ ДЕРЖАВЫ».

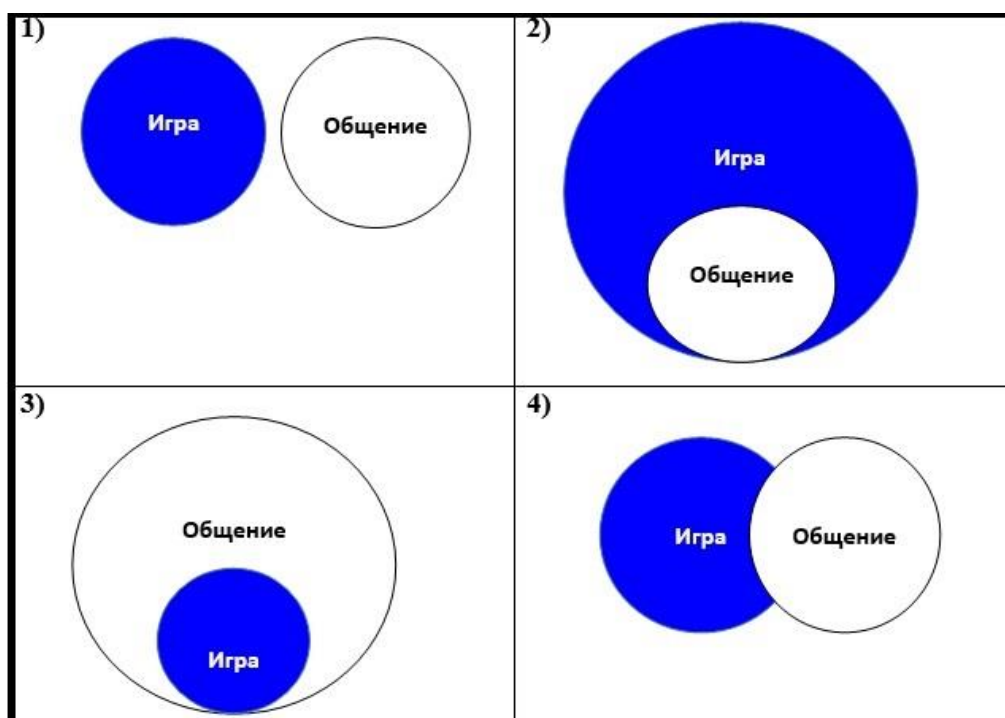
Д - Девиз «Опорный край державы» взят из произведения Александра Твардовского и обращает внимание на то, что Урал обладает развитой промышленностью и вносит большой вклад в оборонительную мощь страны.

Правильный ответ - В

Задание 08

В современном мире очень важно понимать соотношение между разными понятиями, явлениями и процессами.

Укажите, какая из 4-х предложенных схем в большей степени подходит, на ваш взгляд, для отражения соотношения между понятиями общение и игра:



А - 1

В - 2

С - 3

Д - 4

Правильный ответ - Д

Задание 09

Внимательно прочитайте условие и решите задачу:

Михаилу нужно отремонтировать летнюю веранду на даче. Он может нанять специалиста, который потратит на ремонт 11 часов и возьмёт 700 рублей за каждый час работы. Михаил может провести ремонтные работы самостоятельно за 24 часа. При этом он потратит выходные и не сможет один день пойти на работу, на которой он получает по 450 рублей в час (рабочий день длится 8 часов). Материалы для ремонта веранды Михаилу покупать не нужно, они остались от постройки дома.

Сколько денег сэкономит Михаил, если примет наиболее выгодное для семейного бюджета решение? В ответ запишите только число.

Правильный ответ - 4100

Задание 10

Задача из старинного учебника:

Пафнутий поехал в выходные в город на базар и купил там корову за 45 рублей. Но к вечеру он заметил, что коровы подорожали, и продал ее за 50 рублей. Потом Пафнутий сообразил, что корова его семейству нужна для дочери в приданое, и купил ту же корову за 55 рублей. Затем он задумался, как бы не получить от жены нагоняй за такую дорогую покупку, и продал ее за 60 руб.

Сколько денег он заработал в результате торговли? В ответ запишите только число.

Правильный ответ - 10

Задание 11

Укажите верные характеристики финансово грамотного человека:

А - составляет план покупок товаров в магазине

В - хранит сбережения дома

С - хранит сбережений в каком-либо банке

Д - играет на деньги с телефона в игровые автоматы

Е - одалживает денег у знакомых под возможные будущие доходы

Ф - ведет учёт всех доходов и расходов

Правильный ответ - В, Д, Е

Задание 12

Иван готовил доклад об одном из видов искусства, подобрал изображения для презентации. Ему решил «помочь» младший брат, добавив картинки на свой вкус – о других видах искусства. К счастью, большая часть картинок сохранились верно.

Подумайте, о каком виде искусства Иван готовил доклад, и укажите те изображения, которые он сможет использовать в презентации:



A - 1

B - 2

C - 3

D - 4

Е - 5

Ф - 6

Правильный ответ - А, В, D, F

Задание 13

Среди перечисленных персонажей нужно указать явно лишнюю позицию:

А - Даниэль Дефо

В - Шерлок Холмс

С - Чарльз Диккенс

Д - Александр Дюма


Е - Жюль Верн

Правильный ответ - В

Задание 14

В каждой религии есть свои символы, священные книги, религиозные обряды и т.д. Внимательно рассмотрите изображения.

Укажите, какие из них относятся к буддизму:



A - 1

B - 2

C - 3

D - 4

E - 5

F - 6

Правильный ответ - B, E, F