

## 5-6 класс

### Вариант 1

#### Задание 01

Укажите все верные ответы:

**А** - Первобытные люди появились на территории Восточной Африки более 4 миллионов лет назад.

**В** - Первым металлом, из которого люди научились делать орудия труда, была медь.

**С** - Древний Египет располагался на берегах Нила от первых порогов до Средиземного моря.

**Д** - Вавилон был знаменитым городом Финикии.


**Е** - Греческий полис включал в себя город и окружавшие его виноградники, оливковые рощи, поля земледельцев.

**Ф** - Первым правителем Древнего Рима стал один из двух братьев-близнецов - Рем.

Правильный ответ - В, С, Е

#### Задание 02

Рассмотрите иллюстрации, связанные с историей Древнего мира, и укажите верные суждения о них:



**А** - Сюжеты всех иллюстраций связаны с событиями истории Древней Греции.

**В** - Все представленные иллюстрации были созданы до нашей эры.

**С** - На одной из иллюстраций представлена афинская гавань, где запрещено было перемещение людей и товаров.

**Д** - Иллюстрация № 4 отображает сцену морского боя между греками и персами.

**Е** - Иллюстрация № 3 представляет цирковое выступление, популярное в Древней Греции.

Правильный ответ - А, Д

### Задание 03

**Расположите достопримечательности Древнего мира в хронологическом порядке их создания:**

1. 1
2. 2
3. 3
4. 4
5. 5

**А** - Пирамида Хеопса

**В** - Кносский дворец

**С** - Висячие сады Семирамиды

**Д** - Парфенон

**Е** - Колизей

Правильный ответ - А-1 В-2 С-3 D-4 Е-5

#### **Задание 04**

**Установите соответствие между историческими деятелями Древнего мира и фактами их жизни и деятельности:**

1. Хаммурапи
2. Тутмос III
3. Дарий I
4. Конфуций
5. Мильтиад

**А** - при нем в Вавилоне были созданы письменные законы

**В** - при нем были совершены самые крупные завоевания египтян

**С** - при нем в Персеполе строились роскошные дворцы

**Д** - был мудрецом, учившим людей уважению к старшим и истории страны

**Е** - был стратегом, успешно воевавшим с персами

Правильный ответ - А-1 В-2 С-3 D-4 Е-5

#### **Задание 05**

**Укажите достопримечательности России, созданные до начала XVIII века:**

**А** - Софийский собор в Новгороде

**В** - Петропавловская крепость

**С** - Собор Василия Блаженного в Москве

**Д** - Храм на Крови в Екатеринбурге

**Е** - Церковь Покрова на Нерли

Ф - Казанский собор в Санкт-Петербурге

Правильный ответ - А, С, Е

### Задание 06

Установите соответствие между историческими деятелями и событиями:

1) 	2) 	
3) 	4) 	5) 

1. 1
2. 2
3. 3
4. 4
5. 5

А - Крещение Руси

В - Создание первых русских законов

С - Битва со шведами на реке Неве

Д - Учреждение стрелецкого войска

Е - Освобождение Москвы от поляков в Смутное время

Правильный ответ - А-1 В-2 С-3 D-4 Е-5

### Задание 07

**Прочитайте отрывок из произведений византийского историка Прокопия Кесарийского и укажите все верные суждения, относящиеся к данному тексту:**

*“Варвары, не встречая никакого сопротивления, обнаружили бесчеловечную свирепость. Они до того разорили завоеванные города, что в мое время не осталось и признаков их существования, в особенности по сию сторону Ионического залива: едва уцелела какая-нибудь башня, или какие-нибудь ворота, или что-нибудь подобное. В своих набегах они убивали всех, кто им попадался, старых, равно как и молодых; не щадили ни женщин, ни детей: от того и по сию пору Италия так малолюдна. Они не оставили в Риме никакого имущества: ни государственного, ни частного”.*

**А** - В документе описаны события, связанные с завоеваниями варварами Римской империи.

**В** - Автор текста указывает на безжалостность завоевателей.

**С** - Автор текста считает, что завоеванные варварами города достаточно быстро были восстановлены.

**Д** - Варвары воевали только с мужчинами.

**Е** - Многие римские города были уничтожены варварами.

**Ф** - Римляне ожесточенно сопротивлялись завоеваниям варваров.

Правильный ответ - А, В, Е

### Задание 08

**Перед вами – фотографии, иллюстрирующие важные исторические события XX века.**

**Укажите номера двух «лишних» фотографий, не относящихся к Великой Отечественной войне.**



A - 1

B - 2

C - 3

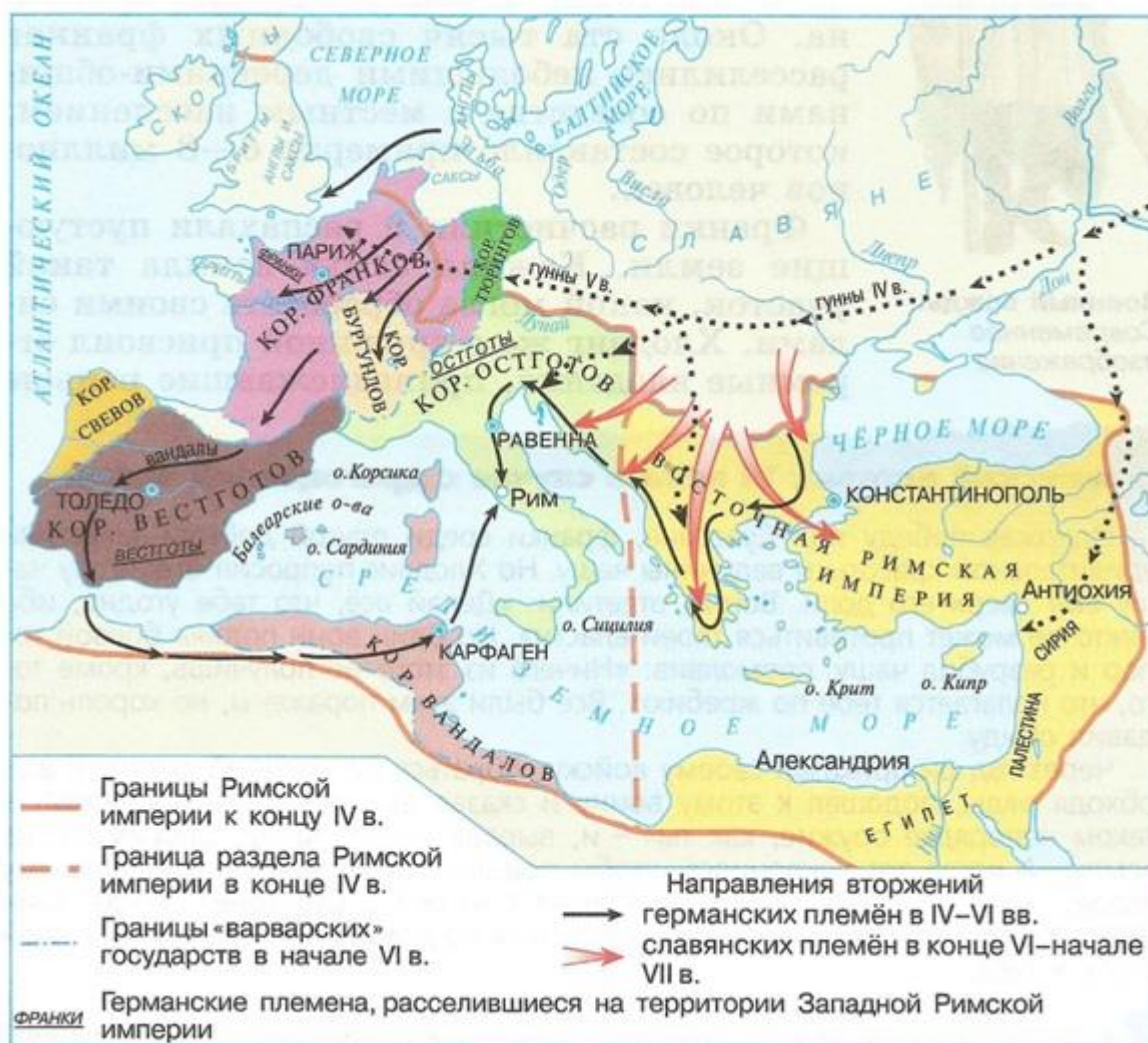
D - 4

E - 5

Правильный ответ - C, E

### Задание 09

Рассмотрите карту и укажите все верные суждения, относящиеся к событиям, изображённым на данной карте:



А - На карте представлено движение славянских племён с юга на север.

В - На данной карте представлено Великое переселение народов.

С - Гунны двигались с востока на Запад.


Д - Королевство вандалов возникло на берегу Северной Африки.

Е - Славяне были соседями вестготов.

Ф - Столицей королевства франков стал город Карфаген.

Правильный ответ - В, С, Д

## Задание 10



Березовские прииски. Золотопромывная фабрика (фотография начала XX века)

Прочитайте тексты, рассмотрите иллюстрацию и укажите все верные суждения, относящиеся к описываемой исторической ситуации:

***Бажов***                                ***П.П.***                                ***Золотые***                                ***дайки***

«Ведь с чего началось? Искал Ерофей Марков дурмашки да строганцы и нашел в той яме золотые комышки. Вроде и просто, а как подумаешь, — большая это редкость, чтоб в здешнем жильном золоте отдельно комышек найти. Золото у нас, поди-ка, полосовое, полосами в земле лежит и крепко в тех полосах заковано. Посвободнее маленько только в жилках, кои те полосы пересекают. Наши старики, как потом научились эти поперечные жилки выковыривать, приметку оставили: «В которой жилке турмалин блестит либо зеленая глина роговицей отливает, там золота не жди. А вот когда серой припахивает либо игольчатник — руда пойдет, айконитом-то которую зовут, там, может статься, комышек готовенького золота и найдешь». Вот на такую-то редкость Ерофей и наскочил, да еще в ту пору, когда по всей нашей земле золота добывать не умели».

***Рапопорт М.С., Бабенко В.В., Болтыров В.Б. Березовское золоторудное месторождение***

«Березовское месторождение продолжает и ныне привлекать внимание исследователей, притом не только как уникальный золоторудный объект. В его недрах сосредоточена богатейшая кладовая минералов. Список обнаруженных на месторождении минералов включает около 90 наименований: среди них серебро, золото, электрум, висмут, тетрадимит, борнит, акаитит, пентландит, сфалерит, халькопирит, теннантит, тетраэдрит, пирротин, никелин и др. В этом перечне немало редких и редчайших минералов».



**Рукоуев Е. Золотодобыча: дважды первые**

«Россия неоднократно удивляла мир своими особенностями, не стала исключением и добыча золота. На новых месторождениях в Америке, Австралии, Южной Африке сначала открывали россыпи, а потом коренное золото. В Березовском было наоборот – сначала открыли жильное золото и только через 79 лет – россыпи.

Интересно и геологическое строение месторождения, золотые жилы располагаются внутри кварцевых полос, минерал, их составляющий, получил название березит. Всего было открыто около 200 полос, расположенных перпендикулярно к речке Березовке. Добыча золотоносной руды в шахтах до начала XX века производилась вручную».

**А** - На Урале сначала было обнаружено жильное золото, что обусловило трудности с его извлечением.

**В** - Уральский крестьянин Ерофей Марков стал первооткрывателем золота на Среднем Урале.

**С** - Березовское золоторудное месторождение уже не представляет интереса для геологов.

**Д** - Минерал, составляющий кварцевые полосы, внутри которых расположены золотые жилы, получил название “березит”.

**Е** - Без применения сложных механизмов золотодобыча в XIX веке была невозможна.

**Ф** - Список обнаруженных в Березовском месторождении минералов не превышает 50 наименований.

Правильный ответ - А, В, Д

## Вариант 2

### Задание 01


Укажите все верные ответы:

- А - Ликург был знаменитым правителем Афин.
- В - Первыми в истории человечества определили продолжительность года (365 суток) жители Древнего Египта.
- С - Земледелие возникло в Западной Азии раньше, чем в других регионах.
- Д - Знаменитые пурпурные ткани производили шумеры.
- Е - Законы Хаммурапи были записаны на большом столбе из черного камня.
- Ф - Первой формой правления в Риме стала республика.

Правильный ответ - В, С, Е

### Задание 02

Рассмотрите иллюстрации, связанные с историей Древнего мира, и укажите верные суждения о них:



**А** - Сюжеты всех иллюстраций связаны с темой истории искусства Древней Греции.

**В** - На иллюстрации № 3 представлен памятник архитектурного искусства – Парфенон, расположенный на Афинском Акрополе.

**С** - Иллюстрация № 4 представляет изображение богини Афины - покровительницы знаменитого греческого города.

**Д** - Иллюстрация № 2 представляет греческие маски, которые передавали только две эмоции - радость и гнев.

**Е** - Греческий театр, представленный на иллюстрации № 1 был непопулярным видом искусства, интерес у греков вызывало только цирковое искусство.

Правильный ответ - А, В

### Задание 03

**Расположите достопримечательности Древнего мира в хронологическом порядке их создания:**

1. 1
2. 2
3. 3
4. 4
5. 5

**A** - Гробница фараона Тутанхамона

**B** - Царская дорога Дария Первого

**C** - Статуя Афины в Парфеноне

**D** - Александрийский маяк

**E** - Триумфальная арка императора Константина в Риме

Правильный ответ - A-1 B-2 C-3 D-4 E-5

#### **Задание 04**

**Установите соответствие между историческими деятелями Древнего мира и фактами их жизни и деятельности:**

1. Соломон
2. Эхнатон
3. Кир Великий
4. Будда
5. Фемистокл

**A** - правитель Древнееврейского царства, прославившийся богатством и мудростью

**B** - фараон, который провел религиозную реформу, установив единобожие

**C** - персидский завоеватель Мидии, Лидии и Вавилона

**D** - индийский мудрец, проповедовавший освобождение от страданий путем отказа от лишних желаний

**E** - греческий политик, создатель флота в Афинах

Правильный ответ - A-1 B-2 C-3 D-4 E-5

#### **Задание 05**

**Укажите произведения русской литературы, созданные до начала XVIII века:**

**А** - «Слово о походе Игореве, Игоря, сына Святославова, внука Олегова»

**В** - Басни И.А. Крылова

**С** - Стихотворение М.Ю. Лермонтова “Бородино”

**Д** - «Житие святого благоверного князя Александра Невского»

**Е** - «Сказание о белгородском киселе»

**Ф** - Рассказ И.С. Тургенева “Муму”

Правильный ответ - А, Д, Е

### **Задание 06**

**Установите соответствие между историческими деятелями и событиями:**



1. 1
2. 2
3. 3
4. 4
5. 5

**А** - Создание княжеской династии на Руси.

**В** - Создание литературного произведения “Поучение детям”.

**С** - Куликовская битва – сражение между общерусским войском под командованием московского князя и войском Золотой Орды.

**D** - Завершение объединения земель под властью Москвы, создание централизованного государства.

**E** - Начало правления династии Романовых.

Правильный ответ - А-1 В-2 С-3 D-4 Е-5

### **Задание 07**

**Прочитайте отрывок из произведения средневекового историка Григория Турского и укажите все верные суждения, относящиеся к данному тексту:**

*«После этого вандалы, снявшись со своего места, с королем Гундеригом устремились в Галлию; подвергнув ее сильному опустошению, они напали на Испанию. За вандалами последовали свевы, то есть алеманны, захватившие Галисию. Спустя немного времени между вандалами и свевами, которые жили по соседству друг с другом, возник раздор. И когда они, вооружившись, пошли на битву и уже готовы были к сражению, король алеманнов сказал: «До каких же пор война будет обрушиваться на весь народ? Чтобы не гибли люди того и другого войска, я прошу, чтобы двое – один от нас, другой от вас – вышли с оружием на поле боя и сразились между собой. Тогда тот народ, чей воин будет победителем, и займет без спора страну».*

**A** - В документе указаны названия германских племен, которые расселились на территории средневековой Европы.

**B** - В процессе переселения между племенами возникали конфликты.

**C** - Автор текста приводит пример разрешения военного конфликта с помощью поединка представителей двух народов.

**D** - В тексте указаны современные названия европейских государств.

**E** - Автор текста считает, что свевы и алеманны - это разные народы.

**F** - В описываемый период у вандалов и алеманнов еще не было правителей, социального неравенства.

Правильный ответ - А, В, С

### **Задание 08**

**Перед вами – фотографии памятников, иллюстрирующие важные исторические события XX века.**

**Укажите номера двух «лишних» фотографий, не относящихся к Великой Отечественной войне.**



A - 1

B - 2

C - 3

D - 4

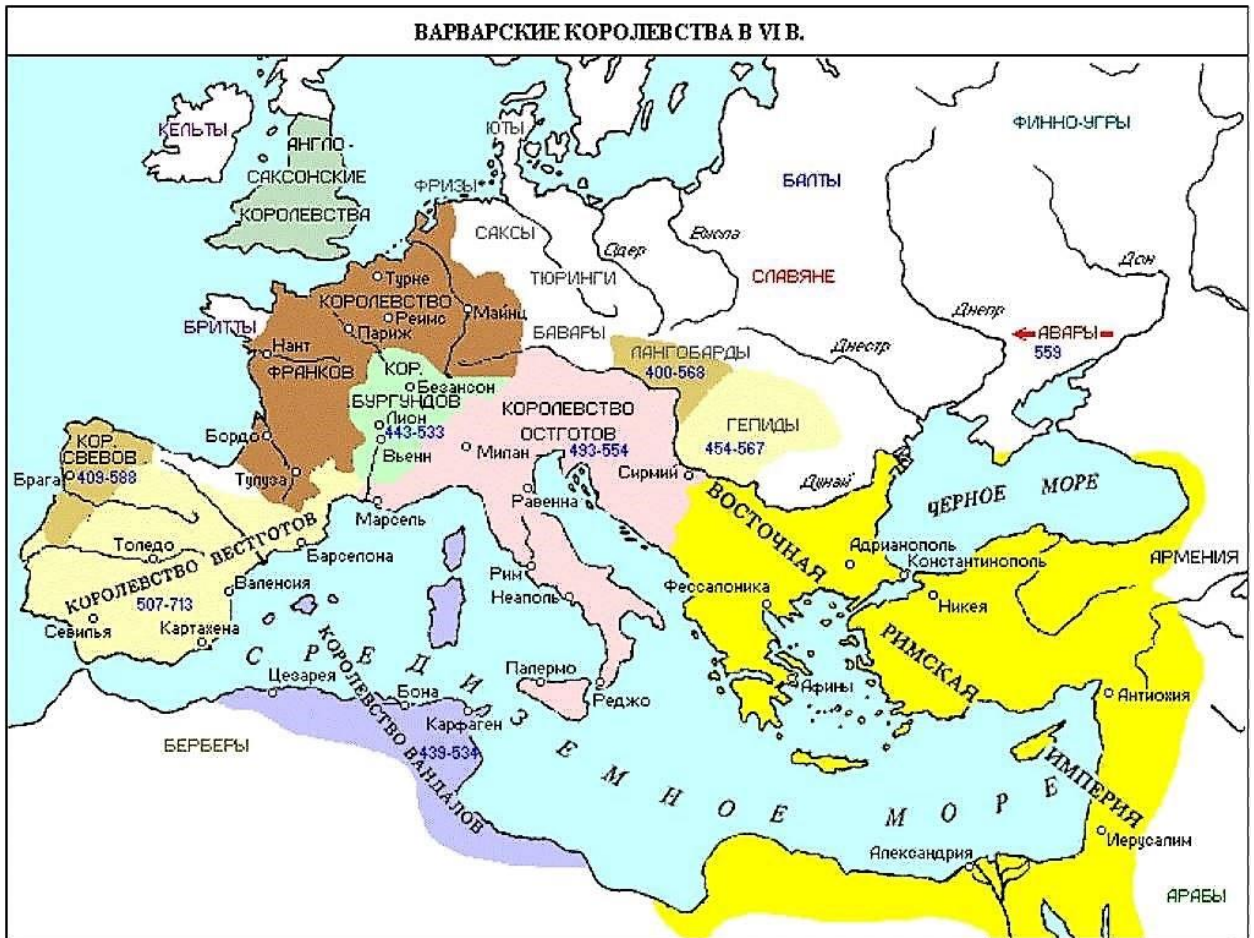
E - 5

Правильный ответ - D, E

### Задание 09

Рассмотрите карту и укажите все верные суждения, относящиеся к событиям, изображённым на данной карте:





**A** - Желтым цветом на карте выделена территория государства, столицей которого стал город Афины.

**B** - На данной карте представлены государства, созданные на территории, которую ранее занимала Западная Римская империя.

**C** - Франки были соседями вестготов и бургундов.

**D** - В состав территории Восточной Римской империи входили земли Армении, Палестины, Египта, Греции.

**E** - Королевство вандалов располагалось на юге Африки.

**F** - Государство аваров было создано раньше других средневековых государств.

Правильный ответ - B, C, D

## Задание 10

### Торговля в Екатеринбурге в конце XIX века

Количество промышленных предприятий	Кустарные заведения и мастерские	Стоимость некоторых товаров на Зеленом рынке (ул. Малышева)
49	Более 300	Поросенок - 45 коп. Пуд (16 кг муки) - 1 руб. 20 коп. Пуд мяса - 2 руб. 20 коп. 100 яиц - 1 руб. 30 коп. Пуд сливочного масла - 8 руб. Минимальная цена обеда на рынке - 2 коп. (щи и хлеб)  Заработная плата рабочего - от 80 коп. до 1, 5 руб. в день в зависимости от квалификации

(Таблица составлена автором олимпиадного задания)

**Прочитайте текст и статистические данные, рассмотрите иллюстрацию и укажите все верные суждения, относящиеся к описываемой исторической ситуации:**

***П.П. Бажов. Отрывок из книги «Дальнее-близкое»***

*«Здесь с Уктусской улицы повернули на Главный проспект - лучшую часть города. Окрашенная в голубой цвет церковь, обнесенная довольно тесной оградой с чахлыми деревьями, не привлекла внимания. Церковь как церковь. Не лучше наших заводских. Но вот дом с лепными украшениями - это да! Ничего похожего не видывал. И вывески тут какие-то необыкновенные: «Жорж Блок», «Барон де Суконтен», «Швартэ», а сверху какой-то неведомый «Нотариус». Сама по себе эта главная улица была непохожа на остальные. Посередине обсаженная деревьями дорожка для пешеходов. В начале каждого квартала, у прохода на эту дорожку, с той и с другой стороны небольшие лавочки, около которых толпится народ. Пьют «кислые щи», «баварский квас», ребята отходят с разноцветными трубочками, в которых, как я вскоре узнал, продавался мак с сахаром. Маковушка стояла от одной до трех копеек. Около лавочек прохаживался или стоял городской. Эти постовые набирались из внешне видных людей, и все четверо, которых я видел в тот день, показались огромными и страшными. На этой же части пути увидел вывеску: «Продажа металлов... графини Стенбокк-Фермор». Мудреную фамилию запомнил со всей цепкостью ребячьей памяти...»*



*Фотография Главного проспекта с колокольни Екатерининского собора (начало XX века)*

**А** - Одной из важнейших улиц Екатеринбурга в XIX веке был Главный проспект.

**В** - На Главном проспекте располагались церкви, торговые лавки, жилые дома, широкий бульвар для пешеходов.

**С** - Особенностью Главного проспекта стало наличие церквей, отсутствие торговых лавочек.

**Д** - Покупки на Зеленом рынке Екатеринбурга позволяли обеспечить существование семьям с невысокими доходами.

**Е** - Торговля в Екатеринбурге велась прежде всего русскими купцами, крупных предприятий, представителей иностранного капитала практически не было.

**Г** - На представленной фотографии Главного проспекта Екатеринбурга изображено активное автомобильное движение.

Правильный ответ - А, В, Д

## Вариант 3

### Задание 01

Укажите все верные ответы:

А - Пунические войны - войны между Римом и Карфагеном, закончились победой карфагенян.

В - Древнейшие люди добывали пищу собирательством и охотой.

С - Первые государства появились более 5 тысяч лет назад.

Д - Финикия расположена между Евфратом и Тигром.



Е - Самым главным богом египтяне считали Солнце (Ра, Амон, Амон-Ра).

Ф - Спарта - один из греческих полисов, который прославился своими поэтами и художниками.

Правильный ответ - В, С, Е

### Задание 02

Рассмотрите иллюстрации, связанные с историей Древнего мира, и укажите верные суждения о них:



**А** - Сюжеты всех иллюстраций связаны с греко-персидскими войнами.

**В** - Все иллюстрации представляют военные действия.

**С** - Иллюстрация № 2 представляет сцену наказания персами моря по приказу правителя Ксеркса.

**Д** - Иллюстрация № 4 отображает сцену масштабной гибели афинских кораблей в битве при Саламине.

**Е** - Иллюстрация № 3 представляет парад греческого войска.

Правильный ответ - А, С

### **Задание 03**

**Расположите достопримечательности Древнего мира в хронологическом порядке их создания:**

1. 1
2. 2
3. 3
4. 4
5. 5

**А** - Пирамиды в Гизе

**В** - Львиные ворота в Микенах

**С** - Ассирийские львы (статуи)

**Д** - Статуя Колосса Родосского

**Е** - Римский Пантеон

Правильный ответ - А-1 В-2 С-3 D-4 Е-5

### **Задание 04**

**Установите соответствие между историческими деятелями Древнего мира и фактами их жизни и деятельности:**

1. Юлий Цезарь
2. Тутанхамон
3. Ксеркс
4. Цинь Шихуан
5. Александр Македонский

**А** - знаменитый римский консул, полководец, завоеватель Заальпийской Галлии

**В** - юный фараон, снискавший любовь и уважение своих поданных, для многих современных людей - символ Египта

**С** - персидский правитель, воевавший с эллинами

**Д** - китайский правитель III века до н.э., объединивший страну

**Е** - сын Филиппа, великий полководец античности

Правильный ответ - А-1 В-2 С-3 D-4 Е-5

### **Задание 05**

**Укажите имена русских иконописцев:**

**А** - Карл Брюллов

**В** - Андрей Рублев

**С** - Феофан Грек

**Д** - Дионисий

**Е** - Василий Суриков

**Ф** - Илья Репин

Правильный ответ - В, С, D

### **Задание 06**

**Установите соответствие между историческими деятелями и событиями:**

1



2




3



4



5



1. 1
2. 2
3. 3
4. 4
5. 5

А - киевский князь, которого считают основателем Москвы

**В** - княгиня, которая первой из династии Рюриковичей приняла христианство

**С** - московский князь, получивший от монголов право сбора дани с русских земель

**Д** - нижегородский староста, один из создателей Второго народного ополчения в борьбе с поляками во время Смуты

**Е** - первый российский император, получивший этот титул за победу над шведами

Правильный ответ - А-1 В-2 С-3 D-4 Е-5

### Задание 07

**Прочитайте отрывок из произведения средневекового историка Григория Турского и укажите верные суждения:**

*«После всего этого скончался Хильдерик, и вместо него стал королем его сын Хлодвиг. На пятый год правления его [486 год] Сиагрий, король римлян, сын Эгидия, пребывал в городе Суассоне, которым некогда владел вышеупомянутый Эгидий. Хлодвиг пошел на него с Рагнахарием, своим родственником, который тоже был королем и вызвал его на бой. Тот не уклонился и не побоялся сразиться. И вот, когда бились друг с другом, Сиагрий, видя поражение своего войска, спешно бежал к королю Алариху в Тулузу. Хлодвиг же послал к Алариху сказать, чтобы выдал его, в противном же случае знал бы, что пойдет войною за укрывательство. И вот, Аларих, опасаясь, как бы не подвергнуться из-за него гневу франков, — а готам свойственна трусость, — связанного выдал. И по прибытии распорядился Хлодвиг заключить его под стражу. А заповучив королевство его, приказал тайно поразить мечом».*

**А** - В документе речь идет о Хлодвиге, правителе франков.

**В** - Городом Суассоном (до завоевания его Хлодвигом) владел Эгидий, отец Сиагрия.

**С** - Сиагрий отказался сражаться с Хлодвигом.

**Д** - Хлодвиг много воевал и стремился уничтожать своих соперников.

**Е** - В тексте речь идет о событиях V века до н.э.

**Ф** - Аларих отказался повиноваться Хлодвигу, за что был убит сразу после поражения Сиагрия.

Правильный ответ - А, В, Д



## Задание 08

Перед вами – фотографии времен Великой Отечественной войны.  
Укажите номера двух фотографий, изображающие города, которые находились в тылу страны.



А - 1

В - 2

С - 3

Д - 4

Е - 5

Правильный ответ - Д, Е

## Задание 09

Рассмотрите карту и укажите все верные суждения, относящиеся к событиям, изображённым на данной карте:



**А** - На карте представлена информация о развитии Римской империи в IV - V вв.

**В** - Гунны в процессе Великого переселения народов вторгались на территорию Западной Римской империи и Восточной Римской империи.

**С** - Франки, вандалы, бургунды успешно воевали со славянскими племенами.

**Д** - В IV- V вв. восстания происходили в основном на территории Западной Римской империи.

**Е** - Римская империя разделась на Западную и Восточную в III веке.

**Ф** - Гунны дошли даже до Британии.

Правильный ответ - А, В, D

### Задание 10



Карта XVIII века, представляющая владения А.Демидова

Прочитайте тексты, ознакомьтесь со статистическими данными, рассмотрите иллюстрацию и укажите все верные суждения, относящиеся к описываемой исторической ситуации:

#### *П.П. Бажов (из писем)*

«А сделали первые Демидовы немало. Демидов сделал первое русское ружье в 5-6 раз дешевле зарубежных, сумел организовать массовое производство в десятках, а после получения Невьянского завода и в сотнях тысяч штук. В Полтавской битве победил не только новый введенный Петром строй, доблесть русского солдата, смелость полководцев, но и новое огневое оснащение русской армии, что явилось заслугой Демидовых. Заслугой Акинфия Демидова было сказочно быстрое по условиям того времени развертывание металлургической промышленности на Урале. По качеству железо вышло на первое место».

***Из статистики:***

«4 марта 1702 года указом Петра I недостроенный Невьянский завод был передан в частную собственность Н. Д. Демидова. Он проявил себя талантливым организатором и смог значительно нарастить объёмы производства, пользуясь поддержкой властей. С 1716 года Демидовы стали первыми в России экспортёрами железа в Западную Европу. Всего Демидовыми было построено 55 металлургических заводов, в том числе 40 на Урале. К 1740 году на демидовских заводах производилось около 64 % всего уральского и 46 % российского чугуна.

За 86 лет производство чугуна на демидовских заводах выросло в 19 раз. Урал, в значительной мере благодаря их трудам, превратился в основной металлургический район страны. К началу XIX в. там выплавлялось более 80% чугуна и 100% меди».

**А** - Более 80% чугуна в начале XIX веке выплавлялось на территории Донбасса.

**В** - Многие уральские города-заводы были созданы промышленниками Демидовыми.

**С** - Качество железа, производимого на заводах Демидовых, значительно уступало европейскому.

**Д** - Благодаря деятельности уральских металлургических заводов Россия смогла обеспечивать себя железом, экспортировать его в Европу.

**Е** - Благодаря деятельности промышленников Демидовых Урал стал основным металлургическим районом страны в XVIII веке.

**Ф** - П.П. Бажов негативно оценивал деятельность заводчиков Демидовых.

Правильный ответ - В, Д, Е