

5-6 класс

Вариант 1

Задание 01

Кто впервые измерил и наиболее точно вычислил размеры Земли?

A - Мартин Бехайм

B - Клавдий Птолемей

C - Эратосфен

D - Пифагор

E - Аристотель

Правильный ответ - C

Задание 02

Жители какой страны не могут видеть Полярную звезду?

A - России

B - Норвегии

C - Китая

D - Австралии

E - Мексики

Правильный ответ - D

Задание 03

Какая из перечисленных планет не относится к планетам земной группы?

A - Земля

B - Марс

C - Юпитер

D - Меркурий

E - Венера

Правильный ответ - С

Задание 04

Укажите, вследствие чего Земля сплюснута у полюсов:

А - движения по околосолнечной орбите

В - движения вокруг земной оси

С - влияния Луны

Д - влияния Солнца

Правильный ответ - В

Задание 05

В каком из высказываний содержится информация о том, что изучает география?

А - Группа учёных работает над созданием «живой» одежды, которая самостоятельно очищается от грязи, как в фантастическом фильме.

В - Учёные планируют продолжить изучение бактерий, которые участвуют в образовании кисломолочных продуктов.

С - Научная экспедиция Северного Арктического федерального университета (Архангельск) и Севгидромета нашла в Баренцевом море новое тёплое течение – маленький локальный Гольфстрим.

Д - Учёные из Эдинбургского университета предполагают, что если где-то в дальних уголках Вселенной существует разумная и развитая инопланетная цивилизация, то с ней можно установить контакт с помощью квантовой связи.

Е - Группа палеонтологов объявила, что обнаружила десять видов древних млекопитающих, ранее неизвестных науке.

Правильный ответ - С

Задание 06

Путешественник наметил следующий маршрут: пройти из Ярославля прямо на север 500 км, затем повернуть на восток и пройти 500 км, далее повернуть на юг и пройти ещё 500 км и, наконец, чтобы попасть в начальный пункт назначения пройти ещё 500 км, повернув:

А - на север

В - на запад

С - на северо-запад

Д - на юго-запад

Е - на восток

Правильный ответ - В

Задание 07

В каких словосочетаниях географические названия указаны верно?

Укажите несколько вариантов ответа:

А - Река Москва

В - Западно - Сибирское море

С - Суэцкий пролив

Д - Море Фиджи

Е - Озеро Ханка

Г - Остров Камчатка

Правильный ответ - А, Д, Е

Задание 08

Укажите географические процессы и явления:

А - извержение вулкана

В - строительство водохранилища

С - гейзер

Д - пыльная буря

Е - выветривание

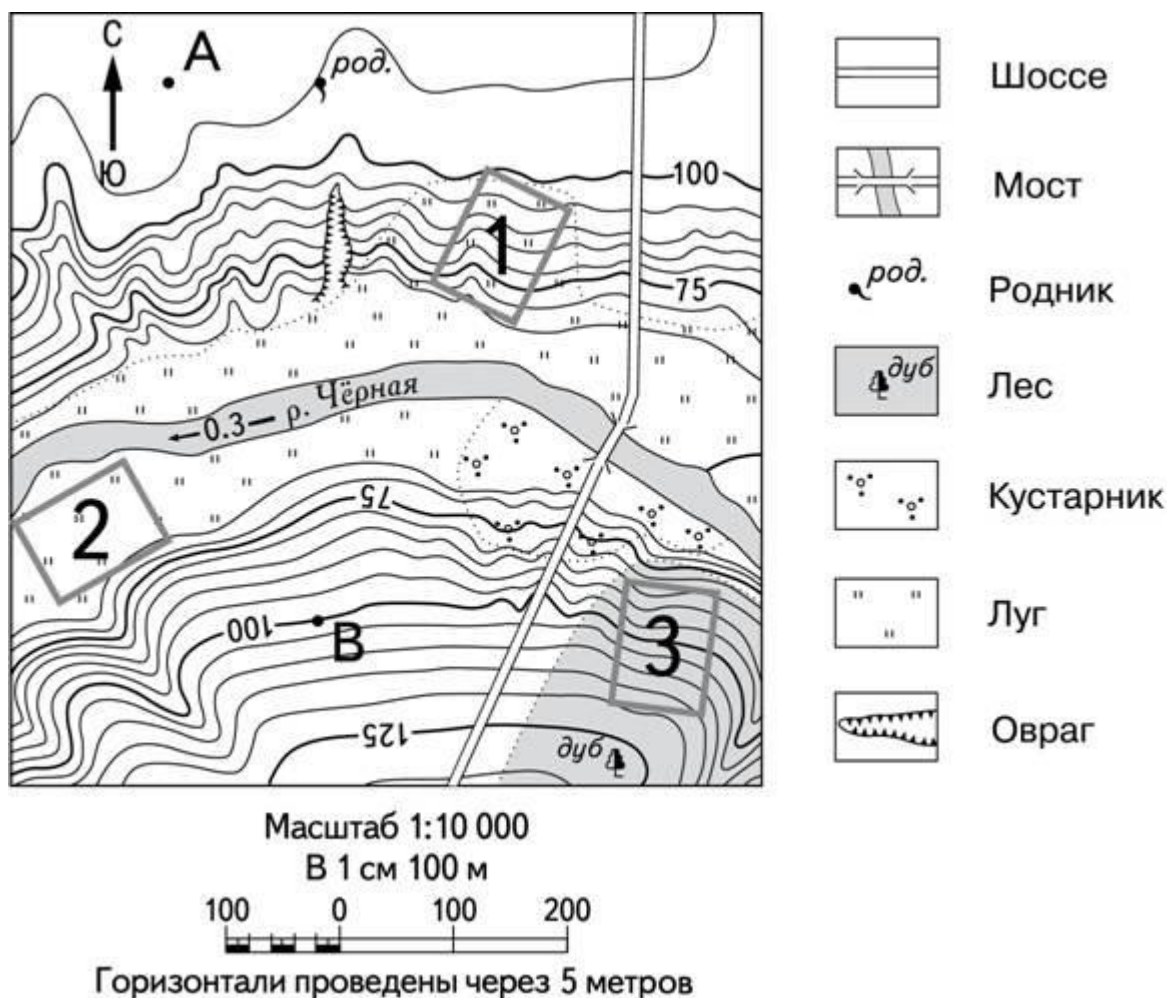
Г - заповедник

Г - гидроэлектростанция

Правильный ответ - А, Д, Е

Задание 09

Рассмотрите фрагмент топографической карты.
Выберите верные утверждения.



А - Участок 3 находится в смешанном лесу.

В - Участок 1 расположен на южном склоне.

С - Участок 2 расположен на правом берегу р.Чёрной.

Д - Участок 2 расположен на северо-западе от участка 3.

Е - Берега р.Чёрной заболочены.

Ф - По данному фрагменту карты можно определить скорость и направление течения реки.

Г - Через р.Чёрная построен железнодорожный мост.

Правильный ответ - В, D, F

Задание 10

Укажите *три* вида атмосферных осадков, выпадающих из облаков:

А - снежная крупа

В - изморозь

С - дождь

Д - град

Е - иней

Ф - роса

Правильный ответ - А, С, Д

Задание 11

Установите соответствие между географическим объектом и его местоположением (город или его окрестности):

1. 1
2. 2
3. 3
4. 4
5. 5
6. 6



А - Берёзовский

В - Верхняя Пышма

С - Каменск-Уральский

Д - Екатеринбург

Е - Заречный

Ф - Невьянск

Правильный ответ - А-1 В-2 С-3 D-4 F-6

Задание 12

Установите соответствие между названием географического объекта и его видом:

1. скалы
2. порог
3. река
4. пещера
5. озеро
6. гора

А - Семь братьев

В - Ревун

С - Ница

Д - Дружба

Е - Тальков камень

Ф - Ежовая

Правильный ответ - А-1 В-2 С-3 D-4 F-6

Задание 13

Распределите последовательность смены природных зон при движении от экватора к полюсам:

1. 1
2. 2
3. 3

4. 4
5. 5
6. 6
7. 7

A - Влажные вечнозелёные леса

B - Саванны

C - Тропические пустыни

D - Степи

E - Смешанные леса

F - Тайга

G - Тундра

Правильный ответ - A-1 B-2 C-3 D-4 F-6 G-7

Задание 14

Составьте из букв название вулкана:

У	Я	Д	И	З	Ф	А	М
---	---	---	---	---	---	---	---

Правильный ответ - Фудзияма

Задание 15

Определите по описанию, о каком географическом понятии, объекте или явлении идёт речь. Запишите название этого понятия (слова) в именительном падеже.

Изначально это слово означало границу обитаемого мира и пришло к нам из очень давних времён. У древних греков это слово означало «предел», «рубеж», «граница». А ещё раньше так называли ров, который защищал пространство, где обитали люди.

Правильный ответ – ГОРИЗОНТ/ ГОРИЗОНТЕ/ О ГОРИЗОНТЕ

Вариант 2

Задание 01

Кто считается первым европейцем, достигшим берегов Индии морским путём?

А - Марко Поло

В - Васко да Гама

С - Афанасий Никитин

Д - Фернан Магеллан

Е - Христофор Колумб

Правильный ответ - В

Задание 02

Жители какой страны не могут видеть Полярную звезду?

А - Мексики

В - Великобритании

С - Испании

Д - Новой Зеландии

Е - Японии

Правильный ответ - D

Задание 03

Какая из перечисленных планет расположена ближе к Солнцу?

А - Венера

В - Марс

С - Земля

Д - Уран

Е - Сатурн

Правильный ответ - А

Задание 04

Какое явление является следствием вращения Земли по околосолнечной орбите?

А - Земля сплюснута у полюсов

В - смена полярного дня и полярной ночи

С - смена дня и ночи

Д - неравномерное освещение земной поверхности в течение суток

Правильный ответ - В

Задание 05

В каком из высказываний содержится информация о том, что изучает география?

А - Группа китайских учёных обнаружила в ледниках Тибета 1000 древних видов микроорганизмов.

В - Группа палеонтологов объявила, что обнаружила десять видов древних млекопитающих, ранее неизвестных науке.

С - Климатологи пришли к выводу, что глобальное потепление климата является причиной участившихся экстремальных погодных явлений: частых засух, длительной жары и как следствие катастрофические пожары.

Д - Полученное в лаборатории новое вещество может использоваться в качестве компонента ракетного топлива.

Е - Учёные выяснили, как изменения климата влияют на сроки наступления наводнений в странах Европы и в европейской части России.

Правильный ответ - С

Задание 06

Ранней весной по горной дороге шла группа школьников, кое где лежал снег, но справа его уже не было.

Определите в каком направлении двигались школьники, если известно, что дорога тянулась с востока на запад.

А - на северо-восток

В - на запад

С - на юг

Д - на северо-запад

Е - на восток

Правильный ответ - В

Задание 07

В каких словосочетаниях географические названия указаны верно?

Укажите несколько вариантов ответа:

А - Ботнический залив

В - Суэцкий пролив

С - Полуостров Сомали

Д - Остров Таймыр

Е - Вулкан Эльбрус

Ф - Панамский канал

Правильный ответ - А, С, Ф

Задание 08

Укажите природные процессы и явления:

А - наводнение

В - осушение болот

С - образование оврагов

Д - распашка земель

Е - зарастание водоёма

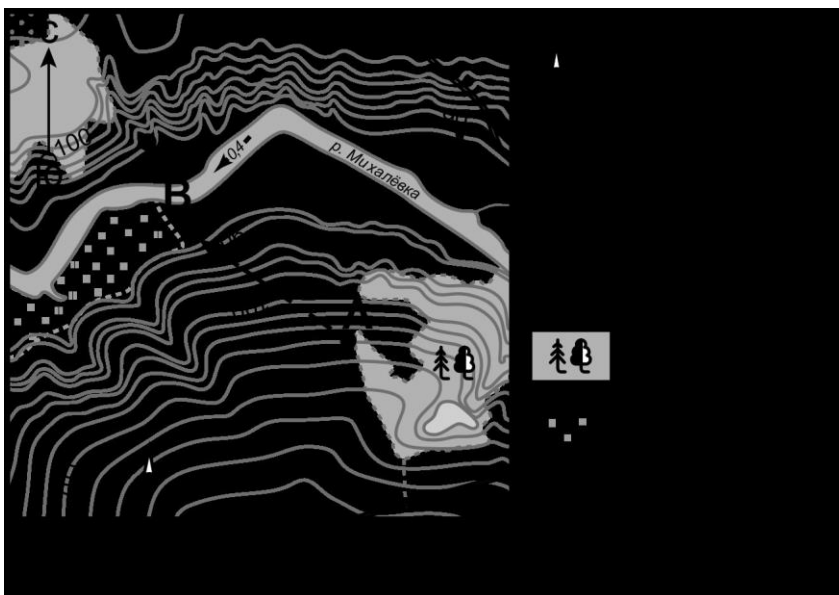
Ф - создание почвозащитных полос

Г - строительство дамб

Правильный ответ - А, С, Е

Задание 09

Рассмотрите фрагмент топографической карты. Выберите верные утверждения:



- А - Местность, изображённая на фрагменте карты, покрыта хвойным лесом.
- В - Родник расположен на правом берегу реки Михалёвка.
- С - Берега р.Михалёвки заболочены.
- Д - Горизонтالي на карте проведены через 2 метра.
- Е - По данному фрагменту карты можно определить скорость и направление течения реки Михалёвки.
- Ф - Водонапорная башня расположена к югу от родника.
- Г - Маршрут от точки А до точки Б проходит по южному склону.

Правильный ответ - В, Е, Ф

Задание 10

Укажите три вида атмосферных осадков, образующихся в верхних и средних слоях атмосферы:

- А - гололёд
- В - снежная крупа

С - изморозь

Д - дождь

Е - роса

Ф - град

Правильный ответ - В, D, F

Задание 11

Установите соответствие между природным или историко-культурным объектом и его местоположением (город или его окрестности):

1. 1
2. 2
3. 3
4. 4
5. 5
6. 6



А - Каменск-Уральский

В - Екатеринбург

С - Невьянск

D - Сысерть

Е - Верхотурье

F - Заречный

Правильный ответ - А-1 В-2 С-3 D-4 F-6

Задание 12

Установите соответствие между названием географического объекта и его видом:

1. пещера
2. озеро
3. скалы-останцы
4. река
5. болото
6. родник

А - Дружба

В - Балтым

С - Чёртово городище

D - Исеть

Е - Носкинбаш

F - Святая Платонида

Правильный ответ - А-1 В-2 С-3 D-4 F-6

Задание 13

Распределите последовательность смены природных зон при движении от экватора к полюсам:

1. 1
2. 2
3. 3
4. 4
5. 5
6. 6
7. 7

А - Саванны

В - Тропические пустыни

С - Степи

Д - Широколиственные леса

Е - Хвойные леса

Ф - Тундра

Г - Арктические пустыни

Правильный ответ - А-1 В-2 С-3 Д-4 Ф-6 Г-7

Задание 14

Составьте из букв название вулкана:

С	О	А	Б	Р	А	И
---	---	---	---	---	---	---

Правильный ответ - ОРИСАБА

Задание 15

Определите по описанию, о каком географическом понятии идёт речь. Запишите название этого понятия (слова) в именительном падеже.

В своём годичном движении по небу солнце совершает дважды в году кажущийся «поворот», поэтому в переводе с греческого языка это слово означает «поворотный круг».

Правильный ответ – ТРОПИК/ ТРОПИКИ/ ТРОПИКАХ/ О ТРОПИКАХ/ О ТРОПИКЕ

Вариант 3

Задание 01

«Риск, связанный с плаванием в этих необследованных и покрытых льдами морях, настолько велик, что ни один человек никогда не решится проникнуть на юг дальше, чем это удалось мне. Земли, что могут находиться на юге, никогда не будут исследованы».

Знаменитый моряк ошибался? Кому из мореплавателей удалось открыть эти Земли?

- А - Джеймс Кук
- В - Френсис Дрейк
- С - Фаддей Беллинсгаузен
- Д - Руаль Амундсен
- Е - Роберт Скотт

Правильный ответ - С

Задание 02

Жители какой страны не могут видеть созвездия Большой и Малой Медведицы?

- А - Исландии
- В - Финляндии
- С - Индии
- Д - Мексики
- Е - Аргентины

Правильный ответ - Е

Задание 03

Какая из перечисленных планет относится к планетам гигантам?

- А - Меркурий
- В - Марс

С - Земля

Д - Уран

Е - Венера

Правильный ответ - Д

Задание 04

Какое явление НЕ является следствием вращения Земли вокруг своей оси?

А - приливы и отливы в Мировом океане

В - смена дня и ночи

С - листопад у растений

Д - Земля не имеет форму идеального шара

Правильный ответ - С

Задание 05

В каком из высказываний содержится информация о том, что изучает география?

А - Падение Челябинского метеорита доказало, что даже очень маленькие космические объекты могут нести большую опасность. Это событие стало причиной того, что учёные начали тщательно следить за движением потенциально опасных астероидов.

В - Группа учёных описала ранее неизвестный вид плотоядного растения, обнаруженный на острове Борнео в индонезийской провинции Северный Калимантан.

С - В результате российско-американской экспедиции в Арктику стало известно, что в Северный Ледовитый океан сейчас проникает больше воды из Атлантики, чем раньше, из-за этого вода на 2° стала теплее и солонее. Понятно, что это скажется и на погоде, и на полярных льдах, но это ещё предстоит изучить.

Д - Учёные из Эдинбургского университета предполагают, что если где-то в дальних уголках Вселенной существует разумная и развитая инопланетная цивилизация, то с ней можно установить контакт с помощью квантовой связи.

Е - Группа палеонтологов объявила, что обнаружила десять видов древних млекопитающих, ранее неизвестных науке.

Правильный ответ - С

Задание 06

Группа экологов изучает места гнездования птиц. Их маршрут включает несколько точек наблюдения. Первая точка расположена в 2 км к востоку от лагеря, вторая - 500 метров на север, до третьей точки надо пройти ещё 2 км на запад.

В каком направлении экологи будут возвращаться с маршрута?

А - на юг

В - на юго-восток

С - на север

Д - на юго-запад

Правильный ответ - А

Задание 07

В каких словосочетаниях географические названия указаны НЕВЕРНО?

Укажите несколько вариантов ответа:

А - Река Оранжевая

В - Южно-Корейское море

С - Балтийский залив

Д - Полуостров Индостан

Е - Вулкан Гекла

Ф - Остров Камчатка

Правильный ответ - В, С, Ф

Задание 08

Укажите природные географические процессы и явления:

А - почвообразование

В - строительство водохранилища

С - движение литосферных плит

D - листопад

E - выветривание

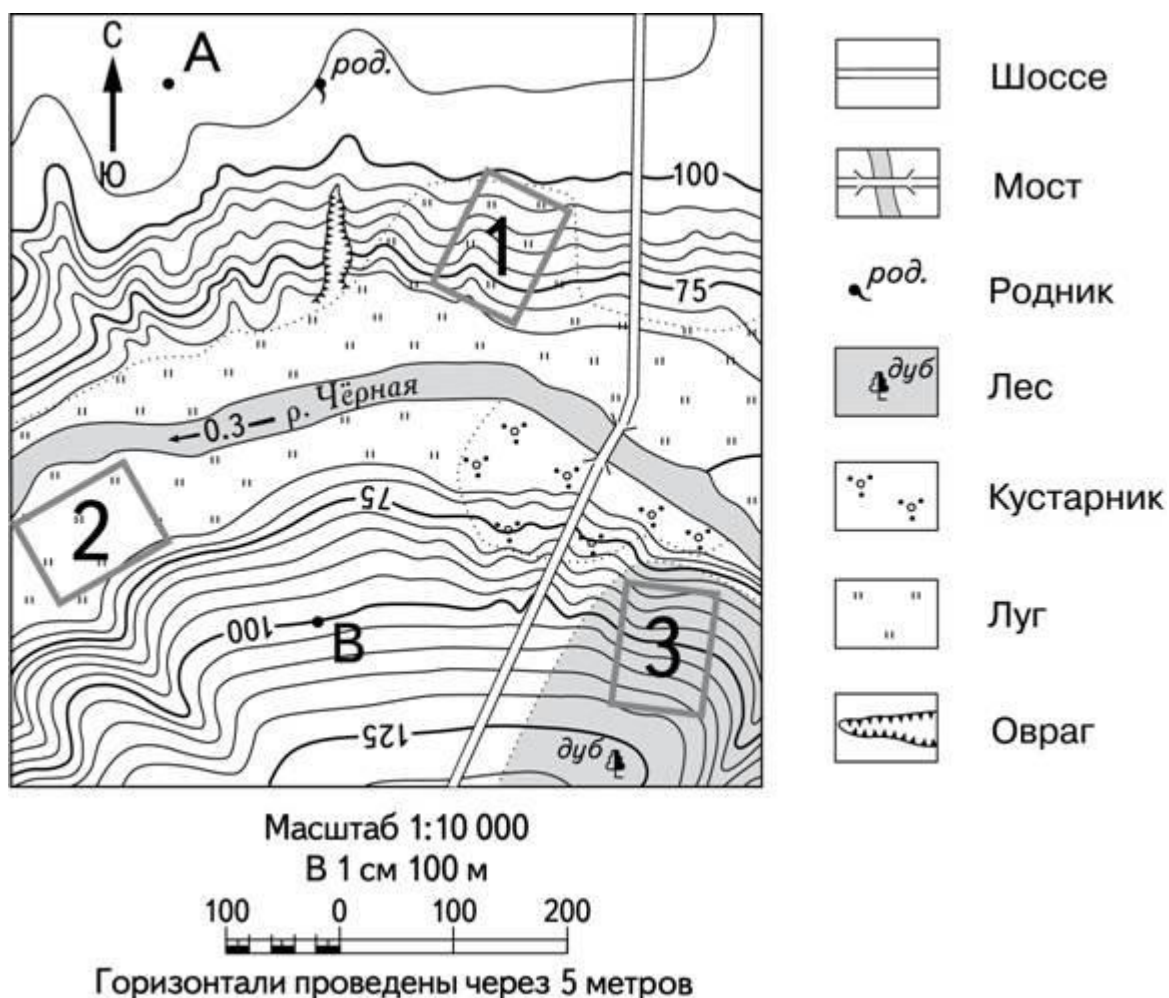
F - строительство плотины

G - осушение болот

Правильный ответ - А, С, Е

Задание 09

Рассмотрите фрагмент топографической карты.
Выберите верные утверждения.



A - Родник находится на высоте 110 метров.

B - Участок 1 расположен на южном склоне.

C - Участок 2 расположен на левом берегу р.Чёрной.

D - Участок 3 расположен на юге от участка 1.

Е - Берега р.Чёрной заболочены.

Г - По данному фрагменту карты можно определить скорость и направление течения реки.

В - Участок 3 расположен в смешанном лесу.

Правильный ответ - В, С, Г

Задание 10

Укажите три вида атмосферных осадков, образующихся у поверхности земли:

А - снежная крупа

В - изморозь

С - дождь

Д - град

Е - иней

Г - роса

Правильный ответ - В, Е, Г

Задание 11

Установите соответствие между географическим объектом и его местоположением (город или его окрестности):

1. 1
2. 2
3. 3
4. 4
5. 5
6. 6



А - Кировград

В - Нижний Тагил

С - Екатеринбург

Д - Первоуральск

Е - Каменск-Уральский

F - Берёзовский

Правильный ответ - А-1 В-2 С-3 D-4 F-6

Задание 12

Установите соответствие между названием географического объекта и его видом:

1. озеро
2. река
3. скалы-останцы
4. пещера
5. гора
6. болото

А - Таватуй

В - Чусовая

С - Каменные палатки

D - Аракаевская

E - Шунут

F - Гнилое

Правильный ответ - A-1 B-2 C-3 D-4 F-6

Задание 13

Распределите последовательность смены природных зон при движении от полюсов к экватору:

1. 1
2. 2
3. 3
4. 4
5. 5
6. 6
7. 7

A - Тундра

B - Тайга

C - Смешанные леса

D - Степи

E - Тропические пустыни

F - Саванны

G - Влажные вечнозелёные леса

Правильный ответ - A-1 B-2 C-3 D-4 F-6 G-7

Задание 14

Составьте из букв название вулкана:

А	К	Т	А	К	У	А	Р
---	---	---	---	---	---	---	---

Правильный ответ - КРАКАТАУ

Задание 15

*После путешествия по Китаю Марко Поло рассказал европейцам много удивительного, о чём ещё не было известно в Европе, в частности о «чёрных камнях», благодаря которым жители этой страны обогревают свои дома. **О каких «чёрных камнях» поведал европейцам Марко Поло?** Запишите название этого слова в именительном падеже.*

Правильный ответ – УГОЛЬ/ ОБ УГЛЕ

Вариант 4

Задание 01

Началом эпохи Великих географических открытий считают плавание...

А - Эйрика Рыжего

В - Васко да Гамы

С - Афанасия Никитина

Д - Фернана Магеллана

Е - Христофора Колумба

Правильный ответ - Е

Задание 02

Жители какой страны не могут видеть Полярную звезду?

А - Исландии

В - Индии

С - Новой Зеландии

Д - Китая

Е - Канады

Правильный ответ - С

Задание 03

Какая из перечисленных планет расположена дальше от Солнца?

А - Земля

В - Марс

С - Юпитер

Д - Меркурий

Е - Венера

Правильный ответ - С

Задание 04

Какое явление НЕ является следствием вращения Земли вокруг своей оси?

- А - Земля сплюснута у полюсов
- В - смена полярного дня и полярной ночи
- С - смена дня и ночи
- Д - неравномерный нагрев земной поверхности

Правильный ответ - В

Задание 05

В каком из высказываний содержится информация о том, что изучает география?

- А - Учёные планируют продолжить изучение бактерий, которые участвуют в образовании кисломолочных продуктов.
- В - Учёные обнаружили новую звезду в нашей Галактике с помощью радиотелескопа.
- С - Группа палеонтологов объявила, что обнаружила десять видов древних млекопитающих, ранее неизвестных науке.
- Д - Полученное в лаборатории новое вещество может использоваться в качестве компонента ракетного топлива.
- Е - Учёные выяснили, как изменения климата влияют на сроки наступления наводнений в странах Европы и в европейской части России.

Правильный ответ - Е

Задание 06

Группа туристов рано утром вышла из лагеря, их путь лежал к живописному озеру. Сначала туристы двигались на юг и через 700 метров повернули направо, пройдя ещё 200 метров на северо-запад, лесная тропа привела их к озеру.

В каком направлении вечером туристы возвращались в лагерь?

- А - на север
- В - на запад

С - на северо-запад

Д - на северо-восток

Е - на восток

Правильный ответ - Д

Задание 07

В каких словосочетаниях географические названия указаны верно?

Укажите несколько вариантов ответа:

А - Гибралтарский залив

В - Море Лаптевых

С - Полуостров Суматра

Д - Озеро Яна

Е - Остров Врангеля

Ф - Гора Белуха

Правильный ответ - В, Е, Ф

Задание 08

Укажите антропогенные процессы и явления:

А - извержение вулкана

В - строительство плотины

С - наводнение

Д - снежная лавина

Е - распашка земель

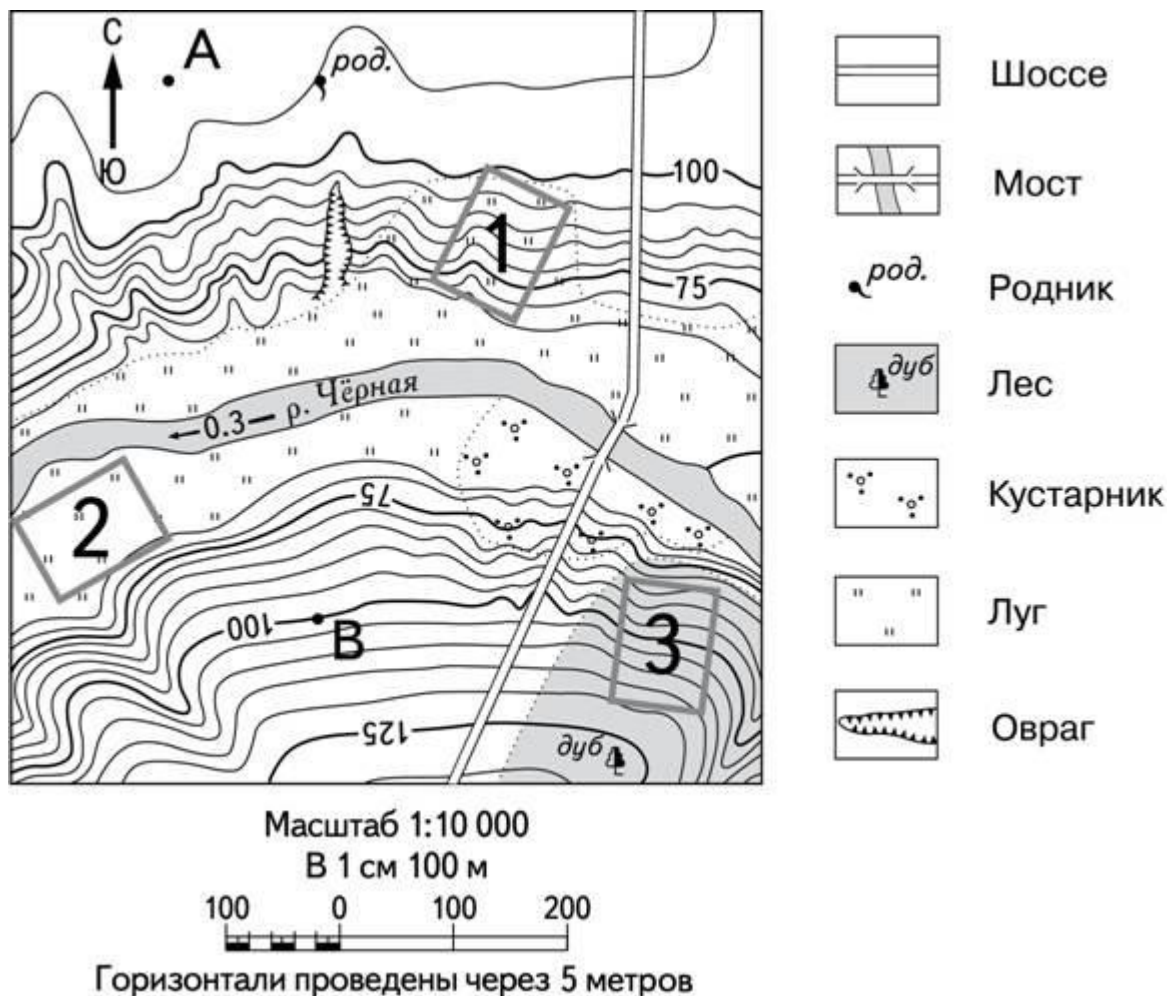
Ф - создание почвозащитных полос

Г - тайфун

Правильный ответ - В, Е, Ф

Задание 09

Рассмотрите фрагмент топографической карты. Выберите верные утверждения:



А - Участок 3 покрыт дубовым лесом.

В - Участок 1 расположен на северном склоне.

С - Участок 2 расположен на левом берегу р.Чёрной.

Д - Участок 2 расположен восточнее участка 3.

Е - По данному фрагменту карты можно определить скорость и направление течения реки.

Ф - Берега р.Чёрной заболочены.

Г - Через р.Чёрная построен железнодорожный мост.

Правильный ответ - А, С, Е

Задание 10

Укажите три вида атмосферных осадков, образующихся в верхних и средних слоях атмосферы:

А - иней

В - снежная крупа

С - изморозь

Д - снег

Е - град

F - роса

Правильный ответ - В, D, E

Задание 11

Установите соответствие между природным или историко-культурным объектом и его местоположением (город или его окрестности):

1. 1
2. 2
3. 3
4. 4
5. 5
6. 6



А - Нижние Серги

В - Висим

С - Екатеринбург

Д - Каменск-Уральский

Е - Сысерть

Ф - Невьянск

Правильный ответ - А-1 В-2 С-3 D-4 F-6

Задание 12

Установите соответствие между названием географического объекта и его видом:

1. пещера
2. озеро
3. скалы-останцы
4. река
5. болото
6. родник

А - Смоленская

В - Балтым

С - Чёртово городище

Д - Пышма

Е - Носкинбаш

Ф - Святая Платонида

Правильный ответ - А-1 В-2 С-3 D-4 F-6

Задание 13

Распределите последовательность смены природных зон при движении от экватора к полюсам:

1. 1
2. 2
3. 3
4. 4
5. 5
6. 6
7. 7

А - Влажные вечнозелёные леса

В - Саванны

С - Тропические пустыни

Д - Степи

Е - Хвойные леса

Ф - Тундра

Г - Арктические пустыни

Правильный ответ - А-1 В-2 С-3 D-4 F-6 G-7

Задание 14

Составьте из букв название вулкана:

И	Л	Е	В	У	Ш	Ч
---	---	---	---	---	---	---

Правильный ответ - ШИВЕЛУЧ

Задание 15

Определите по описанию, о каком географическом объекте или явлении идёт речь. Запишите название этого понятия (слова) в именительном падеже:

Это слово было заимствовано у коренных жителей острова, расположенного за Северным полярным кругом, и означало с их языка «стремительно литься».

Правильный ответ – ГЕЙЗЕР/ О ГЕЙЗЕРЕ/ О ГЕЙЗЕРАХ