













ВТОРОЙ ТУР 9 класс
Максимальная оценка – 100 баллов
Время на подготовку – 3 часа.

1. [12 баллов]. Перед вами портреты 12 государственных деятелей Российской империи XVIII – начала XX в. и иллюстрации, отображающие направления или результаты их деятельности. Соотнесите портреты с иллюстрациями и заполните таблицу.

Портреты

 <p align="center">1.</p>	 <p align="center">2.</p>	 <p align="center">3.</p>
 <p align="center">4.</p>	 <p align="center">5.</p>	 <p align="center">6.</p>
 <p align="center">7.</p>	 <p align="center">8.</p>	 <p align="center">9.</p>
 <p align="center">10.</p>	 <p align="center">11.</p>	 <p align="center">12.</p>

Иллюстрации



А.



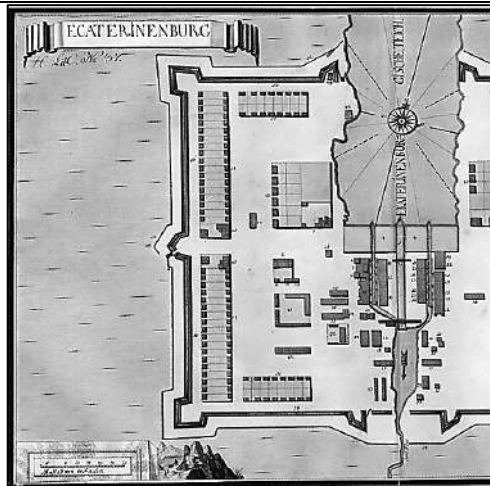
Б.



В.



Г.



Д.



Е.



Ж.



З.



И.



ВЗЯТІЕ ШТУРМОМЪ ТУРЕЦКОЙ КРѢПОСТИ НАРСА.

К.



Л.



2. [9 баллов]. Прочтите фрагменты из поэмы Н.Н. Кашина «Русская быль» и выполните следующие задания:

- 1) Укажите войну, о событиях которой идет речь во всех фрагментах.
- 2) Заполните таблицу. Для этого определите события, о которых идет речь в каждом из фрагментов. Расположите фрагменты в хронологической последовательности.

Соотнесите портреты деятелей с фрагментами, в которых они упомянуты, либо в которых речь идет о событиях, к которым они имели непосредственное отношение. Обратите внимание, что один и тот же деятель может фигурировать в нескольких фрагментах. В таком случае цифра, обозначающая портрет, проставляется в таблице несколько раз.

<p>Гибнет корабль, но не русская гордость, Славой покрылся матрос-человек, Храбрость проявлена, выдержка, твердость, Руднев с командой герои навек!¹ А.²</p>	<p>С Желтого моря крадется армада, Не объявляя России войны. Взрыв! «Ретвизан», «Цесаревич», «Паллада» Минами вражьи повреждены. Б.³</p>
<p>Именем славным вся крепость держалась, Были защитники бравы на вид, Сердце от боли у воинов сжалось, Крик на фортах: «Кондратенко убит!»⁴ В.</p>	<p>Флагмана судно подорвано миной, Шел «Петропавловск» в минуту на дно, С ним исчезал Верещагин с картиной, С ним и Макарову лечь суждено! Г.</p>
<p>Капитуляцией снята осада, Выкинут Стесселем белый был флаг, Но у солдат обострилась досада, Трудно разжать затекавший кулак!⁵ Д.</p>	<p>Мир, пусть худой, лучше розницы, ссоры, Ибо вернее к добру приведет. Штат Нью-Хемпшир подготавливал сборы... Е.</p>

¹ Необходимо указать в таблице не только само событие, но и место, где оно произошло.

² Необходимо указать в таблице не только само событие, но и место, где оно произошло.







³ К данному фрагменту нет портрета.

⁴ Необходимо указать в таблице не только само событие, но и место, где оно произошло.

⁵ Необходимо указать в таблице не только само событие, но и место, где оно произошло.

Смотр кораблям произвел в Порт-Артуре Мудрый Макаров, отец-адмирал, Честной, талантливой, крепкой натуре Душу матрос с офицером вверял. Ж.	Штаб разослал по начальству приказы, Зная казна не жалела рубли, Бросить резервы из северной базы, В дальний поход снарядить корабли. З.
--	--

Портреты:

		
1.	2.	3.
		
4.	5.	6.

10. [12 баллов]. Перед Вами – серия карт из работы К.А. Аверьянова и С.А. Ромашова «Смутное время: Российское государство в начале XVII в. Исторический атлас» (ряд надписей и условных знаков затерты, карты представлены в виде фрагментов), а также список изображенных на этих картах событий и их датировки.

Соотнесите карты с изображенными на них событиями и датами. Ответ оформите в виде таблицы.

3. [14 баллов]. Перед Вами фотографии, сделанные в течение одного года в нескольких местах, где проходили тогда ключевые события Великой Отечественной войны, и фрагменты из писем и воспоминаний об этих событиях. Ознакомившись с этими материалами выполните следующие задания:

1. Назовите год, к которому относятся все фотографии и события.
2. Назовите ключевые события (сражения) Великой Отечественной войны, отдельные эпизоды которых нашли отражение во фрагментах и изображены на фотографиях.
3. Соотнесите фрагменты текстов с определенными Вами событиями.
4. Соотнесите фотографии с определенными Вами событиями, имея в виду, что каждому из событий соответствует 3 фотографии. Ответ оформите в виде таблицы.



1.



2.



3.



4.



5.



6.

7.



8.



9.



10.



11.



12.

А. «Примерно до 15 июня наша оборона еще стойко держалась. А потом... Артиллерия замолчала, снаряды кончились. А немецкие пушки бьют и бьют. Танков у нас нет, а у немцев уже было достаточно много танков... Я видел воронки от немецких снарядов до 15 метров глубиной... Когда 17 июня немцы захватили 30-ю батарею, стало ясно, что это конец... Вечером 19 июня мы получили приказ покинуть Северную сторону и перейти в Южную бухту, где формировалась сводная пехотная бригада из тыловых частей флота. Там были укрепления еще времен Крымской войны».

Б. «Сегодня мы взяли Можайск. Эх, и наколотил я своей батареей этих паразитов. А как, мама, нас встречает население! В Можайске мне пришлось целоваться с женщинами. Ты не

представляешь, как они рады нам. Они готовы нас всех расцеловать... Идем все дальше и дальше на запад».

В. «Передовая приближалась с каждым днем... Когда наша рота вытянулась на дорогу, передали: «Командира третьего саперного взвода к командиру бригады!» С трудом разыскал полковника и доложил. Тот с минуту молча старался разглядеть мое лицо, потом спросил: «Лейтенант?» «Нет,» – отозвался я. «Ну не важно. Газовый завод в Малгобеке знаешь?» «Знаю». «Этот завод заминирован. Забирай взвод и займи завод. Завтра в Малгобек войдут немцы. Пропустишь их в город и взорвешь завод. Обрато будешь пробираться, смотря по обстоятельствам. Ясно?» «Ясно», – отозвался я. «Вернешься, будешь лейтенантом. Иди».

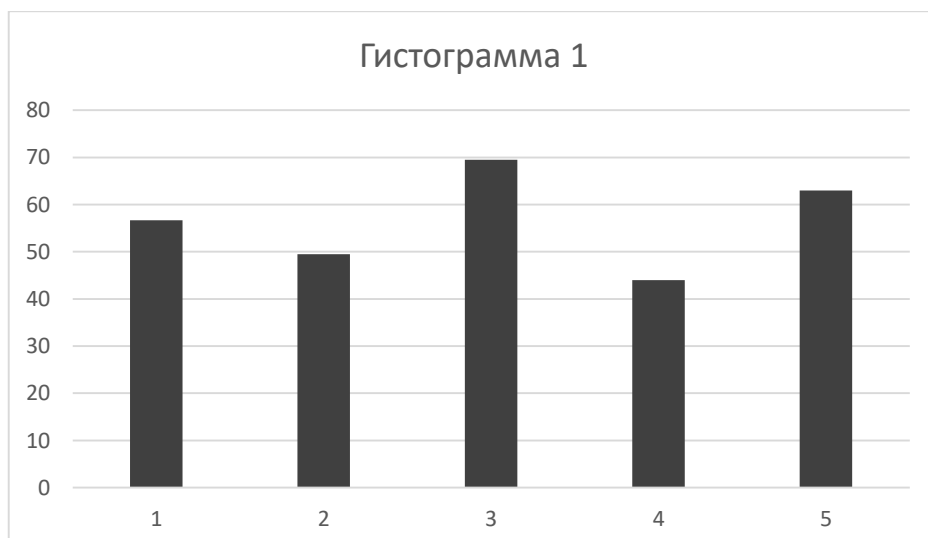
Г. «Стояли дни тяжёлой с большими потерями обороны, которая требовала огромных материальных ресурсов, человеческих жертв, стойкости и мужества защитников. Только с середины сентября по октябрь на угрожающе сужающемся с 40 до 15-10 км участок обороны города переправили 8 стрелковых дивизий и одну стрелковую бригаду - целую большую армию, да считай, не одну, если учитывать отведение штабов на левый берег на переформирование и - снова отправку на правый берег уже с новыми бойцами – и нескончаемые маршевые роты на покрытие потерь. А они шли умирать...»

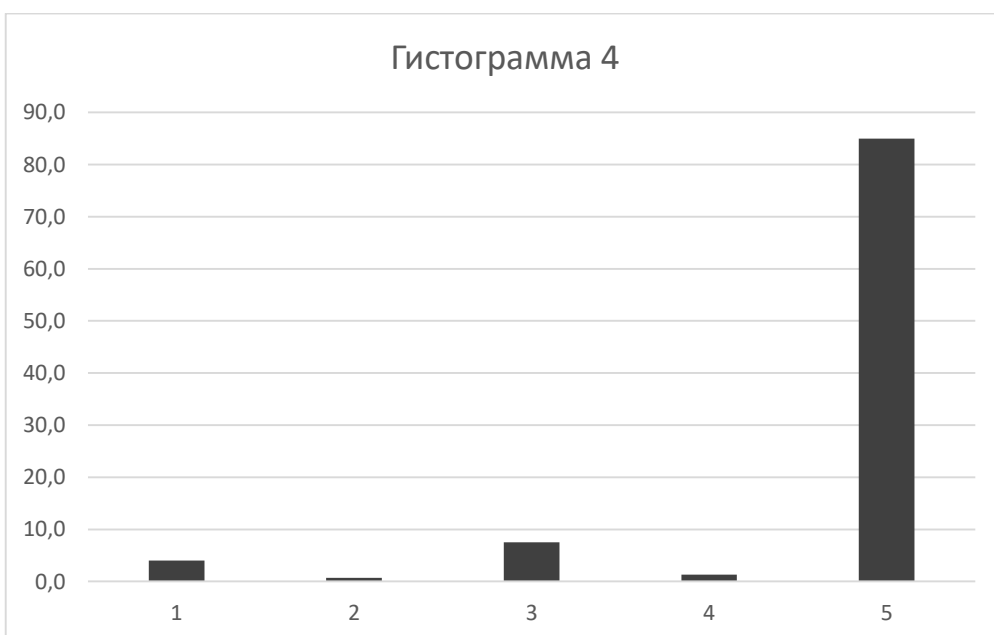
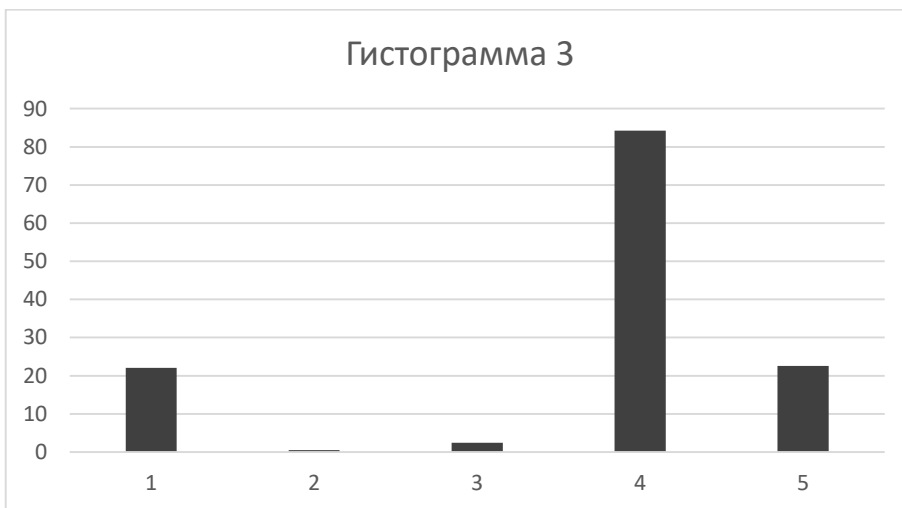
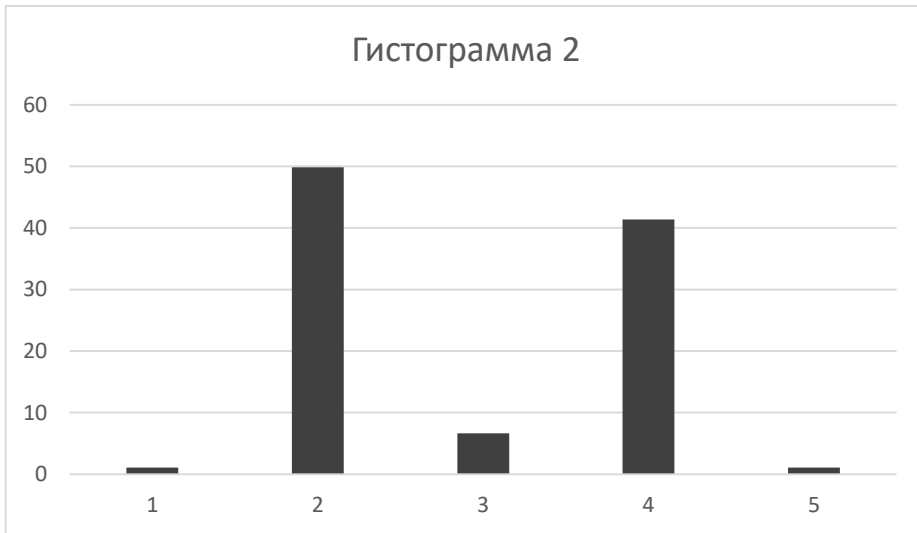
Д. «В начале августа у меня состоялся разговор с председателем Ставки генерал-полковником А.М. Василевским. Я предложил ему новый план, предусматривавший создание главного оборонительного рубежа на реке Терек с сильными тет-де-понами в районе Кизляр, Моздок...»

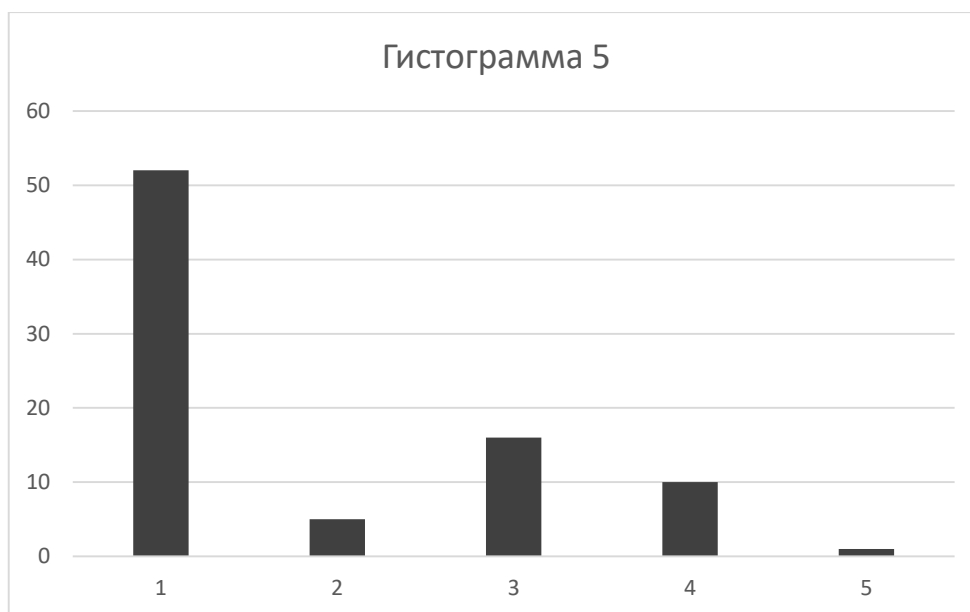
Е. «После обильных снегопадов глубина снежного покрова еще более увеличилась, а мороз держался прямо-таки сибирский. Но именно такая погода давала нам, сибирякам, некоторые преимущества. Бригаду хорошо экипировали, обеспечили лыжами. Что еще нужно для ведения боевых действий в заснеженных лесах, в полном почти бездорожье? А между тем наступательные действия продолжались...»

Ж. «Я как раз вернулся домой после смены на Тракторном заводе и буквально провалился в сон. Меня разбудил сосед. Мы вышли на балкон — все небо было в свастике, город пылал, шумели разрывающиеся снаряды. От цеха, который я покинул лишь пару часов назад, остались одни столбы».

4. [10 баллов]. Перед Вами пять гистограмм, отражающих результаты переписи населения России 1897 года по пяти значимым параметрам. Каждый параметр представлен пятью элементами (столбцами гистограммы). Параметры и относящиеся к ним элементы даны на бланке ответа. Изучите их, определите, к какому параметру относится каждая гистограмма, под каким номером в этой гистограмме показан один требуемый элемент и заполните соответствующие столбцы таблицы на бланке ответа.







5. [10 баллов]. Внимательно изучите 10 представленных фрагментов исторических трудов, характеризующие понимание процесса возникновения и развития государства «Русь» отечественными и зарубежными авторами XII – XXI вв., и заполните таблицу.

1. «И в то время некий воевода новгородский именем Гостомысл скончивает свое житье и созывает владельца Новгорода и рече им: «О мужие новгородстии, совет даю вам аз, яко да пошлете в Прусскую землю мужа мудры и призовите от тамо сущих родов к себе владельца». Они же шедше в Прусскую землю и обретоша тамо некоего князя именем Рюрика, от рода римскаго Августа царя. И молиша князя Рюрика посланницы от всех новгородцов, дабы шел к ним княжити».

2. «Братья, именем Рюрик, Синеус и Трувор, знаменитые или родом или делами, согласились принять власть над людьми, которые, умев сражаться за вольность, не умели ею пользоваться. Окруженные многочисленною Скандинавскою дружиною, готовую утвердить мечем права избранных Государей, сии честолюбивые братья навсегда оставили отечество. Рюрик прибыл в Новгород, Синеус на Белоозеро в область Финского народа Веси, а Трувор в Изборск, город Кривичей... Сия часть нынешней С. Петербургской, Эстляндской, Новгородской и Псковской Губерний была названа тогда *Русью*, но имени Князей Варяго-Русских.»

3. «Варяги-россы в древние времена именовались роксоланами или россоланами, для того что россы соединены были с аланами. Преселились из Азии северною стороною с сарматами и от старинных писателей с ними однородцами почитаются. Поселясь с другими славенскими народами около южных берегов Балтийского моря и круг реки Русы, где ныне старая Пруссия, Курландия и Белая Россия, от прочих варягов особливим именем, россами называясь, отличались. Их военная храбрость была причиною, что славяне новгородские и чудь выбрали себе государем Рурика, который пришел с родом своим и с варягами-россами на владение и на поселение. Оставшиеся на старом жилище россы назывались пороссы, якобы остатки от россов (поруссы, пруссы), которыми после завладели поляки, потом иерусалимские кавалеры, наконец, бранденбургцы. Сия древняя отчина первоначальных российских государей ныне подтверждена Российской державе благословенным оружием великия Елисаветы».

4. «Я знаю, вы очень недовольны, что все эти ученые усилия разъяснить варяжский вопрос я назвал явлениями патологии. Вы видите в этом неприличное ученому человеку пренебрежение к почтенным трудам своей братии. Я, собственно, равнодушен к обеим теориям, и норманской, и славянской, и это равнодушие выходит из научного интереса. В тумане ранних известий о

наших предках я вижу несколько основных фактов, составляющих начало нашей истории, и больше их ничего не вижу. Эти факты, которые приводят меня к колыбели нашего народа, остаются те же, с тем же значением и цветом, признаю ли я теорию норманистов или роксоланистов. Поэтому, когда норманист или роксоланист начнут уверять, что только та или другая теория освещает верным светом начало русской национальности, я перестаю понимать того и другого, то есть становлюсь совершенно равнодушен к обоим».

5. «Мы хотя собственных до Рюрика историй не имеем, однако нам греческие, римские и северные древние писатели довольно тот недостаток награждают, имянуя предков наших скифы, и сказуют, что имели самовластных государей. От Рюрика по нашим собственным историям видим до Мстислава Великого было совершенное единовластительство, и не более как чрез 250 лет государство наше всюду распространилось, ибо по Дунай, Буг, Вислу, Немон и пр. границы свои распростирало, науками народ довольно просвящен был, торгами в Грецию, на север и до Каспийского моря довольно богатилось».

6. «Все тяготение вставок в «Повести временных лет» к северу, все проваряжские элементы в них и постоянное стремление поставить Новгород на первое место, отеснить Киев — все это становится вполне объяснимым, когда мы знакомимся с личностью князя Мстислава Владимировича. Сын англичанки Гиты Гаральдовны (дочери английского короля), женатый первым браком на шведской, варяжской, принцессе Христине (дочери короля Инга Стенкильсона), а вторым браком на новгородской боярышне, дочери посадника Дмитрия Завидовича, Мстислав всеми корнями был связан с Новгородом и Севером Европы. «Воскормленный» новгородцами Мстислав имел прямое отношение к летописному делу. Новгородская летопись была использована прежде всего потому, что там имелась неизвестная киевлянам легенда о добровольном призвании князей, созвучная призванию Мономаха в Киев в 1113 г. и избранию Мстислава новгородцами в 1102 г. Но, как мы выяснили, великий князь имел право обижаться на киевское боярство, отвергшее его в 1093 г. и два десятка лет не допускавшее к «отню злату столу». С этим связана вторая тенденция редакции 1118 г. — отеснить Киев в начальной фазе истории русской государственности на второе место, заменив его Новгородом, и выпятить роль призванных из-за моря варягов. Приглядимся к тому, как под пером людей, подчиненных зятю шведского короля, рождалось отождествление шведов-варягов с русью».

7. «В лето 6370. И изгнаша варягы за море, и не даша им дани, и почаша сами в себе володети. И не бе в них правды, и вьста род на род, и быша усобице в них, и воевати сами на ся почаша. И ркоша: «Поищем сами в себе князя, иже бы володел нами и рядил по ряду, по праву.» Идоша за море к варягом, к руси... Ркоша руси чюдь, словене, кривичи и вся: «Земля наша велика и обилна, а наряда въ ней нет. Да поидете княжить и володеть нами». И избрашася три брата с роды своими, и пояша по себе всю русь, и придоша к словеномъ первее. И срубиша город Ладогу. И седе старейший в Ладозе Рюрик, а другой, Синеус на Беле озере, а третей Трувор в Изборьске. И от тех варяг прозвася Руская земля».

8. «Вот таким образом, почти побочным продуктом заморской торговли между двумя чужими народами, варягами и греками, и родилось первое государство восточных славян. Державная власть над городами-крепостями и окрестными землями была взята династией, утверждающей свое происхождение от полуполюгендарного варяжского князя Нгоерект'а, или Roderick'a (Рюрика русских летописей). Понятие «Киевское государство» может привести на ум территориальную общность, известную из норманнской истории Франции, Англии, однако следует подчеркнуть, что ничем подобным оно не было. Варяжское государство в России напоминало скорее великие европейские торговые предприятия XVII-XVIII в., такие как Ост-Индская компания или Компания Гудзонова залива, созданные для получения прибыли, но вынужденные из-за отсутствия какой-либо администрации в районах своей деятельности сделаться как бы суррогатом государственной власти. Лишь в XI в., когда Киевское государство уже выказывало

признаки упадка, в более крупных городах появились вечевые собрания, на которые сходились все взрослые мужчины. Вече давало князю советы по важным политическим вопросам»

9. «Егда же в велицем междуособии и многом нестроении Российский народы быша, не согласующеся в избрании от среды себе Властелина, советоваше он же нарочит и разумен муж, в великом Новгороде живущ Гостомысл, да пошлют к Варягом, и триех братий, иже бяху Князи изящнейшии, и в храбрости воинской изрядни, на Княжение Росское умолят. Понеже Варяги над морем Балтийским, еже от многих нарицаются Варяжское, селения своя имуще, языка Славенска бяху, и зело мужественны и храбры. И яко по совету Гостомыслову сбьтся. Приидоша на прошение Россов Князие Варязстии от Немец три родные братия, Рурик, Сенаус, или Синеус, и Трувор или Тривор, в землю Русскую, лета от сотворения света 6370, а от Рождества Христова осм сот шестьдесят втораго».

10. «На протяжении длительного времени рассказ о призвании варяжского князя признавался в российской историографии антипатриотическим мифом. Между тем истинность самого факта вокняжения на Северо-Западе варяжского князя подтвердилась раскопками... на Городище (в 3 км к югу Новгорода), где вплоть до конца XV в. находилась резиденция новгородских князей. Ее формирование началось именно в середине IX в., так как сумма находок этого времени наглядно демонстрирует и элитарность комплекса, и наличие в нем преобладающего норманнского элемента».

6. [7 баллов]. Перед Вами карта, списки сражений и списки князей. Некоторым из указанных князей довелось участвовать в сражениях с войсками одного из своих родственников, который в итоге стал Великим князем Киевским. Ознакомьтесь со списками и, используя карту, выполните следующие задания:

- 1) назовите имя и прозвище князя, который вышел победителем в борьбе за власть с князьями из списка;
- 2) назовите событие, после которого вышеназванный князь, по словам летописца, стал «самовластцем в Русской земле»;
- 3) определите его соперников (в списке есть лишние и повторяющиеся имена) и заполните таблицу. Допускается заполнение в произвольном порядке, без соблюдения хронологической последовательности сражений.

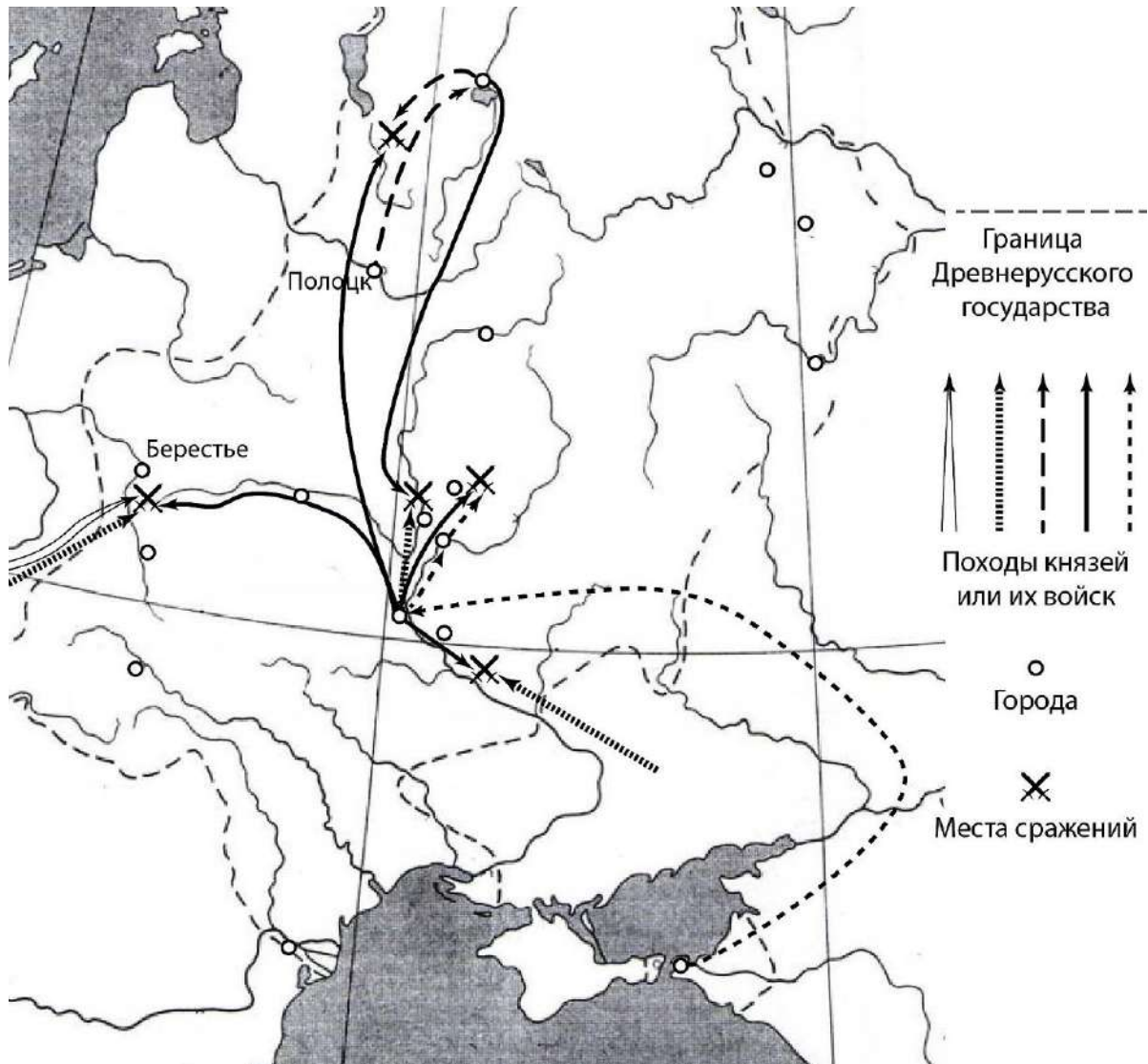
Места сражений (даны в произвольном порядке, выбрать 5, связанных с участием вышеназванного князя, занести в таблицу в любой последовательности):

река Западный Буг,
 река Альта,
 река Судома,
 река Каяла,
 река Днестр,
 река Сить,
 город Искоростень,
 город Любеч,
 город Листвен.

Князья (выбрать только тех, кто участвовал в определенных Вами сражениях с названным Вами князем):

Всеслав Брючиславич,
 Святополк Окаянный,
 Брючислав Изяславич,
 Ярополк Святославич,
 Святослав Владимирович,
 Игорь Святославич,
 Мстислав Тмутараканский,
 Олег Святославич,
 Болеслав Храбрый,
 Харальд Суrowsый.

Карта (одинаковыми стрелками показаны походы одного князя или его войск).



7. [10 баллов]. Средневековые авторы часто использовали в своих сочинениях прямую речь и диалоги. Перед Вами фрагменты их сочинений, содержащие прямую речь, а также **неполные** списки тех, кому были адресованы эти слова, и тех, кто их якобы произнес. Ваша задача – дополнить списки и заполнить таблицу. Обращаем Ваше внимание на то, что авторы прямой речи и ее адресаты не повторяются.

Фрагменты (в переводе):

1. «Хорошо ты меня попотчевал с малою своею дружиною, и многих богатырей сильной орды моей побил, и много полков разбил. Если бы такой вот служил у меня, - держал бы его у самого сердца своего».
2. «Государь царь, если ты мне велишь, я пойду на Русь, разорю христианство, убью их князя, а княгиню и детей приведу к тебе».
3. «Василий, Василий, отец мой и господин! Преклони слух свой и услышь глас мой, посмотри и узри случившееся с сыном твоим, как ни за что убивают меня».
4. «... Не сейчас еще, господин мой, смертный венец носить тебе, но через несколько лет... Пойди на поганых половцев, призывая Бога, и Господь Бог будет тебе помощником и заступником. Победишь, господин, супостатов своих, как и подобает тебе, государь наш. Вот тебе мои воины, а твои избранники».

5. «О пресветлый царь и предобрый пастырь, отдавай душу свою за словесных овец своих, которых Бог поручил тебе пасти. Горячо заботишься ты о Боге своем и хочешь, не медля, пострадать за благочестие. И всемогущий Бог молитвами пречистой своей матери подаст тебе ныне помощь и окончательное одоление супостатов твоих: возвратишься ты на свой престол Российского царства с победою, здоров и радостен, со всем своим христоробивым воинством. И будешь много лет жить на земле с царицею своею».

6. «О, боголюбезный великий княже! Если, мой сын, совета моего послушаешь и поставишь в городе своем Москве соборную каменную церковь во имя Пречистой Богоматери, то и самого тебя благословит и прославит Бог больше других князей и увеличит град сей больше других городов, и святое имя Его сугубо в нем прославится, и не иссякнет властителями твое потомство, вечно владея местом сим... и станут жить в нем святители, да и мои кости будут здесь положены».

7. «Мне, брат Ярослав, Владимирская земля и Ростовская, а тебе Новгород; а Смоленск брату нашему Святославу, а Киев дадим черниговским князьям, а Галич — нам же».

8. «О великий мой государь, царь и великий князь всея Руси..., как же ты умер, жизнь моя дорогая?.. Увы мне, смиренной вдовице, без детей оставшейся! На кого я полнуюсь, кем утешусь, не имея отпрысков твоего царского корня? Мною последней ныне ваш царский корень пресекается!.. Были бы у меня дети, твои царские наследники, не так бы я сокрушалась и печалилась: сын твой сумел бы владеть державой твоего царства...».

9. «Надеемся, государь, в светлой надежде твердо на Бога и на истинную Богородицу, необоримую крепкую стену и покров и христианскую нашу заступницу, и на всех святых, и на твое государево царское высокое имя, что град Псков, всячески укрепленный, может выстоять против короля».

10. «Совершил ты неправду, а меня вверг в грех и в срам: тебе следовало князя выпустить, а ты посадил вместе с ним еще и детей. А мне ты дал честное слово, и они меня послушались, и нынче вся эта ложь на мне. Выпусти его, сними грех с моей души и со своей. Что он может совершить без глаз? А дети его малы. А кроме того, вели ему поцеловать крест, и наша братия, владыки, будут свидетелями».

Прямая речь принадлежит (список неполный):

Митрополит Макарий	Иван Петрович Шуйский
Митрополит Петр	Глеб Владимирович
Митрополит Иона	Юрий Всеволодович
	Шевкал (Щелкан, Чолхан)

Прямая речь адресована (список неполный):

Московский князь Дмитрий Иванович	Евпатий Коловрат
-----------------------------------	------------------

8. [6 баллов]. Перед Вами план одного из очень известных зданий и несколько иллюстраций. Внимательно изучите все предложенные Вам иллюстрации и выполните следующие задания:

- 1) Выпишите номера иллюстраций, непосредственно связанных со зданием, план которого Вам представлен⁶;
- 2) определите, верны ли следующие суждения⁷.

Суждения:

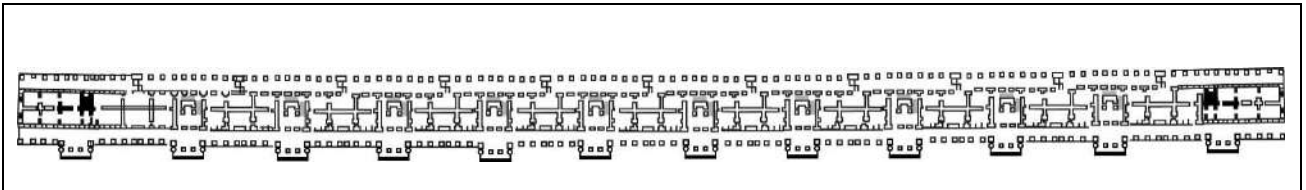
- 1) И план, и все иллюстрации связаны с одним городом.
- 2) Все здания, представленные на плане и иллюстрациях, сохранились до наших дней.
- 3) Здание, представленное на плане, сохранило свои первоначальные функции до наших дней.

⁶ Ответы, в которых выписаны все номера, оцениваться не будут!

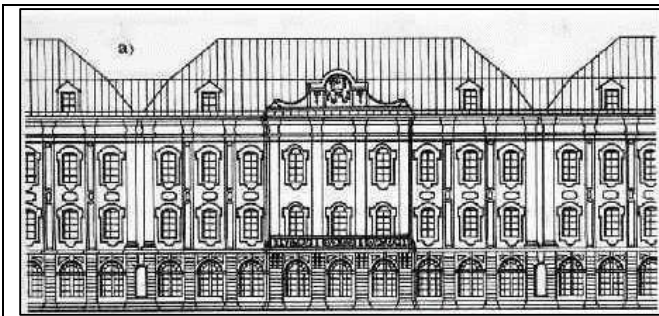
⁷ Работы, в которых все суждения отнесены либо к верным, либо к неверным, оцениваться не будут!

- 4) Все здания, представленные на плане и иллюстрациях, построены в одном архитектурном стиле.
- 5) Деятели, памятники которым представлены на иллюстрациях 3 и 5, являлись сподвижниками одного российского монарха.
- 6) Деятели, памятники которым представлены на иллюстрациях 3 и 5, являлись подданными российского монарха по рождению.
- 7) Иллюстрации 1 и 4 представляют собой фрагмент плана и 3-D- реконструкции одного и того же здания.
- 8) Ангел, помещенный на шпиль здания (см. иллюстрацию №6), напоминает лицом одного российского монарха.
- 9) Все здания, представленные на плане и иллюстрациях, являются образцами светской архитектуры.

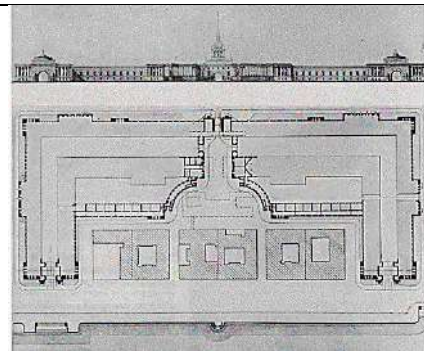
План



Иллюстрации




1.



2.




3.



4.




5.



6.



7.



8.

9. [10 баллов]. Перед Вами – таблица в бланке ответов, в которую по горизонтали занесены названия различных общественных организаций, кружков и объединений, а по вертикали известные люди, которые жили в период деятельности этих организаций. Припомните, кто «совпал по времени» с периодом деятельности той или иной организации⁸, и занесите ответ в таблицу на бланке ответов (поставьте знак «+» в соответствующей графе таблицы). Обращаем Ваше внимание на то, что правильных ответов в каждой строке может быть несколько. Работы, в которых знак «+» проставлен более, чем 21 раз, оцениваться не будут!

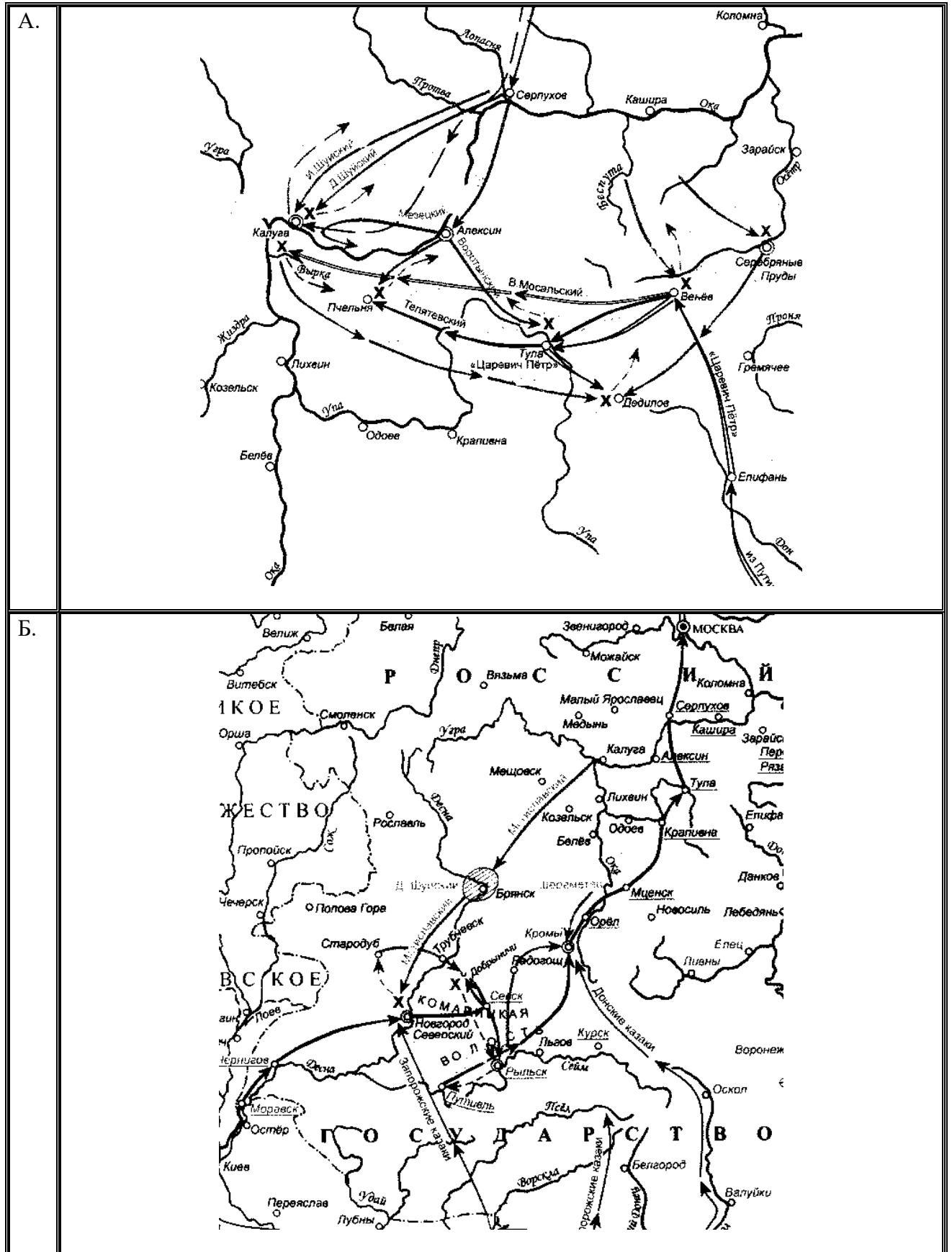
10. [12 баллов]. Перед Вами – серия карт из работы К.А. Аверьянова и С.А. Ромашова «Смутное время: Российское государство в начале XVII в. Исторический атлас» (ряд надписей и условных

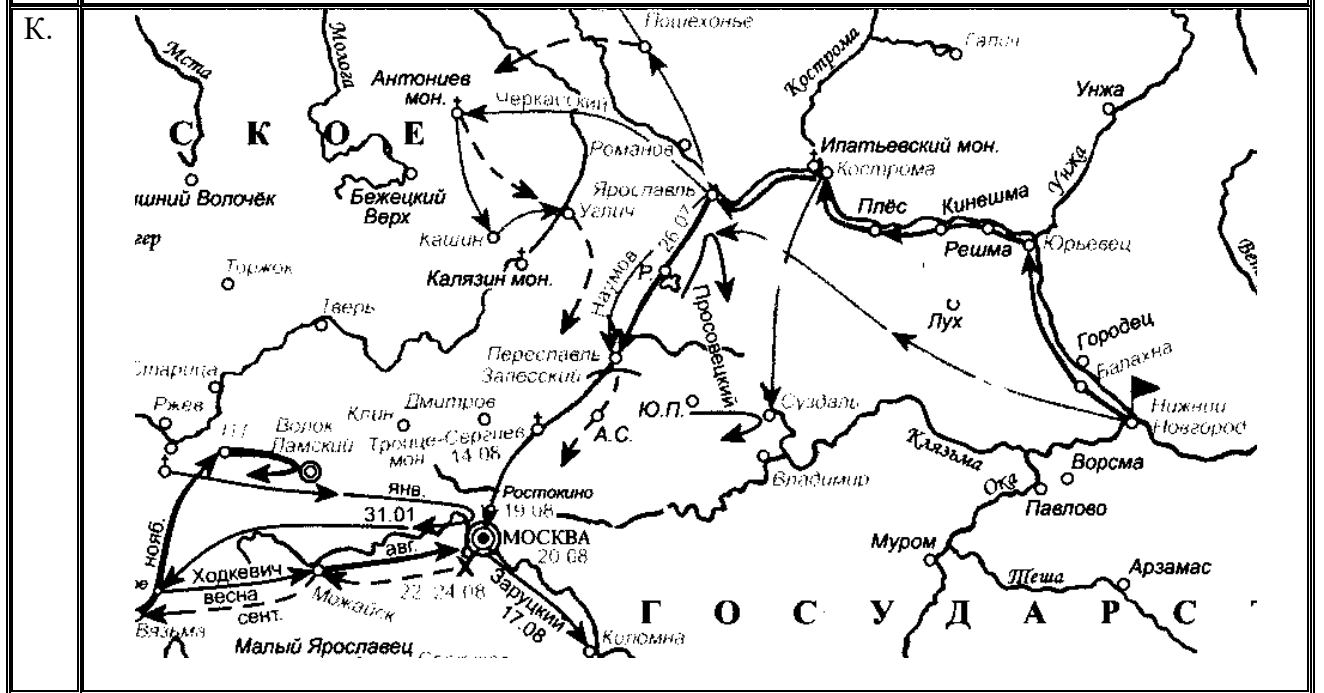
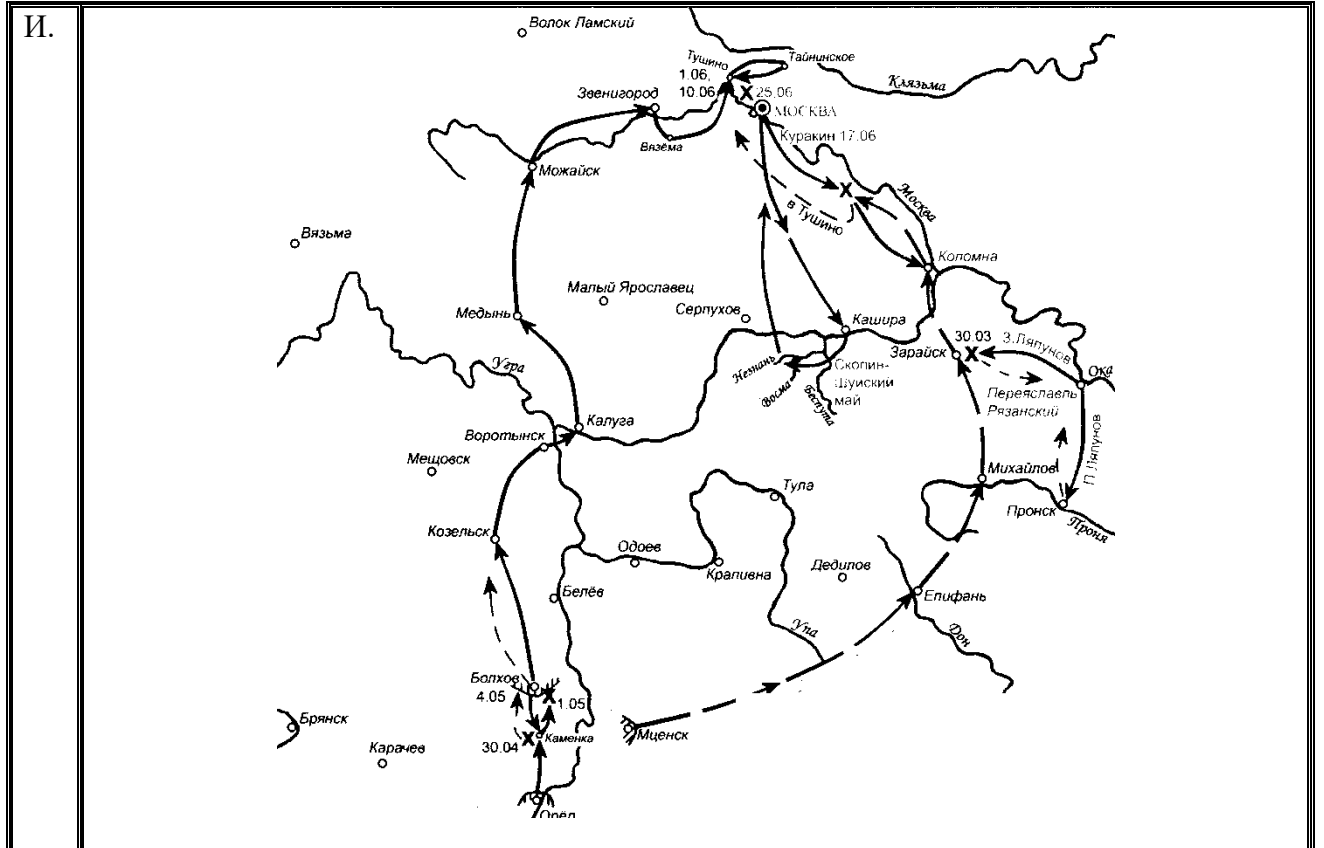
⁸ Имеется в виду возможность застать время деятельности организации во взрослом возрасте (старше 18 лет).

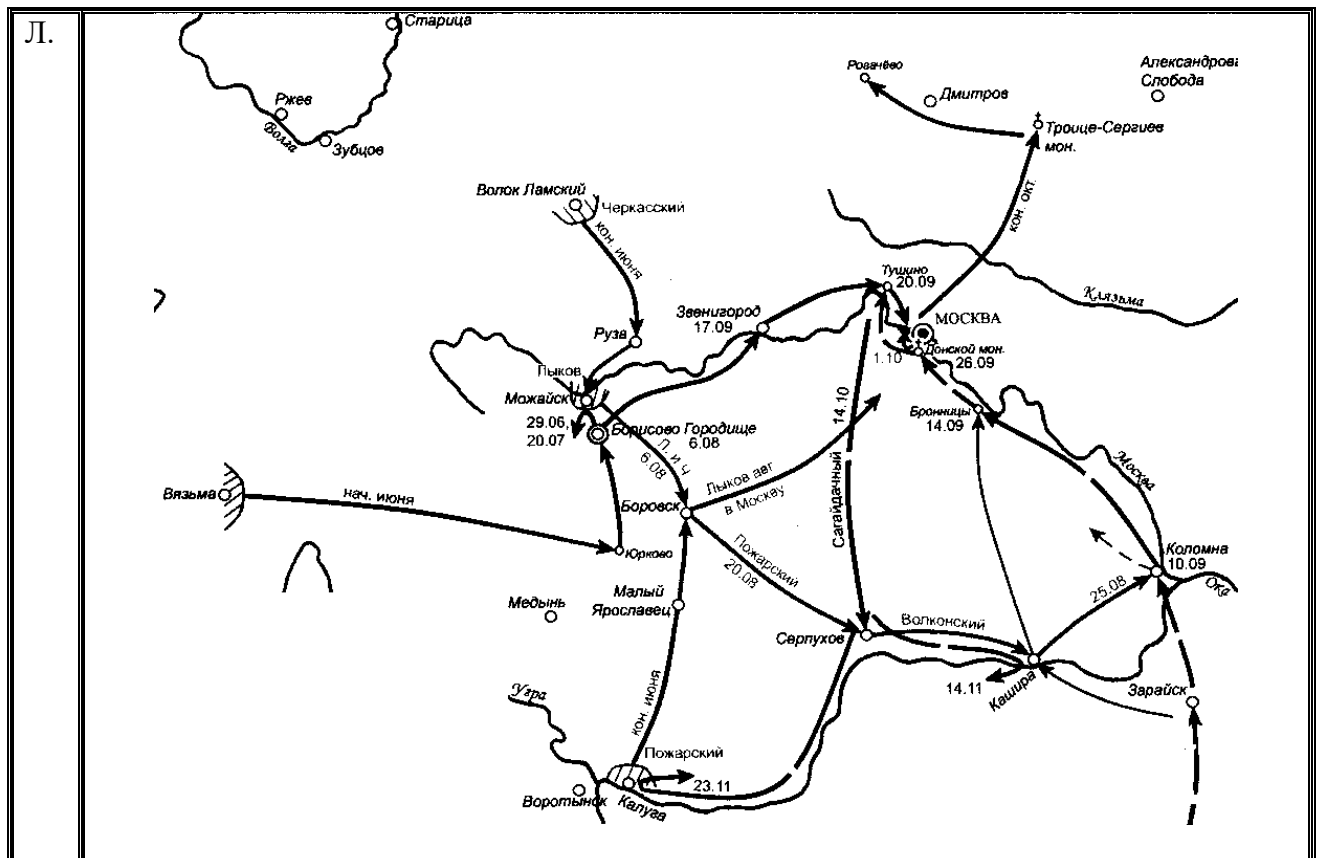
знаков затерты, карты представлены в виде фрагментов), а также список изображенных на этих картах событий и их датировки.

Соотнесите карты с изображенными на них событиями и датами. Ответ оформите в виде таблицы.

Карты:







Список событий (хронологическая последовательность нарушена):

1. Поход М.В.Скопина-Шуйского на Москву. Распад Тушинского лагеря
2. Начало восстания Ивана Болотникова
3. Поход Лжедмитрия II на Тулу
4. Второй поход королевича Владислава на Москву
5. Поход Лжедмитрия I в Россию и захват им Москвы
6. Поход Второго ополчения на Москву
7. Поход Первого ополчения на Москву
8. Второй период восстания Ивана Болотникова
9. Организация армии М.В.Скопина-Шуйского и его поход в центральную часть государства
10. Поход Лжедмитрия II на Москву
11. Поход С. Жолкевского на Москву